

## প্রথম অধ্যায় অর্থনীতির পরিচয় সৃজনশীল অংশ

০১। রুমি ও তার প্রবাসী বন্ধুর টেলিফোনে কথোপকথন-  
রুমি : প্রতিমাসে চালের খরচ বেড়েই চলেছে।  
সুমি : আমার মাসিক খরচ সবসময় একই থাকে।  
রুমি : তোমাদের দেশে এটি কীভাবে সম্ভব?  
সুমি : কেউ ইচ্ছে করলেই এ দেশের দ্রব্যের দাম বাড়াতে পারে না।  
ক. ভূমিবাদীদের মতে উৎপাদনশীল খাত কোনটি?  
খ. দুস্থাপ্যতা বলতে কী বোঝায়?  
গ. সুমির দেশে কোন অর্থব্যবস্থা বিদ্যমান? ব্যাখ্যা কর।  
ঘ. সুমির দেশের অর্থব্যবস্থার সাথে মিশ্র অর্থব্যবস্থার পার্থক্য বিশ্লেষণ কর।

০২। আসাদ দীর্ঘদিন 'অ' দেশে বাস করেন। সম্প্রতি তিনি দেশে বেড়াতে এসে ছোট ভাইকে তার প্রবাসী জীবনের অভিজ্ঞতার কথা শোনান। সেখানকার মানুষের মাথাপিছু আয় অত্যন্ত বেশি। সেখানে তিনি যে প্রতিষ্ঠানে কাজ করেন তার মালিককে কারখানা প্রতিষ্ঠার আগে সরকারের অনুমতি নিতে হয়নি। আবার সে তার পছন্দ অনুযায়ী যেকোনো দ্রব্য ভোগ করতে পারে।  
ক. অ্যাডাম স্মিথের প্রদত্ত অর্থনীতির সংজ্ঞাটি লেখ।  
খ. অর্থনীতিতে প্রণোদনার গুরুত্ব বর্ণনা কর।  
গ. 'অ' দেশে প্রচলিত অর্থব্যবস্থার স্বরূপ ব্যাখ্যা কর।  
ঘ. 'অ' দেশের অর্থব্যবস্থার সাথে বাংলাদেশের অর্থব্যবস্থার পার্থক্য বিশ্লেষণ কর।

০৩। মি. শফিক 'অ' দেশের একটি বেসরকারি কলেজ শিক্ষক। বড় ছেলে সরকারি মেডিকেল কলেজে অধ্যয়ন করছে। ছোট ছেলেকে 'ই' দেশে উচ্চশিক্ষার জন্য পাঠিয়েছেন। সে একটি সরকারি বিশ্ববিদ্যালয়ে অধ্যয়ন করছে। সেই দেশের সকলেই সরকারি শিক্ষা প্রতিষ্ঠানে পড়াশুনা করে। কেননা এখানে বেসরকারি কোনো প্রতিষ্ঠান নেই। সকল সিদ্ধান্ত সরকারিভাবে গৃহীত হয়।  
ক. ধনতান্ত্রিক অর্থব্যবস্থা কী?  
খ. সম্পদের দুস্থাপ্যতা বলতে কী বোঝায়?  
গ. উদ্দীপকে বর্ণিত 'অ' দেশে কোন ধরনের অর্থব্যবস্থা বিদ্যমান? বিশ্লেষণ কর।

ঘ. তুমি কি 'ই' দেশের অর্থব্যবস্থাকে সমর্থন কর? তোমার উত্তরের সপক্ষে যুক্তি দাও।

০৪। লিমন উচ্চ শিক্ষা লাভের উদ্দেশ্যে 'ক' দেশে যায়। সেখানে সে পড়াশোনার পাশাপাশি একটি কারখানায় খসিকালীন চাকরি পায়। তার মালিককে কারখানাটি স্থাপনের জন্য সরকারের অনুমতির প্রয়োজন হয়নি। এখানে সে তার প্রয়োজন অনুযায়ী যে কোনো দ্রব্য ভোগ করতে পারে।  
ক. অধ্যাপক মার্শাল প্রদত্ত অর্থনীতির সংজ্ঞাটি লেখ।  
খ. সুযোগ ব্যয় বলতে কী বোঝায়? ব্যাখ্যা কর।  
গ. 'ক' দেশে কোন অর্থব্যবস্থা প্রচলিত? তোমার পাঠ্যবইয়ের আলোকে ব্যাখ্যা কর।

ঘ. তুমি কি মনে কর, 'ক' দেশের ভোক্তারা পূর্ণ স্বাধীনতা ভোগ করে? তোমার উত্তরের পক্ষে যুক্তি দাও।

০৫। দুলাল মিয়র তিন ছেলেমেয়ে নিয়ে সংসার। তিনি সরকারি চাকুরে। অভাব তার নিত্যসঙ্গী। অল্পস্বল্প বেতন এবং দুই এক টুকরো জমি চাষ করে তিনি সকল অভাব পূরণ করতে পারেন না। ছেলেমেয়েদের স্কুলের বেতন দেয় তো, তাদের পোশাক কেনার সামর্থ্য থাকে না। এভাবেই কষ্ট করে চলে তার সাংসারিক জীবন।  
ক. 'অর্থশাস্ত্র' গ্রন্থটি কার লেখা?  
খ. মিশ্র অর্থব্যবস্থা বলতে কী বোঝায়?

গ. অভাব পূরণের ক্ষেত্রে দুলাল মিয়র কী কী সমস্যা দেখা দেয়? ব্যাখ্যা কর।  
ঘ. 'দুলাল মিয়র মতো অন্য সকলের অভাবের শেষ নেই' বিশ্লেষণ কর।

০৬। অধ্যাপক আনিসুর রহমান এমন একটি বিষয় নিয়ে বক্তব্য পেশ করলেন যেটি একটি গতিশীল বিজ্ঞান। সমাজব্যবস্থা ও সভ্যতার ক্রমবিকাশের সাথে সাথে এর বিষয়বস্তু ও পরিধির প্রসার ঘটেছে। অসীম অভাবকে কীভাবে সীমিত সম্পদ দ্বারা সমন্বয় সাধন করা যায়, এ বিষয়টি খুব গুরুত্বের সাথে আলোচনা করে। এ বিষয়টি সম্পর্কে বিভিন্ন গুরুত্বপূর্ণ ব্যক্তিত্ব মতামত প্রদান করেছেন। তবে এ বিষয়ে এল. রবিন্সের দেয়া সংজ্ঞা বা মতটিকে আনিসুর রহমান সবচেয়ে গ্রহণযোগ্য বলে মনে করেন।  
ক. অর্থনীতির আলোচ্য বিষয় কী?  
খ. 'অসীম অভাব' বলতে কী বোঝায়?  
গ. অধ্যাপক আনিসুর রহমান কোন বিষয় সম্পর্কে বক্তব্য পেশ করেছেন?

ঘ. উক্ত বিষয় সম্পর্কে আনিসুর রহমান এল. রবিন্সের সংজ্ঞাটিকে গ্রহণযোগ্য মনে করার যৌক্তিকতা তুলে ধর।

০৭। অ দেশটির অর্থব্যবস্থায় উৎপাদনের উপকরণের ওপর কোনো ব্যক্তিগত মালিকানা থাকে না। অ দেশের কলকারখানা, খনি, জমি প্রভৃতি সামাজিক সম্পত্তি হিসেবে পরিগণিত হয়। দেশের জনগণ বা রাষ্ট্রই এসব সম্পদের মালিক। এ অর্থনীতিতে ব্যক্তিগত মুনাফার কোনো সুযোগ নেই। দেশের উৎপাদন, বণ্টন, বিনিময় ও ভোগ প্রভৃতি সবকিছুই কেন্দ্রীয় পরিকল্পনা কর্তৃপক্ষ কর্তৃক নিয়ন্ত্রিত।  
ক. মুদ্রা ছাপানোর ক্ষমতা কার হাতে থাকে?  
খ. সমাজতান্ত্রিক অর্থব্যবস্থার একটি বৈশিষ্ট্যের ব্যাখ্যা দাও।  
গ. অ দেশটির অর্থব্যবস্থা কীভাবে সমাজের সার্বিক কল্যাণ সাধন করে? ব্যাখ্যা কর।

ঘ. "শোষণহীন সমাজব্যবস্থা গড়ে তুলতে অ দেশটির অর্থব্যবস্থার বিকল্প নেই"— মন্তব্যটির যথার্থতা নিরূপণ কর।  
০৮। রেজার দেশটি বর্তমানে একটি উন্নত দেশ। দেশটির অর্থনৈতিক কাজকর্মের ওপর সরকার কোনোক্রমে হস্তক্ষেপ করে না। দেশের উৎপাদনকারীরা স্বাধীন এবং বেসরকারি উদ্যোগের ক্ষেত্রেও কোনো সরকারি নিয়ন্ত্রণ নেই। কিন্তু ইতোপূর্বে দেশটির অর্থনৈতিক অবস্থা একরকম ছিল না। তখন জমিজমা, কলকারখানা এবং অন্যান্য সম্পদের ওপর রাষ্ট্রীয় মালিকানা ছিল এবং উৎপাদন, বণ্টন, ব্যবসায় বাণিজ্য সবই সরকারি উদ্যোগে পরিচালিত হতো।  
ক. বিশ্বে কত ধরনের অর্থনৈতিক ব্যবস্থা প্রচলিত আছে?  
খ. মিশ্র অর্থব্যবস্থা বলতে কী বোঝায়?  
গ. বর্তমানে রেজার দেশে প্রচলিত অর্থব্যবস্থার স্বরূপ বর্ণনা কর।  
ঘ. 'জনগণের মৌলিক অধিকার পূরণে দেশটির পূর্বের অর্থব্যবস্থা অধিকতর শ্রেয় ছিল' মতটির পক্ষে তোমার যুক্তি উপস্থাপন কর।

০৯। বাংলাদেশের একটি মোবাইল অপারেটর বাজারে একটি বিশেষ প্যাকেজ ছাড়ে। এ প্যাকেজের আওতায় রাত ১২টার পর থেকে সকাল পর্যন্ত প্রথম মিনিটের পর বিনা টাকায় কথা বলা যেত। এ প্যাকেজ উঠতি বয়সের ছেলেমেয়েদের বিশেষ করে ছাত্রছাত্রীদের বেশি আকৃষ্ট করে। ফলে তারা রাত জেগে পড়াশোনার পরিবর্তে মোবাইল ফোনে বেশি সময় দিতে থাকে। এ ক্ষতিকর দিক বিবেচনা করে সরকার মোবাইল অপারেটরকে এ প্যাকেজ বন্ধ করার নির্দেশ দেয়।  
ক. অর্থনীতির ইংরেজি প্রতিশব্দ কী?  
খ. ইসলামি অর্থব্যবস্থার একটি প্রধান বৈশিষ্ট্য বর্ণনা কর।  
গ. কোন অর্থব্যবস্থা চালু থাকার কারণে বাংলাদেশের সরকার মোবাইলের বিশেষ প্যাকেজ বন্ধ করতে পেরেছেন? বর্ণনা কর।  
ঘ. বিভিন্ন বেসরকারি প্রতিষ্ঠানে বাংলাদেশ সরকারের এ ধরনের হস্তক্ষেপের গ্রহণযোগ্যতা বিশ্লেষণ কর।

১০। মনিকা এসএসসি পরীক্ষায় 'অ' গ্রেড পেয়েছে। রেজাল্ট পাওয়ার পর চিন্তা করল যদি একটু ভালো করে পড়তাম তবে আরও দুটি বিষয়ে আমার 'অ+' আসত এবং আমি 'অ+' পেতাম।  
ক. অর্থনীতির অধিক গ্রহণযোগ্য সংজ্ঞা প্রদান করেছেন কে?  
খ. সুযোগ ব্যয় বলতে কী বোঝায়?  
গ. মনিকার রেজাল্টের যে প্রত্যাশা তা অর্থনীতির কোন নীতির মধ্যে পড়ে? ব্যাখ্যা কর।



- গ দাসভিত্তিক ঘ এক রাষ্ট্রভিত্তিক
১৩. ঊরশড়হড়সরধ কোন দেশি শব্দ? [পুলিশ লাইনস স্কুল এন্ড কলেজ, বগুড়া]  
ক আমেরিকা ● গ্রিক গ জার্মানি ঘ রাশিয়া
১৪. অর্থনীতিকে গৃহপরিচালনার বিজ্ঞান হিসেবে অভিহিত করেন কে?  
[প্রেসিডেন্ট প্রফেসর ইয়াজ উদ্দিন আহমেদ রেসিডেনসিয়াল মডেল স্কুল এন্ড  
কলেজ, মুন্সীগঞ্জ]  
● এরিস্টটল খ স্যামুয়েলসন  
গ মার্শাল ঘ এল. রবিনস
১৫. কখন ইংল্যান্ড, ইতালি ও ফ্রান্সে আন্তর্জাতিক বাণিজ্যের প্রসার ঘটে?  
[বিএএফ শাহীন কলেজ, চট্টগ্রাম]  
ক ১৫০০-১৬০০ খ ১৫৫০-১৭৫০  
গ ১৬৯০-১৭৬০ ● ১৫৯০-১৭৮০
১৬. অষ্টাদশ শতাব্দীর শেষভাগে ইংল্যান্ড, ফ্রান্স ও ইতালিতে আন্তর্জাতিক বাণিজ্যের  
যে প্রসার ঘটে তাকে কী বলা হয়?[সেন্ট জোসেফ উচ্চ বিদ্যালয়, খুলনা]  
● বাণিজ্যবাদ খ ভূমিবাদ গ সামন্তবাদ ঘ পুঁজিবাদ
১৭. কোন দেশের উৎপাদিত পণ্য পৃথিবীর বিভিন্ন দেশে রপ্তানি করে মূল্যবান  
ধাতু আমদানি করত? [জামালপুর সরকারি বালিকা উচ্চ বিদ্যালয়]  
● ইংল্যান্ডের খ ফ্রান্সের  
গ ইতালির ঘ প্রাচীন ভারতের
১৮. ফরাসিরা কোন সময়ে ভূমিবাদ মতবাদ প্রচার করে?  
[বীণাপাণি সরকারি বালিকা উচ্চ বিদ্যালয়, গোপালগঞ্জ]  
ক ষোড়শ শতাব্দীর মধ্যভাগে খ সপ্তদশ শতাব্দীর মধ্যভাগে  
● অষ্টাদশ শতাব্দীর মধ্যভাগে ঘ ঊনবিংশ শতাব্দীর মধ্যভাগে
১৯. ফরাসিরা কোন দেশের বাণিজ্যবাদের বিপক্ষে অবস্থান নিয়ে ভূমিবাদ  
মতবাদ প্রচার করেছিল? [নোয়াখালি সরকারি পাইলট উচ্চ বিদ্যালয়]  
ক ইতালির খ ফ্রান্সের গ গ্রিসের ● ইংল্যান্ডের
২০. ইংল্যান্ডে বাণিজ্যবাদের বিপক্ষে অবস্থান নিয়ে ভূমিবাদ মতবাদ কোন  
দেশে প্রচার করা হয়? [মনিরামপুর সরকারি পাইলট উচ্চ বিদ্যালয়, যশোর]  
● ফ্রান্সে খ ইংল্যান্ডে গ আমেরিকায় ঘ জার্মানিতে
২১. ভূমিবাদীদের মতে উৎপাদনশীল খাত বলতে কোন খাতকে বোঝায়?  
[আমেনা বাকী রেসিডেন্সিয়াল মডেল হাইস্কুল, দিনাজপুর]  
● কৃষি খ শিল্প গ বাণিজ্য ঘ রপ্তানি
২২. কোন খাতকে ভূমিবাদীরা অনুৎপাদনশীল খাত বলে মন করত?  
[পুলিশ লাইন হাই স্কুল এন্ড কলেজ, বগুড়া]  
● শিল্প ও বাণিজ্য খ কৃষি  
গ মৎস্য ক্ষেত্র ঘ খনিজ
২৩. ডবধষঃঘ ডভ ঘধঃরডহং গ্রন্থটি কত সালে প্রকাশিত হয়?  
[বি, এ এফ শাহীন কলেজ চট্টগ্রাম]  
ক ১৭০০ খ ১৭৭৫ ● ১৭৭৬ ঘ ১৮০০
২৪. অহ ওহয়ঁরু রহঃডু গ্যব ঘধঃৎব ধহফ ঈধঁংবং ডভ গ্যব ডবধষঃঘ ডভ  
ঘধঃরডহং- গ্রন্থটি কার রচনা?  
[কামরুননেসা সরকারি বালিকা উচ্চ বিদ্যালয়, ঢাকা]  
● অ্যাডাম স্মিথ খ মার্শাল গ স্যামুয়েলসন ঘ এল. রবিন্স
২৫. সামরিক এবং সফল রাষ্ট্র পরিচালক হিসেবে কারা পরিচিত ছিল?  
[সরকারি হরচন্দ্র বালিকা উচ্চ বিদ্যালয়, ঝালকাঠি]  
● রোমানরা খ গ্রিকরা  
গ মিশরীয়রা ঘ ইউরোপীয়রা
২৬. একজন ব্যক্তির একই সাথে রঙিন টিভি, মোবাইল, শার্ট এবং ঘড়ির  
প্রয়োজন। এমতাবস্থায় সে কোনটি আগে কিনবে?  
[ফয়জুর রহমান আইডিয়াল ইনস্টিটিউট, ঢাকা]  
ক টেলিভিশন ● শার্ট গ ঘড়ি ঘ মোবাইল
২৭. সুমি তার মামার বাসায় গিয়েছিল। তার মামা একটি বই পড়ছিল।  
বইটিতে অর্থসংক্রান্ত বিষয় নিয়ে আলোচনা করা হয়েছে। বইটি কোন  
বিষয়ের ছিল? [সেন্ট ফ্রান্সিস হাই স্কুল, ঢাকা]  
ক পারিবারিক হিসাব ● অর্থনীতি  
গ শেয়ার বাজার ঘ সমাজবিজ্ঞান
২৮. 'অর্থনীতি এমন একটি বিজ্ঞান যা অসীম অভাব এবং বিকল্প  
ব্যবহারযোগ্য দুষ্প্রাপ্য সম্পদের মধ্যে সমন্বয় সাধন সংক্রান্ত মানবীয়  
আচরণ বিশ্লেষণ করে'— উক্তিটি কার? [জ্ঞান]  
[মধুপুর শহীদ স্মৃতি উচ্চ মাধ্যমিক বিদ্যালয়, টাঙ্গাইল; সাতক্ষীরা সরকারি বালিকা উচ্চ  
বিদ্যালয়]  
ক অধ্যাপক মার্শাল খ কেয়ার্নক্রস  
গ অ্যাডাম স্মিথ ● এল. রবিন্স
২৯. কোন ধারার অর্থনীতিবিদরা অর্থনীতিকে সম্পদের বিজ্ঞান বলে মনে  
করেন? [দি বাডস রেসিডেন্সিয়াল মডেল স্কুল এন্ড কলেজ, শ্রীমঙ্গল]  
● ক্লাসিক্যাল খ নয়া ক্লাসিক্যাল  
গ আধুনিক ঘ প্রাচীন
৩০. 'অর্থনীতি এমন একটি বিজ্ঞান যা জাতিসমূহের সম্পদের ধরন ও কারণ  
সম্পর্কে অনুসন্ধান করে'— উক্তিটি কার? [ভোলা সরকারি বালিকা উচ্চ বিদ্যালয়]  
ক অধ্যাপক মার্শাল খ কেয়ার্নক্রস  
● অ্যাডাম স্মিথ ঘ এল. রবিন্স
৩১. 'অর্থনীতি মানুষের দৈনন্দিন জীবনের সাধারণ কার্যাবলি আলোচনা  
করে'— উক্তিটি কার? [দি বাডস রেসিডেন্সিয়াল মডেল স্কুল এন্ড কলেজ, শ্রীমঙ্গল]  
ক এল. রবিন্স খ স্যামুয়েলসন ● মার্শাল ঘ জনলক
৩২. অর্থনীতির সর্বাধিক গ্রহণযোগ্য সংজ্ঞাটি কে দিয়েছেন?  
[সরকারি হরচন্দ্র বালিকা উচ্চ বিদ্যালয়, ঝালকাঠি]  
ক রিকার্ডো খ অ্যাডাম স্মিথ  
● অধ্যাপক এল. রবিন্স ঘ অধ্যাপক মার্শাল
৩৩. অর্থনীতির মৌলিক নীতিমালা কয়টি? [পুলিশ লাইন হাই স্কুল এন্ড কলেজ, বগুড়া]  
ক ২ খ ৪ গ ৫ ● ১০

৩৪. অর্থনীতির মৌলিক নীতিমালা দেওয়া-নেওয়ার ইংরেজি প্রতিশব্দ কী?  
[বিএএফ শাহীন কলেজ, চট্টগ্রাম]

- এংৎধফব-ডুভভং      খ ইবঙ্গবৎ-ডুভভং  
গ উচুচুৎৎৎহরৎ ডুভভং      ঘ জবৎচুচুৎৎহফ-ডুভভং

৩৫. অর্থনীতির ভাষায় মানুষ সাধারণত কোন পর্যায়ের চিন্তা করে?  
[দি বাডস রেসিডেনসিয়াল মডেল স্কুল এন্ড কলেজ, শ্রীমঙ্গল]

- ক প্রারম্ভিক পর্যায়ের      খ মধ্যম পর্যায়ের  
● প্রান্তিক পর্যায়ের      ঘ বৃহৎ পর্যায়ের

৩৬. বিশ্ববিখ্যাত টয়োটা কোম্পানি কোন দেশের? [বিএএফ শাহীন কলেজ, চট্টগ্রাম]  
ক চীন      ● জাপান      গ জার্মানি      ঘ ইংল্যান্ড

৩৭. মুদ্রাস্ফীতি ঘটলে কী হয়? [বিএএফ শাহীন কলেজ, চট্টগ্রাম]  
সরকারি হরচন্দ্র বালিকা উচ্চ বিদ্যালয়, বালকাঠি]

- অর্থের মান কমে      খ দ্রব্যমূল্য কমে  
গ অর্থমূল্য বাড়ে      ঘ অর্থমূল্য অপরিবর্তিত থাকে

৩৮. দ্রব্যমূল্য দ্রুত বেড়ে যাওয়ার নাম কী? [বিএএফ শাহীন কলেজ, চট্টগ্রাম]  
● মুদ্রাস্ফীতি      খ মূল্যস্ফীতি

- গ সংকটাপন্ন অবস্থা      ঘ পণ্য সংকট

৩৯. একটি সরল অর্থনীতিতে কয় ধরনের প্রতিনিধি থাকে?  
[সরকারি হরচন্দ্র বালিকা উচ্চ বিদ্যালয়, বালকাঠি]

- দুই      খ তিন      গ চার      ঘ পাঁচ

৪০. অর্থনীতিতে ফার্মের যা ব্যয় পরিবারের তা কী?  
সরকারি হরচন্দ্র বালিকা উচ্চ বিদ্যালয়, বালকাঠি]

- আয়      খ সঞ্চয়      গ মূলধন      ঘ বিনিয়োগ

৪১. জাতীয় আয় ও জাতীয় ব্যয়ের মধ্যে কী বিদ্যমান থাকে?  
● চক্রাকার প্রবাহ      খ আয়তকার প্রবাহ

- গ বর্গাকার প্রবাহ      ঘ নিট আয়

৪২. পুঁজিবাদী অর্থব্যবস্থার বৈশিষ্ট্য কোনটি? [শিশুকুঞ্জ স্কুল এন্ড কলেজ, বিনাইদহ]  
ক সীমিত প্রতিযোগিতা      ● স্বয়ংক্রিয় মূল্য নির্ধারণ পদ্ধতি

- গ সম্পদের রাষ্ট্রীয় মালিকানা      ঘ স্বল্পসংখ্যক

৪৩. কোন বিপ্লবের মধ্য দিয়ে পুঁজিবাদী অর্থব্যবস্থার সূত্রপাত ঘটে?  
[বি কে জি সি সরকারি বালিকা উচ্চ বিদ্যালয়, হবিগঞ্জ]

- ফরাসি বিপ্লবের      খ মে দিবসের  
গ শ্রমিক বিপ্লবের      ঘ শিল্প বিপ্লবের

৪৪. ধনতান্ত্রিক অর্থব্যবস্থার প্রথম প্রচলন হয় কোথায়?  
[দি বাডস রেসিডেনসিয়াল মডেল স্কুল এন্ড কলেজ, শ্রীমঙ্গল]

- ক আমেরিকায়      খ চীনে  
● ইউরোপে      ঘ অস্ট্রেলিয়ায়

৪৫. ধনতান্ত্রিক অর্থব্যবস্থায় উৎপাদন, বিনিময় ও ভোগসহ সম্পদের সব অর্থনৈতিক কর্মকাণ্ড পরিচালিত হয় কীভাবে?  
[কদমতলা পূর্ব বাসাবো স্কুল এন্ড কলেজ, ঢাকা]

- ক রাষ্ট্রীয় উদ্যোগে      খ রাষ্ট্রীয় ও ব্যক্তির উদ্যোগে  
● ব্যক্তিগত উদ্যোগে      ঘ সাধারণ মানুষের উদ্যোগে

৪৬. কীভাবে সমাজতান্ত্রিক অর্থব্যবস্থায় অর্থনৈতিক কার্যাবলি পরিচালিত হয়?  
[হিকবালনগর মাধ্যমিক বালিকা বিদ্যালয়, খুলনা]  
ক স্বয়ংক্রিয় দাম ব্যবস্থার দ্বারা      খ সরকারি-বেসরকারি উদ্যোগ দ্বারা

- রাষ্ট্রীয় মালিকানা দ্বারা      ঘ ভোগকারীর স্বাধীন ইচ্ছা দ্বারা

৪৭. কোন অর্থনৈতিক ব্যবস্থায় জমি, কারখানা, খনি ও অন্যান্য সম্পদের ওপর রাষ্ট্রীয় মালিকানা বজায় থাকে? [সিআইসি পাবলিক স্কুল এন্ড কলেজ]  
ক ধনতান্ত্রিক      ● সমাজতান্ত্রিক

- গ মিশ্র      ঘ ইসলামি

৪৮. সমাজতন্ত্রে ভোক্তার স্বাধীনতা কেমন? [মিরপুর বাংলা স্কুল এন্ড কলেজ, ঢাকা]  
ক অসীম      খ বেশি      গ মুক্ত      ● সীমাবদ্ধ

৪৯. উইলিয়ামসের দেশে সকল অর্থনৈতিক কর্মকাণ্ডের মূল উদ্দেশ্য জনগণের সর্বাধিক কল্যাণ সাধন। এটি কোন অর্থব্যবস্থা নির্দেশ করে?  
[জগদীশ সরস্বতী গার্লস স্কুল এন্ড কলেজ]

- ক ধনতান্ত্রিক      ● সমাজতান্ত্রিক

- গ মিশ্র      ঘ ইসলামি

৫০. কোন অর্থনৈতিক ব্যবস্থায় ব্যক্তিগত মালিকানা অনুপস্থিত?  
[চট্টগ্রাম বিশ্ববিদ্যালয় কলেজ]

- ক ধনতান্ত্রিক      খ মিশ্র অর্থনীতি  
● সমাজতান্ত্রিক      ঘ ইসলামি অর্থনীতি

৫১. মিশ্র অর্থনীতিতে দাম ব্যবস্থা কোন ব্যবস্থার অনুরূপ?  
[কলারোয়া পাইলট হাইস্কুল, সাতক্ষীরা]

- ক সমাজতন্ত্রের অনুরূপ      ● ধনতন্ত্রের অনুরূপ

- গ মিশ্র ব্যবস্থার অনুরূপ      ঘ ইসলামি ব্যবস্থার অনুরূপ

৫২. কোন ধরনের অর্থব্যবস্থায় সরকারি ও বেসরকারি উদ্যোগে দ্রব্য উৎপাদন ও দাম নিয়ন্ত্রণ হয়?  
[পিএন সরকারি বালিকা উচ্চ বিদ্যালয়, রাজশাহী]  
ক সমাজতান্ত্রিক      খ ধনতান্ত্রিক

- গ ইসলামি      ● মিশ্র

৫৩. কোনটি মিশ্র অর্থব্যবস্থার বৈশিষ্ট্য নয়? [বিএএফ শাহীন কলেজ, চট্টগ্রাম]  
● কেন্দ্রীয় পরিকল্পনা      খ সরকারি উদ্যোগ

- গ দাম ব্যবস্থা      ঘ ভোক্তার স্বাধীনতা

৫৪. কোন ব্যবস্থায় আল্লাহর বিধান অনুযায়ী যাবতীয় অর্থনৈতিক কর্মকাণ্ড সম্পাদিত হয়?  
[গভ. মডেল গার্লস হাইস্কুল, ব্রাহ্মণবাড়িয়া]  
ক ধনতান্ত্রিক      খ সমাজতান্ত্রিক      গ মিশ্র      ● ইসলামি

৫৫. কোন অর্থব্যবস্থায় ব্যাংক ব্যবস্থায় সুদমুক্ত আমানতের কথা বলা হয়েছে?  
[সেন্ট জোসেফ হাই স্কুল, খুলনা]

বহুপদী সমাঙ্গিসূচক বহুনির্বাচনি প্রশ্নোত্তর

৫৬. হিব্রু সভ্যতার ধর্মগ্রন্থে বা দর্শনশাস্ত্রে আলোচিত হতো—  
[নারায়ণগঞ্জ সরকারি বালিকা উচ্চ বিদ্যালয়]

র. অর্থনীতি রর. আয়

ররর. নৈতিকতা

নিচের কোনটি সঠিক?

ক র ও রর খ র ও ররর গ রর ও ররর ● র, রর ও ররর

৫৭. অষ্টাদশ শতাব্দীর শেষভাগে আন্তর্জাতিক বাণিজ্যের প্রসার ঘটে—  
[কুষ্টিয়া সরকারি বালিকা উচ্চ বিদ্যালয়]

র. ইংল্যান্ডে রর. ইতালিতে

ররর. ফ্রান্সে

নিচের কোনটি সঠিক?

ক র ও রর খ র ও ররর গ রর ও ররর ● র, রর ও ররর

৫৮. গ্রিক সভ্যতায় অর্থনীতির যেসব বিষয়ের ওপর গুরুত্ব দেওয়া হতো—  
[নারায়ণগঞ্জ সরকারি বালিকা উচ্চ বিদ্যালয়]

র. ব্যবসায়

রর. অর্থের ব্যবহার

ররর. শ্রম বিভাজন

নিচের কোনটি সঠিক?

ক র ও রর খ র ও ররর গ রর ও ররর ● র, রর ও ররর

৫৯. যেসব লক্ষ্য অর্জনের জন্য ইংল্যান্ডের ব্যবসায়ীরা বেশি রপ্তানি করত এবং খুব সামান্যই আমদানি করত—[খিনাইদহ সরকারি বালিকা উচ্চ বিদ্যালয়]  
র. দেশের ধনসম্পদ বৃদ্ধি রর. রাষ্ট্রের ক্ষমতা বৃদ্ধি

ররর. বাণিজ্য উদ্বৃত্তকরণ

নিচের কোনটি সঠিক?

ক র ও রর খ র ও ররর গ রর ও ররর ● র, রর ও ররর

৬০. অর্থনীতির প্রধান সমস্যা হলো— [পিরোজপুর জিলা স্কুল]  
র. অসীম অভাব রর. সসীম অভাব

ররর. সম্পদের দুস্তাপ্যতা

নিচের কোনটি সঠিক?

৬১. অর্থনীতিকে সম্পদের বিজ্ঞান বলে মনে করেন—  
[বি কে জি সি সরকারি বালিকা উচ্চ বিদ্যালয়, হবিগঞ্জ]

র. অ্যাডাম স্মিথ রর. জন স্টুয়ার্ট মিল

ররর. এল. রবিন্স

নিচের কোনটি সঠিক?

● র ও রর খ র ও ররর গ রর ও ররর ঘ র, রর ও ররর

৬২. এল. রবিন্সের সংজ্ঞাটির সমালোচনার দিক হলো—  
[গাইবান্ধা সরকারি বালিকা উচ্চ বিদ্যালয়]

র. অর্থনীতির সামাজিক অবস্থা

রর. অর্থনৈতিক উন্নয়ন

ররর. সম্পদ স্বল্পতার সমস্যা

নিচের কোনটি সঠিক?

● র ও রর খ র ও ররর গ রর ও ররর ঘ র, রর ও ররর

৬৩. ধনতাত্ত্বিক অর্থনৈতিক কর্মকাণ্ড পরিচালিত হয় একটি অদৃশ্য শক্তি দ্বারা এই অদৃশ্য শক্তি হলো— [নাটোর সরকারি উচ্চ বালিকা বিদ্যালয়]  
র. দাম ব্যবস্থা রর. চাহিদা

ররর. অভাব

নিচের কোনটি সঠিক?

● র খ রর গ র ও রর ঘ র, রর ও ররর

৬৪. রফিক একজন ভোক্তা। ভোগের ক্ষেত্রে সে কোন দ্রব্য কতটুকু ভোগ করবে তা স্থির হবে তার— [আজিমপুর গার্লস স্কুল এন্ড কলেজ, ঢাকা]  
র. নিজস্ব ইচ্ছা অনুযায়ী রর. পছন্দ ও রুচি অনুযায়ী

ররর. সামর্থ্য অনুযায়ী

নিচের কোনটি সঠিক?

ক র ও রর খ র ও ররর গ রর ও ররর ● র, রর ও ররর

৬৫. সমাজতাত্ত্বিক অর্থব্যবস্থায় সরকারের অধীনে থাকে—  
[আল হেরা একাডেমি স্কুল এন্ড কলেজ, পাবনা]

র. কৃষি

রর. শিল্প

ররর. বাণিজ্য

নিচের কোনটি সঠিক?

ক র ও রর খ র ও ররর গ রর ও ররর ● র, রর ও ররর

৬৬. ইসলামি অর্থনীতির শরিয়তের ভিত্তি হলো— হিফু গবেষণা উচ্চ বিদ্যালয়, ঈশ্বরদী  
র. পবিত্র কুরআনের নির্দেশ

রর. রাসুল (স) এর হাদিস

ররর. খলিফার নির্দেশ

নিচের কোনটি সঠিক?

- র ও রর    খ র ও ররর    গ রর ও ররর    ঘ র, রর ও ররর

অভিন্ন তথ্যভিত্তিক বহুনির্বাচনি প্রশ্নোত্তর

নিচের অনুচ্ছেদটি পড়ে ৬৭ ও ৬৮ নং প্রশ্নের উত্তর দাও :

সাকিব 'ক' দেশে বসবাস করে। সেখানে উৎপাদন, ভোগ, বন্টন কেন্দ্রীয় পরিকল্পনা কর্তৃপক্ষ কর্তৃক পরিচালিত হয়। [স. বো. '১৬]

৬৭. 'ক' দেশের অর্থনীতিতে কোন ধরনের অর্থব্যবস্থা বিদ্যমান?

ক ধনতান্ত্রিক    ● সমাজতান্ত্রিক

গ মিশ্র    ঘ ইসলামি

৬৮. সাকিবের দেশের অর্থব্যবস্থায়—

ক বেসরকারি উদ্যোক্তা থাকে না

● স্বয়ংক্রিয় দাম ব্যবস্থা বিদ্যমান

গ সম্পদের রাষ্ট্রীয় মালিকানা থাকে না

ঘ ভোক্তার অবাধ স্বাধীনতা থাকে

নিচের অনুচ্ছেদটি পড়ে ৬৯ ও ৭০ নং প্রশ্নের উত্তর দাও :

রাজিব সম্প্রতি সরকারের প্রশাসনিক বিভাগের একটি গুরুত্বপূর্ণ পদে নিয়োগ পেয়েছেন। কিন্তু আন্তরিক ইচ্ছা থাকা সত্ত্বেও তিনি জাতীয় আয়, দাম ব্যবস্থা, বিনিয়োগ ইত্যাদি বিষয়গুলোতে যথেষ্ট দক্ষতা দেখাতে পারছেন না। তার সহকর্মী রফিক তাকে সম্পদের বিজ্ঞানের ওপর জ্ঞান অর্জনের পরামর্শ দেন।

[লায়স স্কুল এন্ড কলেজ]

৬৯. রফিক সাহেব সম্পদের বিজ্ঞান বলতে কোন বিষয়কে বুঝিয়েছেন?

ক সমাজবিজ্ঞান    ● অর্থনীতি    গ রাষ্ট্রবিজ্ঞান    ঘ সমাজকল্যাণ

৭০. রফিক সাহেবের পরামর্শ কীভাবে রাজিব সাহেবকে দক্ষতা অর্জনে সাহায্য করবে—

র. অর্থনীতির জ্ঞান অর্জন করে

রর. অর্থনীতির মৌলিক বিষয়গুলো জেনে

ররর. অর্থনীতির সমালোচনা করে

নিচের কোনটি সঠিক?

- র ও রর    খ র ও ররর    গ রর ও ররর    ঘ র, রর ও ররর

নিচের অনুচ্ছেদ পড়ে ৭১ ও ৭২ নং প্রশ্নের উত্তর দাও :

চ চীন দেশের নাগরিক। তিনি একটি সরকারি প্রতিষ্ঠানে চাকরি করেন। তার কাছে ব্যবসায় পরিচালনা করার মতো অর্থ থাকলেও করতে পারছেন না। কেননা সেখানে সবকিছু সরকারের নিয়ন্ত্রণাধীন।

[মধুপুর শহীদ স্মৃতি উচ্চ মাধ্যমিক বিদ্যালয়, টাঙ্গাইল]

পক্ষনা] চ-এর দেশে কোন অর্থব্যবস্থা বিদ্যমান?

● সমাজতান্ত্রিক    খ ধনতান্ত্রিক    গ ইসলামি    ঘ মিশ্র

৭২. কোন অর্থব্যবস্থায় কিছু কিছু গুরুত্বপূর্ণ খাত রাষ্ট্রীয় মালিকানা পরিচালিত হয়?

[আর্মড পুলিশ ব্যাটালিয়ান স্কুল, বগুড়া]

ক সমাজতান্ত্রিক    খ ইসলামি    গ ধনতান্ত্রিক    ● মিশ্র

নিচের অনুচ্ছেদটি পড়ে ৭৩ ও ৭৪ নং প্রশ্নের উত্তর দাও :

মাসুম সাহেবের দুইটি সন্তান। প্রথম সন্তানকে একটি সরকারি স্কুলে ভর্তি করাতে পেরেছেন। কিন্তু অন্য সন্তানটি সরকারি স্কুলে ভর্তি সুযোগ না পাওয়াতে তাকে বেসরকারি একটি স্কুলে ভর্তি করাতে বাধ্য হন। কিন্তু বেসরকারি স্কুলের বেতন অনেক বেশি। [পঞ্চগড় বিপি সরকারি উচ্চ বিদ্যালয়]

৭৩. অনুচ্ছেদটি কোন অর্থব্যবস্থার কর্মকাণ্ডের দিকে ইঙ্গিত দেওয়া হয়েছে?

ক ধনতান্ত্রিক    খ সমাজতন্ত্র

● মিশ্র    ঘ সরকারি উদ্যোগ

৭৪. উক্ত অর্থব্যবস্থার বৈশিষ্ট্য হচ্ছে—

i. ভোক্তার স্বাধীনতা

ii. ব্যক্তিগত উদ্যোগ

iii. সরকারি উদ্যোগ

নিচের কোনটি সঠিক?

ক i ও ii    খ i ও iii    গ ii ও iii    ● i, ii ও iii

নিচের অনুচ্ছেদটি পড়ে ৭৫ ও ৭৬ নং প্রশ্নের উত্তর দাও :

মোহাম্মদ আলী স্যার বলেছেন, এমন একটি অর্থব্যবস্থা আছে যেখানে দুটি গুরুত্বপূর্ণ অর্থব্যবস্থার মধ্যে সামঞ্জস্য বিধান করা হয়। এ অর্থব্যবস্থায় বেসরকারি উদ্যোগকে উৎসাহিত করা হয়। আবার সরকারি নিয়ন্ত্রণও বিদ্যমান।

[স্বল্পপকাঠি কলেজিয়েট একাডেমি]

৭৫. মোহাম্মদ আলী স্যার যে অর্থব্যবস্থার দিকে ইঙ্গিত করেছেন সেটি কোন অর্থব্যবস্থা?

ক ধনতান্ত্রিক    ● মিশ্র    গ ইসলামি    ঘ সমাজতন্ত্র

৭৬. মোহাম্মদ আলী স্যার যে অর্থব্যবস্থার কথা বলেছেন তার মধ্যে দেখা যায়—

র. উৎপাদনের উপকরণসমূহ ব্যক্তিগত ও সরকারি মালিকানা থাকে

রর. উৎপাদন, বন্টন ও ভোগের ক্ষেত্রে পূর্ণ স্বাধীনতা থাকে

ররর. উৎপাদনকারীর লক্ষ্য হলো মুনাফা অর্জন

নিচের কোনটি সঠিক?

ক i ও ii    খ i ও iii    গ ii ও iii    ● i, ii ও iii

নিচের অনুচ্ছেদটি পড়ে ৭৭ ও ৭৮ নং প্রশ্নের উত্তর দাও :

উৎপাদনের একটি অন্যতম উপাদান হলো মূলধন। সাধারণত মূলধন প্রদানকারীকে সুদ প্রদান করা হয়। কিন্তু একটি বিশেষ অর্থব্যবস্থায় তা কর্তোভাবে নিষিদ্ধ করা হয়েছে। [মাতৃপীঠ সরকারি বালিকা উচ্চ বিদ্যালয়]

৭৭. উল্লিখিত অংশে কোন অর্থব্যবস্থার কথা বলা হয়েছে?

ক সমাজতন্ত্র    খ মিশ্র    ● ইসলামি    ঘ ধনতন্ত্র

৭৮. এ ধরনের অর্থব্যবস্থার বৈশিষ্ট্য হলো-  
র. শোষণমুক্ত উৎপাদন প্রক্রিয়া
- রর. মজুরি প্রদানের ন্যায় ও সাম্যনীতি
- ররর. অবদানের ভিত্তিতে পাওনা পরিশোধ
- নিচের কোনটি সঠিক?
- ক র ও রর    খ র ও ররর    গ রর ও ররর    ● র, রর ও ররর

■ বিষয়ক্রম অনুযায়ী বহুনির্বাচনি প্রশ্নোত্তর

৭৯. মানুষ বেঁচে থাকার জন্য কী করে? (জ্ঞান)  
● সংগ্রাম    খ কাজ    গ সম্পর্ক    ঘ অর্থ উপার্জন
৮০. সমাজ ও দেশের সমৃদ্ধিতে কীসের ভূমিকা রয়েছে? (অনুধাবন)  
ক সমাজ বিজ্ঞানের    খ রাষ্ট্রবিজ্ঞানের
- অর্থনীতির    ঘ বিজ্ঞানের

➔ পাঠ-১.১ : অর্থনীতির উৎপত্তি ও বিকাশ

- ভূমির উপর প্রথম ব্যক্তিমালিকানা প্রতিষ্ঠিত হয়— গ্রিসে।
- ব্যক্তিমালিকানার ধারণাটি প্রথম গ্রহণ করেন— এরিস্টটল।
- গ্রিক সভ্যতার দুই চিন্তাবিদ হলেন— প্লেটো ও এরিস্টটল।
- কৃষিকে সম্মানজনক পেশা মনে করা হতো — রোমান সমাজে।
- ভূমিবাদ মতবাদ প্রচার করেন— ফরাসিরা।
- 'বাণিজ্যবাদ' এর প্রসার ঘটে— ১৫৯০-১৭৮০ সালে।
- আজকের অর্থনীতির মূল ভিত্তি হলো— স্মিথের বই।

সাধারণ বহুনির্বাচনি প্রশ্নোত্তর

৮১. আদিম অর্থনীতিতে দ্রব্যসামগ্রী বিনিময় রীতি কেমন ছিল? (অনুধাবন)  
● খুব সীমিত    খ প্রচুর    গ অসংখ্য    ঘ দৈনন্দিন
৮২. আদিম সমাজে উৎপাদনের মূল উপকরণ কী ছিল? (জ্ঞান)  
ক পশুশ্রম    ● কায়িক পরিশ্রম    গ শস্যবীজ    ঘ হাতিয়ার
৮৩. হিব্রু সভ্যতার সময়কাল কোনটি? (জ্ঞান)  
ক ২২০০ খ্রিষ্টপূর্ব    খ ২৩০০ খ্রিষ্টপূর্ব
- ২৫০০ খ্রিষ্টপূর্ব    ঘ ২৭০০ খ্রিষ্টপূর্ব
৮৪. কোন সভ্যতার যুগে ধর্মগ্রন্থ ও দর্শনের বইয়ে অর্থনীতির কিছু আলোচনা পাওয়া যায়? (জ্ঞান)  
ক সিদ্ধু    ● হিব্রু    গ মিসরীয়    ঘ গ্রিক
৮৫. কখন অর্থনীতি বিষয়ে আলাদা কোনো অস্তিত্ব ছিল না? (জ্ঞান)  
ক খ্রিষ্টপূর্ব ২১০০খ খ্রিষ্টপূর্ব ২০০০
- গ খ্রিষ্টপূর্ব ২২০০ ● খ্রিষ্টপূর্ব ২৫০০

৮৬. কোনটি বর্তমান ইউরোপীয় সভ্যতার মূল ভিত্তি? (জ্ঞান)  
ক ভারতীয় সভ্যতা    খ ব্যাবিলনীয় সভ্যতা
- গ্রিক সভ্যতা    ঘ হিব্রু সভ্যতা
৮৭. কোন ধর্মকে বর্তমান ইউরোপীয় সভ্যতার মূলভিত্তি হিসেবে ধরা হয়? (অনুধাবন)  
ক ইসলাম    খ হিন্দু    ● খ্রিষ্ট    ঘ বৌদ্ধ
৮৮. ব্যক্তিমালিকানার ধারণাটি প্রথম গ্রহণ করেন কে? (জ্ঞান)  
ক অ্যাডাম স্মিথ    খ এল. রবিন্স    গ মার্শাল    ● এরিস্টটল
৮৯. কোনটি গ্রিক সভ্যতার স্বীকৃত বিষয় ছিল? (জ্ঞান)  
ক শ্রমবিভাজন    ● দাসপ্রথা
- গ জমিদার প্রথা    ঘ সুদপ্রথা
৯০. অর্থনীতির ইংরেজি প্রতিশব্দ কোনটি? (জ্ঞান)  
ক Economy    খ Economic
- গ Ecology    ● Economics
৯১. Economic শব্দটি কোন শব্দ থেকে এসেছে? (জ্ঞান)  
ক Economic    খ Oikonimic
- Oikonomia    ঘ Econo
৯২. Oikonomia শব্দের অর্থ কী? (জ্ঞান)  
● গৃহস্থালির ব্যবস্থাপনা    খ অর্থনৈতিক কর্মকাণ্ড
- গ অর্থনীতি    ঘ অর্থনৈতিক সহযোগিতা
৯৩. অর্থনীতির কোন মৌলিক বিষয় নিয়ে দুই গ্রিক চিন্তাবিদ আলোচনা করেছেন? (জ্ঞান)  
ক উপযোগ    ● শ্রমিকের মজুরি
- গ সম্পদের দুপ্তাপ্যতা    ঘ অভাব
৯৪. কারা গ্রিকদের দেওয়া অর্থনৈতিক চিন্তাধারাকে নিজের করে নেয়? (জ্ঞান)  
ক ডাচরা    খ পর্তুগিজরা    ● রোমানরা    ঘ ইংরেজরা
৯৫. কৃষিকে মহৎ পেশা হিসেবে গ্রহণ করা হতো কোন সমাজে? (জ্ঞান)  
● রোমান    খ হিব্রু    গ মিসরীয়    ঘ গ্রিক
৯৬. কারা অর্থলিপ্তি করা বা সুদকে খুনের সমান অপরাধ বলে মনে করতেন? (জ্ঞান)  
ক গ্রিক দার্শনিকরা    খ ফরাসি দার্শনিকরা
- গ ল্যাটিন দার্শনিকরা    ● রোমান দার্শনিকরা
৯৭. 'অর্থশাস্ত্র' গ্রন্থটি কার রচনা? (জ্ঞান)  
ক এরিস্টটল    ● কৌটিল্য
- গ প্লেটো    ঘ ইবনে খালদুন
৯৮. কারা রাষ্ট্রের ক্ষমতা বৃদ্ধির জন্য বেশি রপ্তানি করত? (অনুধাবন)  
ক রোমান ব্যবসায়ীরা    খ গ্রিক ব্যবসায়ীরা
- গ ফরাসি ব্যবসায়ীরা    ● ব্রিটিশ ব্যবসায়ীরা
৯৯. ইংল্যান্ডে উৎপাদিত পণ্য পৃথিবীর বিভিন্ন দেশে রপ্তানি করে তারা কী সংগ্রহ করত? (অনুধাবন)  
ক কৃষি উপকরণ    খ মূল্যবান শিল্পসামগ্রী

- গ শ্রমিক ● মূল্যবান ধাতু
১০০. ইংল্যান্ডে বাণিজ্যবাদের বিপক্ষে অবস্থান নিয়ে ভূমিবাদ মতবাদ কোন দেশে প্রচার করা হয়? (অনুধাবন)  
● ফ্রান্সে খ গ্রিসে গ আমেরিকায় ঘ ইতালিতে
১০১. কে সর্বপ্রথম অর্থনীতিকে একটি স্বতন্ত্র বিষয় হিসেবে রূপদান করেন? (জ্ঞান) ক মার্শাল ● অ্যাডাম স্মিথ  
গ এল. রবিন্স ঘ স্যামুয়েলসন
১০২. কোন অর্থনীতিবিদের বই আজকের অর্থনীতির মূল ভিত্তি? (জ্ঞান) ক প্লেটো খ এরিস্টটল  
● অ্যাডাম স্মিথ ঘ ম্যালথাস
১০৩. অ্যাডাম স্মিথ কোন দেশের অর্থনীতিবিদ? (জ্ঞান) ক আমেরিকার ● ইংল্যান্ডের গ ফরাসির ঘ ইতালির

বহুপদী সমাঙ্গিসূচক বহুনির্বাচনি প্রশ্নোত্তর

১০৪. আদিম সমাজে মানুষের মৌলিক চাহিদা ছিল— (অনুধাবন) র. চিকিৎসা  
রর. খাবার-দাবার  
ররর. বাসস্থান  
নিচের কোনটি সঠিক?  
ক র ও রর খ র ও ররর ● রর ও ররর ঘ র, রর ও ররর
১০৫. বর্তমান ইউরোপীয় সভ্যতার মূল ভিত্তি হলো— (অনুধাবন) র. খ্রিষ্টধর্ম  
রর. গ্রিক চিন্তাবিদদের চিন্তা-ভাবনা  
ররর. রোমান আইন  
নিচের কোনটি সঠিক?  
ক র ও রর খ র ও ররর গ রর ও ররর ● র, রর ও ররর
১০৬. রোমান সমাজে কৃষিকে মনে করা হতো— (অনুধাবন) র. সম্মানজনক পেশা  
রর. সর্বোৎকৃষ্ট পেশা  
ররর. মহৎ পেশা  
নিচের কোনটি সঠিক?  
ক র ও রর ● র ও ররর গ রর ও ররর ঘ র, রর ও ররর
১০৭. ফরাসিরা ভূমিবাদ মতবাদ প্রচার করেন যেসবের বিপক্ষে তা হলো— (অনুধাবন) র. অতিরিক্ত করারোপ  
রর. ধনী মানুষের বিলাসী জীবনযাপন  
ররর. ইংল্যান্ডের বাণিজ্যবাদ

নিচের কোনটি সঠিক?

- ক র ও রর খ র ও ররর গ রর ও ররর ● র, রর ও ররর

১০৮. প্রাচীন ভারতে চতুর্থ খ্রিষ্টপূর্বে কৌটিল্যের 'অর্থশাস্ত্রে' যেসব বিষয়ের ওপর আলোকপাত করা হয় তা হলো— (অনুধাবন) র. রাজনীতি

রর. অর্থনীতি

ররর. সামরিক

নিচের কোনটি সঠিক?

- ক র ও রর খ র ও ররর গ রর ও ররর ● র, রর ও ররর

১০৯. ভূমিবাদীদের মতে অনুৎপাদনশীল খাত ছিল— (অনুধাবন) র. শিল্পখাত রর. বাণিজ্যখাত

ররর. কৃষিখাত

নিচের কোনটি সঠিক?

- র ও রর খ র ও ররর গ রর ও ররর ঘ র, রর ও ররর

১১০. খ্রিষ্টপূর্ব ২৫০০ অব্দে অর্থনীতির সাথে আলোচিত হতো— (অনুধাবন) র. ধর্ম ও নৈতিকতা রর. আয়

ররর. দর্শন

নিচের কোনটি সঠিক?

- ক র ও রর খ র ও ররর গ রর ও ররর ● র, রর ও ররর

১১১. রাজনীতি, সমাজ, অর্থনীতি ও সামরিক বিষয়ের ওপর আলোচনা ছিল— (অনুধাবন) র. কৌটিল্যের 'অর্থশাস্ত্রে'

রর. প্রাচীন ভারতে

ররর. হিব্রু সভ্যতার ধর্মগ্রন্থে

নিচের কোনটি সঠিক?

- র ও রর খ র ও ররর গ রর ও ররর ক র, রর ও ররর

১১২. প্লেটো ও এরিস্টটল অর্থনীতির যেসব মৌলিক বিষয় নিয়ে আলোচনা করেছেন— (অনুধাবন) র. শ্রমিকের মজুরি

রর. দাসপ্রথা ও সুদপ্রথা

ররর. ভূমি ও কৃষিকাজ

নিচের কোনটি সঠিক?

- র ও রর খ র ও ররর গ রর ও ররর ক র, রর ও ররর

অভিন্ন তথ্যভিত্তিক বহুনির্বাচনি প্রশ্নোত্তর



নিচের অনুচ্ছেদটি পড়ে ১১৩ ও ১১৪ নং প্রশ্নের উত্তর দাও :

রমলা সেন একটি সমাজ সম্পর্কে ধারণা দিতে গিয়ে বলেন, এ সমাজের মানুষ গ্রিকদের দেয়া অর্থনৈতিক চিন্তাধারাকে ধারণ করে। এ সমাজে কৃষিকে অত্যন্ত মহৎ এবং সম্মানজনক পেশা মনে করা হতো। রমলার ধারণাকে সমর্থন করে দীপা বলল, এ সমাজের দার্শনিকরা টাকা সুদে খাটানোকে খুনের সমান অপরাধ বলে মনে করে।

১১৩. রমলা সেন এবং দীপা কোন সমাজ সম্পর্কে ইঙ্গিত প্রদান করেছে? (প্রয়োগ)  
ক হিব্রু ● রোমান গ সিন্ধু ঘ গ্রিক

১১৪. উক্ত সমাজের মানুষ যে হিসেবে অধিক পরিচিত— (অনুধাবন)  
র. সামরিক দক্ষতাসম্পন্ন

রর. সফল রাষ্ট্রপরিচালক

ররর. বাণিজ্যিক দক্ষতাসম্পন্ন

নিচের কোনটি সঠিক?

● র ও রর খ র ও ররর গ রর ও ররর ঘ র, রর ও ররর

☞ পাঠ-১.২ : দুটি মৌলিক অর্থনৈতিক সমস্যা : দুঃপ্রাপ্যতা ও অসীম অভাব

- মানুষের না পাওয়ার নাম— অভাব।
- মৌলিক অর্থনৈতিক সমস্যা— দুঃপ্রাপ্যতা ও অসীম অভাব।
- অর্থনীতিতে প্রয়োজনের তুলনায় সম্পদ কম থাকাকে— সম্পদের দুঃপ্রাপ্যতা বলে।
- সীমিত সম্পদ দ্বারা অভাব পূরণ করা সম্ভব— অগ্রাধিকার ভিত্তিতে।
- মানুষের কিছু অভাব পূরণ করে— অভাবের গুরুত্ব বিবেচনা করে।
- সম্পদ অসীম হলে— দুঃপ্রাপ্যতার সৃষ্টি হতো না।
- চাহিদা অনেক হলেও দুঃপ্রাপ্য নয়— সূর্যের আলো, বাতাস ইত্যাদি।

সাধারণ বহুনির্বাচনি প্রশ্নোত্তর

১১৫. মানুষের জীবনে কোনটির শেষ নেই? (জ্ঞান)  
ক তৃপ্তির খ অর্থের ● অভাবের ঘ সম্পত্তির

১১৬. অর্থনীতিতে প্রয়োজনের তুলনায় সম্পদ কম থাকাকে কী বলে? (জ্ঞান)  
ক সম্পদের প্রাচুর্যতা খ অবাধলভ্য

গ অসীম অভাব ● সম্পদের দুঃপ্রাপ্যতা

১১৭. অসীম অভাব অথচ সীমিত সম্পদ এ পরিস্থিতিতে কীভাবে অর্থনৈতিক সিদ্ধান্ত গৃহীত হয়? (উচ্চতর দক্ষতা)

● অসীম অভাবের মধ্যে কোনটি বেশি প্রয়োজন তা বাছাই করা

খ সমাজে মর্যাদা বাড়বে এমন প্রয়োজনটি পূরণ করে

গ বাজারে যে পণ্যটি সস্তা তা ক্রয় করে

ঘ যে অভাব পূরণে দেশীয় পণ্য ব্যবহার সম্ভব তা বাছাই করে

১১৮. মানুষ কোন মৌলিক অর্থনৈতিক সমস্যার সম্মুখীন হয়? (জ্ঞান)

● অভাব নির্বাচনের সমস্যা খ অর্থনৈতিক পরিকল্পনার সমস্যা

গ সুষ্ঠু জ্ঞানের অভাব ঘ সম্পদের সুষ্ঠু ব্যবহারের সমস্যা

১১৯. অর্থনীতিতে যেকোনো দ্রব্য বা সেবা সামগ্রী উৎপাদন করতে কী দরকার হয়? (জ্ঞান)

● সম্পদ খ বুদ্ধি

গ নদীর পানি ঘ সূর্যের আলো

১২০. কী দ্বারা মানুষ অসীম অভাব পূরণের জন্য প্রচেষ্টা চালায়? (জ্ঞান)

● সীমিত সম্পদ খ কৌশল গ শিক্ষা ঘ অলংকার

১২১. কী কারণে অর্থনৈতিক সমস্যার সৃষ্টি হয়? (অনুধাবন)

ক সসীম অভাব খ অসীম অভাব

● সম্পদের স্বল্পতা ঘ অধিক উৎপাদন

১২২. মানুষের অভাব কেমন? (অনুধাবন)

● অসীম খ সসীম গ সম্পূরক ঘ তুলনাহীন

১২৩. 'সম্পদ সীমিত বলেই সমাজে সম্পদের সবচেয়ে ভালোভাবে ব্যবহারের প্রশ্নটি গুরুত্ব পায়'— উক্তিটি কার? (জ্ঞান)

ক এরিস্টটলের খ অ্যাডাম স্মিথের

● স্যামুয়েলসনের ঘ মার্শালের

১২৪. মানুষ অর্থ উপার্জন করে কেন? (উচ্চতর দক্ষতা)

ক সুখে থাকার জন্য ● অভাব পূরণের জন্য

গ ধনী হওয়ার জন্য ঘ দান-খয়রাত করার জন্য

১২৫. সীমিত সম্পদ দ্বারা কীভাবে অভাব পূরণ করা সম্ভব? (অনুধাবন)

ক ঋণ গ্রহণের মাধ্যমে খ রাষ্ট্রের অর্থব্যবস্থার ভিত্তিতে

গ বৈধ উপার্জনের ভিত্তিতে ● অগ্রাধিকার ভিত্তিতে

১২৬. মানুষ কীভাবে তার প্রয়োজনীয় অভাব পূরণ করে? (অনুধাবন)

● অভাব নির্বাচনের মাধ্যমে খ ঋণ গ্রহণের মাধ্যমে

গ অর্থ উপার্জনের মাধ্যমে ঘ অর্থনীতির পাঠের মাধ্যমে

বহুপদী সমাপ্তিসূচক বহুনির্বাচনি প্রশ্নোত্তর

১২৭. অপ্রতুল সম্পদ দ্বারা অসীম অভাব পূরণ করতে গিয়ে মানুষ যেসব মৌলিক অর্থনৈতিক সমস্যার সম্মুখীন হয় তা হলো— (অনুধাবন)

র. উৎপাদন কৌশলের সমস্যা

রর. অভাব নির্বাচনের সমস্যা

ররর. সম্পদের স্বল্পতার সমস্যা

নিচের কোনটি সঠিক?

ক i ও ii খ i ও iii ● ii ও iii ঘ i, ii ও iii

১২৮. অর্থনীতিবিদ স্যামুয়েলসনের সংজ্ঞায় ফুটে উঠেছে— (অনুধাবন)

র. সম্পদের সঠিক ব্যবহার

রর. অসীম অভাব

ররর. সম্পদের সঠিক বন্টন

নিচের কোনটি সঠিক?

- i ও ii    খ i ও iii    গ ii ও iii    ঘ i, ii ও iii

১২৯. দুঃপ্রাপ্যতার কারণ হলো—  
র. অসীম অভাব

(অনুধাবন)

রর. সীমিত সম্পদ

ররর. পণ্যের অপ্রতুলতা

নিচের কোনটি সঠিক?

- ক র ও রর    খ র ও ররর    গ রর ও ররর    ● র, রর ও ররর

১৩০. মিলন সাহেব প্রতিনিয়ত অর্থনৈতিক সমস্যায় ভুগছেন। তিনি যে ধরনের সমস্যায় ভুগছেন—  
র. সম্পদের স্বল্পতা

(প্রয়োগ)

রর. জমির স্বল্পতা

ররর. উৎপাদনের স্বল্পতা

নিচের কোনটি সঠিক?

- র    খ রর    গ ররর    ঘ র, রর ও ররর

### অভিন্ন তথ্যভিত্তিক বহুনির্বাচনি প্রশ্নোত্তর

নিচের অনুচ্ছেদটি পড়ে ১৩১ ও ১৩২ নং প্রশ্নের উত্তর দাও :

জনাব রায়হান ৫০০০ টাকা বেতন পেয়ে প্রথমে ঘরের ফার্নিচার কেনার ইচ্ছা পোষণ করলেন। পরে অনেক ভেবে সেই টাকা দিয়ে পরিবারের সবার জন্য খাদ্য সামগ্রী কিনলেন।

১৩১. জনাব রায়হান অর্থ ব্যয়ের ক্ষেত্রে অর্থনীতির কোন ধারণাটির প্রয়োগ করেছেন?  
(প্রয়োগ)

ক আয়    খ সঞ্চয়

- অভাব নির্বাচন    ঘ বিনিয়োগ

১৩২. জনাব রায়হানের পরিস্থিতি কোনটি সৃষ্টির জন্য দায়ী?  
(প্রয়োগ)

● সম্পদের দুঃপ্রাপ্যতা    খ মিশ্র অর্থব্যবস্থা

গ সুযোগ ব্যয়    ঘ দ্রব্যের উচ্চমূল্য

☛ পাঠ-১.৩ : অর্থনীতির ধারণা ■ জন স্টুয়ার্ট মিল অর্থনীতিবে

- অর্থনীতির জনক হলেন— এডাম স্মিথ।
- মানুষ তার প্রয়োজনীয় অভাব পূরণ করে— নির্বাচনের মাধ্যমে।
- অর্থনৈতিক কার্যাবলির মূল উদ্দেশ্য হলো— সম্পদ আহরণ।

- অর্থনীতির মূল আলোচ্য বিষয় হলো— অর্থ উপার্জন এবং অর্থ ব্যয়।
- অর্থনীতির মূল সমস্যা হলো— স্বল্পতার সমস্যা।
- অর্থনীতির গ্রহণযোগ্য সংজ্ঞা প্রদান করেছেন— অধ্যাপক এল. রবিন্স।
- অধ্যাপক এল. রবিন্স প্রদত্ত অর্থনীতির সংজ্ঞার বৈশিষ্ট্য— ৫টি।

### সাধারণ বহুনির্বাচনি প্রশ্নোত্তর

১৩৩. কখন থেকে অর্থনীতির বিষয়বস্তু ও পরিধির প্রসার ঘটেছে? (অনুধাবন)

- জ্ঞান-বিজ্ঞানের উন্নতির সাথে সাথে

খ আধুনিকতার সাথে সাথে

গ জনসংখ্যা বেড়ে যাওয়ার সাথে সাথে

ঘ অভাব বেড়ে যাওয়ার সাথে সাথে

১৩৪. অর্থনীতির জনক অ্যাডাম স্মিথের মতে, 'অর্থনীতি এমন একটি বিজ্ঞান যা জাতিসমূহের সম্পদের – সম্পর্কে অনুসন্ধান করে।' (অনুধাবন)  
ক প্রকৃতি ও পরিমাণ    ● ধরন ও কারণ

গ চাহিদা ও যোগান    ঘ উপযোগ ও উৎপাদন

১৩৫. অর্থনীতিকে 'সম্পদের বিজ্ঞান' বলেছেন কোন অর্থনীতিবিদ? (জ্ঞান)

- অ্যাডাম স্মিথ    খ মার্শাল    গ এল. রবিন্স  
ঘ এরিস্টটল

১৩৬. অ্যাডাম স্মিথ, ডেভিড রিকার্ডো, জন স্টুয়ার্ট মিল প্রমুখ কোন ধারার অর্থনীতিবিদ?  
(জ্ঞান)

- ক্লাসিক্যাল    খ নিউ ক্লাসিক্যাল

গ আধুনিক    ঘ প্রাচীন

১৩৭. মানুষের অর্থনৈতিক কার্যাবলির মূল উদ্দেশ্য কী?  
(জ্ঞান)

- সম্পদ আহরণ    খ সম্পদ ব্যবহার

গ টাকা-পয়সা উপার্জন    ঘ ব্যবসায়-বাণিজ্য

১৩৮. অ্যাডাম স্মিথের সংজ্ঞায় কয়টি দুর্বলতা দেখা যায়?  
(জ্ঞান)

- ক ২    খ ৩    ● ৪    ঘ ৫

১৩৯. অ্যাডাম স্মিথের সংজ্ঞায় কোন বিষয় সম্পর্কে কোনো কিছুই বলা হয়নি?  
(জ্ঞান)

- ক সম্পদ আহরণ    খ অসীম অভাব

● সেবা খাত    ঘ দ্রব্যসামগ্রী

১৪০. অর্থনৈতিক কার্যাবলির মূল লক্ষ্য কোনটি?  
(অনুধাবন)

- সম্পদ আহরণ

খ দ্রব্যসামগ্রী ভোগের মাধ্যমে অভাব পূরণ

গ সুখে স্বাচ্ছন্দ্যে জীবনযাপন

ঘ কৃষিতে বিপ্লব ঘটানো

১৪১. অধ্যাপক মার্শালের মতে, অর্থনৈতিক কার্যক্রমের মূল লক্ষ্য কী? (অনুধাবন)

- ক অভাব পূরণ    খ সুখ-স্বাচ্ছন্দ্য

গ টাকা উপার্জন    ● মানবকল্যাণ

১৪২. দৈনন্দিন জীবনে মানুষকে কোন ধরনের অভাবের সম্মুখীন হতে হয়?  
(জ্ঞান)

- বহুমুখী    খ একমুখী

- গ প্রতিযোগিতামূলক ঘ সসীম
১৪৩. বর্তমানে অর্থনীতির মূল সমস্যা কী?  
ক চাহিদা নিরূপণ খ যোগান দেওয়া  
● স্বল্পতার সমস্যা ঘ সম্পদ আহরণ
১৪৪. অর্থনীতির অধিকতর গ্রহণযোগ্য সংজ্ঞা দিয়েছেন কে?  
ক ডেভিড রিকার্ডো খ অ্যাডাম স্মিথ  
● অধ্যাপক এল. রবিন্স ঘ অধ্যাপক মার্শাল
১৪৫. অধ্যাপক এল. রবিন্সের সংজ্ঞায় কয়টি সমালোচনার দিক রয়েছে? (জ্ঞান)  
ক ৩ খ ৪ গ ৫ ● ৬

বহুপদী সমাঙ্গিসূচক বহুনির্বাচনি প্রশ্নোত্তর

১৪৬. 'অর্থনীতি এমন একটি বিজ্ঞান, যা জাতিসমূহের সম্পদের ধরন ও কারণ অনুসন্ধান করে'— উক্তিটি বিশ্লেষণ করলে যে দুর্বলতা পরিলক্ষিত হয়—(উচ্চতর দক্ষতা)  
র. এতে সম্পদের ওপর অধিক জোর দেয়া হয়েছে  
রর. এতে মানুষের কাজ কর্মকে অবহেলা করা হয়েছে  
ররর. এতে সম্পদ জোগাড় করার উপায় অনুসৃত হয়েছে  
নিচের কোনটি সঠিক?  
ক র ও রর খ র ও ররর গ রর ও ররর ● র, রর ও ররর

১৪৭. অধ্যাপক মার্শালের মতে, অর্থনীতির মূল আলোচ্য বিষয় হলো—(অনুধাবন)  
র. অর্থ উপার্জন  
রর. অর্থের শ্রেণিবিভাগ  
ররর. অভাব মোচনের জন্য উপার্জিত অর্থ ব্যয়  
নিচের কোনটি সঠিক?  
ক র ও রর ● র ও ররর গ রর ও ররর ঘ র, রর ও ররর

১৪৮. অ্যাডাম স্মিথের অর্থনীতির সংজ্ঞায় দুর্বলতা হলো— (উচ্চতর দক্ষতা)  
র. সম্পদ আহরণের উপায় সম্পর্কে বলা হয়নি  
রর. সম্পদ বলতে শুধু দ্রব্য ও সেবাকে বোঝানো হয়েছে  
ররর. সীমিত সম্পদের সাহায্যে অসীম অভাব পূরণের ব্যাপারে উল্লেখ নেই  
নিচের কোনটি সঠিক?  
ক র ও রর ● র ও ররর গ রর ও ররর ঘ র, রর ও ররর

১৪৯. প্রারম্ভিক পর্যায়ে অর্থনীতির উপস্থাপক হিসেবে ব্যাখ্যা দিয়েছেন— (অনুধাবন)  
র. অ্যাডাম স্মিথ  
রর. স্যামুয়েলসন  
ররর. রিকার্ডো  
নিচের কোনটি সঠিক?  
ক র ও রর ● র ও ররর গ রর ও ররর ঘ র, রর ও ররর

অভিন্ন তথ্যভিত্তিক বহুনির্বাচনি প্রশ্নোত্তর

নিচের অনুচ্ছেদটি পড়ে ১৫০ ও ১৫১ নং প্রশ্নের উত্তর দাও :

১৫০. 'অর্থনীতি হলো এমন একটি বিজ্ঞান যা মানুষের অসীম অভাব এবং বিকল্প ব্যবহারযোগ্য দুষ্প্রাপ্য উপকরণসমূহের মধ্যে সমন্বয় সাধনকারী কার্যাবলি আলোচনা করে।  
— অধ্যাপক এল. রবিন্স

১৫০. অনুচ্ছেদে উল্লিখিত সংজ্ঞাটি বিশ্লেষণে নিচের কোন বৈশিষ্ট্যটি পরিলক্ষিত হয়?  
● অভাবের প্রকৃতি ও পরিমাণ বিভিন্ন রকমের  
খ অর্থনীতির মূল উদ্দেশ্য মানবকল্যাণ  
গ অর্থনীতির গুরুত্বপূর্ণ সামাজিক অবস্থান  
ঘ আধুনিক বিশ্বের অর্থনৈতিক উন্নয়ন

১৫১. যেসব বিষয়ের অনুপস্থিতির কারণে উক্ত সংজ্ঞাটি সমালোচিত হয়েছে তা হলো— (অনুধাবন)  
র. জাতীয় আয়ের আলোচনা  
রর. নিয়োগ ব্যবস্থার আলোচনা  
ররর. অভাবের পরিমাণ নির্ধারণ  
নিচের কোনটি সঠিক?  
● র ও রর খ র ও ররর গ রর ও ররর ঘ র, রর ও ররর

পাঠ-১.৪ : অর্থনীতির দশটি নীতি

- অর্থনীতির মৌলিক নীতিমালা— ১০টি।
- প্রান্তিক উপযোগ প্রান্তিক ব্যয়ের চেয়ে বেশি হলে মানুষ— ভোগ করবে।
- অর্থনীতিতে বাজারব্যবস্থা— 'অদৃশ্য হাতের' ইশারায় চলে।
- মুদ্রা ছাপানোর ক্ষমতা— কেন্দ্রীয় ব্যাংকের।
- দ্রব্য সামগ্রীর মূল্যস্তর বেড়ে যাওয়ার অবস্থাকে— মুদ্রাস্ফীতি বলে।
- আয়ের বৃত্তাকার প্রবাহের দুটি খাত হলো— পরিবার ও ফার্ম।
- মুদ্রাস্ফীতি কমলে বাড়ে— বেকারত্ব।

সাধারণ বহুনির্বাচনি প্রশ্নোত্তর

১৫২. আমাদের সমাজে কীসের প্রেক্ষিতে অসীম অভাব মোকাবিলা করতে হয়? (জ্ঞান)  
● সম্পদের স্বল্পতা খ দ্রব্যমূল্য  
গ সঞ্চয় ঘ উৎপাদন ব্যয়
১৫৩. 'অর্থনীতির বিভিন্ন ধারণাসমূহের আলোচনার পূর্বে অর্থনীতির দশটি মৌলিক নীতি জানা প্রয়োজন'— এ কথা কে বলেছেন? (জ্ঞান)  
ক অ্যাডাম স্মিথ খ এল. রবিন্স  
গ ডেভিড রিকার্ডো ● গ্রেগরি ম্যানকিউ
১৫৪. নিচের কোনটি অর্থনীতির নীতি? (জ্ঞান)

ক মানুষ ভোগ করে	● মানুষ দেওয়া-নেওয়া করে
গ মানুষ মৃত্যুবরণ করে	ঘ মানুষ শিক্ষাগ্রহণ করে
১৫৫. পছন্দানুযায়ী কোনো জিনিস পাওয়ার জন্য আমাদের কী করতে হয়? (অনুধাবন) ক দর কষাকষি করতে হয়	
খ অর্থ ব্যয় করতে হয়	
● পছন্দের অন্য একটি জিনিস ত্যাগ করতে হয়	
ঘ অধিক মূল্যে কিনতে হয়	
১৫৬. সোহাগী বাড়ির কাজের পরিবর্তে লেখাপড়া করে এটা অর্থনীতির কোন নীতির পর্যায়ে পড়ে? (প্রয়োগ)	
● সুযোগ ব্যয়	খ মানুষ দেওয়া-নেওয়া করে
গ উৎসাহে মানুষ সাড়া দেয়া	ঘ প্রান্তিক পর্যায়ে চিন্তা করা
১৫৭. মার্কিন যুক্তরাষ্ট্রের ফোর্ড কোম্পানি কোন ব্যবসায়ের জন্য অধিক পরিচিত? (জ্ঞান) ক টেলিভিশন	খ বৈদ্যুতিক ক্যাবল
গ কম্পিউটার	● গাড়ি
১৫৮. বাণিজ্যের পূর্বশর্ত কী? (অনুধাবন) ক একপক্ষ লাভবান হবে	খ পণ্যের দাম কম হবে
● দুই পক্ষই লাভবান হবে	ঘ পণ্যের মান গুণগত হবে
১৫৯. নিচের কোনটি বাণিজ্যের ফলে ঘটে? (অনুধাবন) ক সমাজ ক্ষতিগ্রস্ত হয়	
● মানুষ কম দামে পণ্য কেনার সুযোগ পায়	
গ মানুষ অধিক দামে পণ্য কিনে	
ঘ কিছু পণ্য কাছে পায়	
১৬০. কোন ব্যবস্থার মাধ্যমে অর্থনৈতিক কর্মকাণ্ড সংঘটিত হয়? (জ্ঞান) ক সমাজব্যবস্থা	● বাজারব্যবস্থা
গ সরকারব্যবস্থা	ঘ পরিবারব্যবস্থা
১৬১. বাজারব্যবস্থা কীসের ইশারায় চলে? (জ্ঞান)	
● অদৃশ্য হাতের	খ সরকারের
গ রাষ্ট্রের	ঘ উদ্যোক্তার
১৬২. কখন সরকারি হস্তক্ষেপ জরুরি হয়ে পড়ে? (অনুধাবন) ক ভোগ বেড়ে গেলে	
খ বাজারব্যবস্থা ব্যর্থ হলে	
● সম্পদের সৃষ্টি ব্যবহারে অপারগতা হলে	
ঘ চাহিদা ও যোগান সমান হলে	
১৬৩. কোনটি উন্নয়নশীল দেশের বৈশিষ্ট্য? (অনুধাবন) ক ব্যাপক বেকারত্ব	খ ব্যাপক শিল্পায়ন
গ দক্ষ জনশক্তি	● মাথাপিছু আয় বৃদ্ধির প্রবণতা
১৬৪. ২০১২ সালে মার্কিন যুক্তরাষ্ট্রের মাথাপিছু আয় কত ডলার? (জ্ঞান) ক ২১,৭৪৯ ডলার	খ ৩৫,৫০০ ডলার

গ ৩৭,৫০০ ডলার	● ৫১,৭৪৯ ডলার
১৬৫. ২০১২ সালে জাপানের মাথাপিছু আয় কত ছিল? (জ্ঞান) ক ৩২,৪০৫ ডলার	খ ৩৫,২০০ ডলার
গ ৩৮,৪০১ ডলার	● ৪৬,৭৩১ ডলার
১৬৬. মুদ্রা ছাপানোর ক্ষমতা কার হাতে থাকে? (জ্ঞান) ক অর্থ মন্ত্রণালয়ের	● কেন্দ্রীয় ব্যাংকের
গ সোনালী ব্যাংকের	ঘ সরকারের
১৬৭. বাজার প্রচলিত মজুরিতে কাজ করতে ইচ্ছুক কিন্তু কাজ পায় না অর্থনীতিতে তাকে কী বলে? (জ্ঞান) ক কর্মক্ষম ব্যক্তি	● বেকার
গ অসহায়	ঘ কর্মহীন
১৬৮. মুদ্রাস্ফীতি কমলে কোনটি বাড়ে? (জ্ঞান) ক জিনিসপত্রের দাম	● বেকারত্ব
গ দ্রব্যের মান	ঘ বিনিয়োগ
১৬৯. বেকারত্ব কমলে কোনটি বাড়ে? (জ্ঞান) ক চাকরি	খ জাতীয় আয়
গ মুদ্রাসংকোচন	● মূল্যস্ফীতি

বহুপদী সমাপ্তিসূচক বহুনির্বাচনি প্রশ্নোত্তর

১৭০. সরকারি হস্তক্ষেপের প্রয়োজন— (অনুধাবন) র. সম্পদের সৃষ্টি ব্যবহার করতে রর. পরিবেশ দূষণ রোধে ররর. দুর্নীতি ঠেকাতে নিচের কোনটি সঠিক? ক র ও রর    খ র ও ররর    গ রর ও ররর    ● র, রর ও ররর
১৭১. জাপানের মাথাপিছু আয় বেশি হওয়ায় সেখানের নাগরিকরা কিছু সুবিধা পায়। এগুলোর মধ্যে রয়েছে— (অনুধাবন) র. উন্নত খাবারব্যবস্থা রর. আকাশ পথে যাতায়াত সুবিধা ররর. উন্নত স্বাস্থ্যসেবা নিচের কোনটি সঠিক? ক র ও রর    ● র ও ররর    গ রর ও ররর    ঘ র, রর ও ররর
১৭২. 'হাসান বুক ডিপো' প্রকাশনা প্রতিষ্ঠানটি স্বল্পমূল্যে বাজারে বই দিতে আগ্রহী। এর ফলে প্রতিষ্ঠানটি— (উচ্চতর দক্ষতা) র. অভিজাত শ্রেণির গ্রাহক হারায়ে রর. ব্যবসায়িকভাবে লাভবান হবে ররর. ফ্রেতার দৃষ্টি আকর্ষণ করতে পারবে নিচের কোনটি সঠিক?

ক র ও রর	খ র ও ররর	● রর ও ররর	ঘ র, রর ও ররর
১৭৩. মূল্যস্ফীতির ফলে— র. দ্রব্যের সরবরাহ বৃদ্ধি পায়			(উচ্চতর দক্ষতা)
রর. অর্থের মান কমে যায়			
ররর. দ্রব্যের মূল্য বৃদ্ধি পায়			
নিচের কোনটি সঠিক?			
ক র ও রর	খ র ও ররর	● রর ও ররর	ঘ র, রর ও ররর
১৭৪. অর্থনীতির প্রতিটি কাজে গুরুত্বপূর্ণ ভূমিকা রাখে— র. উৎসাহ			(অনুধাবন)
রর. প্রান্তিক চিন্তা			
ররর. প্রণোদনা			
নিচের কোনটি সঠিক?			
ক র ও রর	● র ও ররর	গ রর ও ররর	ঘ র, রর ও ররর
১৭৫. অর্থনীতিতে মানুষ দেওয়া-নেওয়া করে। এর কারণ হলো— র. প্রত্যেকেই পছন্দের জিনিস পেতে চায়			(উচ্চতর দক্ষতা)
রর. নিজের কাছে কম উপযোগ দ্রব্য ত্যাগ করতে চায়			
ররর. মানুষ সব সময় বিকল্প অবস্থা গ্রহণ করে			
নিচের কোনটি সঠিক?			
● র ও রর	খ র ও ররর	গ রর ও ররর	ঘ র, রর ও ররর
১৭৬. বিশ্বের অধিক পরিচিত গাড়ি কোম্পানির নাম হলো— র. মার্কিন যুক্তরাষ্ট্রের ফোর্ড			(অনুধাবন)
রর. জাপানের টয়োটা			
ররর. ভারতের টাটা			
নিচের কোনটি সঠিক?			
● র ও রর	খ র ও ররর	গ রর ও ররর	ঘ র, রর ও ররর
১৭৭. একটি ফার্মের প্রয়োজনীয় উৎপাদনের উপকরণসমূহ হলো— র. শ্রম			(অনুধাবন)
রর. ভূমি			
ররর. মূলধন			
নিচের কোনটি সঠিক?			
ক র ও রর	খ র ও ররর	গ রর ও ররর	● র, রর ও ররর

অভিন্ন তথ্যভিত্তিক বহুনির্বাচনি প্রশ্নোত্তর

নিচের অনুচ্ছেদটি পড়ে ১৭৮ ও ১৭৯ নং প্রশ্নের উত্তর দাও :

যুথির দেশের সরকার এ অর্থবছরের যে বাজেট প্রণয়ন করেন তা হলো ঘাটতি বাজেট। এ ঘাটতি পূরণের জন্য সেই যুথির দেশের সরকার অধিক মুদ্রা ছাপানোর সিদ্ধান্ত গ্রহণ করে।

১৭৮. যুথির দেশের অধিক মুদ্রা ছাপানোর ক্ষমতা কার হাতে থাকে? (প্রয়োগ)  
ক সরকারের ● কেন্দ্রীয় ব্যাংকের

গ শিল্পপ্রতিষ্ঠানের ঘ বাণিজ্যিক ব্যাংকের

১৭৯. যুথির দেশের সরকারের এই সিদ্ধান্তের কারণে— (উচ্চতর দক্ষতা)  
র. দ্রব্যমূল্য বৃদ্ধি পাবে

রর. মুদ্রাস্ফীতি ঘটবে

ররর. বেকারত্ব হ্রাস পাবে

নিচের কোনটি সঠিক?

ক র ও রর খ র ও ররর গ রর ও ররর ● র, রর ও ররর

নিচের অনুচ্ছেদটি পড়ে ১৮০ ও ১৮১ নং প্রশ্নের উত্তর দাও :

মাসুদ সাহেবের কাছে কিছু টাকা আছে। এ টাকা দিয়ে তিনি তার পছন্দের একটি মোবাইল ফোন কিনতে পারবেন। কিন্তু মোবাইল না কিনে তিনি পরবর্তী মাসের প্রয়োজনীয় জিনিসপত্র কিনে বাসায় ফিরলেন।

১৮০. অনুচ্ছেদে অর্থনীতির কোন ধারণার প্রকাশ ঘটেছে? (প্রয়োগ)  
ক প্রান্তিক ব্যয় খ মোট ব্যয় ● সুযোগ ব্যয় ঘ অপর্থাণ্ড ব্যয়

১৮১. উক্ত ধারণাটি মাসুদ সাহেব তখনই গ্রহণ করবেন যখন—(উচ্চতর দক্ষতা)  
র. প্রয়োজনীয় জিনিসপত্র ক্রয় অধিক প্রয়োজন হবে

রর. অভাবের মধ্যে অগ্রাধিকার দেবে

ররর. বাজারে দ্রব্যের দাম কমে যাবে

নিচের কোনটি সঠিক?

● র ও রর খ র ও ররর গ রর ও ররর ঘ র, রর ও ররর

পাঠ-১.৫ : আয়ের বৃত্তাকার প্রবাহ (দুটি খাত)

■ একটি সরল অর্থনীতিতে থাকে— দুই ধরনের প্রতিনিধি।

■ উৎপাদকের অপর নাম— ফার্ম।

সাধারণ বহুনির্বাচনি প্রশ্নোত্তর

১৮২. মূলধনের মালিক কী পায়? (অনুধাবন)  
ক নিট আয় ● সুদ গ মজুরি ঘ খাজনা

বহুপদী সমাপ্তিসূচক বহুনির্বাচনি প্রশ্নোত্তর

১৮৩. একটি সরল অর্থনীতির প্রতিনিধি হলো— (অনুধাবন)  
র. ভোক্তা বা পরিবার

রর. সরকার বা পরিচালক

ররর. উৎপাদক বা ফার্ম

নিচের কোনটি সঠিক?

ক র ও রর ● র ও ররর গ রর ও ররর ঘ র, রর ও ররর

১৮৪. ভূমি ও মূলধনের বিনিময়ে পরিবারের সদস্যরা ফার্ম থেকে পায়— (অনুধাবন)  
র. চিকিৎসাসেবা

রর. খাজনা

ররর. সুদ

নিচের কোনটি সঠিক?

ক র ও রর খ র ও ররর ● রর ও ররর ঘ র, রর ও ররর

➔ পাঠ-১.৬ : বিভিন্ন অর্থনৈতিক ব্যবস্থা

- পৃথিবীতে অর্থব্যবস্থা চালু আছে— চার ধরনের।
- সরকারের হস্তক্ষেপ নেই— ধনতান্ত্রিক অর্থব্যবস্থায়।
- এডাম স্মিথ ও তার অনুসারীগণ সমর্থক ছিলেন— ধনতান্ত্রিক অর্থব্যবস্থায়।
- ধনতান্ত্রিক অর্থব্যবস্থায় মূল চালিকাশক্তি— দামব্যবস্থা।
- ধনতান্ত্রিক অর্থব্যবস্থার অন্য নাম— পুঁজিবাদি অর্থনীতি।
- ধনতন্ত্রে 'অদৃশ্য শক্তি' বলা হয়— দামব্যবস্থাকে।
- ধনতান্ত্রিক সমাজে থাকে— বৈষম্য।

সাধারণ বহুনির্বাচনি প্রশ্নোত্তর

১৮৫. যেসব অর্থনৈতিক বিধিবিধান, দর্শন, নিয়মকানুন ও পরিবেশের দ্বারা দেশের সার্বিক অর্থনৈতিক কার্যকলাপ পরিচালিত হয় তাকে কী বলে? (অনুধাবন)  
ক অর্থনৈতিক পরিকল্পনা খ অর্থনৈতিক আওতা

● অর্থনৈতিক ব্যবস্থা ঘ অর্থনৈতিক কাজ

১৮৬. মি. রহিম অ দেশে ঘুরতে গিয়ে দেখলেন সেখানে রাষ্ট্রীয় মালিকানায় কোনো প্রতিষ্ঠান নেই। অ দেশটিতে কোন ধরনের অর্থব্যবস্থা বিদ্যমান?  
(প্রয়োগ)

ক সমাজতান্ত্রিক ● ধনতান্ত্রিক

গ ইসলামিক ঘ মিশ্র

১৮৭. কোন অর্থব্যবস্থায় সরকারের হস্তক্ষেপ নেই বললেই চলে? (জ্ঞান)  
● ধনতান্ত্রিক খ সমাজতান্ত্রিক

গ ইসলামি ঘ মিশ্র

১৮৮. ধনতন্ত্রে সমস্ত অর্থনৈতিক কাজ কীসের মাধ্যমে পরিচালিত হয়? (জ্ঞান)

ক মূল্য ব্যবস্থার মাধ্যমে ● স্বয়ংক্রিয় দাম ব্যবস্থার মাধ্যমে

গ বাজার ব্যবস্থার মাধ্যমে ঘ সরকারি নিয়ন্ত্রণ

১৮৯. ধনতান্ত্রিক অর্থব্যবস্থায় অদৃশ্য শক্তি হিসেবে দাম ব্যবস্থার প্রধান ভূমিকা কী হতে পারে? (উচ্চতর দক্ষতা)

ক দামের সমতা রক্ষা করে অর্থনীতি পরিচালনা

খ বাজার ব্যবস্থায় নিয়ন্ত্রণ প্রতিষ্ঠা করা

● অর্থনৈতিক কর্মকাণ্ড সুশৃঙ্খল ও স্বয়ংক্রিয়ভাবে পরিচালিত করা

ঘ মৌলিক অর্থনৈতিক সমস্যার সমাধান করা

১৯০. ধনতান্ত্রিক অর্থব্যবস্থার অন্য আরেকটি নাম কী? (জ্ঞান)  
ক উন্নত অর্থনীতি খ খোলা অর্থনীতি

গ মিশ্র অর্থনীতি ● পুঁজিবাদী অর্থনীতি

১৯১. ক্লাসিক্যাল অর্থনীতিবিদ হিসেবে কাকে গণ্য করা হয়? (জ্ঞান)  
● অ্যাডাম স্মিথ খ মার্শাল গ এল. রবিন্স ঘ এরিস্টটল

১৯২. অ্যাডাম স্মিথ ও তার অনুসারীগণ কোন অর্থব্যবস্থাকে সমর্থন করেন? (জ্ঞান)  
ক সমাজতান্ত্রিক খ মিশ্র গ ইসলামি ● ধনতান্ত্রিক

১৯৩. ধনতান্ত্রিক অর্থব্যবস্থার বৈশিষ্ট্য কয়টি? (জ্ঞান)  
ক ৭ ● ৮ গ ৯ ঘ ১০

১৯৪. নিচের কোনটি ধনতান্ত্রিক অর্থব্যবস্থার বৈশিষ্ট্য? (অনুধাবন)  
ক কেন্দ্রীয় পরিকল্পনা খ সরকারি নিয়ন্ত্রণ

গ সম্পদের রাষ্ট্রীয় মালিকানা ● সম্পদের ব্যক্তিগত মালিকানা

১৯৫. কোন ধরনের অর্থনৈতিক ব্যবস্থায় উৎপাদনের উপকরণগুলোর ওপর ব্যক্তিমালিকানা বজায় থাকে? (জ্ঞান)

ক সমাজতন্ত্র ● ধনতন্ত্র

গ মিশ্র অর্থনীতিতে ঘ ইসলামি অর্থনীতিতে

১৯৬. ধনতান্ত্রিক অর্থনৈতিক ব্যবস্থায় দ্রব্যের দামের ওপর কী নির্ভর করে? (অনুধাবন)  
ক আন্তর্জাতিক বাজার খ মাথাপিছু আয়

ঘ প্রবৃদ্ধির হার ● উৎপাদন ভোগ ও বণ্টন

১৯৭. কোন অর্থব্যবস্থায় অবাধ প্রতিযোগিতা থাকে? (অনুধাবন)  
ক সমাজতান্ত্রিক খ ইসলামি ● ধনতান্ত্রিক ঘ মিশ্র অর্থব্যবস্থা

১৯৮. কোন অর্থব্যবস্থায় নতুন নতুন দ্রব্য আবিষ্কার হয়? (জ্ঞান)  
ক মিশ্র ● ধনতান্ত্রিক ঘ ইসলামি

১৯৯. ধনতান্ত্রিক অর্থব্যবস্থায় অর্থনৈতিক কার্যাবলি পরিচালিত হয় কীসের দ্বারা? (অনুধাবন)

ক সরকারি পরিকল্পনা দ্বারা

● স্বয়ংক্রিয় দাম ব্যবস্থার দ্বারা

গ ভোগকারীর স্বাধীন ইচ্ছার দ্বারা

ঘ সামাজিক কল্যাণ সাধনের জন্য অবাধ প্রতিযোগিতার দ্বারা

২০০. কোনটি ধনতান্ত্রিক অর্থব্যবস্থার বৈশিষ্ট্য? (অনুধাবন)  
ক কেন্দ্রীয় পরিকল্পনা খ সরকারি নিয়ন্ত্রণ

গ সম্পদের রাষ্ট্রীয় মালিকানা ● সম্পদের ব্যক্তিগত মালিকানা

২০১. কোন ধরনের অর্থনৈতিক ব্যবস্থায় উৎপাদনের উপকরণগুলোর ওপর ব্যক্তিমালিকানা বজায় থাকে? (জ্ঞান)  
ক সমাজতন্ত্র ● ধনতন্ত্র

গ মিশ্র অর্থনীতি ঘ ইসলামি অর্থনীতি

২০২. ধনতান্ত্রিক অর্থনৈতিক ব্যবস্থায় দ্রব্যের দামের ওপর কী নির্ভর করে? (অনুধাবন)  
ক আন্তর্জাতিক বাজার খ মাথাপিছু আয়

ঘ প্রবৃদ্ধির হার ● উৎপাদন, ভোগ ও বণ্টন

২০৩. কোন অর্থব্যবস্থায় নতুন নতুন দ্রব্য আবিষ্কার হয়? (জ্ঞান)  
ক মিশ্র খ সমাজতান্ত্রিক ● ধনতান্ত্রিক ঘ ইসলামি

২০৪. ধনতন্ত্রে উৎপাদনকারী কীসের ভিত্তিতে উৎপাদন করে? (অনুধাবন)  
● চাহিদার খ যোগানের গ উপযোগের ঘ ভোক্তার

২০৫. কোন ধরনের অর্থব্যবস্থায় আয় বৈষম্য প্রকট আকার ধারণ করে? (জ্ঞান)  
ক সমাজতান্ত্রিক খ ইসলামি ● ধনতান্ত্রিক ঘ মিশ্র

২০৬. যে কোনো দ্রব্য অবাধে ভোগ করতে পারাকে কী বলে? (অনুধাবন)  
ক ভোক্তার ইচ্ছা ● ভোক্তার স্বাধীনতা

গ ভোক্তার সামর্থ্য ঘ ভোক্তার পছন্দ

#### বহুপদী সমাঙ্গিসূচক বহুনির্বাচনি প্রশ্নোত্তর

২০৭. ধনতান্ত্রিক অর্থব্যবস্থায় আয়ের বৈষম্য প্রকট থাকে— (অনুধাবন)  
র. বিত্তবানদের

রর. সাধারণ জনগণের

ররর. সরকারের

নিচের কোনটি সঠিক?

● র ও রর খ র ও ররর গ রর ও ররর ঘ র, রর ও ররর

২০৮. ধনতান্ত্রিক অর্থনীতিতে দামব্যবস্থা স্বয়ংক্রিয় হওয়ার কারণ— (অনুধাবন)  
র. ভোক্তা কর্তৃক দাম নির্ধারণ হয়

রর. বিক্রোতা কর্তৃক দাম প্রবর্তিত হয়

ররর. চাহিদা ও যোগানের দ্বারা দাম নির্ধারিত হয়

নিচের কোনটি সঠিক?

ক র খ রর ● ররর ঘ র, রর ও ররর

২০৯. ধনতান্ত্রিক অর্থব্যবস্থার অর্থনীতির কার্যক্রম পরিচালিত হয়— (অনুধাবন)  
র. পারস্পরিক নির্ভরশীলতায়

রর. নিজ নিজ স্বার্থে

ররর. জনকল্যাণে

নিচের কোনটি সঠিক?

● র ও রর খ র ও ররর গ রর ও ররর ঘ র, রর ও ররর

#### অভিন্ন তথ্যভিত্তিক বহুনির্বাচনি প্রশ্নোত্তর

নিচের অনুচ্ছেদটি পড়ে ২১০ ও ২১১ নং প্রশ্নের উত্তর দাও :

কামাল মজুমদার শিক্ষার্থীদের উদ্দেশ্যে বলেন, এমন একটি অর্থব্যবস্থা আছে যেখানে বিভিন্ন অর্থনৈতিক সমস্যা সমাধানের ক্ষেত্রে দামব্যবস্থা একটি গুরুত্বপূর্ণ ভূমিকা পালন করে। দামব্যবস্থায় ঘাত-প্রতিঘাতে বিভিন্ন দ্রব্যের উৎপাদন ও দাম নির্ধারণ হয়। এখানে মুনাফা অর্জনের সুযোগ পর্যাপ্ত।

২১০. কামাল মজুমদার যে অর্থব্যবস্থার ইঙ্গিত করেছেন তার বৈশিষ্ট্য হলো— (প্রয়োগ)  
র. সম্পদের যৌথ মালিকানা বর্তমান

রর. সরকারি নিয়ন্ত্রণ অনুপস্থিত

ররর. ব্যক্তির সিদ্ধান্ত গ্রহণের স্বাধীনতা রয়েছে

নিচের কোনটি সঠিক?

ক র ও রর খ র ও ররর গ রর ও ররর ● র, রর ও ররর

২১১. অনুচ্ছেদে দামব্যবস্থায় ঘাত-প্রতিঘাতে কলতে বোঝানো হয়েছে— (উচ্চতর দক্ষতা)  
র. চাহিদার তুলনায় যোগান বেশি

রর. যোগানের তুলনায় চাহিদা বেশি

ররর. চাহিদা ও যোগান পরস্পর সমান

নিচের কোনটি সঠিক?

ক র ও রর খ র ও ররর গ রর ও ররর ● র, রর ও ররর

#### সমাজতান্ত্রিক অর্থনীতি বা নির্দেশমূলক অর্থনীতি

- সমাজতান্ত্রিক অর্থনীতিতে অধিকাংশ মালিকানা— রাষ্ট্রের।
- সমাজতন্ত্রে ভোক্তার স্বাধীনতা— সীমিত।
- সমাজতান্ত্রিক অর্থব্যবস্থায় জমি, কলকারখানা ও খনির মালিক— সরকার।
- সমাজতান্ত্রিক অর্থব্যবস্থায় মুনাফা অর্জনের সুযোগ— অনুপস্থিত।
- সমাজতান্ত্রিক অর্থব্যবস্থার প্রধান বৈশিষ্ট্য হলো— কেন্দ্রীয় পরিকল্পনা।
- সমাজতান্ত্রিক অর্থনীতিতে সব পরিকল্পনা— সরকার গ্রহণ করে।

#### সাধারণ বহুনির্বাচনি প্রশ্নোত্তর

২১২. সমাজতান্ত্রিক অর্থব্যবস্থায় কয়টি বৈশিষ্ট্য রয়েছে? (অনুধাবন)

ক ৩	খ ৪	● ৫	ঘ ৬
২১৩. 'ক' দেশটির সকল সম্পদের মালিক রপ্ত। এদেশে কোন ধরনের অর্থ ব্যবস্থা বিদ্যমান? ক ধনতান্ত্রিক ● সমাজতান্ত্রিক গ মিশ্র ঘ ইসলামি			
২১৪. অ একটি কেন্দ্রীয় পরিকল্পনাত্মক দেশ। দেশটিতে সম্পদের মালিক কে? (প্রয়োগ) ক আমলারা খ জনগণ গ মন্ত্রীরা ● সরকার			
২১৫. সমাজতন্ত্রে অধিকাংশ ক্ষেত্রে ভোক্তার কার নির্ধারিত উৎপাদিত দ্রব্যাদি ভোগ করে থাকে? ● সরকার খ গোষ্ঠী গ উদ্যোগ ঘ পরিবার			
২১৬. কোন অর্থব্যবস্থায় অবাধ প্রতিযোগিতার অভাব রয়েছে? (জ্ঞান) ক ধনতান্ত্রিক খ মিশ্র গ ইসলামি ● সমাজতান্ত্রিক			
২১৭. সরকারি উদ্যোগে উৎপাদন কার্য চলে কোন অর্থব্যবস্থায়? (অনুধাবন) ক ধনতান্ত্রিক ● সমাজতান্ত্রিক গ ইসলামি ঘ মিশ্র			
২১৮. সমাজতান্ত্রিক অর্থব্যবস্থার বৈশিষ্ট্য কোনটি? (অনুধাবন) ● ব্যক্তিগত উদ্যোগের অনুপস্থিতি খ মুনাফা অর্জন গ ভোক্তার স্বাধীনতা ঘ বেসরকারি উদ্যোগ			
২১৯. কোন অর্থব্যবস্থায় ব্যক্তিগত মুনাফা অনুপস্থিত? (জ্ঞান) ক ধনতান্ত্রিক ● সমাজতান্ত্রিক গ মিশ্র ঘ ইসলামি			
২২০. সরকারি উদ্যোগে উৎপাদন কার্য চলে কোন অর্থব্যবস্থায়? (অনুধাবন) ক ধনতান্ত্রিক ● সমাজতান্ত্রিক গ ইসলামি ঘ মিশ্র			
২২১. সমাজতান্ত্রিক অর্থব্যবস্থায় কোন দিকে লক্ষ রেখে উৎপাদন পরিচালিত হয়? (জ্ঞান) ক মুনাফা অর্জনের দিকে ● জাতীয় চাহিদার দিকে গ নতুন নতুন আবিষ্কারের দিকে ঘ আধুনিকতার দিকে			
২২২. কোন অর্থব্যবস্থায় ব্যক্তিগত মুনাফা অনুপস্থিত? (জ্ঞান) ক ধনতান্ত্রিক ● সমাজতান্ত্রিক গ মিশ্র ঘ ইসলামি			
২২৩. সমাজতান্ত্রিক অর্থব্যবস্থায় কোন দিকে লক্ষ রেখে উৎপাদন পরিচালিত হয়? (জ্ঞান) ক মুনাফা অর্জনের দিকে ● জাতীয় চাহিদার দিকে গ নতুন নতুন আবিষ্কারের দিকে ঘ আধুনিকতার দিকে			
<b>বহুপদী সমাঙ্গিসূচক বহুনির্বাচনি প্রশ্নোত্তর</b>			
২২৪. সমাজতান্ত্রিক অর্থব্যবস্থায় অর্থনৈতিক কার্যাবলি পরিচালিত হয়—(অনুধাবন) র. স্বয়ংক্রিয় দাম ব্যবস্থার দ্বারা রর. সরকারি উদ্যোগের দ্বারা ররর. কেন্দ্রীয় পরিকল্পনা দ্বারা নিচের কোনটি সঠিক? ক র ও রর খ র ও ররর ● রর ও ররর ঘ র, রর ও ররর			
২২৫. সমাজতান্ত্রিক অর্থব্যবস্থায় সরকার নির্ধারণ করে— (অনুধাবন) র. কোন কোন দ্রব্য উৎপাদিত হবে রর. কী পরিমাণে ও কীভাবে দ্রব্য উৎপাদিত হবে			

ররর. কার জন্য দ্রব্য উৎপাদিত হবে নিচের কোনটি সঠিক? ক র ও রর খ র ও ররর গ রর ও ররর ● র, রর ও ররর			
<b>মিশ্র অর্থব্যবস্থা</b>			
■ পৃথিবীর অধিকাংশ দেশে দেখা যায়— মিশ্র অর্থব্যবস্থা।			
■ সরকারি ও বেসরকারি উদ্যোগ বিরাজ করে- মিশ্র অর্থব্যবস্থায়।			
■ মিশ্র অর্থব্যবস্থায় পাশাপাশি বিরাজ করে- ব্যক্তি ও সরকারি মালিকানা।			
■ মিশ্র অর্থনীতিতে মৌলিক ও ভারী শিল্পসমূহ পরিচালনা করে- সরকার।			
■ মিশ্র অর্থনীতিতে মুনাফা অর্জন- সম্ভব।			
■ বাংলাদেশে চালু আছে- মিশ্র অর্থব্যবস্থা।			
■ অনেকে একটি উন্নত অর্থব্যবস্থা মনে করে- মিশ্র অর্থব্যবস্থাকে।			
<b>সাধারণ বহুনির্বাচনি প্রশ্নোত্তর</b>			
২২৬. ধনতন্ত্র ও সমাজতন্ত্রের সামঞ্জস্য বিধান করা হয় কোন ব্যবস্থায়? (অনুধাবন) ● মিশ্র খ ইসলামি গ কৃত্রিম ঘ সংকর			
২২৭. 'ক' দেশে রাষ্ট্রীয় ও ব্যক্তিগত প্রতিষ্ঠান সহাবস্থান করে। দেশটিতে কোন অর্থব্যবস্থা চালু আছে? (প্রয়োগ) ● মিশ্র খ ধনতান্ত্রিক গ সমাজতান্ত্রিক ঘ ইসলামি			
২২৮. বাংলাদেশে কোন অর্থব্যবস্থা বিদ্যমান? (জ্ঞান) ক ধনতান্ত্রিক ● মিশ্র গ সমাজতান্ত্রিক ঘ ইসলামি			
২২৯. মিশ্র অর্থব্যবস্থার সাধারণ বৈশিষ্ট্য কয়টি? (অনুধাবন) ক ৩ ● ৫ গ ৭ ঘ ৮			
২৩০. কোনটিকে গণদ্রব্য বলা হয়? (জ্ঞান) ক বাড়ি খ গাড়ি ● মহাসড়ক ঘ খাদ্য			
২৩১. মিশ্র অর্থব্যবস্থায় শিল্পকারখানা, ব্যবসা-বাণিজ্য পরিচালিত হয়—(অনুধাবন) ক রাষ্ট্রীয় মালিকানায় খ সরকারি ও বেসরকারি যৌথ মালিকানা গ বেসরকারি মালিকানায় ● সরকারি ও বেসরকারি উভয় মালিকানায়			
২৩২. মিশ্র অর্থব্যবস্থায় স্বীকৃতি থাকে? (জ্ঞান) ● মুনাফা অর্জন খ মূলধন বিনিয়োগ গ নির্ধারিত দ্রব্যমূল্য ঘ কেন্দ্রীয় পরিকল্পনা			



২৩৩. কোন অর্থব্যবস্থায় ভোক্তার অবাধ স্বাধীনতার পাশাপাশি সরকার প্রয়োজন অনুসারে ভোগ নিয়ন্ত্রণ করতে পারে? (জ্ঞান)  
ক ধনতান্ত্রিক খ সমাজতান্ত্রিক গ ইসলামি ● মিশ্র

২৩৪. অনেকে কোন অর্থব্যবস্থাকে একটি উন্নত অর্থব্যবস্থা মনে করে? (জ্ঞান)  
● মিশ্র খ ধনতন্ত্র গ ইসলামি ঘ অবাধ

বহুপদী সমাঙ্গিসূচক বহুনির্বাচনি প্রশ্নোত্তর

২৩৫. মিশ্র অর্থব্যবস্থায় ব্যক্তিগত মালিকানায় থাকে— (অনুধাবন)  
র. গণদ্রব্য

রর. স্থাবর সম্পত্তি

ররর. অস্থাবর সম্পত্তি

নিচের কোনটি সঠিক?

ক র ও রর খ র ও ররর ● রর ও ররর ঘ র, রর ও ররর

২৩৬. ভোক্তার স্বাধীনতা দেওয়া হয়— (অনুধাবন)  
র. ধনতান্ত্রিক অর্থব্যবস্থায়

রর. সমাজতান্ত্রিক অর্থব্যবস্থায়

ররর. মিশ্র অর্থব্যবস্থায়

নিচের কোনটি সঠিক?

ক র ও রর ● র ও ররর গ রর ও ররর ঘ র, রর ও ররর

২৩৭. মিশ্র অর্থব্যবস্থায় সরকার প্রয়োজন অনুসারে যেসব দ্রব্যের ভোগ নিয়ন্ত্রণ করতে পারে— (অনুধাবন)  
র. ধূমপান

রর. মাদকদ্রব্য

ররর. নিত্যপ্রয়োজনীয় দ্রব্য

নিচের কোনটি সঠিক?

● র ও রর খ র ও ররর গ রর ও ররর ঘ র, রর ও ররর

২৩৮. যেসব দেশে মিশ্র অর্থব্যবস্থা বিদ্যমান— (অনুধাবন)  
র. ভারত

রর. যুক্তরাষ্ট্র

ররর. চীন

নিচের কোনটি সঠিক?

● র ও রর খ র ও ররর গ রর ও ররর ঘ র, রর ও ররর

অভিন্ন তথ্যভিত্তিক বহুনির্বাচনি প্রশ্নোত্তর

নিচের অনুচ্ছেদটি পড়ে ২৩৯ ও ২৪০ নং প্রশ্নের উত্তর দাও :

‘ক’ দেশটিতে রাষ্ট্রীয় মালিকানায় অধিকাংশ বৃহৎ শিল্পকারখানা পরিচালিত হয়। পাশাপাশি বেসরকারি উদ্যোগেও অনেক শিল্পপ্রতিষ্ঠান পরিচালিত হচ্ছে।

২৩৯. ‘ক’ দেশটিতে কোন ধরনের অর্থনৈতিক ব্যবস্থা প্রচলিত? (প্রয়োগ)  
ক ধনতান্ত্রিক খ সমাজতান্ত্রিক গ ইসলামি ● মিশ্র

২৪০. ‘ক’ দেশটিতে সরকার নিয়ন্ত্রণ করে— (উচ্চতর দক্ষতা)  
র. মহাসড়ক

রর. ব্যবসায় প্রতিষ্ঠান

ররর. জনগুরুত্বপূর্ণ প্রতিষ্ঠান

নিচের কোনটি সঠিক?

ক র ও রর ● র ও ররর গ রর ও ররর ঘ র, রর ও ররর

নিচের অনুচ্ছেদটি পড়ে ২৪১ ও ২৪২ নং প্রশ্নোত্তর দাও :

রনি সাহেবের দুইটি সন্তান। প্রথম সন্তানকে একটি সরকারি স্কুলে ভর্তি করতে পেরেছেন। কিন্তু অন্য সন্তানটি সরকারি স্কুলে ভর্তি সুযোগ না পাওয়ায় তাকে বেসরকারি একটি স্কুলে ভর্তি করতে বাধ্য হন। কিন্তু বেসরকারি স্কুলের বেতন অনেক বেশি।

২৪১. অনুচ্ছেদটি কোন অর্থব্যবস্থার কর্মকাণ্ডের দিকে ইঙ্গিত দেওয়া হয়েছে? (প্রয়োগ)  
ক ধনতান্ত্রিক খ সমাজতান্ত্রিক ● মিশ্র ঘ ইসলামি

২৪২. উক্ত অর্থব্যবস্থার বৈশিষ্ট্য হচ্ছে— (উচ্চতর দক্ষতা)  
র. ভোক্তার স্বাধীনতা

রর. ব্যক্তিগত উদ্যোগ

ররর. সরকারি উদ্যোগ

নিচের কোনটি সঠিক?

ক র ও রর খ র ও ররর গ রর ও ররর ● র, রর ও ররর

➡ ইসলামি অর্থনৈতিক ব্যবস্থা ➡ বোর্ড বই, পৃষ্ঠা- ০৯

- ইসলামের মৌলিক নিয়ম কানূনের ভিত্তিতে গড়ে উঠেছে— ইসলামি অর্থব্যবস্থা।
- ইসলামি অর্থব্যবস্থায় উৎপাদন প্রক্রিয়া সমাজের জন্য— কল্যাণকর।
- তিনটি মূল নীতির উপর নির্ভর করে— ইসলামি অর্থব্যবস্থা।
- ইসলামি অর্থব্যবস্থার প্রধান বৈশিষ্ট্য— ৭টি।
- ব্যাংক ব্যবস্থায় সুদমুক্ত আমানতের কথা বলা হয়েছে— ইসলামি অর্থনীতিতে।
- ন্যায়াভিত্তিক বস্তু ব্যবস্থা প্রবর্তন করা হয়েছে— ইসলামি অর্থনীতিতে।

সাধারণ বহুনির্বাচনি প্রশ্নোত্তর

২৪৩. ইসলামের মৌলিক নিয়মকানূনের ওপর ভিত্তি করে কোন অর্থব্যবস্থা গড়ে ওঠে? (জ্ঞান)

ক মুক্তবাজার অর্থনীতি খ সমাজতান্ত্রিক অর্থব্যবস্থা

- ইসলামি অর্থব্যবস্থা      ঘ পুঁজিবাদি অর্থব্যবস্থা
২৪৪. ইসলামি অর্থব্যবস্থার উল্লেখযোগ্য বৈশিষ্ট্য কয়টি? (জ্ঞান)  
ক ৫      খ ৬      ● ৭      ঘ ৮
২৪৫. ইসলামি অর্থব্যবস্থা কীসের ওপর ভিত্তি করে গড়ে ওঠে? (জ্ঞান)  
ক মুক্তবাজার অর্থনীতির      ● মৌলিক নিয়মকানুনের
- গ সমাজতান্ত্রিক অর্থব্যবস্থার      ঘ পুঁজিবাদী অর্থব্যবস্থার
২৪৬. কোন অর্থব্যবস্থা মানবজীবনের সমগ্র ক্ষেত্র নিয়ে আলোচনা করে? (জ্ঞান)  
ক ধনতান্ত্রিক      খ সমাজতান্ত্রিক
- ইসলামি      ঘ মুক্তবাজার
২৪৭. ব্যক্তি ও সমষ্টির অধিকার, দায়িত্ব ও কর্তব্যে কোনোরূপ বৈষম্য নেই কোন অর্থব্যবস্থায়? (জ্ঞান)  
● ইসলামি      খ মিশ্র      গ সমাজতান্ত্রিক      ঘ ধনতান্ত্রিক
২৪৮. ইসলামি অর্থনীতির মূল নীতিমালা কীসের ওপর নির্ভর করে? (জ্ঞান)  
ক রাষ্ট্রের মালিকানার      ● ইসলামি শরিয়তের
- গ ব্যক্তিগত পরিকল্পনার      ঘ কেন্দ্রীয় পরিকল্পনার
২৪৯. ইসলামি অর্থব্যবস্থায় উৎপাদন, ভোগবস্তু প্রভৃতি কর্মকাণ্ড পরিচালিত হয় কীভাবে? (অনুধাবন)  
ক সংবিধান অনুযায়ী      ● আল্লাহর দেওয়া বিধান অনুযায়ী
- গ সরকারের নীতিমালা অনুযায়ী      ঘ প্রচলিত নীতি অনুযায়ী
২৫০. কোন অর্থব্যবস্থায় মানবকল্যাণে সব সম্পদের সর্বোচ্চ ব্যবহারের কথা বলা হয়? (জ্ঞান)  
● ইসলামি      খ সমাজতান্ত্রিক      গ মিশ্র      ঘ ধনতান্ত্রিক
২৫১. ইসলামি অর্থব্যবস্থায় উৎপাদন প্রক্রিয়া সমাজের জন্য কেমন? (অনুধাবন)  
ক কাম্য      ● কল্যাণকর      গ অকল্যাণকর      ঘ ক্ষতিকর
২৫২. ইসলামি অর্থব্যবস্থায় মানুষ নিজেকে কার আমানতদার হিসেবে গণ্য করে? (জ্ঞান)  
● স্রষ্টার      খ পরিবারের      গ রাষ্ট্রের      ঘ সমাজের
২৫৩. কোন অর্থনীতিতে সুদ গ্রহণের স্বীকৃতি নেই? (জ্ঞান)  
ক ধনতান্ত্রিক      ● ইসলামি
- গ সমাজতান্ত্রিক      ঘ মিশ্র
২৫৪. ইসলামি অর্থব্যবস্থার বস্তুনিষ্ঠতা কেমন? (অনুধাবন)  
ক বৈষম্যভিত্তিক      ● ন্যায়বিচারভিত্তিক
- গ মুনাফাভিত্তিক      ঘ সুদভিত্তিক

বহুপদী সমাপ্তিসূচক বহুনির্বাচনি প্রশ্নোত্তর

২৫৫. ইসলামি অর্থব্যবস্থায় ব্যবস্থা আছে— (অনুধাবন)  
র. সুদমুক্ত আমানত রাখা
- রর. মূলধনের জন্য সুদ প্রদানের ব্যবস্থা
- ররর. সুদমুক্ত ঋণগ্রহণ
- নিচের কোনটি সঠিক?
- ক র ও রর      ● র ও ররর      গ রর ও ররর      ঘ র, রর ও ররর

২৫৬. ইসলামি অর্থনীতিতে মানুষের চরিত্রে দুর্নীতি ও লোভ সৃষ্টি করতে পারে না। কারণ— (উচ্চতর দক্ষতা)  
র. সম্পদের মালিক আল্লাহ
- রর. শরিয়তের বিধানে পরিচালিত
- ররর. ধনী-দরিদ্রে কোনো বৈষম্য নেই
- নিচের কোনটি সঠিক?
- ক র ও রর      খ র ও ররর      গ রর ও ররর      ● র, রর ও ররর
২৫৭. ইসলামি অর্থনৈতিক ব্যবস্থায় উৎপাদনের লক্ষ্য হলো— (উচ্চতর দক্ষতা)  
র. সর্বাধিক মুনাফা অর্জন
- রর. হালাল পথে দ্রব্য ও সেবা উৎপাদন
- ররর. ন্যায়বিচারভিত্তিক বস্তুনিষ্ঠ ব্যবস্থা
- নিচের কোনটি সঠিক?
- ক র ও রর      খ র ও ররর      ● রর ও ররর      ঘ র, রর ও ররর
২৫৮. ইসলামি অর্থনীতিতে যে পদ্ধতিতে ধনীদেব কাছ থেকে অর্থ আদায় করে দরিদ্রের মাঝে বণ্টন করা হয় তা হচ্ছে— (অনুধাবন)  
র. ফিতরা      রর. যাকাত
- ররর. জিজিয়া
- নিচের কোনটি সঠিক?
- র ও রর      খ র ও ররর      গ রর ও ররর      ঘ র, রর ও ররর

অভিন্ন তথ্যভিত্তিক বহুনির্বাচনি প্রশ্নোত্তর

- নিচের অনুচ্ছেদটি পড়ে ২৫৯ ও ২৬০ নং প্রশ্নের উত্তর দাও :
- উৎপাদনের একটি অন্যতম উপাদান হলো মূলধন। সাধারণত মূলধন প্রদানকারীকে সুদ প্রদান করা হয়। কিন্তু একটি বিশেষ অর্থব্যবস্থায় তা কঠোরভাবে নিষিদ্ধ করা হয়েছে।
২৫৯. উল্লিখিত অংশে কোন অর্থব্যবস্থার কথা বলা হয়েছে? (প্রয়োগ)  
ক সমাজতন্ত্র      খ মিশ্র
- ইসলামি      ঘ ধনতন্ত্র
২৬০. এ ধরনের অর্থব্যবস্থার বৈশিষ্ট্য হলো— (উচ্চতর দক্ষতা)  
র. শোষণমুক্ত উৎপাদন প্রক্রিয়া
- রর. মজুরি প্রদানে ন্যায় ও সাম্যনীতি
- ররর. অবদানের ভিত্তিতে পাওনা পরিশোধ
- নিচের কোনটি সঠিক?
- ক র ও রর      খ র ও ররর      গ রর ও ররর      ● র, রর ও ররর
- অধ্যায়ের পাঠ সমন্বিত বহুনির্বাচনি প্রশ্নোত্তর
- বহুপদী সমাপ্তিসূচক বহুনির্বাচনি প্রশ্নোত্তর

২৬১. গ্রিক সভ্যতার চিন্তাবিদ ছিলেন— (অনুধাবন)  
র. প্লেটো
- রর. এল. রবিন্স  
ররর. এরিস্টটল
- নিচের কোনটি সঠিক?  
ক র ও রর ● র ও ররর গ রর ও ররর ঘ র, রর ও ররর
২৬২. অধ্যাপক এল. রবিন্স প্রদত্ত অর্থনীতির সংজ্ঞার বৈশিষ্ট্য হলো—(অনুধাবন)  
র. মানুষের অভাব অসীম
- রর. সম্পদের যোগান অসীম  
ররর. অভাব পূরণকারী সম্পদ ও সময় সীমিত
- নিচের কোনটি সঠিক?  
ক র ও রর ● র ও ররর গ রর ও ররর ঘ র, রর ও ররর
২৬৩. বাজার ব্যবস্থায় সরকারি হস্তক্ষেপের দরকার হয়ে পড়ে যে বিষয়গুলো হতে রক্ষার জন্য— (অনুধাবন)  
র. পরিবেশ দূষণ
- রর. দুর্নীতি  
ররর. মুদ্রানীতি
- নিচের কোনটি সঠিক?  
ক র ও রর ● র ও ররর গ রর ও ররর ঘ র, রর ও ররর
২৬৪. ভোক্তার স্বাধীনতা দেওয়া হয়— (অনুধাবন)  
র. সমাজতান্ত্রিক অর্থব্যবস্থায়
- রর. ধনতান্ত্রিক অর্থব্যবস্থায়  
ররর. মিশ্র অর্থব্যবস্থায়
- নিচের কোনটি সঠিক?  
ক র ও রর খ র ও ররর ● রর ও ররর ঘ র, রর ও ররর
২৬৫. সমাজতন্ত্রে উৎপাদন পরিচালিত হয়ে থাকে— (অনুধাবন)  
র. ব্যক্তিগত মুনাফার জন্য
- রর. জাতীয় চাহিদার জন্য  
ররর. সামগ্রিক কল্যাণের জন্য
- নিচের কোনটি সঠিক?  
ক র ও রর খ র ও ররর ● রর ও ররর ঘ র, রর ও ররর
২৬৬. গ্রিক সভ্যতায় শহরের অধিবাসীরা ছিল মূলত— (উচ্চতর দক্ষতা)  
র. অর্থনীতিবিদ
- রর. ব্যবসায়ী

- ররর. মিস্ত্রি
- নিচের কোনটি সঠিক?  
ক র ও রর খ র ও ররর ● রর ও ররর ঘ র, রর ও ররর
২৬৭. একটি দেশের মানুষের জীবনযাত্রার মান নির্ভর করে সে দেশের পণ্য ও সেবা উৎপাদনের ক্ষমতার ওপর। কেননা এর ফলে— (উচ্চতর দক্ষতা)  
র. মাথাপিছু আয় বাড়ে
- রর. উন্নত স্বাস্থ্যসেবা লাভ করা যায়  
ররর. শ্রমিকদের কর্মক্ষমতাও বাড়ে
- নিচের কোনটি সঠিক?  
ক র ও রর খ র ও ররর গ রর ও ররর ● র, রর ও ররর
২৬৮. ধনতান্ত্রিক অর্থব্যবস্থার বৈশিষ্ট্য হলো— (উচ্চতর দক্ষতা)  
র. ব্যক্তিগত উদ্যোগ রর. সরকারি নিয়ন্ত্রণ
- ররর. স্বয়ংক্রিয় দামব্যবস্থা
- নিচের কোনটি সঠিক?  
ক র ও রর ● র ও ররর গ রর ও ররর ঘ র, রর ও ররর
২৬৯. মিশ্র অর্থব্যবস্থার অন্যতম বৈশিষ্ট্য হলো— (উচ্চতর দক্ষতা)  
র. বেসরকারি উদ্যোগ ও স্বাধীনতা
- রর. শোষণহীন সমাজব্যবস্থা  
ররর. সরকারি নিয়ন্ত্রণ ও উদ্যোগ
- নিচের কোনটি সঠিক?  
ক র ও রর খ র ও ররর ● রর ও ররর ঘ র, রর ও ররর

#### অভিন্ন তথ্যভিত্তিক বহুনির্বাচনি প্রশ্নোত্তর

নিচের অনুচ্ছেদটি পড়ে ২৭০ ও ২৭১ নং প্রশ্নের উত্তর দাও :

জনকল্যাণমূলক রাষ্ট্রে সৃষ্টিনীতির মাধ্যমে আয় ও সম্পদের সুখম বণ্টনের ব্যবস্থা থাকা প্রয়োজন। সেজন্য সরকারকে জনকল্যাণের ওপর গুরুত্ব দিয়ে শোষণহীন সমাজব্যবস্থা কয়েম করতে হবে।

২৭০. জনকল্যাণমূলক রাষ্ট্রের জন্য কোন ধরনের অর্থব্যবস্থা উত্তম? (উচ্চতর দক্ষতা)  
● মিশ্র খ ধনতান্ত্রিক

গ ইসলামি ঘ সমাজতান্ত্রিক

২৭১. শোষণহীন সমাজগঠনে পদক্ষেপ হলো— (অনুধাবন)  
র. ধনী দরিদ্র ব্যবধান হ্রাসে সৃষ্টি করনীতি

রর. আইনের শাসন প্রতিষ্ঠা

ররর. আইনশৃঙ্খলা পরিস্থিতির উন্নয়ন

নিচের কোনটি সঠিক?



দ্বিতীয় অধ্যায়  
অর্থনীতির গুরুত্বপূর্ণ ধারণাসমূহ  
সৃজনশীল অংশ

১। শফিকদের বাড়িতে কয়েকজন মেহমান এসেছেন। তার মা তাকে ১০০০/- টাকা দিয়ে কিছু মাছ ও মাংস কিনতে বাজারে পাঠান। সে বাজারে গিয়ে দেখে পুরো টাকা দিয়ে ২ কেজি মাছ অথবা ৪ কেজি মাংস কিনতে পারে। অনেক চিন্তার পর সে ১ কেজি মাছ এবং ২ কেজি মাংস ক্রয় করে।

ক. আয় কী?

খ. শক্তি সম্পদ বলতে কী বোঝায়?

গ. শফিকের মাছ-মাংস ক্রয়ের ধারণাটি চিত্রে উপস্থাপন করে ব্যাখ্যা কর।

ঘ. শফিকের দুটি দ্রব্য নির্বাচনের অর্থনৈতিক তাৎপর্য বিশ্লেষণ কর।

২। হাফিজ তাঁর কথার মাধ্যমে সহজেই মানুষকে উদ্বুদ্ধ করতে পারেন। মানুষকে সংগঠিত করার দক্ষতা তাঁর অপরিসীম। দেশের বিভিন্ন স্থান থেকে আসা মালামাল সংরক্ষণের জন্য সদরঘাটে তার একটি ঘর আছে। এখান থেকে তাঁর কর্মচারীরা তাঁর কথামতো দেশের বিভিন্ন স্থানে মালামাল সরবরাহ করেন।

ক. অর্থনৈতিক দ্রব্য কাকে বলে?

খ. প্রাকৃতিক সম্পদ বলতে কী বোঝায়?

গ. হাফিজের সদরঘাটের ঘরটি অর্থনীতিতে কী ধরনের দ্রব্য? ব্যাখ্যা কর।

ঘ. হাফিজের গুণাবলি কী সম্পদ? উত্তরের স্বপক্ষে যুক্তি দাও।

৩। আবেদ একজন চা বিক্রেতা। শেখাহার বাজারে প্রতিদিন চা বিক্রয় করে জীবিকা নির্বাহ করে। সন্তানেরা প্রতিদিন টিভি দেখার জন্য পানের বাড়িতে যায়। এতে তার মন খারাপ হয়। নির্বাচনের কারণে গত কয়েকদিন ভালো চা বিক্রয় হওয়ায় সন্তানেরা টিভির জন্য বায়না ধরে। সে একটি টিভি ক্রয় করে।

ক. প্রাকৃতিক সম্পদ কী? ১

খ. হস্তান্তরযোগ্যতা বলতে কী বুঝায়? ২

গ. প্রথমদিকে আবেদ টিভি ক্রয় করতে সক্ষম হয়নি কেন? অর্থনীতির ভাষায় তা ব্যাখ্যা কর। ৩

ঘ. উদ্ভিদকে বর্ণিত ক্রয়কৃত টিভিটি কী অর্থনীতিতে সম্পদ? যুক্তিসহ উপস্থাপন কর। ৪

৪। স্বল্পশিক্ষিত শামীমা তার দুই ছেলে ও দুই মেয়ের লালনপালন ও পারিবারিক যাবতীয় কাজ দেখাশুনা করত। তার স্বামী একটি কারখানায় কাজ করত। স্বামীর আকস্মিক মৃত্যুর পর শামীমা আর্থিক সংকট দূর করার জন্য উক্ত কারখানায় কাজে যোগদান করে।

ক. বিনিয়োগ কী? ১

খ. সঞ্চয় বলতে কী বোঝায়? ব্যাখ্যা কর। ২

গ. শামীমা প্রাথমিক পর্যায়ে যে সকল কাজ করত, সেগুলো কোন ধরনের কার্যাবলির অন্তর্ভুক্ত? ব্যাখ্যা কর। ৩

ঘ. দৃশ্যকল্প অনুযায়ী শামীমার পরবর্তী কাজটিই “অর্থনৈতিক কর্মকাণ্ডের মূল প্রেরণা” উক্তিটির যথার্থতা প্রমাণ করে মতামত দাও। ৪

৫। আনোয়ার মিয়র ৫ বিঘা জমি আছে। এই জমিতে ৪০ মণ ধান অথবা ২০ মণ পাট উৎপাদন করতে পারেন। কিন্তু তার দুটোই চাই। এ কারণে তিনি ২০ মণ ধান এবং ১০ মণ পাট উৎপাদনের সিদ্ধান্ত নিয়েছেন।

ক. সুন্দরবনের আয়তন কত? ১

খ. বাংলাদেশের প্রাকৃতিক গ্যাসের অবস্থান, মজুদ ও ব্যবহারের বর্ণনা দাও। ২

গ. আনোয়ার মিয়র ধান-পাট উৎপাদনের ধারণাটি চিত্রে উপস্থাপন করে ব্যাখ্যা কর। ৩

ঘ. আনোয়ার মিয়র দুটি দ্রব্য উৎপাদনের অর্থনৈতিক তাৎপর্য বিশ্লেষণ কর। ৪

৬। রানার লেখা কবিতা সাপ্তাহিক ম্যাগাজিনে প্রকাশিত হওয়ায় বন্ধুরা তার অনেক প্রশংসা করল। রানার বাবাও খুব খুশি হলো এবং তাকে একটি নতুন ড্রেস কিনে দিল। এতে রানা খুব আনন্দিত হলো।

ক. সঞ্চয় কী? ১

খ. অর্থনৈতিক কার্যাবলি কাকে বলে? ব্যাখ্যা কর। ২

গ. রানার বাবা রানাকে যে উপহারটি দেয় সেটি অর্থনীতিতে কী ধরনের দ্রব্য? ব্যাখ্যা কর। ৩

ঘ. রানার কাজটি কী সম্পদ? তোমার উত্তরের স্বপক্ষে যুক্তি দাও। ৪

৭। রূপগঞ্জ উপজেলার মেধাবী ছাত্র জহির খান ঢাকা বিশ্ববিদ্যালয় বাংলা বিভাগ থেকে এমএ পাস করেন। তিনি বহুমুখী গুণসম্পন্ন একজন মানুষ। তবে কবিতা লেখায় তিনি অত্যন্ত পারদর্শী। বিশ্ববিদ্যালয়ের বার্ষিক কবিতা উৎসবে তিনি বরাবরই প্রথম হতেন। একটি বেসরকারি উচ্চ মাধ্যমিক বিদ্যালয়ে প্রভাষক হিসেবে তিনি কর্মজীবন শুরু করেন। পরবর্তীতে নিজ উদ্যোগে রূপগঞ্জে একটি কলেজ স্থাপন করে স্থায়ীভাবে সবার দৃষ্টি ও মনে স্থান করে নেন।

ক. অর্থনীতিতে সম্পদ কী? ১

খ. সম্পদের একটি প্রধান বৈশিষ্ট্য ব্যাখ্যা কর। ২

গ. জহির খানের কবিতা লেখার পারদর্শিতা কোন ধরনের সম্পদ? ব্যাখ্যা কর। ৩

ঘ. ‘জহির খানের স্থাপিত কলেজটি একটি উৎপাদিত সম্পদ’- মন্তব্যটির সত্যতা যাচাই কর। ৪

৮। মি. শিহাব একটি খাবার হোটেলের মালিক। এটি পুরনো ঢাকার নাজিম উদ্দিন রোডে অবস্থিত। তার হোটেলের খাবারের গুণগত মান এবং সার্বিক পরিবেশ অত্যন্ত ভালো। ঢাকার এই অঞ্চলে মি. শিহাব সততা এবং সুনামের সাথে প্রায় ২০ বছর ধরে ব্যবসা চালিয়ে আসছেন। এ সময়ের মধ্যে ব্যবসা করে মি. শিহাব তার সম্পদের বৃদ্ধি ঘটিয়েছেন। বর্তমানে তার হোটеле প্রায় ৪০ জন লোক কাজ করে। মি. শিহাবের যে সম্পদ রয়েছে তা ব্যবহার করে তিনি তার হোটেল ব্যবসাকে আরো প্রসারিত করতে চান।

ক. উৎপত্তির দিক থেকে সম্পদ কত প্রকার? ১

খ. ব্যক্তিগত সম্পদ বলতে কী বোঝায়? ২

গ. অর্থনৈতিক সম্পদের বৈশিষ্ট্যের আলোকে শিহাব সাহেবের ব্যবসার সুনাম ব্যাখ্যা কর। ৩

ঘ. মি. শিহাবের খাবারের হোটেল কি অর্থনৈতিক সম্পদ? উত্তরের পক্ষে যুক্তি দাও। ৪

৯। সীমার ‘মা’ একজন নার্স। তিনি একটি শিশু হাসপাতালে কাজ করেন। দিন শেষে বাড়ি ফিরে এসে তার দুই মেয়ে সীমা ও রীমাকে দেখাশোনা করেন।

ক. মজুরি কী? ১

খ. সঞ্চয় ও বিনিয়োগের মধ্যে পার্থক্য ব্যাখ্যা কর। ২

গ. সীমার মায়ের পেশাটি কী ধরনের কাজ? ব্যাখ্যা কর। ৩

ঘ. সীমার মায়ের সন্তানদের দেখাশোনা করা এবং হাসপাতালে শিশুদের দেখাশোনা করার মাঝে কোনো পার্থক্য আছে কি? যৌক্তিক মতামত প্রদান কর। ৪

১০। আলম একজন হোটেলের মালিক। তার হোটেলে রান্নার কাজে গ্যাস ব্যবহার করা হয়। যখন ভোক্তারা হোটেলে চা-নাজা খান তখন গ্যাসের চুলা চালু করেন। ভোক্তা না থাকলে চুলা বন্ধ রাখেন। আলম কোনোভাবেই তার অপচয় করতে চান না। তিনি মনে করেন, গ্যাসের অপচয়রোধের জন্য প্রয়োজন তার যথাযথ ও সচেতন ব্যবহার।

ক. প্রাকৃতিক সম্পদ কী? ১

খ. খনিজ সম্পদ বলতে কী বোঝায়? ২

গ. আলম যে সম্পদটির অপচয় রোধে সচেতন সেটি বাংলাদেশের কোন ধরনের সম্পদ? ব্যাখ্যা কর। ৩

ঘ. বাংলাদেশে উক্ত প্রকৃতির সম্পদের মধ্যে আলমের ব্যবহৃত সম্পদটি ছাড়া আরও কোনো সম্পদ আছে কি? উত্তরের পক্ষে যুক্তি দাও। ৪

১১। আহসান দীর্ঘদিন যাবৎ একটি প্রাইভেট কোম্পানিতে চাকরি করেন। এখান থেকে তিনি প্রতি মাসে ২০,০০০ টাকা বেতন পান। এই বেতনের টাকা থেকে তিনি ৮,০০০ টাকা ব্যাংকে জমা রাখেন এবং ১২,০০০ টাকা খরচ করেন। তার বাবা কিছুদিন আগে ১ লাখ টাকা ব্যয়ে একটি মৎস্য প্রজেক্ট হাতে নেন। আহসান তার ব্যাংকে জমাকৃত টাকা থেকে বাবার প্রজেক্টে এক লাখ টাকা খরচ করেন। তার বিশ্বাস এতে তার বাবার প্রজেক্টের মৎস্য উৎপাদন বাড়বে।

ক. আয় কী? ১

খ. পানিকে মৌলিক সম্পদ বলা হয় কেন? ২

গ. আহসানের ব্যাংকে টাকা জমানোকে অর্থনীতির ভাষায় কী বলে? ব্যাখ্যা কর। ৩

ঘ. বাবার প্রজেক্টে আহসানের টাকা খরচ করাকে বিনিয়োগ বলা যায় কি? এর পক্ষে যুক্তি উপস্থাপন কর।

#### সাধারণ বহুনির্বাচনি প্রশ্নোত্তর

১. বাংলাদেশের কয়টি ক্ষেত্র থেকে গ্যাস উত্তোলন করা হয়? [স. বো. '১৬]  
ক ১৩ খ ১৮ ● ১৯ ঘ ২৩
২. অর্থনৈতিক কাজ কোনটি? [স. বো. '১৬]  
ক ভিক্ষার মাধ্যমে অর্থ উপার্জন ● শ্রমিকের কারখানার কাজ  
গ সন্তানের পরিচর্যা ঘ শখ করে বাগান করা
৩. জাতীয় আয়ের কত ভাগ কৃষি থেকে আসে? [স. বো. '১৬]  
● ১৩% খ ১৭% গ ২১% ঘ ২৫%
৪. সুন্দরবনের আয়তন কত? [স. বো. '১৬]  
ক প্রায় ৫,০১৭ বর্গ কি.মি. ● প্রায় ৬,০১৭ বর্গ কি.মি.  
গ প্রায় ৭,০১৭ বর্গ কি.মি. ঘ প্রায় ৮,০১৭ বর্গ কি.মি.
৫. কোন দ্বীপে গন্ধক পাওয়ার সম্ভাবনা দেখা গিয়েছে? [স. বো. '১৬]  
ক সেন্টমার্টিন দ্বীপ খ নিরুমা দ্বীপ  
● কুতুবদিয়া দ্বীপ ঘ মনপুরা দ্বীপ

৬. সরকার ও জনগণের মালিকানাধীন সম্পদকে কী বলে? [স. বো. '১৫]  
ক ব্যক্তিগত ● জাতীয় গ সমষ্টিগত ঘ আন্তর্জাতিক

৭. শারীরিক যোগ্যতা কোন ধরনের সম্পদ? [স. বো. '১৫]  
ক ব্যক্তিগত খ প্রাকৃতিক গ সমষ্টিগত ● মানবিক

৮. সিলেটের বনভূমির আয়তন কত? [স. বো. '১৫]  
ক ৮৪০ বর্গ কি.মি. খ ৯৪০ বর্গ কি.মি.  
● ১০৪০ বর্গ কি.মি. ঘ ১১৪০ বর্গ কি.মি.

৯. কোনটি বহুগত সম্পদ? [বি এ এফ শাহীন কলেজ, চট্টগ্রাম]  
ক সুনাম ● টিভি

গ সততা ঘ আসবাবপত্র

১০. কোনটি অবহুগত সম্পদ? [বি এ এফ শাহীন কলেজ, চট্টগ্রাম]  
● ডাক্তারের সেবা খ টিভি  
গ বাড়ি ঘ কলম

১১. বিশ্বকবি রবীন্দ্রনাথ ঠাকুর তার প্রতিভার প্রমাণ করেন গীতাঞ্জলি কাব্য রচনার মাধ্যমে। এরপর তার সুনাম বিশ্বব্যাপী ছড়িয়ে পড়ে। এখানে সম্পদ কোনটি? [গণবিদ্যা নিকেতন উচ্চ বিদ্যালয়, নারায়ণগঞ্জ]  
ক প্রতিভা ● গীতাঞ্জলি  
গ সুনাম ঘ তাঁর নাম

১২. উৎপত্তির ভিত্তিতে সম্পদকে কয়ভাগে ভাগ করা যায়?  
[সরকারি হরিচন্দ্র বালিকা উচ্চ বিদ্যালয়, বালকাঠি]  
ক ২ ● ৩ গ ৪ ঘ ৫

১৩. কোনটি প্রাকৃতিক সম্পদ? [হলিক্রস বালিকা উচ্চ বিদ্যালয়, ঢাকা]  
● খনিজ সম্পদ খ মানুষের শরীর  
গ স্বাস্থ্য কেন্দ্র ঘ সেচ ব্যবস্থা

১৪. প্রাকৃতিক ও মানবিক সম্পদ কাজে লাগিয়ে কোন সম্পদ সৃষ্টি করা যায়? [মধুপুর শহীদ স্মৃতি উচ্চ ক প্রাকৃতিক সম্পদ  
খ জাতীয় সম্পদ  
● উৎপাদিত সম্পদ ঘ ব্যক্তিগত সম্পদ

১৫. কোনটি উৎপাদিত সম্পদ? [বি এ এফ শাহীন কলেজ, চট্টগ্রাম]  
● যোগাযোগ ব্যবস্থা খ নদনদী  
গ ভূমি ঘ আবহাওয়া

১৬. কোনটি মনুষ্যসৃষ্ট সম্পদ? [পাবনা সরকারি বালিকা উচ্চ বিদ্যালয়; স্বরূপকাঠি কলেজিয়েট একাডেমি]  
ক বনভূমি ● স্বাস্থ্যকেন্দ্র  
গ খনিজ সম্পদ ঘ সংগঠন ক্ষমতা

১৭. বাংলাদেশের প্রধান খনিজ সম্পদ কী? [হলিক্রস উচ্চ বালিকা বিদ্যালয়, ঢাকা]  
ক কয়লা খ খনিজ তেল  
● প্রাকৃতিক গ্যাস ঘ চূনাপাথর

১৮. বাংলাদেশে এ পর্যন্ত কয়টি গ্যাসক্ষেত্র আবিষ্কৃত হয়েছে? [বরিশাল জিলা স্কুল]  
ক ২০ খ ২১ গ ২২ ● ২৫

১৯. বাংলাদেশের ২৫টি গ্যাস ক্ষেত্রে গ্যাস মজুদের পরিমাণ কত? [কামরুল্লাহ সরকারি বালিকা উচ্চ বিদ্যালয়, ঢাকা]

- ১৬ বিলিয়ন ঘনফুট                      খ ২০ ট্রিলিয়ন ঘনফুট  
গ ২২ ট্রিলিয়ন ঘনফুট                      ঘ ২৫ বিলিয়ন ঘনফুট
২০. কোন শিল্পে প্রাকৃতিক গ্যাস কাঁচামাল হিসেবে ব্যবহৃত হয়?  
[শিশুকুঞ্জ স্কুল এন্ড কলেজ, বিনাইদহ; বর্ডার গার্ড পাবলিক স্কুল, সিলেট]
- রাসায়নিক সার                      খ প্লাস্টিক  
গ সিমেন্ট                      ঘ দিয়াশলাই
২১. কাগজ উৎপাদনে কী ব্যবহৃত হয়?                      [দিনাজপুর সেন্ট ফিলিপস স্কুল]  
ক চীনা মাটি                      খ কঠিন শিলা                      গ গন্ধক                      ● চূনা পাথর
২২. বাংলাদেশের কোন জেলায় চূনা পাথরের মজুদ রয়েছে?  
[বিএএফ শাহীন কলেজ, চট্টগ্রাম]
- জয়পুরহাট                      খ ফেনী                      গ নেত্রকোনা                      ঘ খুলনা
২৩. বাংলাদেশে চূনা পাথর কোথায় মজুদ রয়েছে?  
[বি কে জি সি বালিকা উচ্চ বিদ্যালয়, হবিগঞ্জ]
- ক মধ্যপাড়া                      খ বিজয়পুরে  
গ বড় পুকুরিয়া                      ● সেন্টমার্টিন দ্বীপে
২৪. পত্নীতলায় কোন খনিজ দ্রব্য মজুদ রয়েছে? [বি এ এফ শাহীন কলেজ, চট্টগ্রাম]  
ক চূনা পাথর                      ● চীনা মাটি                      গ গন্ধক                      ঘ সিলিকা বালু
২৫. বড়পুকুরিয়া কয়লাখনি কোন জেলায় অবস্থিত?                      [কুমিল্লা জিলা স্কুল]  
ক গাইবান্ধা                      খ লালমনিরহাট
- দিনাজপুর                      ঘ জয়পুরহাট
২৬. সম্প্রতি কোন অঞ্চলে কয়লা উত্তোলন করা হচ্ছে?  
[হলিক্রস উচ্চ বালিকা বিদ্যালয়, ঢাকা]
- দিনাজপুরের বড়পুকুরিয়া                      খ সিলেটের হরিপুরে  
গ চট্টগ্রামের সেন্টমার্টিনে                      ঘ দিনাজপুরের মধ্যপাড়া
২৭. গন্ধক ব্যবহৃত হয় কোনটিতে?                      [গণ বিদ্যানিকেতন উচ্চ বিদ্যালয়]  
● দিয়াশলাইয়ে খ কয়লায়                      গ তামায়                      ঘ চূনা পাথরে
২৮. সম্প্রতি কোথায় খনিজ তেল পাওয়া গেছে?  
[বি কে জি সি সরকারি বালিক উচ্চ বিদ্যালয়, হবিগঞ্জ]
- সিলেটের হরিপুরে                      খ শাহজিবাজারে  
গ তামাবিল                      ঘ কুতুবদিয়া দ্বীপে
২৯. প্রাকৃতিক ও পরিবেশগত অবস্থা ভালো রাখার জন্য দেশের ভূখণ্ডের  
কমপক্ষে শতকরা কত ভাগ বনাঞ্চল থাকা দরকার?  
[কামরুল্লাহ সরকারি বালিকা উচ্চ বিদ্যালয়, ঢাকা]
- ক ১৭                      খ ২১                      গ ২২                      ● ২৫
৩০. জাপানে বনভূমির পরিমাণ মোট ভূখণ্ডের কত ভাগ?  
[সাতক্ষীরা সরকারি বালিকা উচ্চ বিদ্যালয়]
- ক ২৫%                      খ ৩৫%                      গ ৩৪%                      ● ৬৩%

৩১. জাপান ও বার্মার কোন অবস্থা ভালো থাকার সম্ভাবনা রয়েছে?  
[সেন্ট ফ্রান্সিস হাইস্কুল, ঢাকা]
- ক সামাজিক                      খ ধর্মীয়  
● প্রাকৃতিক ও পরিবেশগত                      ঘ ভৌগোলিক
৩২. নিচের কোনটি সুন্দরবনে পাওয়া যায়? [হলিক্রস বালিকা উচ্চ বিদ্যালয়, ঢাকা]  
ক গর্জন                      খ গামারি                      ● গরান                      ঘ সেগুন
৩৩. 'বাইন' কোন বনভূমির বৃক্ষ?                      [বি এ এফ শাহীন কলেজ, চট্টগ্রাম]  
● সুন্দরবন                      খ চট্টগ্রাম ও পার্বত্য চট্টগ্রামের বনভূমি  
গ সিলেটের বনভূমি                      ঘ বরেন্দ্র বনভূমি
৩৪. বাংলাদেশের চট্টগ্রাম ও পার্বত্য চট্টগ্রামের বনভূমির আয়তন কত?  
[গাজীপুর ক্যান্টনমেন্ট বোর্ড বালিকা উচ্চ বিদ্যালয়]
- ক ১৪,৩৩৩ বর্গকিলোমিটার                      ● ১৫,৩৩৩ বর্গকিলোমিটার  
গ ১৬,৩৩৩ বর্গকিলোমিটার                      ঘ ১৭,৩৩৩ বর্গকিলোমিটার
৩৫. নিচের কোন উৎস থেকে বাংলাদেশে এখনো শক্তির উৎপাদন শুরু করা  
সম্ভব হয়নি?                      [নড়াইল সরকারি উচ্চ বিদ্যালয়]  
ক কয়লা                      খ খনিজ তেল                      গ পানি                      ● আণবিক  
শক্তি
৩৬. বাংলাদেশের একমাত্র পানি বিদ্যুৎ উৎপাদন কেন্দ্রটি কোন নদীর তীরে  
অবস্থিত?                      [দি বাডস রেসিডেন্সিয়াল মডেল স্কুল এন্ড কলেজ, শ্রীমঙ্গল]  
ক মেঘনা                      খ নাফ                      ● কর্ণফুলি                      ঘ সাজু
৩৭. গ্যাস, তেল ও কয়লার সাহায্যে যে বিদ্যুৎ উৎপন্ন হয় তাকে কী বলে?  
[ভিকারুননি নূন স্কুল এন্ড কলেজ, ঢাকা]
- ক পানি বিদ্যুৎ                      ● তাপ বিদ্যুৎ                      গ চল বিদ্যুৎ                      ঘ স্থির বিদ্যুৎ
৩৮. বাংলাদেশের কোন বিদ্যুৎ কেন্দ্রে খনিজ তেল জ্বালানি হিসেবে ব্যবহৃত  
হয়?                      [বর্ডার গার্ড পাবলিক স্কুল, সিলেট]  
ক সিদ্ধিরগঞ্জ তাপবিদ্যুৎ                      খ ঘোড়াশাল তাপবিদ্যুৎ  
গ চট্টগ্রাম তাপবিদ্যুৎ                      ● ভেড়ামারা তাপবিদ্যুৎ
৩৯. বাংলাদেশের কোন বিদ্যুৎ কেন্দ্রে খনিজ তেল ব্যবহৃত হয়?  
[হলিক্রস উচ্চ বালিকা বিদ্যালয়, ঢাকা]
- ঠাকুরগাঁও তাপবিদ্যুৎ                      খ ঘোড়াশাল তাপবিদ্যুৎ  
গ চট্টগ্রাম তাপ বিদ্যুৎ                      ঘ শাহজীবাজার তাপবিদ্যুৎ
৪০. বাংলাদেশে গ্যাসচালিত বিদ্যুৎকেন্দ্র কয়টি? [বিএএফ শাহীন কলেজ, ঢাকা]  
ক ৮                      খ ১০                      গ ৭                      ● ৫
৪১. আশুগঞ্জ তাপবিদ্যুৎ কেন্দ্র কোথায় অবস্থিত? [পঞ্চগড় বিপি সরকারি উচ্চ বিদ্যালয়]  
ক কুষ্টিয়া                      ● ব্রাহ্মণবাড়িয়া                      গ সিলেট                      ঘ নরসিংদী
৪২. আধুনিক বিশ্ব কোন শক্তির ওপর বিশেষ গুরুত্ব দিয়েছে?  
[সেন্ট যোসেফস হাইস্কুল, খুলনা]
- ক প্রাকৃতিক গ্যাস                      খ সৌরতাপ  
গ জৈব গ্যাস                      ● আণবিক
৪৩. বাংলাদেশে পানির উৎস প্রধানত কতটি?

[ক্যান্টনমেন্ট পাবলিক স্কুল এন্ড কলেজ, রংপুর]

- ক ২ ● ৩ গ ৪ ঘ ৫
৪৪. সমষ্টিগত সম্পদ কোনটি? [গাজীপুর ক্যান্টনমেন্ট বোর্ড উচ্চ বিদ্যালয়]  
ক পানি সম্পদ খ সাগর ● হাসপাতাল ঘ ঘরবাড়ি
৪৫. মানুষের অভাব মিটানোর ক্ষমতাসম্পন্ন বস্তুগত ও অবস্তুগত সব জিনিসকে আমরা কী বলে থাকি?  
[কাদিরাবাদ কান্দির পাবলিক স্কুল এন্ড কলেজ, নাটোর]
- অর্থনৈতিক দ্রব্য খ অভিজাত দ্রব্য  
গ মূলধনী দ্রব্য ঘ মধ্যবর্তী দ্রব্য
৪৬. যেসব দ্রব্য বিনা পরিশ্রমে এবং বিনামূল্যে পাওয়া যায় তাকে কী বলে?  
[বিএএফ শাহীন কলেজ, চট্টগ্রাম]
- অবাধলভ্য দ্রব্য খ স্থায়ী ভোগ্য দ্রব্য  
গ অস্থায়ী ভোগ্য দ্রব্য ঘ অর্থনৈতিক দ্রব্য
৪৭. কোনটি অর্থনৈতিক দ্রব্য? [হলিক্রস উচ্চ বালিকা বিদ্যালয়, ঢাকা]  
● টেবিল খ আলো  
গ বাতাস ঘ সুনাম
৪৮. নিচের কোনটি অস্থায়ী দ্রব্য? [হলিক্রস উচ্চ বালিকা বিদ্যালয়, ঢাকা]  
ক জমি খ বাড়ি  
গ বাতাস ● খাদ্য
৪৯. নিচের কোনটি মধ্যবর্তী দ্রব্য? [বি এ এফ শাহীন কলেজ, চট্টগ্রাম]  
ক গম ● রসগোল্লা তৈরির জন্য দুধ চিনি  
গ রুটি ঘ ভাত
৫০. রসগোল্লা তৈরিতে দুধ ও চিনি ব্যবহার করা হয়। এখানে দুধ ও চিনি কোন দ্রব্যের উদাহরণ? [পঞ্চগড় বিপি সরকারি উচ্চ বিদ্যালয়]  
ক মূলধনী খ স্থায়ী ভোগ্য গ অবাধলভ্য ● মধ্যবর্তী
৫১. চেয়ার কোন জাতীয় দ্রব্য? [বগুড়া জিলা স্কুল]  
ক অস্থায়ী ● চূড়ান্ত গ স্থায়ী ঘ অবাধলভ্য
৫২. ভোগ ব্যয়ের পরে আয়ের যে অংশ অবশিষ্ট থাকে তাকে কী বলে?  
[পাবনা সরকারি বালিক উচ্চ বিদ্যালয়]
- সঞ্চয় খ বিনিয়োগ গ মজুদ ঘ মূলধন
৫৩. আয় ও ভোগ ব্যয়ের মধ্যে পার্থক্যকে কী বলে?  
[বি কে জি সি সরকারি বালিকা উচ্চ বিদ্যালয়, হবগিঞ্জ]
- ক বিনিয়োগ খ মূলধন ● সঞ্চয় ঘ সুদ
৫৪. বিনিয়োগের ভিত্তি কী? [ভিকারুননিসা নূন স্কুল এন্ড কলেজ, ঢাকা]  
ক আয় ● সঞ্চয় গ মূলধন ঘ ব্যয়
৫৫. সঞ্চিত অর্থ যখন উৎপাদন বাড়ানোর কাজে ব্যবহৃত হয় তখন তাকে কী বলে?  
[বি কে জি সি সরকারি বালিকা উচ্চ বিদ্যালয়, হবগিঞ্জ]  
ক মূলধন খ সঞ্চয় ● বিনিয়োগ ঘ আয়
৫৬. কীসের মাধ্যমে উৎপাদনের পরিমাণ বাড়ে? [বি এ এফ শাহীন কলেজ, চট্টগ্রাম]  
● বিনিয়োগ খ মূলধন গ সঞ্চয় ঘ মুনাফা
৫৭. সজীব একজন কৃষক। তার কোন কাজটি অর্থনৈতিক কাজ হিসেবে গণ্য হবে?  
[ভোলা সরকারি বালিকা উচ্চ বিদ্যালয়; নীলফামারী সরকারি উচ্চ বিদ্যালয়]
- ক অফিসে যাতায়াত করা খ পরের ক্ষেতের ধান কেটে আনা

● ধান চাষ করা ঘ ক্ষেতে কাজ না করে বিশ্রাম করা

৫৮. কোনটি কৃষিবহির্ভূত কাজ? [পঞ্চগড় সরকারি বালিকা উচ্চ বিদ্যালয়]  
● মাটির পুতুল তৈরি খ ফলমূল উৎপাদন  
গ সার ছিটানো ঘ মাছ ধরা

বহুপদী সমাঙ্গিসূচক বহুনির্বাচনি প্রশ্নোত্তর

৫৯. অবাধলভ্য দ্রব্যের বৈশিষ্ট্য হলো—[বালকাঠি সরকারি হরচন্দ্র বালিকা উচ্চ বিদ্যালয়]  
র. যোগান সীমাহীন  
রর. প্রকৃতিতে অবাধে পাওয়া যায়  
ররর. অর্থব্যয় করার প্রয়োজন হয় না  
নিচের কোনটি সঠিক?  
ক র ও রর খ র ও ররর গ রর ও ররর ● র, রর ও ররর
৬০. মধ্যবর্তী দ্রব্য হলো— [কদমতলা পূর্ব বাসাবো স্কুল, ঢাকা]  
র. দুধ ও চিনি  
রর. ভাত ও রুটি  
ররর. আটা ও ময়দা  
নিচের কোনটি সঠিক?  
ক র ও রর ● র ও ররর গ রর ও ররর ঘ র, রর ও ররর
৬১. বাংলাদেশে কয়লা পাওয়া যায়— [বীরশ্রেষ্ঠ মুন্সী আব্দুর রউফ পাবলিক কলেজ, ঢাকা]  
র. জয়পুরহাটে  
রর. রংপুরে  
ররর. দিনাজপুর  
নিচের কোনটি সঠিক?  
ক র ও রর ● র ও ররর গ রর ও ররর ঘ র, রর ও ররর
৬২. খনিজ তেল পাওয়া যায়— [বি এ এফ শাহীন কলেজ, চট্টগ্রাম]  
র. বাখরাবাদ  
রর. হরিপুর  
ররর. জয়পুরহাট  
নিচের কোনটি সঠিক?  
ক র ● রর গ ররর ঘ র, রর ও ররর
৬৩. বাংলাদেশের বনভূমিকে ভাগ করা হয়—[বীরশ্রেষ্ঠ মুন্সী আব্দুর রউফ পাবলিক কলেজ, ঢাকা]  
পাবলিক কলেজ, ঢাকা; মধুপুর শহীদ স্মৃতি উচ্চ মাধ্যমিক বিদ্যালয়, টাঙ্গাইল; স্বরূপকাঠি কলেজিয়েট একাডেমি]  
র. চট্টগ্রাম ও পার্বত্য চট্টগ্রামের বনভূমি  
রর. সিলেটের বনভূমি  
ররর. রাজশাহীর বনভূমি



নিচের কোনটি সঠিক?

- র ও রর    খ র ও ররর    গ রর ও ররর    ঘ র, রর ও ররর

৬৪. সুন্দরবনে পাওয়া যায়- [বর্ডার গার্ড পাবলিক স্কুল, সিলেট]  
র. রয়েল বেঙ্গল টাইগার

রর. মধু ও গোলপাতা

ররর. সেগুন, গর্জন ও গামারি

নিচের কোনটি সঠিক?

- র ও রর    খ র ও ররর    গ রর ও ররর    ঘ র, রর ও ররর

৬৫. যে সম্পদের অস্তিত্ব রক্ষা ও উন্নয়নের জন্য পানির প্রয়োজন-  
[ভিকারুননিসা নূন স্কুল এন্ড কলেজ, ঢাকা]

র. বনজ সম্পদ

রর. কৃষি সম্পদ

ররর. প্রাণিজ ও শক্তি সম্পদ

নিচের কোনটি সঠিক?

- ক র ও রর    খ র ও ররর    গ রর ও ররর    ● র, রর ও ররর

৬৬. অর্থনৈতিক কাজ হলো- [আলহেরা একাডেমি স্কুল এন্ড কলেজ, পাবনা]  
র. শখের বশে খেলাধুলা করা

রর. কৃষকের জমিতে কাজ করা

ররর. শ্রমিকের কলকারখানায় কাজ করা

নিচের কোনটি সঠিক?

- ক র ও রর    খ র ও ররর    ● রর ও ররর    ঘ র, রর ও ররর

### অভিন্ন তথ্যভিত্তিক বহুনির্বাচনি প্রশ্নোত্তর

নিচের অনুচ্ছেদটি পড়ে ৬৭ ও ৬৮ নং প্রশ্নের উত্তর দাও :

বাংলাদেশের মানুষজন কেন সৌদি আরবে কাজ করতে যায়? এ প্রশ্নটি রাইমা তার বাবাকে করেছিল। বাবা উত্তরে বলেছিলেন, ওখানে প্রচুর খনিজ তেল আছে বিধায় ঐ দেশটি ধনী। বাবা আরও বলেন, তবে আমাদেরও তেল ছাড়া এ ধরনের আরও অনেক সম্পদ রয়েছে।

৬৭. সৌদি আরবের সম্পদটি কোন ধরনের সম্পদ?  
[বি এ এফ শাহীন কলেজ, চট্টগ্রাম]

ক কৃত্রিম    ● প্রাকৃতিক

গ রাসায়নিক    ঘ তেজস্ক্রিয়

৬৮. এ ধরনের সম্পদ পরিকল্পিতভাবে ব্যবহার করলে দেশের-  
র. আন্তর্জাতিক উন্নয়ন হবে

রর. অর্থনৈতিক উন্নয়ন হবে

ররর. সামাজিক উন্নয়ন হবে

নিচের কোনটি সঠিক?

- ক র ও রর    খ র ও ররর    ● রর ও ররর    ঘ র, রর ও ররর

নিচের অনুচ্ছেদটি পড়ে ৬৯ ও ৭০ নং প্রশ্নের উত্তর দাও :

জালাল মিয়া একজন কৃষক। তার জমির পরিমাণ পাঁচ বিঘা। এই জমিতে সে ধান উৎপাদন করে। কিন্তু গত তিন বছর ধরে পাটের দাম বেশি হওয়ায় সে ঐ জমিতে ধান উৎপাদন না করে পাট উৎপাদন করে।

৬৯. অনুচ্ছেদে কোন ধারণাটি প্রতিফলিত হয়েছে?  
[প্রেসিডেন্ট প্রফেসর ড. ইয়াজউদ্দিন আহমেদ রেসি. মডেল স্কুল এন্ড কলেজ, মুন্সীগঞ্জ]

● সুযোগ ব্যয়    খ শ্রম বিভাগ

গ উৎপাদন    ঘ মুনাফা

৭০. এই ধারণাটি হলো-  
র. প্রকৃত হিসাব

রর. আপেক্ষিক হিসাব

ররর. মানসিক হিসাব

নিচের কোনটি সঠিক?

- ক র ও রর    খ র ও ররর    ● রর ও ররর    ঘ র, রর ও ররর

■ বিষয়ক্রম অনুযায়ী বহুনির্বাচনি প্রশ্নোত্তর

➔ ২.১ : অর্থনৈতিক সম্পদ ➔

- অর্থনীতিতে সম্পদের বৈশিষ্ট্য- ৪টি।
- উপযোগ বলতে বোঝায়- অভাব পূরণের ক্ষমতাকে।
- উৎপত্তির দিক হতে সম্পদের শ্রেণিবিভাগ- ৩টি।
- মানবীয় যোগ্যতা ও দক্ষতাকে বলা হয়- মানবিক সম্পদ।
- উৎপাদিত সম্পদের উদাহরণ- কাঁচামাল ও কলকারখানা।
- একজন কবির সৃষ্টিশীল ক্ষমতা হলো- মানবিক সম্পদ।
- বাংলাদেশ একটি- কৃষিপ্রধান দেশ।
- পরিবেশের ভারসাম্য রক্ষার জন্য প্রয়োজন- বনাঞ্চল।
- একটি দেশের মোট ভূখণ্ডে বনাঞ্চল থাকা দরকার- ২৫ ভাগ।

### সাধারণ বহুনির্বাচনি প্রশ্নোত্তর

৭১. অর্থনীতিতে কোনো দ্রব্যকে সম্পদ হিসেবে বিবেচনা করার জন্য কয়টি বৈশিষ্ট্য থাকা আবশ্যিক? (জ্ঞান)

ক ৫    ● ৪    গ ৩    ঘ ২

৭২. কোনো দ্রব্যের অভাব মোচনের ক্ষমতাকে কী বলে? (জ্ঞান)

● উপযোগ    খ চাহিদা    গ ভোগ    ঘ উৎপাদন

৭৩. উপযোগহীন দ্রব্যের ক্ষেত্রে কোনটি সঠিক? (অনুধাবন)

ক বাজারে চাহিদা বেশি    খ মানুষ কম দামে কিনে

গ বাজারে চাহিদা অপেক্ষাকৃত কম ● মানুষ অর্থ দিয়ে কিনে না	ক ৮০ ● ৭৫	গ ৭২	ঘ ৭০
৭৪. অপ্রাচুর্যতা কথাটির অর্থ কী? (অনুধাবন) ক যোগানের তুলনায় চাহিদা সীমাবদ্ধ ● চাহিদার তুলনায় যোগান সীমাবদ্ধ	৮৯. জাতীয় আয়ের কতভাগ কৃষি থেকে আসে? (জ্ঞান) ক ১০ ● ১৩	গ ২২	ঘ ২৩
গ সম্পদের পরিমাণ অসীম	ঘ সম্পদের পরিমাণ সসীম	৯০. বিগ্গচিং পাউডার উৎপাদনে কোনটি ব্যবহৃত হয়? (জ্ঞান) ক সিলিকা বালু খ গন্ধক ● চূনাপাথর	ঘ তামা
৭৫. আলো, বাতাস সম্পদ হওয়ার অযোগ্য কেন? (অনুধাবন) ক চাহিদার তুলনায় যোগান পর্যাপ্ত খ চাহিদা ও যোগান অপরিাপ্ত	৯১. সিমেন্ট তৈরিতে ব্যবহৃত হয় কোনটি? (জ্ঞান) ক চীনা মাটি ● চূনাপাথর	গ লোহা	ঘ স্যানিটারি দ্রব্য
● চাহিদার তুলনায় যোগান সীমাবদ্ধ নয় যোগানের তুলনায় চাহিদা পর্যাপ্ত	৯২. টেকেরহাট কোন জেলায় অবস্থিত? (জ্ঞান) ক সিলেট ● সুনামগঞ্জ	গ বাগেরহাট	ঘ কুমিল্লা
৭৬. মেসব দ্রব্যের মালিকানা বদল বা পরিবর্তন করা যায় তাকে কী বলে? (অনুধাবন) ক উপযোগ ● সম্পদ	গ চাহিদা	ঘ দ্রব্য	৯৩. বাংলাদেশের কোথায় চীনা মাটির মজুদ রয়েছে? (জ্ঞান) ● বিজয়পুর খ জয়পুর
৭৭. কবি ফেরদৌসী তাঁর কাব্য প্রতিভার দ্বারা বিখ্যাত কাব্য 'শাহনামা' রচনা করেন। কবির কাব্য প্রতিভা সম্পদ নয় কেন? (উচ্চতর দক্ষতা) ● হস্তান্তরযোগ্যতার অভাবে	খ যোগানের অভাবে	গ উপযোগের অভাবে	ঘ প্রাচুর্যতার অভাবে
৭৮. বাহ্যিকতা কীসের বৈশিষ্ট্য? (অনুধাবন) ● সম্পদের খ উপযোগের	গ অভাবের	ঘ ব্যক্তির	৯৪. বাংলাদেশের কোন জেলায় চীনা মাটির মজুদ রয়েছে? (জ্ঞান) ক রংপুর খ কুড়িগ্রাম ● নওগাঁ
৭৯. নিচের কোনটি সম্পদ বহির্ভূত? (অনুধাবন) ক যন্ত্রপাতি	খ খনিজ দ্রব্য	৯৫. বাসনপত্র তৈরিতে কোনটি ব্যবহৃত হয়? (জ্ঞান) ক কয়লা খ কঠিন শিলা ● চীনা মাটি	ঘ চূনাপাথর
● শিক্ষকের দক্ষতা	ঘ কবির কাব্যগ্রন্থ	৯৬. বাংলাদেশের কোথায় কঠিন শিলা মজুদ রয়েছে? ক ভাঙারহাট ● রাণীপুর	গ বিজয়পুর
৮০. কোনটি প্রাকৃতিক সম্পদের অন্তর্ভুক্ত? ক উদ্যোগ খ প্রতিভা	গ দক্ষতা ● ভূমি	৯৭. রেলপথ নির্মাণে কোনটি ব্যবহৃত হয়? ক চূনাপাথর খ নুড়িপাথর	গ আগ্নেয়শিলা ● কঠিন শিলা
৮১. কোনটি প্রাকৃতিক সম্পদ? ● বনভূমি খ প্রতিভা	গ উদ্যোগ	ঘ দক্ষতা	৯৮. বাঁধ নির্মাণে ব্যবহার হয় কোনটি? ● কঠিন শিলা খ তামা
৮২. মানবিক সম্পদ কোনটি? ● প্রতিভা	খ বনভূমি	৯৯. কোথায় সিলিকা বালু পাওয়া যায়? ক দিনাজপুর খ রংপুর	গ গাইবান্ধা ● জামালপুর
গ কলকারকানা	ঘ সেচ ব্যবস্থা	১০০. কাচ তৈরির প্রধান উপাদান কোনটি? ক গন্ধক খ তামা	গ কয়লা ● সিলিকা বালু
৮৩. নিচের কোনটি মানবিক সম্পদ? ক নদনদী	● সাংগঠনিক ক্ষমতা	১০১. রং তৈরিতে কোনটি ব্যবহৃত হয়? ক কয়লা ● সিলিকা বালু	গ তামা
গ ভূমি	ঘ খনিজ সম্পদ	১০২. চট্টগ্রামের কুতুবদিয়া দ্বীপে কী পাওয়ার সম্ভাবনা রয়েছে? ● গন্ধক খ তামা	গ স্বর্ণ
৮৪. রসুলপুর গ্রামবাসী বিনামূল্যে চিকিৎসা সেবা প্রদানের লক্ষ্যে একটি স্বাস্থ্যকেন্দ্র স্থাপন করল। স্বাস্থ্যকেন্দ্রটি কী জাতীয় সম্পদ? (প্রয়োগ) ক মানবিক ● উৎপাদিত	গ জাতীয়	ঘ ব্যক্তিগত	১০৩. বারুদ তৈরিতে নিচের কোনটি প্রয়োজন? ক তামা ● গন্ধক
৮৫. বাংলাদেশে চাষযোগ্য কৃষিজমির পরিমাণ কত? ● ২ কোটি ১৭ লাখ একর	খ ৪ কোটি ১৪ লাখ একর	১০৪. জাহাঙ্গীর হোসেনের কারখানায় তেল পরিশোধন করা হবে। এজন্য তিনি নিচের কোনটি ব্যবহার করবেন? ● গন্ধক খ সিলিকা বালু	গ খনিজ তেল
গ ৫ কোটি ১৭ লাখ একর	ঘ ৬ কোটি ১৭ লাখ একর	১০৫. বাংলাদেশের কোন জেলায় তামার সন্ধান পাওয়া যায়? ● রংপুর খ বগুড়া	গ রাজশাহী
৮৬. কোনটি অর্থকরী ফসল? ক তৈলবীজ খ আলু	● চা	ঘ ধান	১০৬. বাংলাদেশের কোথায় সামান্য তামার সন্ধান পাওয়া গেছে? ক সিলেটের হরিপুরে ● মধ্যপাড়া
৮৭. কোনটি অর্থকরী ফসল? ● রেশম খ শাকসবজি	গ ফলমূল	ঘ গম	১০৭. বৈদ্যুতিক যন্ত্রপাতি ও তার তৈরিতে ব্যবহৃত হয় কোনটি? ক গন্ধক ● তামা
৮৮. বাংলাদেশের কত ভাগ লোক কৃষির ওপর নির্ভরশীল? (জ্ঞান)		গ শিলা	ঘ খনিজ তেল

১০৮. 'ক' দেশের সরকার মুদ্রা তৈরির জন্য ব্যাংককে নির্দেশ দিল। এ কাজের জন্য ব্যাংক নিচের কোনটি ব্যবহার করবে? (প্রয়োগ)  
● তামা খ সিলিকা বালু গ গন্ধক ঘ খনিজ তেল
১০৯. বাংলাদেশের বনভূমি মোট ভূখণ্ডের শতকরা কত ভাগ? (জ্ঞান)  
● প্রায় ১৭ খ প্রায় ২৭ গ প্রায় ৪০ ঘ প্রায় ২৩
১১০. আমেরিকায় শতকরা কত ভাগ বনভূমি রয়েছে? (জ্ঞান)  
ক ৩০ খ ৩১ গ ৩২ ● ৩৪
১১১. বার্মায় শতকরা কত ভাগ বনভূমি রয়েছে? (জ্ঞান)  
ক ২২ খ ৩৪ গ ৬৩ ● ৬৭
১১২. ভারতের শতকরা কত ভাগ বনভূমি রয়েছে? (জ্ঞান)  
ক ২০ খ ২১ ● ২২ ঘ ২৩
১১৩. বাংলাদেশের সমগ্র বনভূমিকে কয় ভাগে ভাগ করা যায়? (জ্ঞান)  
ক তিন খ চার ● পাঁচ ঘ ছয়
১১৪. বাংলাদেশের তুলনায় আমেরিকার বনাঞ্চলের পরিমাণ কতগুণ বেশি? (অনুধাবন)  
● দ্বিগুণ খ তিনগুণ গ চারগুণ ঘ ছয়গুণ
১১৫. বাংলাদেশের কোন বনাঞ্চল সমুদ্র উপকূলে অবস্থিত? (জ্ঞান)  
ক চট্টগ্রামের বনভূমি খ বরেন্দ্র বনভূমি  
গ ভাওয়াল গড়ের বনভূমি ● সুন্দরবন
১১৬. সুন্দরবনের আয়তন কত? (জ্ঞান)  
ক ৫৭৭৪ বর্গকিলোমিটার খ ৫৭৪৭ বর্গকিলোমিটার  
● ৬০১৭ বর্গকিলোমিটার ঘ ৬৭৭৪ বর্গকিলোমিটার
১১৭. কোন মূল্যবান গাছটি সুন্দরবনে পাওয়া যায়? (জ্ঞান)  
● সুন্দরী খ জারুল গ গামারি ঘ সেগুন
১১৮. নিচের কোন বৃক্ষটি সুন্দরবনে পাওয়া যায়? (জ্ঞান)  
ক গর্জন ● গেওয়া গ গামারি ঘ সেগুন
১১৯. কোনটি সুন্দরবনের বৃক্ষ? (জ্ঞান)  
● কেওড়া খ গামারি গ সেগুন ঘ জারুল
১২০. পার্বত্য চট্টগ্রাম বনভূমির গাছ কোনটি? (জ্ঞান)  
ক বাইন খ গেওয়া গ সুন্দরী ● গর্জন
১২১. মধুপুর ও ভাওয়াল বনভূমির আয়তন কত? (জ্ঞান)  
ক ১০৬০ বর্গকিলোমিটার খ ১০৬০ বর্গকিলোমিটার  
● ১০৬৪ বর্গকিলোমিটার ঘ ১০৬৫ বর্গকিলোমিটার
১২২. মধুপুর ও ভাওয়ালের বনভূমির বৃক্ষ কোনটি? (জ্ঞান)  
● শাল খ সুন্দরী গ বাঁশ ঘ গরান
১২৩. গজারি কোন বনভূমিতে জন্মে? (জ্ঞান)  
ক সুন্দরবন ● মধুপুর ও ভাওয়াল  
গ সিলেটের ঘ চট্টগ্রাম ও পার্বত্য চট্টগ্রামের
১২৪. সিলেটের বনভূমির আয়তন কত? (জ্ঞান)  
● ১০৪০ বর্গকিলোমিটার খ ১০৬৪ বর্গকিলোমিটার  
গ ১০৯০ বর্গকিলোমিটার ঘ ২০০০ বর্গকিলোমিটার
১২৫. বনজাম কোন বনভূমির অন্তর্গত? (জ্ঞান)
- ক মধুপুরের খ রংপুরের ● সিলেটের ঘ চট্টগ্রামের
১২৬. দিনাজপুর ও রংপুরের বনভূমির আয়তন কত? (জ্ঞান)  
ক ২০ বর্গকিলোমিটার ● ৩৯ বর্গকিলোমিটার  
গ ৪৬ বর্গকিলোমিটার ঘ ৫০ বর্গকিলোমিটার
১২৭. দিনাজপুর ও রংপুরের বনভূমির বৃক্ষ কোনটি? (জ্ঞান)  
● গজারি খ বনজাম গ বাইন ঘ গামারি
১২৮. কোথায় পেট্রোলিয়ামের সন্ধান পাওয়া গেছে? (জ্ঞান)  
● হরিপুরে খ পাবনায় গ নাচোলে ঘ নান্নেরচরে
১২৯. কোনটি বাংলাদেশ বিদেশ থেকে আমদানি করে? (অনুধাবন)  
ক প্রাকৃতিক গ্যাস ● পেট্রোলিয়াম  
গ কয়লা ঘ সৌর শক্তি
১৩০. বাংলাদেশের একমাত্র পানিবিদ্যুৎ কেন্দ্রটি কোথায় অবস্থিত? (জ্ঞান)  
ক খুলনার গোয়ালপাড়ায় খ নারায়ণগঞ্জের সিদ্ধিরগঞ্জ  
● পার্বত্য চট্টগ্রামের কাণ্ডাইয়ে ঘ নরসিংদীর ঘোড়াশালে
১৩১. নদীর স্রোত থেকে দেশের কোন গুরুত্বপূর্ণ উপাদানটি উৎপন্ন হয়? (জ্ঞান)  
ক অটোমোবাইল শিল্প খ শিল্পের কাঁচামাল  
● বিদ্যুৎ ঘ আলো
১৩২. গোয়ালপাড়া তাপ বিদ্যুৎ কেন্দ্রটি কোন জেলায় অবস্থিত? (জ্ঞান)  
● খুলনা খ বরিশাল গ ঢাকা ঘ রাজশাহী
১৩৩. ভেড়ামারা তাপ বিদ্যুৎ কেন্দ্রটি কোন জেলায় অবস্থিত? (জ্ঞান)  
ক খুলনা ● কুষ্টিয়া গ নীলফামারী ঘ ব্রাহ্মণবাড়িয়া
১৩৪. সিদ্ধিরগঞ্জ তাপ বিদ্যুৎ কেন্দ্রটি কোন জেলায় অবস্থিত? (জ্ঞান)  
● নারায়ণগঞ্জ খ নীলফামারী  
গ নরসিংদী ঘ সিলেট
১৩৫. কোনটি গ্যাসচালিত বিদ্যুৎ উৎপাদন কেন্দ্র? (জ্ঞান)  
● ঘোড়াশাল তাপবিদ্যুৎ খ ভেড়ামারা তাপবিদ্যুৎ  
গ গোয়ালপাড়া তাপবিদ্যুৎ ঘ ঠাকুরগাঁও তাপবিদ্যুৎ
১৩৬. বাংলাদেশের কোনটি গ্যাসচালিত বিদ্যুৎ উৎপাদন কেন্দ্র? (জ্ঞান)  
ক গোয়ালপাড়া তাপবিদ্যুৎ ● শাহজীবাজার তাপবিদ্যুৎ  
গ ভেড়ামারা তাপবিদ্যুৎ ঘ সৈয়দপুর তাপবিদ্যুৎ
১৩৭. বাংলাদেশে গ্যাস পরিচালিত বিদ্যুৎ উৎপাদন কেন্দ্র কোনটি? (অনুধাবন)  
ক গোয়ালপাড়া তাপবিদ্যুৎ ● চট্টগ্রাম তাপবিদ্যুৎ  
গ ভেড়ামারা তাপবিদ্যুৎ ঘ সৈয়দপুর তাপবিদ্যুৎ
১৩৮. কুইক রেন্টাল সার্ভিসের মাধ্যমে বিদ্যুৎ সরবরাহের ব্যবস্থা গ্রহণ করেছে কে? (জ্ঞান)  
● বর্তমান সরকার খ বাংলাদেশ সেনাবাহিনী  
গ যোগাযোগ মন্ত্রণালয় ঘ বেসরকারি প্রতিষ্ঠান
১৩৯. নিচের কোনটি মৌলিক প্রাকৃতিক সম্পদ? (জ্ঞান)  
● পানি খ খনিজ তেল গ কয়লা ঘ প্রাকৃতিক গ্যাস
১৪০. প্রাণী ও উদ্ভিদের জীবনধারণের জন্য অপরিহার্য সম্পদ কোনটি? (জ্ঞান)  
● পানি খ কৃষি গ খনিজ ঘ বনজ

১৪১. কোনটির যোগান কম বা বেশি হলে কৃষিকাজে ক্ষতিগ্রস্ত হয়? (অনুধাবন)  
ক ভূমি খ রাসায়নিক সার ● পানি ঘ ভূমির উর্বরতা

১৪২. কোনটি থেকে পানি বিদ্যুৎ উৎপন্ন হয়? (জ্ঞান)  
ক গ্যাস খ তেল ● নদীর স্রোত ঘ কয়লা

বহুপদী সমাঙ্গিসূচক বহুনির্বাচনি প্রশ্নোত্তর

১৪৩. বাংলাদেশের প্রধান অর্থকরী ফসল হচ্ছে— (অনুধাবন)  
র. পাট, ইক্ষু

রর. চা, রেশম

ররর. গম, ডাল

নিচের কোনটি সঠিক?

● র ও রর খ র ও ররর গ রর ও ররর ঘ র, রর ও ররর

১৪৪. বাংলাদেশের উৎপাদনরত গ্যাসক্ষেত্র হচ্ছে— (অনুধাবন)  
র. হবিগঞ্জ

রর. কৈলাসটিলা

ররর. তিতাস

নিচের কোনটি সঠিক?

ক র ও রর খ র ও ররর গ রর ও ররর ● র, রর ও ররর

১৪৫. সম্পদের বৈশিষ্ট্য হলো— (অনুধাবন)  
র. উপযোগ, অপ্রাচুর্যতা

রর. হস্তান্তরযোগ্যতা, বাহ্যিকতা

ররর. ভোগ, তৃপ্তি

নিচের কোনটি সঠিক?

● র ও রর খ র ও ররর গ রর ও ররর ঘ র, রর ও ররর

১৪৬. নদীর পানি সম্পদ নয়, কারণ— (অনুধাবন)  
র. চাহিদার তুলনায় অচেল বলে

রর. বিনামূল্যে পাওয়া যায় বলে

ররর. সব মানুষ ব্যবহার করে বলে

নিচের কোনটি সঠিক?

● র ও রর খ র ও ররর গ রর ও ররর ঘ র, রর ও ররর

১৪৭. দেশের যে সম্পদের অস্তিত্ব রক্ষার জন্য পানি সম্পদ প্রয়োজন— (অনুধাবন)  
র. কৃষিজ ও বনজ

রর. প্রাণিজ ও শক্তি

ররর. খনিজ ও প্রযুক্তিগত

নিচের কোনটি সঠিক?

● র ও রর খ র ও ররর গ রর ও ররর ঘ র, রর ও ররর

১৪৮. কৃষিকাজ ক্ষতিগ্রস্ত হয়— (অনুধাবন)

র. পানির যোগান কম হলে

রর. পানি মিষ্টি হলে

ররর. পানির যোগান বেশি হলে

নিচের কোনটি সঠিক?

ক র ও রর ● র ও ররর গ রর ও ররর ঘ র, রর ও ররর

১৪৯. বাংলাদেশে শক্তির যোগান বহুলাংশে আসে— (অনুধাবন)  
র. প্রাকৃতিক গ্যাস থেকে

রর. বিদ্যুৎ থেকে

ররর. প্রচলিত উপকরণ থেকে

নিচের কোনটি সঠিক?

ক র ও রর খ র ও ররর গ রর ও ররর ● র, রর ও ররর

১৫০. প্রাকৃতিক গ্যাস ব্যবহৃত হয়— (অনুধাবন)  
র. বিদ্যুৎ উৎপাদনে

রর. কলকারখানায়

ররর. গৃহকর্মে

নিচের কোনটি সঠিক?

ক র ও রর খ র ও ররর গ রর ও ররর ● র, রর ও ররর

১৫১. যে ক্ষেত্রে শক্তি সম্পদের ব্যবহার অপরিহার্য— (অনুধাবন)  
র. যানবাহন ও যোগাযোগ

রর. যান্ত্রিক চাষাবাদ

ররর. গৃহকর্ম

নিচের কোনটি সঠিক?

ক র ও রর খ র ও ররর গ রর ও ররর ● র, রর ও ররর

১৫২. শক্তির উৎস হলো— (অনুধাবন)  
র. সূর্য

রর. খনিজ তেল

ররর. কাঠের গুঁড়ি

নিচের কোনটি সঠিক?

● র ও রর খ র ও ররর গ রর ও ররর ঘ র, রর ও ররর

১৫৩. তামা যে কাজে ব্যবহৃত হয়— (অনুধাবন)  
র. যন্ত্রপাতি

রর. তার

ররর. দিয়াশলাই

নিচের কোনটি সঠিক?

● র ও রর    খ র ও ররর    গ রর ও ররর    ঘ র, রর ও ররর

অভিন্ন তথ্যভিত্তিক বহুনির্বাচনি প্রশ্নোত্তর

নিচের অনুচ্ছেদটি পড়ে ১৫৪ ও ১৫৫ নং প্রশ্নের উত্তর দাও :

প্রাকৃতিক ও পরিবেশগত অবস্থা ভালো রাখার জন্য দেশের ভূখণ্ডের কমপক্ষে ২৫% বনাঞ্চল থাকা দরকার। নিচে বিভিন্ন দেশের বনাঞ্চলের পরিমাণ সংক্রান্ত একটি সারণি দেয়া হলো :

বনাঞ্চলের পরিমাণ

বাংলাদেশ	১৭%
আমেরিকা	৩৪%
জাপান	৬৩%
মায়ানমার	৬৭%
ভারত	২২%

১৫৪. বাংলাদেশে প্রয়োজনের তুলনায় কত ভাগ বনাঞ্চল কম রয়েছে? (প্রয়োগ)  
ক ২০%    খ ১৭%    ● ৮%    ঘ ৭%

১৫৫. বাংলাদেশের বনাঞ্চলের উক্ত অবস্থার ফলাফল- (উচ্চতর দক্ষতা)  
র. ধর্মীয় বিশৃঙ্খলা দেখা দিচ্ছে

রর. প্রাকৃতিক ভারসাম্য নষ্ট হচ্ছে

ররর. পরিবেশগত বিপর্যয় দেখা দিচ্ছে

নিচের কোনটি সঠিক?

ক র ও রর    খ র ও ররর    ● রর ও ররর    ঘ র, রর ও ররর

নিচের অনুচ্ছেদটি পড়ে ১৫৬ ও ১৫৭ নং প্রশ্নের উত্তর দাও :

বাংলাদেশের সুন্দরবনে ও পার্বত্য চট্টগ্রামের বনাঞ্চলে রয়েছে বাঘ, হাতি, হরিণ প্রভৃতি মূল্যবান জীবজন্তু ও অসংখ্য প্রজাতির পাখি। নদনদী, বিল, হাওর, পুকুর ইত্যাদি জলাশয় এবং বঙ্গোপসাগরে বিভিন্ন রকম মাছ পাওয়া যায়।

১৫৬. অনুচ্ছেদে উল্লিখিত জীবজন্তু ও মাছ বাংলাদেশের কোন সম্পদের অন্তর্ভুক্ত? (প্রয়োগ)  
ক শক্তি    ● প্রাণিজ    গ বনজ    ঘ খনিজ

১৫৭. উক্ত সম্পদ দেশের অর্থনীতিতে যে গুরুত্বপূর্ণ অবদান রাখে—(উচ্চতর দক্ষতা)  
র. চামড়া শিল্পের কাঁচামালের যোগান দেয়

রর. রপ্তানি আয় বৃদ্ধিতে সহায়তা করে

ররর. সব শিল্পের উপযুক্ত বাজার তৈরি করে

নিচের কোনটি সঠিক?

● র ও রর    খ র ও ররর    গ রর ও ররর    ঘ র, রর ও ররর

→ ২.২ : দ্রব্য → ■অভাব মেটানোর ক্ষমতাসম্পন্ন বস্তুগত ও

■ যে জিনিসের উপযোগ আছে তাই— দ্রব্য।

■ আলো, বাতাস, নদীর পানি ইত্যাদিকে বলা হয়— অবাধলভ্য দ্রব্য।

■ অর্থনীতির ভাষায় দ্রব্যকে ভাগ করা যায়— ৮ ভাগে।

■ যেসব দ্রব্য ভোগের জন্য ব্যবহার না ধরে উৎপাদনের উপকরণ হিসেবে ব্যবহৃত হয় তাদেরকে বলে— মধ্যবর্তী দ্রব্য।

■ যেসব দ্রব্য সরাসরি ভোগের জন্য ব্যবহৃত হয় তাদেরকে বলে— চূড়ান্ত দ্রব্য।

■ যেসব উৎপাদিত পণ্য অন্য পণ্য উৎপাদনে ব্যবহৃত হয় তাকে বলে— মূলধনী দ্রব্য।

সাধারণ বহুনির্বাচনি প্রশ্নোত্তর

১৫৮. দ্রব্য বলতে সাধারণত কোনটিকে বোঝায়? (জ্ঞান)

● বস্তুগত সম্পদ    খ অবস্তুগত সম্পদ

গ ভোগ্য সম্পদ    ঘ অর্থনৈতিক সম্পদ

১৫৯. মানুষের অভাব মিটাবার ক্ষমতাসম্পন্ন বস্তুগত ও অবস্তুগত সব জিনিসকে আমরা কী বলে থাকি? (জ্ঞান)  
ক চাহিদা    খ উপযোগ    গ উৎপাদন    ● অর্থনৈতিক দ্রব্য

১৬০. যে জিনিসের উপযোগ আছে অর্থনীতিতে তাকে কী বলে?  
ক সম্পদ    ● দ্রব্য    গ শক্তি    ঘ মূল্য

১৬১. যেসব দ্রব্য বিনা পরিশ্রমে একে বিনামূল্যে পাওয়া যায় তাকে কী বলে? (প্রয়োগ)  
ক স্থায়ী ভোগ্যদ্রব্য    ● অবাধলভ্য দ্রব্য

গ বিলাসী দ্রব্য    ঘ মূলধন দ্রব্য

১৬২. কোনটি অবাধলভ্য দ্রব্য? (জ্ঞান)  
ক খাদ্য    খ বই    ● আলো    ঘ চেয়ার

১৬৩. নিচের কোনটি অবাধলভ্য দ্রব্য? (জ্ঞান)  
ক বস্ত্র    ● নদীর পানি    গ অলঙ্কার    ঘ তরিতরকারি

১৬৪. রপ্তানা পাঁচ টাকা মূল্য প্রদান করে একটি কলম কিনল। এ কলমটিকে অর্থনীতির ভাষায় কোন ধরনের দ্রব্য বলা যায়? (প্রয়োগ)  
ক অবাধলভ্য দ্রব্য    ● অর্থনৈতিক দ্রব্য

গ স্থায়ী ভোগ্য দ্রব্য    ঘ অস্থায়ী ভোগ্য দ্রব্য

১৬৫. নিচের কোনটি অর্থনৈতিক দ্রব্য? (জ্ঞান)  
● খাদ্য    খ বাতাস    গ নদীর পানি    ঘ আলো

১৬৬. কোনটি অর্থনৈতিক দ্রব্য? (জ্ঞান)  
ক আলো    খ বাতাস    ● বস্ত্র    ঘ নদীর পানি

১৬৭. 'কলম' কোন ধরনের দ্রব্য? (জ্ঞান)  
ক ভোগ্য    ● অর্থনৈতিক    গ স্থায়ী    ঘ অবাধলভ্য

১৬৮. যে সমস্ত ভোগ্য দ্রব্য দীর্ঘকাল ধরে ভোগ করা যায় তাকে কী বলে? (জ্ঞান)  
ক অর্থনৈতিক দ্রব্য    খ অবাধলভ্য দ্রব্য

● স্থায়ী ভোগ্য দ্রব্য    ঘ অস্থায়ী ভোগ্য দ্রব্য

১৬৯. নিচের কোনটি স্থায়ী দ্রব্য? (জ্ঞান)  
● খেলার মাঠ    খ খাদ্য    গ বস্ত্র    ঘ কাঁচামাল

১৭০. শামীম বাজার থেকে একটি ফ্রিজ কিনে আনল। এ দ্রব্যটিকে অর্থনীতিতে কী বলা হয়? (প্রয়োগ)  
ক অর্থনৈতিক দ্রব্য খ অবাধলভ্য দ্রব্য  
● স্থায়ী ভোগ্য দ্রব্য ঘ অস্থায়ী ভোগ্য দ্রব্য
১৭১. রুবাইয়াকে তার বাবা একটি গাড়ি কিনে দিলেন। এটি কোন ধরনের দ্রব্যের পর্যায়ভুক্ত? (প্রয়োগ)  
● স্থায়ী ভোগ্য খ ভোগ্য গ অস্থায়ী ভোগ্য ঘ অবাধলভ্য
১৭২. যে সমস্ত ভোগ্য দ্রব্য স্বল্পকাল ভোগ করা যায় তাকে কী বলে? (জ্ঞান)  
ক অবাধলভ্য দ্রব্য খ মূলধনী দ্রব্য  
গ মধ্যবর্তী দ্রব্য ● অস্থায়ী ভোগ্য দ্রব্য
১৭৩. শিউলি তার মাকে একটি শাড়ি উপহার দিল। এ শাড়িটি অর্থনীতিতে কোন ধরনের দ্রব্যের পর্যায়ে পড়ে? (প্রয়োগ)  
ক অবাধলভ্য খ মূলধনী ● অস্থায়ী ভোগ্য ঘ মধ্যবর্তী
১৭৪. অস্থায়ী ভোগ্য দ্রব্য কোনটি? (জ্ঞান)  
ক ফ্রিজ খ গাড়ি গ জমি ● তরিতরকারি
১৭৫. যে সমস্ত উৎপাদিত দ্রব্য সরাসরি ভোগের জন্য ব্যবহার না করে উৎপাদনের উপকরণ হিসেবে ব্যবহার করা হয় তাকে কী বলে? (জ্ঞান)  
ক অবাধলভ্য দ্রব্য খ অর্থনৈতিক দ্রব্য  
গ স্থায়ী ভোগ্য দ্রব্য ● মধ্যবর্তী দ্রব্য
১৭৬. কোন ধরনের দ্রব্য চূড়ান্ত উৎপাদনে নিঃশেষ হয়ে যায়? (জ্ঞান)  
● মধ্যবর্তী খ অস্থায়ী গ অবাধলভ্য ঘ ভোগ্য
১৭৭. কাঁচামাল কোন ধরনের দ্রব্য? (অনুধাবন)  
ক মূলধনী ● মধ্যবর্তী গ অবাধলভ্য ঘ অস্থায়ী ভোগ্য
১৭৮. যেসব উৎপাদিত দ্রব্য, অন্য দ্রব্য উৎপাদনে সাহায্য করে তাকে কী বলে? (অনুধাবন)  
ক অর্থনৈতিক দ্রব্য খ অস্থায়ী ভোগ্য দ্রব্য  
● মূলধনী দ্রব্য ঘ মধ্যবর্তী দ্রব্য
১৭৯. যন্ত্রপাতি কোন ধরনের দ্রব্য? (জ্ঞান)  
ক মধ্যবর্তী খ চূড়ান্ত ● মূলধনী ঘ ভোগ্য
১৮০. 'কারখানা' কোন ধরনের দ্রব্য? (অনুধাবন)  
ক অবাধলভ্য ● মূলধনী গ মধ্যবর্তী ঘ অস্থায়ী ভোগ্য
১৮১. নাবিল সাহেব ধান রাখার জন্য একটি গুদামঘর তৈরি করলেন। এটি কোন ধরনের দ্রব্য? (প্রয়োগ)  
ক অস্থায়ী খ ভোগ্য গ স্থায়ী ● মূলধনী
১৮২. কোন ধরনের দ্রব্য বার বার উৎপাদন কাজে ব্যবহৃত হয়? (জ্ঞান)  
ক মধ্যবর্তী খ অস্থায়ী গ ভোগ্য ● মূলধনী

বহুপদী সমাঙ্গিসূচক বহুনির্বাচনি প্রশ্নোত্তর

১৮৩. 'বাতাস' অবাধলভ্য দ্রব্য হওয়ার কারণ— (অনুধাবন)  
র. প্রকৃতিতে এটি অবাধে পাওয়া যায়  
রর. এর যোগান থাকে সীমাহীন  
ররর. সব প্রাণীর বেঁচে থাকার উপকরণ  
নিচের কোনটি সঠিক?

- র ও রর খ র ও ররর গ রর ও ররর ঘ র, রর ও ররর
১৮৪. স্থায়ী ভোগ্য দ্রব্যের পর্যায়ে পড়ে— (অনুধাবন)  
র. খেলার মাঠ রর. ঘরবাড়ি  
ররর. অলঙ্কার  
নিচের কোনটি সঠিক?  
● র ও রর খ র ও ররর গ রর ও ররর ঘ র, রর ও ররর
১৮৫. জয়িতার বাবা 'রসগোল্লা' কিনলেন। এটি তৈরির মধ্যবর্তী দ্রব্য— (প্রয়োগ)  
র. পানি রর. দুধ  
ররর. চিনি  
নিচের কোনটি সঠিক?  
ক র ও রর খ র ও ররর ● রর ও ররর ঘ র, রর ও ররর

অভিন্ন তথ্যভিত্তিক বহুনির্বাচনি প্রশ্নোত্তর

- নিচের অনুচ্ছেদটি পড়ে ১৮৬ ও ১৮৭ নং প্রশ্নের উত্তর দাও :  
জনাব আজাদের দুটি কারখানা আছে। একটিতে পোশাক উৎপাদিত হয়। অন্যটিতে টিভি, ফ্রিজ ইত্যাদি তৈরি করা হয়। এ কারখানা দুটির উৎপাদিত দ্রব্য গুণে মানে ভালো হওয়ায় সর্বজনের দৃষ্টি আকর্ষণ করেছে।
১৮৬. জনাব আজাদের কারখানা দুটি কোন ধরনের দ্রব্য? (প্রয়োগ)  
ক অবাধলভ্য ● মূলধনী গ স্থায়ী ভোগ্য ঘ অস্থায়ী ভোগ্য
১৮৭. জনাব আজাদের কারখানায় উৎপাদিত টিভি, ফ্রিজ স্থায়ী ভোগ্য দ্রব্য হওয়ার কারণ— (উচ্চতর দক্ষতা)  
র. দীর্ঘদিন ধরে ভোগ করা যায়  
রর. উচ্চমূল্যে ক্রয় করতে হয়  
ররর. অবাধে পাওয়া যায়  
নিচের কোনটি সঠিক?  
● র খ রর গ র ও রর ঘ র, রর ও ররর

➡ ২.৩ : সুযোগ ব্যয় ও নির্বাচন ➡

- নির্বাচন সমস্যার সৃষ্টি হয়— সম্পদের স্বল্পতার কারণে।
- অগ্রাধিকার ভিত্তিতে উৎপাদনের সিদ্ধান্তকে বলে— নির্বাচন।
- অর্থনীতিতে বহুল ব্যবহৃত একটি ধারণা— সুযোগ ব্যয়।
- কোনো একটি জিনিস পাওয়ার জন্য অন্য একটি জিনিস যে পরিমাণ ছাড়তে হয় তাকে এই জিনিসটির- সুযোগ ব্যয় বলে।

সাধারণ বহুনির্বাচনি প্রশ্নোত্তর

১৮৮. লোপা ১০ টাকা দিয়ে দুটি কলম কিনতে গিয়ে একটি কলম ও একটি চকোলেট কিনল। এখানে লোপার ত্যাগকৃত কলমটি কীসের সুযোগ ব্যয়? (প্রয়োগ)  
ক কলমের ● চকোলেটের গ যাতায়াতের ঘ টাকার

১৮৯. একটি জিনিস পাওয়ার জন্য অপর জিনিস ত্যাগ করতে হয়। এ ত্যাগকৃত পরিমাণকে অন্য দ্রব্যটির কী বলা হয়? (প্রয়োগ)  
ক ব্যয় খ অপচয় গ উৎপাদন ● সুযোগ ব্যয়

১৯০. ফসল উৎপাদনের জন্য সিদ্ধান্ত গ্রহণ প্রক্রিয়াকে কী বলে? (জ্ঞান)  
ক সুযোগ ব্যয় ● নির্বাচন

গ বিনিয়োগ ঘ সঞ্চয়

বহুপদী সমাঙ্গিসূচক বহুনির্বাচনি প্রশ্নোত্তর

১৯১. সুযোগ ব্যয়ে— (অনুধাবন)  
র. একটি দ্রব্য পাওয়ার জন্য আরেকটি ত্যাগ করতে হয়

রর. বেশি প্রয়োজনীয় দ্রব্যটি নির্বাচন করা হয়

ররর. দুটি দ্রব্যই নির্বাচন করা হয়

নিচের কোনটি সঠিক?

● র ও রর খ র ও ররর গ রর ও ররর ঘ র, রর ও ররর

১৯২. অর্থনীতিতে নির্বাচন প্রক্রিয়াটি যে কারণে করা হয়— (উচ্চতর দক্ষতা)  
র. ব্যক্তি পর্যায়ে সম্পদের স্বল্পতা

রর. বাজারে দ্রব্যের চড়ামূল্য নির্ধারণ

ররর. রাষ্ট্রীয় পর্যায়ে সম্পদের স্বল্পতা

নিচের কোনটি সঠিক?

ক র ও রর ● র ও ররর গ রর ও ররর ঘ র, রর ও ররর

অভিন্ন তথ্যভিত্তিক বহুনির্বাচনি প্রশ্নোত্তর

নিচের অনুচ্ছেদটি পড়ে ১৯৩ ও ১৯৪ নং প্রশ্নের উত্তর দাও :

কৃষক রহিম উদ্দীন দীর্ঘদিন যাবৎ জমিতে পাট উৎপাদন করছেন। এবার গমের বাজারমূল্য চড়া দেখে তিনি জমিতে পাট উৎপাদন না করে গম উৎপাদন করলেন। এতে তিনি গত বছরের তুলনায় বেশ লাভবান হলেন।

১৯৩. রহিম উদ্দীন গম উৎপাদনের সিদ্ধান্ত নেন কীসের ভিত্তিতে? (প্রয়োগ)  
ক উপযোগের ● সুযোগ ব্যয়ের গ আকাজ্জক ঘ যোগানের

১৯৪. অনুচ্ছেদের উৎপাদিত গমের সুযোগ ব্যয় হলো— (অনুধাবন)  
র. পাট

রর. জমি

ররর. গম

নিচের কোনটি সঠিক?

● র খ রর গ র ও রর ঘ রর ও ররর

নিচের অনুচ্ছেদটি পড়ে ১৯৫ ও ১৯৬ নং প্রশ্নের উত্তর দাও :

জয়নাল উদ্দীনের দুই বিঘার একটি জমি আছে। এ জমিতে তিনি ধান অথবা গম দুটোই চাষ করতে পারেন। অথবা কিছু অংশে ধান এবং কিছু অংশে গম

চাষ করতে পারেন। সবকিছু চিন্তা করে তিনি সবটুকু জমিতেই ধান চাষ করার সিদ্ধান্ত নিলেন।

১৯৫. জয়নাল উদ্দীনের সিদ্ধান্ত গ্রহণ প্রক্রিয়াকে অর্থনীতির ভাষায় কী বলা হয়? (প্রয়োগ)  
ক সুযোগ ব্যয় খ সঞ্চয় গ যোগান ● নির্বাচন

১৯৬. অর্থনীতিতে উক্ত বিষয়টির প্রয়োজন কেন? (উচ্চতর দক্ষতা)  
● সম্পদের স্বল্পতার জন্য খ সুযোগ ব্যয়ের জন্য

গ বাজার সৃষ্টির জন্য ঘ সঞ্চয়ের জন্য

➔ ২.৪ : আয়, সঞ্চয় ও বিনিয়োগ

- উৎপাদনের কোনো উপকরণ ব্যবহারের জন্য এর মালিক নির্দিষ্ট সময়ে যে অর্থ পায় তাকে— আয় বলে।
- শ্রমের জন্য প্রাপ্ত আয়কে— মজুরি বলে।
- আয় হতে ভোগব্যয় বাদ দিলে যা অবশিষ্ট থাকে তা হলো— সঞ্চয়।
- বিনিয়োগের ভিত্তি হলো— সঞ্চয়।
- সঞ্চিত অর্থ যখন উৎপাদন বাড়ানোর কাজে ব্যবহৃত হয় তখন তাকে— বিনিয়োগ বলে।

সাধারণ বহুনির্বাচনি প্রশ্নোত্তর

১৯৭. উৎপাদনের কোনো উপকরণ ব্যবহারের জন্য উপকরণটি বা এটির মালিক একটি নির্দিষ্ট সময়ে যে অর্থ পায় তাকে কী বলে? (জ্ঞান)  
ক সঞ্চয় ● আয় গ বিনিয়োগ ঘ যোগান

১৯৮. সুমন একটি মুদি দোকানে প্রতিদিন তিন ঘণ্টা কাজ করে মাস শেষে কিছু অর্থ আয় করে। এ অর্থকে অর্থনীতিতে কী বলা হয়? (প্রয়োগ)  
● মজুরি খ সঞ্চয় গ বিনিয়োগ ঘ উপযোগ

১৯৯. শ্রমের জন্য প্রাপ্ত আয়কে কী বলে? (জ্ঞান)  
ক সঞ্চয় খ উপযোগ গ বিনিয়োগ ● মজুরি

২০০. মানুষ আয় করে কেন? (অনুধাবন)  
ক সঞ্চয় করার জন্য ● ভোগ করার জন্য

গ অন্যের চাহিদা পূরণের জন্য ঘ জমি ক্রয়ের জন্য

২০১. মানুষ আয় থেকে সঞ্চয় করে কেন? (অনুধাবন)  
ক তৎক্ষণিক সমস্যা মেটানোর জন্য ● ভবিষ্যতের নিরাপত্তার জন্য

গ ঋণ পরিশোধ করার জন্য ঘ সম্পদের পাহাড় গড়ার জন্য

২০২.  $ঝ = ৭ - ঙ$  (যখন  $৭ > ঙ$  এখানে  $ঝ =$  সঞ্চয়,  $৭ =$  আয়,  $ঙ =$  ভোগ ব্যয়) — এ সমীকরণটি কীসের ধারণা প্রকাশ করে? (প্রয়োগ)  
ক আয় খ ব্যয় ● সঞ্চয় ঘ ভোগ

২০৩. মাহমুদা বেগমের মাসিক আয় ৯,৪০০ টাকা এবং মাসিক ব্যয় ৫,৩০০ টাকা। তার বছরে সঞ্চয় কত? (প্রয়োগ)  
● ৪৯,২০০ টাকা খ ৪৪,২০০ টাকা

গ ৪৫,৩০০ টাকা ঘ ৫০,২০০ টাকা

২০৪. জীবন সাহেবের মাসিক আয় ২০,০০০ এবং সঞ্চয় ৫,৭০০ টাকা। তার মাসিক ব্যয় কত? (প্রয়োগ)  
ক ১৪,০০০ টাকা ● ১৪,৩০০ টাকা

গ ১৫,২০০ টাকা

ঘ ১৫,৫০০ টাকা

২০৫. জাবির সাহেবের কোম্পানিতে উৎপাদন বাড়ানোর জন্য মূলধনের চেয়ে সঞ্চিত অতিরিক্ত বিশ হাজার টাকা ব্যবহৃত হলো। এ বিশ হাজার টাকাকে কী বলা হয়? (প্রয়োগ)

ক সঞ্চয় খ ভোগ গ ব্যয় ● বিনিয়োগ

২০৬. ব্যক্তির সঞ্চয় কীসের ওপর নির্ভর করে? (উচ্চতর দক্ষতা)  
ক পারিবারিক অবস্থানের ওপর খ সামাজিক অবস্থানের ওপর

● সুদের হারের ওপর ঘ কল্পনার ওপর

বহুপদী সমাশ্রিতসূচক বহুনির্বাচনি প্রশ্নোত্তর

২০৭. ব্যক্তির সঞ্চয় নির্ভর করে— (অনুধাবন)  
র. দূরদৃষ্টির ওপর

রর. সামাজিক নিরাপত্তার ওপর

ররর. সামাজিক অবস্থানের ওপর

নিচের কোনটি সঠিক?

● র ও রর খ র ও ররর গ রর ও ররর ঘ র, রর ও ররর

২০৮. বিনিয়োগের ফলে— (উচ্চতর দক্ষতা)  
র. উৎপাদনের পরিমাণ বাড়ে

রর. সামাজিক অবস্থান দৃঢ় হয়

ররর. অর্থনৈতিক উন্নয়ন সম্ভব হয়

নিচের কোনটি সঠিক?

ক র ও রর ● র ও ররর গ রর ও ররর ঘ র, রর ও ররর

২০৯. রাহেলা বেগম নিজের আয় থেকে সঞ্চয় করতে আগ্রহী। এজন্য তাকে যে বিষয়ের ওপর নির্ভর করতে হবে— (উচ্চতর দক্ষতা)  
র. আয়ের পরিমাণ

রর. পারিবারিক দায়িত্ববোধ

ররর. রাজনৈতিক পরিস্থিতি

নিচের কোনটি সঠিক?

● র ও রর খ র ও ররর গ রর ও ররর ঘ র, রর ও ররর

অভিন্ন তথ্যভিত্তিক বহুনির্বাচনি প্রশ্নোত্তর

নিচের অনুচ্ছেদটি পড়ে ২১০ ও ২১১ নং প্রশ্নের উত্তর দাও :

শাহনাজ পারভীন মাসে ত্রিশ হাজার টাকা আয় করেন। ভবিষ্যতের কথা ভেবে তিনি এই আয়ের পুরোটাই খরচ না করে ইসলামি ব্যাংকে দশ হাজার টাকা রেখে দেন। বর্তমানে তার ব্যাংকে রাখা টাকার পরিমাণ হলো এক লক্ষ টাকা।

২১০. ব্যাংকে অর্থ রাখার মাধ্যমে শাহনাজ পারভীন অর্থনীতির কোন ধারণাটির বাস্তবায়ন করেছেন? (প্রয়োগ)  
ক আয় ● সঞ্চয় গ বিনিয়োগ ঘ উপযোগ

২১১. শাহনাজ পারভীনের বাস্তবায়িত ধারণাটি নির্ভর করে মূলত—(উচ্চতর দক্ষতা)

র. আয়ের পরিমাণের ওপর

রর. পরিবারের সদস্যদের মধ্যে সম্পর্কের ওপর

ররর. পারিবারিক দায়িত্ববোধের ওপর

নিচের কোনটি সঠিক?

ক র ও রর ● র ও ররর গ রর ও ররর ঘ র, রর ও ররর

পাঠ- ২.৫ : অর্থনৈতিক কার্যাবলি ও অ-অর্থনৈতিক কার্যাবলি



- কাজের মূল লক্ষ্য হলো— জীবিকা অর্জন করা।
- অর্থনৈতিক কার্যাবলিকে ভাগ করা যায়— ২ ভাগে।
- অর্থনৈতিক কর্মকাণ্ডের মূল শ্রেণী হলো— অভাব পূরণ করা।
- যে সমস্ত কর্মকাণ্ডের মাধ্যমে অর্থ উপার্জিত হয় না তাকে বলে— অ-অর্থনৈতিক কাজ।
- অভাব পূরণ করে কিন্তু অর্থ উপার্জনে ভূমিকা রাখে না— অ-অর্থনৈতিক কাজ।
- সমাজে বিরূপ প্রভাব ফেলে বা অসামাজিক কাজকে বলা হয়— অ-অর্থনৈতিক কাজ।

সাধারণ বহুনির্বাচনি প্রশ্নোত্তর

২১২. বেঁচে থাকার জন্য মানুষ যেসব কাজ করে তার মূল লক্ষ্য কী? (অনুধাবন)  
ক সঞ্চয় করা ● জীবিকা সংগ্রহ করা

গ বিনিয়োগ করা ঘ ব্যয় করা

২১৩. মানুষ কলকারখানায় কাজ করে কেন? (অনুধাবন)

● জীবিকার জন্য খ ক্যারিয়ারের জন্য

গ সুনামের জন্য ঘ মানুষের মন রক্ষার জন্য

২১৪. লাকি পড়াশোনার পাশাপাশি চিত্রবিনোদন করে থাকে। তার এ কাজটি কোন ধরনের কার্যাবলির অন্তর্ভুক্ত? (প্রয়োগ)

ক অর্থনৈতিক ● অ-অর্থনৈতিক

গ কৃষির অন্তর্ভুক্ত ঘ অসামাজিক

২১৫. নিচের কোনটি অ-অর্থনৈতিক কাজ? (অনুধাবন)

● ছিনতাই করা খ জেলের মাছ ধরা

গ কৃষকের জমিতে সার দেয়া ঘ মাছ চাষ করা

২১৬. মানুষের কাজকে কয় ভাগে ভাগ করা যায়? (জ্ঞান)

● দুই খ তিন গ চার ঘ পাঁচ

২১৭. মানুষ জীবিকা সংগ্রহের জন্য যে কার্যাবলি করে তাকে কী বলে? (জ্ঞান)

● অর্থনৈতিক কার্যাবলি খ অ-অর্থনৈতিক কার্যাবলি



গ কৃষিবহির্ভূত কার্যাবলি	ঘ উৎপাদন সংক্রান্ত কার্যাবলি	
২১৮. নিচের কোনটি অর্থনৈতিক কাজ? ● শ্রমিকের কলকারখানায় কাজ	খ শিশুর খেলাধুলা	(জ্ঞান)
গ ডাকাতি	ঘ দুর্নীতি	
২১৯. কোনটি অর্থনৈতিক কাজ? ক সিনেমা দেখা	● কৃষকের জমি চাষ করা	(জ্ঞান)
গ খেলাধুলা করা	ঘ ধর্মচর্চা করা	
২২০. জারিন আহমেদ ডাক্তার হয়ে রোগীদের চিকিৎসা করে। তার এ কাজ কোন ধরনের কাজের আওতাভুক্ত? ক সাধারণ	● অর্থনৈতিক	(প্রয়োগ)
গ অ-অর্থনৈতিক	ঘ প্রাকৃতিক	
২২১. কোনটি অর্থনৈতিক কাজ? ক মাতৃশ্রম	● ডাক্তারের চিকিৎসা	(অনুধাবন)
গ ভাঙা কলম	ঘ সূর্যকিরণ	
২২২. মানুষের অর্থনৈতিক কর্মকাণ্ডের মূল প্রেরণা কী? ক অর্থ উপার্জন	খ অর্থ সঞ্চয়	(অনুধাবন)
গ জীবিকা নির্বাহ	● অভাব পূরণ	
২২৩. কোন ধরনের কাজ জীবন ধারণের জন্য অনুপযুক্ত? ক অর্থনৈতিক	● অ-অর্থনৈতিক	(অনুধাবন)
গ কৃষিসংক্রান্ত	ঘ কৃষিবহির্ভূত	
২২৪. কোনটি অ-অর্থনৈতিক কাজ? ক কৃষকের জমি চাষ	খ ডাক্তারের সেবা প্রদান	(জ্ঞান)
গ শিল্প প্রতিষ্ঠান পরিচালনা	● শখের বশে খেলাধুলা করা	

বহুপদী সমাঙ্গিসূচক বহুনির্বাচনি প্রশ্নোত্তর

২২৫. অর্থনৈতিক কাজ হলো— র. শিল্পপতির শিল্পপ্রতিষ্ঠান পরিচালনা করা	(অনুধাবন)
রর. হাঁস-মুরগি প্রতিপালন ও বিক্রয় করা	
ররর. পিতামাতার সন্তান লালন-পালন করা	
নিচের কোনটি সঠিক?	
● র ও রর    খ র ও ররর    গ রর ও ররর    ঘ র, রর ও ররর	
২২৬. অ-অর্থনৈতিক কাজ হলো— র. খেলাধুলা করা	(অনুধাবন)
রর. দুর্নীতি করা	
ররর. জমি চাষ করা	
নিচের কোনটি সঠিক?	
ক র    খ রর    ● র ও রর    ঘ রর ও ররর	

২২৭. জয়িতা সব সময় গান শোনে। তার এ কাজটি অ-অর্থনৈতিক হওয়ার কারণ— র. অর্থ উপার্জনের অনুপযুক্ত হওয়া	(প্রয়োগ)
রর. বিনোদনের চাহিদা পূরণ করা	
ররর. জীবনধারণের জন্য অনুপযুক্ত হওয়া	
নিচের কোনটি সঠিক?	
ক র ও রর    ● র ও ররর    গ রর ও ররর    ঘ র, রর ও ররর	

অভিন্ন তথ্যভিত্তিক বহুনির্বাচনি প্রশ্নোত্তর

নিচের অনুচ্ছেদটি পড়ে ২২৮ ও ২২৯ নং প্রশ্নের উত্তর দাও :	
বিপ্লব কিশোর বয়স থেকেই চুরি, ছিনতাইসহ বিভিন্ন নেতিবাচক কর্মকাণ্ডের সাথে জড়িত ছিল। বড় হয়ে সে একটি ডাকাতি দল পরিচালনা করে এবং এক পর্যায়ে সে জাতীয় ও আন্তর্জাতিক পর্যায়ে বিভিন্ন দুর্নীতিতে জড়িয়ে পড়ে।	
২২৮. বিপ্লবের কর্মকাণ্ড কোন ধরনের কার্যাবলির অন্তর্ভুক্ত? ক সাধারণ    খ অর্থনৈতিক    ● অ-অর্থনৈতিক    ঘ প্রাকৃতিক	(প্রয়োগ)
২২৯. বিপ্লবের কার্যাবলিকে উক্ত ধরনের অন্তর্ভুক্ত করার কারণ—(উচ্চতর দক্ষতা) র. এ কর্মকাণ্ড সমাজে বিরূপ প্রভাব ফেলে	
রর. এ কর্মকাণ্ড কৃষিবহির্ভূত বলে	
ররর. এ কর্মকাণ্ড ব্যক্তি বা সমাজকে ক্ষতিগ্রস্ত করে	
নিচের কোনটি সঠিক?	
ক র ও রর    খ র ও ররর    গ রর ও ররর    ● র, রর ও ররর	

২.৬ : বাংলাদেশের অর্থনৈতিক কার্যাবলি

- বাংলাদেশ দক্ষিণ এশিয়ার একটি- উন্নয়নশীল দেশ।
- এদেশের অর্থনীতি মূলত নির্ভরশীল- কৃষির ওপর।
- কৃষিকাজে নিয়োজিত বাংলাদেশের মোট শ্রমশক্তির শতকরা- ৫০ ভাগ।
- এদেশের মানুষ প্রত্যক্ষ ও পরোক্ষভাবে কৃষির ওপর নির্ভরশীল শতকরা-৭৫ ভাগ।
- সাম্প্রতিককালে বাংলাদেশে অবদান বাড়ছে- শিল্পখাতের।
- বাংলাদেশের অর্থনৈতিক কার্যাবলি- ২ প্রকার।

সাধারণ বহুনির্বাচনি প্রশ্নোত্তর

২৩০. বাংলাদেশ কী ধরনের দেশ? ক শিল্পোন্নত    খ উন্নত    ● উন্নয়নশীল    ঘ অনুন্নত	(জ্ঞান)
২৩১. বাংলাদেশের অর্থনীতি মূলত কীসের ওপর নির্ভর করে? ক র    খ রর    ● র ও রর    ঘ রর ও ররর	(জ্ঞান)

● কৃষি	খ বাণিজ্য	গ শিল্প	ঘ যোগাযোগ
২৩২. সম্প্রতি বাংলাদেশে কোন খাতের অবদান ক্রমেই বাড়ছে? (জ্ঞান) ক কৃষি	খ সেবা	● শিল্প	ঘ বাণিজ্য
২৩৩. বাংলাদেশের মানুষের কর্মসংস্থানের দিক দিয়ে কোন খাতটি সবচেয়ে বড়? (জ্ঞান) ● কৃষি	খ শিল্প	গ বাণিজ্য	ঘ সেবা
২৩৪. বাংলাদেশের জনসংখ্যায় কত ভাগ কৃষির ওপর প্রত্যক্ষ অথবা পরোক্ষভাবে জড়িত? (জ্ঞান) ক ৫০	খ ৬০	গ ৭০	● ৭৫
২৩৫. বাংলাদেশের শ্রমশক্তির কতভাগ কৃষিখাতে নিয়োজিত? (জ্ঞান) ক ৩০%	খ ৪০%	গ ৪৫%	● ৫০%
২৩৬. নিচের কোনটি কৃষিসংক্রান্ত অর্থনৈতিক কার্যাবলির অন্তর্ভুক্ত? (জ্ঞান) ● হাঁস-মুরগি প্রতিপালন	খ রেললাইন নির্মাণ	গ পুতুল তৈরি	ঘ মিষ্টি তৈরি
২৩৭. সালাহউদ্দীন ফকিরাপুল বাজারে ফল বিক্রি করেন। তার এ কাজটি কোন ধরনের কাজের অন্তর্ভুক্ত? (প্রয়োগ) ● কৃষিসংক্রান্ত অর্থনৈতিক	খ কৃষিবহির্ভূত অর্থনৈতিক	গ উৎপাদনশীল অর্থনৈতিক	ঘ স্বল্পোন্নত অর্থনৈতিক
২৩৮. শান্তিনগরে জুয়েনার একটি বুটিক শপ আছে। এখানে সে যে কাজ করে তা কোন অর্থনৈতিক কাজের অন্তর্ভুক্ত? (উচ্চতর দক্ষতা) ● এটি পোশাক শিল্পের অন্তর্ভুক্ত	খ এটি শহরে অবস্থিত	গ এটি দোকানের কাজ	ঘ এতে পরিশ্রম কম
২৩৯. সরকারি ও বেসরকারি বিভিন্ন চাকরি কোন ধরনের কাজের অন্তর্ভুক্ত? (জ্ঞান) ● কৃষিবহির্ভূত অর্থনৈতিক	খ কৃষিসংক্রান্ত অর্থনৈতিক	গ ঐচ্ছিক অর্থনৈতিক	ঘ বাধ্যতামূলক অর্থনৈতিক
২৪০. রতনবাবু একজন স্বর্ণকার। তার কাজ কোন ধরনের কার্যাবলির অন্তর্ভুক্ত? (প্রয়োগ) ● কৃষিবহির্ভূত অর্থনৈতিক	খ কৃষি অন্তর্ভুক্ত অর্থনৈতিক	গ কৃষি অন্তর্ভুক্ত অ-অর্থনৈতিক	ঘ কৃষিবহির্ভূত অ-অর্থনৈতিক
২৪১. নিচের কোনটি কৃষিবহির্ভূত অর্থনৈতিক কার্যাবলির অন্তর্ভুক্ত? (জ্ঞান) ক ফসল বিক্রয়	● বন্য প্রাণীর খেলা দেখানো	গ ফলমূল উৎপাদন	ঘ মাছ বিক্রয়

---

বহুপদী সমাপ্তিসূচক বহুনির্বাচনি প্রশ্নোত্তর			
২৪২. বাংলাদেশের কৃষিবহির্ভূত অর্থনৈতিক কাজ হলো— (অনুধাবন) র. কুটিরশিল্পের কাজ			
রর. বিড়ি তৈরির কাজ			
ররর. ফলমূল উৎপাদনের কাজ			
নিচের কোনটি সঠিক? ● র ও রর	খ র ও ররর	গ রর ও ররর	ঘ র, রর ও ররর
২৪৩. বাংলাদেশ দক্ষিণ এশিয়ার একটি— (অনুধাবন) র. উন্নয়নশীল দেশ			

রর. উন্নত দেশ			
ররর. কৃষিনির্ভর দেশ			
নিচের কোনটি সঠিক? ক র ও রর	● র ও ররর	গ রর ও ররর	ঘ র, রর ও ররর

---

অভিন্ন তথ্যভিত্তিক বহুনির্বাচনি প্রশ্নোত্তর			
নিচের অনুচ্ছেদটি পড়ে ২৪৪ ও ২৪৫ নং প্রশ্নের উত্তর দাও :			
রূপাদের পরিবারে চার জন সদস্য। এর মধ্যে রূপার বাবা একজন দর্জি। তার ভাই পশু পালন করে। তার মা এবং সে পুতুল ও মিষ্টি তৈরির কাজ করে।			
২৪৪. রূপার ভাইয়ের কাজটি কোন ধরনের কাজ? (প্রয়োগ) ● কৃষিসংক্রান্ত অর্থনৈতিক	খ কৃষিবহির্ভূত অর্থনৈতিক	গ কৃষিসংক্রান্ত অ-অর্থনৈতিক	ঘ কৃষিবহির্ভূত অ-অর্থনৈতিক
২৪৫. অনুচ্ছেদে বর্ণিত কৃষি বহির্ভূত অর্থনৈতিক কাজ হলো—(উচ্চতর দক্ষতা) র. দর্জির কাজ			
রর. পুতুল তৈরি			
ররর. মিষ্টি তৈরি			
নিচের কোনটি সঠিক? ক র ও রর	খ র ও ররর	গ রর ও ররর	● র, রর ও ররর

---

■ অধ্যায়ের পাঠ সমন্বিত বহুনির্বাচনি প্রশ্নোত্তর			
বহুপদী সমাপ্তিসূচক বহুনির্বাচনি প্রশ্নোত্তর			
২৪৬. বাংলাদেশের প্রাণিজ সম্পদ আমাদের জন্য যে সুফল বয়ে আনে— (অনুধাবন) র. পুষ্টির চাহিদা পূরণ করে			
রর. কর্মসংস্থানের সুযোগ সৃষ্টি করে			
ররর. শিক্ষার মান উন্নত করে			
নিচের কোনটি সঠিক? ● র ও রর	খ র ও ররর	গ রর ও ররর	ঘ র, রর ও ররর
২৪৭. অর্থনৈতিক দ্রব্যের বৈশিষ্ট্য হলো— (অনুধাবন) র. এগুলো প্রকৃতিতে অবাধে পাওয়া যায়			
রর. এগুলোর যোগান সীমাবদ্ধ থাকে			
ররর. এগুলোর জন্য মূল্য প্রদান করতে হয়			
নিচের কোনটি সঠিক? ক র ও রর	খ র ও ররর	● রর ও ররর	ঘ র, রর ও ররর
২৪৮. অর্থনৈতিক কর্মকাণ্ডের মাধ্যমে মানুষ— (অনুধাবন) র. অর্থ উপার্জন করে			
রর. জীবন ধারণ করে			
ররর. বিদেশ গমন করে			

নিচের কোনটি সঠিক?

র ও রর     খ র ও ররর     গ রর ও ররর     ঘ র, রর ও ররর

২৪৯. খাদ্যকে অর্থনীতির ভাষায় বলা যায়—

র. অর্থনৈতিক দ্রব্য                      রর. মূলধনী দ্রব্য

ররর. অস্থায়ী ভোগ্যদ্রব্য

নিচের কোনটি সঠিক?

ক র ও রর     র ও ররর     গ রর ও ররর     ঘ র, রর ও ররর

২৫০. কৃষিকাজের সাথে জড়িত—

র. পশুপালন                              রর. ক্ষুদ্র শিল্পের কাজ

ররর. কীটনাশক ছিটানো

নিচের কোনটি সঠিক?

ক র ও রর     খ র ও ররর     রর ও ররর     ঘ র, রর ও ররর

---

অভিন্ন তথ্যভিত্তিক বহুনির্বাচনি প্রশ্নোত্তর

---

নিচের অনুচ্ছেদটি পড়ে ২৫১ ও ২৫২ নং প্রশ্নের উত্তর দাও :

রহিম ভালো শ্রমিক। সে তার শারীরিক যোগ্যতা অনুসারে কাজ করে ভালো আয় করে। তার মতে শ্রমিক জনগণের দক্ষতা বৃদ্ধি করে।

২৫১. শারীরিক যোগ্যতা কোন ধরনের সম্পদ?

ক ব্যক্তিগত সম্পদ                       মানবিক সম্পদ

গ প্রাকৃতিক সম্পদ                      ঘ সমষ্টিগত সম্পদ

২৫২. এ ধরনের সম্পদে কোন বৈশিষ্ট্য থাকে না?

র. হস্তান্তরযোগ্যতা

রর. অপ্ৰাচুর্যতা

ররর. বাহ্যিকতা

নিচের কোনটি সঠিক?

র ও রর     খ র ও ররর     গ রর ও ররর     ঘ র, রর ও ররর



# উপযোগ, চাহিদা, যোগান ও ভারসাম্য

## সৃজনশীল প্রশ্ন

১। ক ও খ ব্যক্তির ক্ষেত্রে  $Q_D$  দ্রব্যের চাহিদা সূচি দেওয়া হলো -

প্রতি একক দ্রব্যের দাম (টাকায়)	ক ব্যক্তির চাহিদার পরিমাণ (কুইন্টাল)	খ ব্যক্তির চাহিদার পরিমাণ (কুইন্টাল)
২০ টাকা	৫	৭
১৫ টাকা	১০	১১
১০ টাকা	১৫	১৫

ক. উপযোগ কাকে বলে?

খ. মোট উপযোগ ও প্রান্তিক উপযোগের মধ্যে একটি সম্পর্ক ব্যাখ্যা কর।

গ.  $Q_D$  দ্রব্যের চাহিদা সূচি থেকে 'ক' ব্যক্তির চাহিদা রেখা অংকন করে ব্যাখ্যা কর।

ঘ.  $Q_D$  দ্রব্যের বাজার চাহিদা রেখা অংকন করে 'ক' ব্যক্তির চাহিদা রেখার সাথে তুলনা কর।

২। সুজন বাজারে গিয়ে দেখে আলুর দাম প্রতি কেজি ২৫ টাকা। সে ১২০ কেজি আলু কিনে, কিন্তু করিম একই দামে ১৬০ কেজি আলু বিক্রি করতে চায়। পরদিন আলুর দাম কমে ২০ টাকা হওয়াতে সুজন ১৪০ কেজি আলু কেনে এবং করিম ১৪০ কেজি আলু বিক্রি করে।

ক. চাহিদা কাকে বলে?

খ. চাহিদা বিধিটি ব্যাখ্যা কর।

গ. করিমের আলুর যোগান রেখা অংকন করে ব্যাখ্যা কর।

ঘ. তুমি কি মনে কর সুজন ও করিম আলুর বাজারে ভারসাম্য দামে পৌঁছতে পেরেছে? তোমার উত্তরের সপক্ষে যুক্তি দাও।

৩। নিচে একটি পণ্যের যোগান সূচি দেখানো হলো :

দাম (প্রতিএকক)	যোগানের পরিমাণ
১০ টাকা	১০০ একক
২০ টাকা	২০০ একক

৩০ টাকা	৩০০ একক
৪০ টাকা	৪০০ একক

ক. যোগান কাকে বলে?

১

খ. যোগানসূচি ও যোগান রেখার মধ্যে তফাৎ কী?

২

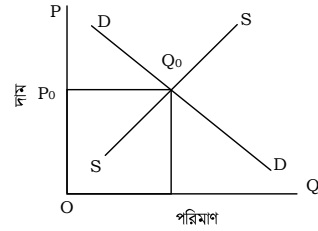
গ. উপরের যোগানসূচি থেকে একটি যোগান রেখা অংকন করে তা ব্যাখ্যা কর।

৩

ঘ. উপরোক্ত যোগান বিধিটি বাংলাদেশে আলুর যোগানের ক্ষেত্রে কতটা কার্যকর বিশ্লেষণ কর।

৪

৪। নিচের চিত্রটি দেখে প্রশ্নগুলোর উত্তর দাও :



ক. অর্থনীতিতে চাহিদা কী?

১

খ. প্রান্তিক উপযোগ বলতে কী বোঝায়?

২

গ. উল্লিখিত চিত্রটি অর্থনীতির কোন ধারণার সঙ্গে সঙ্গতিপূর্ণ? ব্যাখ্যা কর।

৩

ঘ. বর্ণিত চিত্রে শুধুমাত্র ঝঝ রেখাটি বামে স্থানান্তরিত হলে, অর্থনীতিতে এর প্রতিক্রিয়া কিরূপ হবে বলে তুমি মনে কর।

৪

৫। জনাব শফিক উদ্দীনের কমলা খাওয়ার ইচ্ছে হলে তিনি প্রথমে ৮ টাকা দিয়ে একটি কমলালেবু কিনলেন। পরবর্তীতে তিনি ৭ টাকা দিয়ে আরও একটি কমলালেবু কিনলেন। এভাবে তিনি পর্যায়ক্রমে ৬ টাকা, ৫ টাকা ও ৪ টাকায় যথাক্রমে ৩য়, ৪র্থ ও ৫ম কমলালেবু ক্রয় করলেন। ১ম কমলালেবুটি খাওয়ার পর তার উপযোগ কিছুটা কমে গিয়েছিল।

ক. অর্থনীতিতে ভোগ বলতে কী বোঝায়?

১

খ. মোট উপযোগ ও প্রান্তিক উপযোগের মধ্যে ২টি পার্থক্য লিখ।

২

গ. জনাব শফিক উদ্দীনের আচরণের মধ্য দিয়ে অর্থনীতির যে গুরুত্বপূর্ণ বিধিটি প্রকাশিত হয়েছে তা রেখাচিত্রের সাহায্যে ব্যাখ্যা কর।

৩

ঘ. উক্ত বিধিটি যে শর্তগুলো মেনে চলে তা বিশ্লেষণ কর।

৪

৬। একটি পণ্যের যোগানসূচি দেখানো হলো

দাম (প্রতি একক)	যোগানের পরিমাণ (একক)
১০ টাকা	২০০ একক
২০ টাকা	২৫০ একক
৩০ টাকা	৩০০ একক
৪০ টাকা	৩৫০ একক

- ক. যোগান কাকে বলে? ১
- খ. যোগান বিধি ব্যাখ্যা কর। ২
- গ. উপরের সূচি থেকে একটি যোগান রেখা অঙ্কন করে তা ব্যাখ্যা কর। ৩
- ঘ. উপরিউক্ত যোগান বিধিটি বাংলাদেশে আলুর যোগানের ক্ষেত্রে কতটা কার্যকর তা বিশ্লেষণ কর।

৭।

কলা (একক)	মোট উপযোগ (টাকায়)	প্রান্তিক উপযোগ (টাকায়)
১ম	৩	৩
২য়	৫	২
৩য়	৬	১
৪র্থ	৬	০
৫ম	৪	-১

- ক. উপযোগ কী? ১
- খ. চাহিদা বিধি বলতে কী বোঝ? ২
- গ. উপরের সূচিটি রেখাচিত্রের সাহায্যে বর্ণনা কর। ৩
- ঘ. পছন্দের কোনো দ্রব্য বা শখের দ্রব্য ক্রয়ের ক্ষেত্রে এ বিধিটির কার্যকারিতা বিশ্লেষণ কর। ৪

৮। আলম একজন ধান উৎপাদনকারী। তার উৎপাদিত ধানের যোগান সূচি দেওয়া হলো :

যোগান সূচি

প্রতি কুইন্টাল দাম (টাকায়)	যোগানের পরিমাণ (কুইন্টাল)
১০ টাকা	১০
২০ টাকা	২০
৩০ টাকা	৩০
৪০ টাকা	৪০

- ক. যোগান কী? ১
- খ. যোগান সূচি ও যোগান রেখার মধ্যে পার্থক্য কী? ২
- গ. যোগান সূচি ব্যবহার করে আলম সাহেবের ধানের যোগান রেখা অঙ্কন করে ব্যাখ্যা কর। ৩
- ঘ. ভবিষ্যতে আরও দাম বাড়ার সম্ভাবনা থাকলে আলম সাহেবের ধানের যোগানের ক্ষেত্রে কী ধরনের পরিবর্তন আসবে? বিশ্লেষণ কর। ৪

৯। নিচে একটি পণ্যের চাহিদা সূচি দেওয়া হলো

প্রতি একক পণ্যের দাম (টাকায়)	চাহিদার পরিমাণ (একক)
২.০০	২০
৪.০০	১৫
৬.০০	১০
৮.০০	৫

- ক. চাহিদা কী? ১
- খ. চাহিদা বিধি কী? ব্যাখ্যা কর। ২
- গ. উপরের চাহিদা সূচি থেকে একটি চাহিদা রেখা অঙ্কন করে ব্যাখ্যা কর। ৩
- ঘ. অন্যান্য অবস্থা অপরিবর্তিত থাকলে দাম বাড়ার পাশাপাশি আয়ের বৃদ্ধি ঘটলে চাহিদা রেখার কী পরিবর্তন ঘটবে? বিশ্লেষণ কর। ৪

১০। নিচের ছকটি দেখে প্রশ্নগুলোর উত্তর দাও :

দ্রব্যের দাম (টাকায়)	১ম ভোক্তার চাহিদা (এককে) (ছ <sub>১</sub> )	২য় ভোক্তার চাহিদা (এককে) (ছ <sub>২</sub> )	বাজার চাহিদা (এককে) ছ = (ছ <sub>১</sub> + ছ <sub>২</sub> )
৫	৬	১০	১৬
১০	৪	৮	১২
১৫	২	৬	৮

ক. সাধারণ অর্থে চাহিদা বলতে কী বোঝায়? ১

খ. ক্রেতার ইচ্ছা ও আকাঙ্ক্ষার সাথে সামর্থ্য থাকলে তবেই তা চাহিদা হয়- বুঝিয়ে লেখ। ২

গ. উদ্দীপকে উল্লিখিত তথ্যের ভিত্তিতে বাজার চাহিদা রেখা অঙ্কন করে ব্যাখ্যা কর। ৩

ঘ. ২য় ভোক্তার চাহিদা রেখা অঙ্কন করে তার ভিত্তিতে চাহিদা বিধির কার্যকারিতা ব্যাখ্যা কর। ৪

১১। একজন ভোক্তার কাল্পনিক উপযোগ সূচি উপস্থাপন করা হলো :

দ্রব্যের একক	মোট উপযোগ (টাকায়)	প্রান্তিক উপযোগ (টাকায়)
১ম	৮	
২য়	১৫	
৩য়	২১	
৪র্থ	২৬	
৫ম	৩০	
৬ষ্ঠ	৩০	
৭ম	২৯	

ক. উপযোগ কী? ১

খ. খালি কলামটি পূরণ কর। ২

গ. সূচিটি যে বিধি প্রকাশ করছে তা বর্ণনা কর। ৩

ঘ. সূচির সাহায্যে রেখাচিত্র অঙ্কন কর। ৪

সাধারণ বহুনির্বাচনি প্রশ্নোত্তর

১. একজন বিক্রেতা কোনো একটি দ্রব্যের যে পরিমাণ একটি নির্দিষ্ট সময়ে এবং একটি নির্দিষ্ট দামে বিক্রয় করতে ইচ্ছুক তাকে বলে- [স. বো. '১৬]

ক চাহিদা ● যোগান গ উপযোগ ঘ মজুদ

২. দাম ও যোগানের সম্পর্ক কী? [স. বো. '১৬]

ক বিপরীতমুখী ● সমমুখী

গ আড়াআড়ি ঘ কোনো সম্পর্ক নেই

৩. অর্থনীতিতে উৎপাদন বলতে কী বোঝায়? [স. বো. '১৫]

● উপযোগ সৃষ্টি করা ✕ চাহিদা সৃষ্টি করা

গ বিনিয়োগ সৃষ্টি করা ঘ যোগান সৃষ্টি করা

৪. কোন উপাদানগুলো ভারসাম্য মূল্য নির্ধারণে সাহায্য করে? [স. বো. '১৫]

ক উপযোগ ও প্রান্তিক উপযোগ ● চাহিদা ও যোগান

গ সঞ্চয় ও বিনিয়োগ ঘ ভোগ ও বিনিয়োগ

৫. একটি নির্দিষ্ট সময়ে বিক্রয়োধ্য একটি দ্রব্যের মোট পরিমাণকে কী বলে? [স. বো. '১৫]

ক চাহিদা ● যোগান

গ উপযোগ ঘ সম্পদ

৬. ক্রমহ্রাসমান প্রান্তিক উপযোগ বিধির অনুমিত শর্ত কয়টি? [বি এ এফ শাহীন কলেজ, চট্টগ্রাম]

ক ২ ✕ ৩ গ ৪ ● ৫

৭. উপযোগ বলতে কী বোঝায়? [অগ্রগামী সরকারি উচ্চ বিদ্যালয়, সিলেট]

● অভাব মোচনের ক্ষমতাকে ✕ তৃপ্তি মেটানোর ক্ষমতাকে

গ ভোগের তীব্রতাকে ঘ চাহিদার পরিমাণকে

৮. অর্থনীতিতে কোনো দ্রব্যের অভাব পূরণের ক্ষমতাকে কী বলে? [পুলিশ লাইসেন্স স্কুল এন্ড কলেজ, বগুড়া]

ক যোগান ● উপযোগ

গ চাহিদা ঘ সঞ্চয়

৯. একটি নির্দিষ্ট সময়ে একটি দ্রব্য ক্রমাগতভাবে ভোগ করতে থাকলে তার কোনটি হ্রাস পায়? [মিরপুর বাংলা স্কুল এন্ড কলেজ, ঢাকা]

ক স্বাদ ✕ রুচি ● উপযোগ ঘ উপকারিতা

১০. অর্থনীতিতে ভোগের অর্থ কী? [বিএএফ শাহীন কলেজ, চট্টগ্রাম]

ক উপযোগ বৃদ্ধি ✕ উপযোগের সৃষ্টি

গ উপযোগের ক্ষমতা ● উপযোগের ব্যবহার

১১. দ্রব্য ব্যবহারের মাধ্যমে আমরা কী গ্রহণ করি? [বিএএফ শাহীন কলেজ, চট্টগ্রাম]

ক তৃপ্তি ✕ অভাব গ বুদ্ধি ● উপযোগ

১২. কোনো দ্রব্য ব্যবহারের মাধ্যমে তার উপযোগ নিঃশেষ করাকে কী বলে? [দিনাজপুর সরকারি বালিকা উচ্চ বিদ্যালয়]

ক সঞ্চয় ● ভোগ গ বিনিয়োগ ঘ উৎপাদন

১৩. একজন ভোক্তা যদি পরপর ৩টি পাকা আম ভোগ করে একে ১ম, ২য় ও ৩য় আম থেকে যথাক্রমে ৮ টাকা, ৭ টাকা ও ৬ টাকার সমান উপযোগ পায়, সেক্ষেত্রে তার মোট উপযোগ কত হবে? [সাতক্ষীরা সরকারি বালিকা উচ্চ বিদ্যালয়]

ক ৮ টাকা	খ ১৩ টাকা
গ ১৫ টাকা	● ২১ টাকা
১৪. মিঠু ৪টি পেয়ারা কিনল, এক্ষেত্রে ৪র্থ পেয়ারাটিকে কী বলা যায়? [বিএএফ শাহীন কলেজ, চট্টগ্রাম]	
ক মোট পেয়ারা	● প্রান্তিক পেয়ারা
গ ভোগকৃত পেয়ারা	ঘ উপভোগ্য পেয়ারা
১৫. কোনো দ্রব্যের অতিরিক্ত একক ভোগের জন্য যে অতিরিক্ত উপযোগের সৃষ্টি হয় তাকে কী বলে? [ভিকারননিসা নূন স্কুল এন্ড কলেজ, ঢাকা; ভোলা সরকারি বালিকা উচ্চ বিদ্যালয়; অহুগামী সরকারি উচ্চ বিদ্যালয়, সিলেট]	
ক মোট উপযোগ	● প্রান্তিক উপযোগ
গ মোট ভোগ	ঘ ভোগ
১৬. প্রান্তিক উপযোগ শূন্য হলে মোট উপযোগ কী? [কামরুন্নেসা সরকারি বালিকা উচ্চ বিদ্যালয়, ঢাকা; কুষ্টিয়া সরকারি বালিকা উচ্চ বিদ্যালয়]	
● সর্বাধিক হয়	খ সর্বনিম্ন হয়
গ একই থাকে	ঘ পরিবর্তিত হয়
১৭. মোট উপযোগ হ্রাস পায় কখন? ক প্রান্তিক উপযোগ হ্রাস পেলে	[আজিমপুর গার্লস স্কুল এন্ড কলেজ, ঢাকা] খ প্রান্তিক উপযোগ শূন্য হলে
● প্রান্তিক উপযোগ ঋণাত্মক হলে	ঘ প্রান্তিক উপযোগ সর্বোচ্চ হলে
১৮. শখ বা নেশাজাতীয় দ্রব্যের ক্ষেত্রে ক্রমহ্রাসমান প্রান্তিক উপযোগ বিধি কীরূপ [বি কে জি সি সরকারি বালিকা উচ্চ বিদ্যালয়, হবিগঞ্জ]	
● কাজ করে না	খ দ্রুত কাজ করে
গ অধিক কার্যকর	ঘ কার্যকর
১৯. সমাজে প্রতিপত্তি লাভের আশায় মানুষ দ্রব্য ক্রয়ের ক্ষেত্রে প্রতিযোগিতায় লিপ্ত হলে অকার্যকর হবে নিচের কোনটি? [মাগুরা সরকারি বালিকা উচ্চ বিদ্যালয়]	
● ক্রমহ্রাসমান প্রান্তিক উপযোগ বিধি	
খ ক্রমহ্রাসমান প্রান্তিক উৎপাদন বিধি	
গ চাহিদা বিধি	
ঘ যোগান বিধি	
২০. একজন ভিক্ষুকের গাড়ি কেনার ইচ্ছাকে চাহিদা বলা যাবে না কেন? [বি কে জি সি সরকারি বালিকা উচ্চ বিদ্যালয়, হবিগঞ্জ]	(অনুধাবন)
ক ইচ্ছা নেই বলে	● সামর্থ্য নেই বলে
গ আকাজক্ষা নেই বলে	ঘ ইচ্ছা ও আকাজক্ষা নেই বলে
২১. কোনো লোকের টেলিভিশন কেনার ইচ্ছা ও সামর্থ্য দুই রয়েছে। একে আমরা কী বলতে পারি? [দিনাজপুর সরকারি বালিকা উচ্চ বিদ্যালয়]	
ক তীব্র শখ	খ বিলাসিতা
● চাহিদা	ঘ যোগান
২২. চাহিদার সাথে কোনটির ঘনিষ্ঠ সম্পর্ক বিদ্যমান? ক উপযোগ ও মূল্য	[বি এ এফ শাহীন কলেজ, চট্টগ্রাম] ● সময় ও দাম
গ যোগান ও চাহিদা	ঘ উৎপাদন ও মজুদ
২৩. দাম বাড়লে চাহিদা কিরূপ হয়? [দি বাডস রেসিডেন্সিয়াল মডেল স্কুল এন্ড কলেজ, শ্রীমঙ্গল]	

ক বাড়়ে	খ সমান থাকে
গ বেশি বাড়়ে	● কমে
২৪. চাহিদা সূচির অপর নাম কী? ক যোগান সূচি	[যশোর জিলা স্কুল] ● চাহিদা তালিকা
গ প্রান্তিক চাহিদা	ঘ চাহিদা ছক
২৫. বিভিন্ন দামে কোনো দ্রব্যের যে বিভিন্ন পরিমাণ চাহিদা রেখাচিত্রের সাহায্যে দেখানো হয়, তাকে কী বলে? ● চাহিদা রেখা	[চয়াডাঙ্গা সরকারি বালিকা উচ্চ বিদ্যালয়] খ যোগান রেখা
গ বাজেট রেখা	ঘ দাম ভোগ রেখা
২৬. চাহিদা রেখা চাহিদা সূচির কিসের প্রকাশ? [অহুগামী সরকারি উচ্চ বিদ্যালয়, সিলেট; বি কে জি সি সরকারি বালিকা উচ্চ বিদ্যালয়, হবিগঞ্জ]	
ক গাণিতিক প্রকাশ	● জ্যামিতিক প্রকাশ
গ বীজগাণিতিক প্রকাশ	ঘ ত্রিকোণমিতিক প্রকাশ
২৭. অর্থনীতিতে কোনো নির্দিষ্ট সময়ে একটি নির্দিষ্ট দামে বিক্রয়ত কোনো দ্রব্যের যে পরিমাণ বিক্রয় করতে প্রস্তুত থাকে তাকে কী বলে? [বি কে জি সি সরকারি বালিকা উচ্চ বিদ্যালয়, হবিগঞ্জ]	
ক চাহিদা	খ ভোগ
গ ক্রয় বিক্রয়	● যোগান
২৮. দাম ও যোগানের সম্পর্ক কিরূপ? [দি বাডস রেসিডেন্সিয়াল মডেল স্কুল এন্ড কলেজ, শ্রীমঙ্গল; বি কে জি সি সরকারি বালিকা উচ্চ বিদ্যালয়, হবিগঞ্জ]	
ক বিপরীতমুখী	
খ সর্বত্র সমান নয়	
● সমমুখী	
ঘ উভয়ই ভোক্তার চাহিদার ওপর নির্ভরশীল	
২৯. যোগান বৃদ্ধি পাওয়ার কারণ কী? ক দামের হ্রাস	[বি এ এফ শাহীন কলেজ, চট্টগ্রাম] ● দামের বৃদ্ধি
গ চাহিদার হ্রাস	ঘ চাহিদা ও দাম হ্রাস
৩০. কোনো নির্দিষ্ট সময়ে একটি দ্রব্য বিভিন্ন দামে বাজারের সব বিক্রয়ত যে পরিমাণ দ্রব্য যোগান দেন তাকে কী বলে? [বি কে জি সি সরকারি বালিকা উচ্চ বিদ্যালয়, হবিগঞ্জ]	
ক ব্যক্তিগত যোগান	খ দ্বৈত যোগান
● বাজার যোগান	ঘ জাতীয় যোগান
৩১. যে দামে চাহিদা ও যোগান পরস্পর সমান হয় তাকে কী বলে? [পুলিশ লাইন্স হাইস্কুল এন্ড কলেজ বগুড়া; বি এ এফ শাহীন কলেজ, চট্টগ্রাম]	
ক ভারসাম্য চাহিদা	খ ভারসাম্য যোগান
● ভারসাম্য দাম	ঘ ভারসাম্য পরিমাণ

### বহুপদী সমাপ্তিসূচক বহুনির্বাচন প্রশ্নোত্তর

৩২. উপযোগের ধারণাটির সাথে সংশ্লিষ্ট—	[নড়াইল সরকারি উচ্চ বিদ্যালয়]
--------------------------------------	--------------------------------



র. কোনো দ্রব্য দ্বারা অভাব মোচনের ক্ষমতা

রর. কোনো দ্রব্য দ্বারা অভাব পূরণের ক্ষমতা

ররর. কোনো দ্রব্যের উপযোগ ধ্বংস

নিচের কোনটি সঠিক?

- র ও রর    খ র ও ররর    গ রর ও ররর    ঘ র, রর ও ররর

৩৩. আনজু শপিংমল থেকে নিজের জন্য একটি জামা কেনায় তাকে ভোক্তা বলা হয়। কারণ সে— [অগ্রগামী সরকারি উচ্চ বিদ্যালয়, সিলেট]

র. জামাটির উপযোগ নিঃশেষ করবে

রর. জামাটি ভোগ করার জন্য অর্থ ব্যয় করেছে

ররর. জামাটি ক্রয়ে দর কষাকষি করেছে

নিচের কোনটি সঠিক?

- ক র ও রর    খ র ও ররর    গ রর ও ররর    ● র, রর ও ররর

৩৪. কোনো দ্রব্য বারবার ভোগ করার ফলে ঐ দ্রব্যের প্রতি কমে ভোক্তার— [বিএএফ শাহীন কলেজ, চট্টগ্রাম]

র. আত্মহ

রর. উপযোগ

ররর. অভাব

নিচের কোনটি সঠিক?

- ক র ও রর    খ র ও ররর    গ রর ও ররর    ● র, রর ও ররর

৩৫. ব্যক্তিগত যোগান সূচিতে উপস্থিত থাকে— [অগ্রগামী সরকারি উচ্চ বিদ্যালয়, সিলেট]

র. একাধিক বিক্রেতা

রর. একটি দ্রব্যের বিভিন্ন দাম

ররর. একটি নির্দিষ্ট সময়

নিচের কোনটি সঠিক?

- ক র ও রর    খ র ও ররর    গ রর ও ররর    ● র, রর ও ররর

৩৬. যোগান বৃদ্ধি পাওয়ার কারণ হলো— [মাতৃগীঠ সরকারি বালিকা উচ্চ বিদ্যালয়, চাঁদপুর; কুষ্টিয়া সরকারি বালিকা উচ্চ বিদ্যালয়]

র. বাজারে দ্রব্যের দাম বৃদ্ধি পাওয়া

রর. বাজারে দ্রব্যের দাম হ্রাস পাওয়া

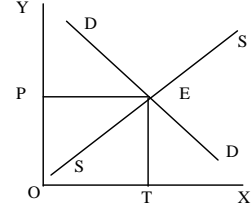
ররর. বাজারে দ্রব্যের চাহিদা বৃদ্ধি পাওয়া

নিচের কোনটি সঠিক?

- ক র ও রর    ● র ও ররর    গ রর ও ররর    ঘ র, রর ও ররর

### অভিন্ন তথ্যভিত্তিক বহুনির্বাচনি প্রশ্নোত্তর

নিচের চিত্রটি দেখে ৩৭ ও ৩৮ নং প্রশ্নের উত্তর দাও :



৩৭. চিত্রটি কী নির্দেশ করছে?

[স. বো. '১৬]

ক চাহিদার পরিমাণ

খ যোগানের পরিমাণ

● ভারসাম্য দাম ও পরিমাণ

ঘ উপযোগের পরিমাণ

৩৮. উ বিন্দুতে চাহিদা ও যোগান হলো—

র. চাহিদা < যোগান

রর. চাহিদা = যোগান

ররর. চাহিদা > যোগান

নিচের কোনটি সঠিক?

- ক র    ● রর    গ ররর    ঘ র ও রর

নিচের অনুচ্ছেদটি পড়ে ৩৯ ও ৪০ নং প্রশ্নের উত্তর দাও :

আলভীর আম খেতে খুব ইচ্ছে করল। তাই সে বাজারে গেল। প্রথমে সে ৭ টাকা দিয়ে একটি আম কিনে খেলো। তারপর ২য় আমের জন্য সে ৫ টাকা দিল। সবশেষে ৩য় আমের জন্য ৪ টাকা দিল। [নীলফামারী সরকারি উচ্চ বিদ্যালয়]

৩৯. আলভীর মোট উপযোগ ক্রমান্বয়ে—

● হ্রাস পেল

খ বৃদ্ধি পেল

গ স্থির থাকল

ঘ সর্বোচ্চ হলো

৪০. উক্ত উপযোগের সম্পর্ক হলো—

র. মোট উপযোগ বাড়লে প্রান্তিক উপযোগ সর্বোচ্চ

রর. মোট উপযোগ বাড়লে প্রান্তিক উপযোগ কমে

ররর. মোট উপযোগ সর্বোচ্চ হলে প্রান্তিক উপযোগ শূন্য

নিচের কোনটি সঠিক?

- ক র ও রর    খ র ও ররর    ● রর ও ররর    ঘ র, রর ও ররর

### ■ বিষয়ক্রম অনুযায়ী বহুনির্বাচনি প্রশ্নোত্তর

➔ ৩.১ : উপযোগ, ভোগ ও ভোক্তা

➔ বোর্ড বই, পৃষ্ঠা- ২৪

At a Glance

- মানুষের অভাব পূরণের ক্ষমতাকে বলা হয়— উপযোগ।
- দ্রব্যসামগ্রি ব্যবহারের মাধ্যমে আমরা গ্রহণ করি— উপযোগ।
- খাদ্য, বস্ত্র, বইপত্র, সেবা প্রভৃতি— মানুষের অভাব মেটায়।
- কোনো দ্রব্যের উপযোগ নিঃশেষ করাকে বলে— ভোগ।
- যে ব্যক্তি ভোগ করে তাকে— ভোক্তা বলে।

### সাধারণ বহুনির্বাচনি প্রশ্নোত্তর

৪১. মানুষের দ্রব্য-সামগ্রীর প্রয়োজন হয় কেন? (অনুধাবন)  
 ● বেঁচে থাকার জন্য      ✕ বিলাসিতার জন্য  
 গ গতিশীলতার জন্য      ঘ উন্নয়নের জন্য
৪২. আমরা কোনটি ছাড়া স্বাভাবিক জীবনযাপন করতে পারি না? (জ্ঞান)  
 ● দ্রব্যসামগ্রী      ✕ শিল্পপ্রতিষ্ঠান  
 গ সামাজিক চাহিদা      ঘ সেবা
৪৩. বস্ত্র কোন ধরনের অভাব? (অনুধাবন)  
 ক আরামপ্রদ      ● প্রয়োজনীয়  
 গ বিলাসজাত      ঘ কম প্রয়োজনীয়
৪৪. উপযোগ কোন ধরনের ধারণা? (জ্ঞান)  
 ● মানসিক      ✕ নৈতিক  
 গ ধর্মীয়      ঘ ব্যক্তিকেন্দ্রিক
৪৫. মানুষের অভাব পূরণের জন্য দ্রব্যের উপযোগ লাভ করাকে কী বলে? (জ্ঞান)  
 ক ইচ্ছা      ✕ উপযোগিতা  
 গ লাভ      ● ভোগ
৪৬. ভোক্তা কে? (জ্ঞান)  
 ● যে ভোগ করে      ✕ যে ভোগ দেয়  
 গ যে বিক্রি করে      ঘ যে যোগান দেয়
৪৭. ভোক্তা কোন দ্রব্য ভোগে অর্থ ব্যয় করতে প্রস্তুত থাকে? (অনুধাবন)  
 ক বাতাস      ✕ আলো  
 ● পানি      ঘ তাপ
৪৮. শফিক বাজার থেকে নির্দিষ্ট মূল্যে একটি ইলিশ মাছ ক্রয় করে নিজেই সবটা দিয়ে আহার করে। শফিককে অর্থনীতির ভাষায় কী বলা যায়? (প্রয়োগ)  
 ● ভোক্তা      ✕ উপযোগকারী  
 গ সুবিধাভোগী      ঘ রুচিশীল

### বহুপদী সমাপ্তিসূচক বহুনির্বাচনি প্রশ্নোত্তর

৪৯. কোনো অবাধ সহজলভ্য দ্রব্য ছাড়া অন্য সব দ্রব্য ভোগ করার জন্য একজন ভোক্তার— (উচ্চতর দক্ষতা)  
 র. অর্থ ব্যয় করতে হয়  
 রর. মানসিক প্রস্তুতি থাকতে হয়  
 ররর. উন্নত রুচিবোধ থাকতে হয়  
 নিচের কোনটি সঠিক?  
 ● র ও রর      ✕ র ও ররর      গ রর ও ররর      ঘ র, রর ও ররর
৫০. ভোক্তার মাথাপিছু আয় বাড়ার ফলে তার— (উচ্চতর দক্ষতা)  
 র. ক্রয়ক্ষমতা বৃদ্ধি পায়  
 রর. জীবনযাত্রার মান উন্নত হয়

ররর. সঞ্চয় প্রবণতা বৃদ্ধি পায়

নিচের কোনটি সঠিক?

ক র ও রর      ✕ র ও ররর      গ রর ও ররর      ● র, রর ও ররর

### অভিন্ন তথ্যভিত্তিক বহুনির্বাচনি প্রশ্নোত্তর

নিচের অনুচ্ছেদটি পড়ে ৫১ ও ৫২ নং প্রশ্নের উত্তর দাও :

শীত আসতে না আসতেই সিনহা রায় দুটি উলের কম্বল ক্রয় করে। রাতে প্রচণ্ড শীতে কম্বল গায়ে দিয়ে সিনহা শীত নিবারণ করে এবং আরামদায়ক ঘুম সম্পন্ন করে।

৫১. উদ্দীপকে বর্ণিত কম্বলের শীত নিবারণ করার ক্ষমতাকে কী বলা হয়? (প্রয়োগ)

ক ভোগ      ● উপযোগ

গ চাহিদা      ঘ যোগান

৫২. শীতের কম্বল এ বিষয়টির অন্তর্ভুক্ত হওয়ার কারণ— (উচ্চতর দক্ষতা)

র. অভাব পূরণের ক্ষমতা

রর. মানসিক তৃপ্তি দিয়েছে

ররর. অর্থমূল্য রয়েছে

নিচের কোনটি সঠিক?

● র ও রর      ✕ র ও ররর      গ রর ও ররর      ঘ র, রর ও ররর

### ৩.২ : মোট উপযোগ ও প্রান্তিক উপযোগ

➔ বোর্ড বই, পৃষ্ঠা- ২৪

*At a Glance*

- কোনো নির্দিষ্ট সময়ে কোনো দ্রব্যের বিভিন্ন একক হতে প্রাপ্ত তৃপ্তির সমষ্টিকে বলে— মোট উপযোগ।
- ভোগের পরিমাণ বাড়ার সাথে সাথে মোট উপযোগ— ক্রমহ্রাসমান হারে বাড়ে।
- অতিরিক্ত একক ভোগের জন্য যে অতিরিক্ত উপযোগ পাওয়া যায় তাকে— প্রান্তিক উপযোগ বলে।
- প্রান্তিক উপযোগ শূন্য হলে, মোট উপযোগ— সর্বাধিক হয়।
- মোট উপযোগ সর্বাধিক হলে, প্রান্তিক উপযোগ— শূন্য হয়।

### সাধারণ বহুনির্বাচনি প্রশ্নোত্তর

৫৩. নিচের কোনটি একটি বিশেষ সময়ে ঋণাত্মক হতে পারে? (জ্ঞান)  
 ক চাহিদা      ✕ মোট উপযোগ  
 গ উপযোগ      ● প্রান্তিক উপযোগ
৫৪. ভোগের পরিমাণ বৃদ্ধির সাথে সাথে মোট উপযোগ কী হয়? (জ্ঞান)  
 ক ক্রমহ্রাসমান হারে কমে      ● ক্রমহ্রাসমান হারে বাড়ে  
 গ সমানুপাতিক হারে বাড়ে      ঘ ক্রমাধ্বয়ে কমে
৫৫. একজন ভোক্তার দুটি আম ভোগের ফলে তার মোট উপযোগের পরিমাণ হলো ১০ টাকা। ৩টি আম ভোগের ফলে যদি তার মোট উপযোগ ১২ টাকা হয় তাহলে ৩য় আমের প্রান্তিক উপযোগের পরিমাণ কত হবে? (প্রয়োগ)





- খ একজন ব্যক্তির যোগান সূচি থেকে  
 গ ক্রমহাসমান প্রান্তিক উপযোগ বিধি থেকে  
 ঘ ক্রমহাসমান প্রান্তিক উৎপাদন বিধি থেকে
৮৩. দাম ও চাহিদার মধ্যে কিরূপ সম্পর্ক বিদ্যমান? (জ্ঞান)  
 ক সমমুখী খ কেন্দ্রমুখী  
 ● বিপরীতমুখী ঘ নিম্নমুখী
৮৪. কিসের ভিত্তিতে চাহিদা রেখা আঁকা যায়? (জ্ঞান)  
 ● চাহিদা সূচি খ চাহিদার বৃদ্ধি  
 গ চাহিদা বিধি ঘ চাহিদার হ্রাস
৮৫. চাহিদা রেখা কেমন থাকে? (জ্ঞান)  
 ক ভূমির সাথে সমান্তরাল ● ডানদিকে নিম্নগামী  
 গ বামদিকে উর্ধ্বগামী ঘ ডানদিকে উর্ধ্বগামী
৮৬. চাহিদা কিসের ওপর নির্ভর করে? (অনুধাবন)  
 ● দামের খ উপযোগের  
 গ ক্রেতার ঘ বাজারের
৮৭. বাজারে নির্দিষ্ট দামে সব ভোক্তার ব্যক্তিগত বা ভিন্ন ভিন্ন পরিমাণ চাহিদার সমষ্টিকে কী বলা হয়? (জ্ঞান)  
 ● বাজার চাহিদা খ ভোক্তা চাহিদা  
 গ সমষ্টি চাহিদা ঘ ব্যক্তিগত চাহিদা
৮৮. চাহিদা রেখা কোনটি? (অনুধাবন)  
 ক জঙ্গ খ বাবা  
 গ ঈঙ্গ ● উউ

### বহুপদী সমাপ্তিসূচক বহুনির্বাচনি প্রশ্নোত্তর

৮৯. চাহিদার সম্পর্ক রয়েছে— (অনুধাবন)  
 র. দামের সাথে  
 রর. সময়ের সাথে  
 ররর. যোগানের সাথে  
 নিচের কোনটি সঠিক?  
 ● র ও রর খ র ও ররর গ রর ও ররর ঘ র, রর ও ররর
৯০. চাহিদার বাড়া-কমার ক্ষেত্রে অন্যান্য অবস্থা অপরিবর্তিত বলতে বোঝানো হয়েছে— (অনুধাবন)  
 র. ক্রেতার রুচি ও পছন্দ  
 রর. আয়  
 ররর. পণ্যের দাম  
 নিচের কোনটি সঠিক?  
 ● র ও রর খ র ও ররর গ রর ও ররর ঘ র, রর ও ররর

৯১. অর্থনীতিতে চাহিদা হতে হলে— (অনুধাবন)  
 র. ক্রয়ের সামর্থ্য থাকতে হবে  
 রর. দ্রব্য পাওয়ার আকাঙ্ক্ষা  
 ররর. দ্রব্যটির মূল্য থাকতে হবে  
 নিচের কোনটি সঠিক?  
 ● র ও রর খ র ও ররর গ রর ও ররর ঘ র, রর ও ররর
৯২. অন্যান্য অবস্থা অপরিবর্তিত থাকলে কোনো নির্দিষ্ট সময়ে পণ্যের দাম বাড়লে বা কমলে— (উচ্চতর দক্ষতা)  
 র. চাহিদার পরিমাণ বাড়তে পারে  
 রর. চাহিদার পরিমাণ কমতে পারে  
 ররর. চাহিদা অপরিবর্তিত থাকে  
 নিচের কোনটি সঠিক?  
 ● র ও রর খ র ও ররর গ রর ও ররর ঘ র, রর ও ররর

### অভিন্ন তথ্যভিত্তিক বহুনির্বাচনি প্রশ্নোত্তর

নিচের অনুচ্ছেদটি পড়ে ৯৩ ও ৯৪ নং প্রশ্নের উত্তর দাও :

জনাব শফিক উদ্দীন সকালবেলা ঘুম থেকে উঠে নান্না করে বাজারে গেলেন। তিনি চারটি ইলিশ মাছ কেনার জন্য বাজারে গেলেন। চারটি মাছ ২০০০ টাকা দামে বিক্রয়তা বিক্রি করতে চাইলে শফিক সাহেব তাকে চারটি ইলিশের বিনিময়ে এই টাকা দিতে রাজি হয়ে যান।

৯৩. শফিক সাহেবের ইলিশ মাছ কেনার ইচ্ছাকে অর্থনীতির ভাষায় কী বলা হয়? (প্রয়োগ)  
 ● চাহিদা খ যোগান  
 গ উপযোগ ঘ ভোগ

৯৪. শফিক সাহেবের মাছ কেনার ইচ্ছা এই বিষয়ের অন্তর্ভুক্ত হওয়ার কারণ— (উচ্চতর দক্ষতা)

র. বাজারে ইলিশের সরবরাহ বেশি থাকায়

রর. শফিক সাহেবের ইলিশ কেনার ইচ্ছা ও সামর্থ্য থাকায়

ররর. নির্দিষ্ট মূল্যে ইলিশ ক্রয়ের ইচ্ছা থাকায়

নিচের কোনটি সঠিক?

ক র ও রর খ র ও ররর ● রর ও ররর ঘ র, রর ও ররর

নিচের ছকটি পড়ে ৯৫ ও ৯৬ নং প্রশ্নের উত্তর দাও :

প্রতি একক দ্রব্যের দাম (টাকায়)	চাহিদার পরিমাণ (একক)
৮.০০	৪
৬.০০	৮

৪.০০	১২
২.০০	১৬

৯৫. উল্লিখিত ছকটিকে অর্থনীতির ভাষায় কী বলা হয়? (প্রয়োগ)
- ক চাহিদা বিধি ● চাহিদা সূচি
- গ চাহিদা রেখা ঘ উপযোগ বিধি
৯৬. উল্লিখিত ছকে চাহিদা ও দামের কী রকম সম্পর্ক দেখানো হয়েছে? (উচ্চতর দক্ষতা)
- ক নিম্নমুখী খ উর্ধ্বমুখী
- বিপরীতমুখী ঘ সমমুখী

→ ৩.৬ ও ৩.৭ : যোগান ও বাজার যোগান রেখা অংকন → বোর্ড বই, পৃষ্ঠা- ২৯ ও ৩১

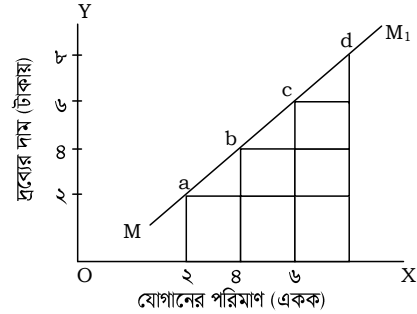
*At a Glance*

- বিক্রেতা বিভিন্ন দামে দ্রব্যের যে বিভিন্ন পরিমাণ বিক্রয় করতে ইচ্ছুক তাকে বলে— যোগান।
- দাম ও যোগানের সম্পর্ক— সমমুখী।
- কোনো দ্রব্যের চাহিদা হতে যদি যোগান বেশি হয় তবে— দাম কমবে।
- যোগান বিধি কার্যকর হয়— অন্যান্য অবস্থা অপরিবর্তিত থাকলে।
- যোগান সূচির জ্যামিতিক উপস্থাপনকে বলে— যোগান রেখা।

### সাধারণ বহুনির্বাচনি প্রশ্নোত্তর

৯৭. বাজারে কারা বিক্রয়ের জন্য দ্রব্য সাজিয়ে রাখেন? (জ্ঞান)
- বিক্রেতাগণ খ সরবরাহকারীগণ
- গ প্রতিনিধিরা ঘ কর্মচারীরা
৯৮. একজন বিক্রেতা কোনো একটি দ্রব্যের যে পরিমাণ একটি নির্দিষ্ট সময়ে এবং একটি নির্দিষ্ট দামে বিক্রয় করতে ইচ্ছুক ও সমর্থ থাকে তাকে কী বলে? (জ্ঞান)
- যোগান খ চাহিদা গ রেখা ঘ সূচি
৯৯. যোগানের ইংরেজি প্রতিশব্দ কোনটি? (জ্ঞান)
- ক উবসধহফ ● ঝটচমু
- গ টগরবরু ঘ চড্‌ফপং
১০০. দাম হ্রাস পেলে যোগানের পরিমাণ কী রকম থাকে? (জ্ঞান)
- ক বৃদ্ধি পায় ● হ্রাস পায়
- গ অপরিবর্তিত থাকে ঘ ঋণাত্মক পর্যায়
১০১. কোনো দ্রব্যের চাহিদার চেয়ে যোগান বেশি হলে দ্রব্যের দাম কেমন হবে? (জ্ঞান)
- কমবে খ বাড়বে
- গ স্থির থাকবে ঘ সর্বোচ্চ হবে
১০২. কোনো দ্রব্যের যোগান কিসের উপর নির্ভর করে? (অনুধাবন)

- ক চাহিদার খ উৎপাদনের
- দামের ঘ ভোগের
১০৩. দাম পরিবর্তনের ফলে যোগানের কী রকম পরিবর্তন ঘটে? (জ্ঞান)
- ক উর্ধ্বমুখী ● সমমুখী
- গ বিপরীতমুখী ঘ নিম্নমুখী
১০৪. যোগান রেখা অঙ্কন করার জন্য নিচের কোন জিনিসটি দরকার? (জ্ঞান)
- ক যোগানের সময় ● যোগান সূচি
- গ যোগানের পরিমাণ ঘ যোগানের দাম
১০৫. যোগান সূচিতে কিসের প্রতিফলন ঘটে? (জ্ঞান)
- ক যোগান ও চাহিদার সম্পর্ক খ দাম ও চাহিদার সম্পর্ক
- যোগান বিধির ঘ চাহিদা ও যোগানের বৈষম্য
১০৬. দাম পরিবর্তনের ফলে যোগানের সমমুখী পরিবর্তনকে রেখাচিত্রের মাধ্যমে প্রকাশ করা হলে তাকে কী বলা হয়? (জ্ঞান)
- ক যোগান বিধি ● যোগান রেখা
- গ যোগান বাজার ঘ যোগান সূচি
১০৭. নিচের রেখাচিত্রে ৬৮ ভূমি অক্ষে দ্রব্যের যোগান এবং ৬৭ লম্ব অক্ষে দ্রব্যের দাম দেখানো হয়েছে। তাহলে গণ্য রেখা দ্বারা কোনটি নির্দেশ করা হয়েছে? (প্রয়োগ)



- ক চাহিদার স্থিতিস্থাপকতা খ যোগানের স্থিতিস্থাপকতা
- যোগান রেখা ঘ যোগান বিধি
১০৮. যোগান রেখা সাধারণত কেমন থাকে? (অনুধাবন)
- বাম দিক থেকে ডান দিকে উর্ধ্বগামী খ বাম দিক থেকে ডান দিকে নিম্নগামী
- গ ভূমি অক্ষে সমান্তরাল ঘ লম্ব অক্ষে সমান্তরাল
১০৯. যোগান রেখার ভূমি অক্ষে কী দেখানো হয়? (জ্ঞান)
- যোগানের পরিমাণ খ চাহিদার পরিমাণ
- গ উপযোগের পরিমাণ ঘ উৎপাদনের পরিমাণ
১১০. কোনটি যোগান রেখা? (অনুধাবন)
- ক উউ খ ঙ্‌ঙ্‌ গ ছ্‌ ● বাবা
১১১. একটি নির্দিষ্ট সময়ে একজন বিক্রেতা বিভিন্ন দামে একটি দ্রব্যের যে বিভিন্ন পরিমাণ দ্রব্য যোগান দেয় তাকে কী বলে? (জ্ঞান)
- ব্যক্তিগত যোগান খ বাজার যোগান

গ সমষ্টিগত যোগান ঘ স্বাভাবিক যোগান

১১২. চাহিদা অপেক্ষা যোগান বেশি হলে দামের উপর কী ধরনের চাপ সৃষ্টি হয়? (অনুধাবন)

- ক উর্ধ্বমুখী খ পার্শ্বমুখী  
● নিম্নমুখী ঘ অর্ন্তমুখী

### বহুপদী সমাপ্তিসূচক বহুনির্বাচনি প্রশ্নোত্তর

১১৩. অর্থনীতিতে যোগান বলতে বোঝায়— (অনুধাবন)

- র. দোকানে দ্রব্যের ব্যাপক সরবরাহ  
রর. বিক্রেতার নির্দিষ্ট দামে দ্রব্য বিক্রি করতে ইচ্ছুক থাকা  
ররর. নির্দিষ্ট সময়ে একটি দ্রব্যের যে পরিমাণ বিক্রি করতে সমর্থ থাকা  
নিচের কোনটি সঠিক?

- ক র ও রর খ র ও ররর ● রর ও ররর ঘ র, রর ও ররর

১১৪. দ্রব্যের দামের পরিবর্তনের সাথে সাথে যোগানের পরিমাণ— (উচ্চতর দক্ষতা)

- র. বৃদ্ধি পায়  
রর. হ্রাস পায়  
ররর. অপরিবর্তিত থাকে  
নিচের কোনটি সঠিক?

- র ও রর খ র ও ররর গ রর ও ররর ঘ র, রর ও ররর

১১৫. ব্যক্তিগত যোগান হলো— (অনুধাবন)

- র. একজন বিক্রেতার বিভিন্ন দামে দ্রব্য বিক্রয়  
রর. একজন বিক্রেতার নির্দিষ্ট সময়ে দ্রব্য বিক্রয়  
ররর. একজন বিক্রেতার দ্রব্যের সরবরাহ নিশ্চিত করা  
নিচের কোনটি সঠিক?

- র ও রর খ র ও ররর গ রর ও ররর ঘ র, রর ও ররর

১১৬. যোগানের অন্যতম বিবেচ্য বিষয় হলো— (অনুধাবন)

- র. একটি দ্রব্য  
রর. একটি নির্দিষ্ট দাম  
ররর. একটি নির্দিষ্ট সময়  
নিচের কোনটি সঠিক?

- ক র ও রর খ র ও ররর গ রর ও ররর ● র, রর ও ররর

### অভিন্ন তথ্যভিত্তিক বহুনির্বাচনি প্রশ্নোত্তর

নিচের অনুচ্ছেদটি পড়ে ১১৭ ও ১১৮ নং প্রশ্নের উত্তর দাও :

জনাব আজিজ একজন ফল বিক্রেতা। ফলের দাম যখন বৃদ্ধি পায় তখন প্রচুর ফল বিক্রি করেন। আবার ফলের দাম যখন কমে যায় তখন তার ফল সরবরাহও কমে যায়।

১১৭. জনাব আজিজের অবস্থানটিকে অর্থনীতিতে কী বলা যায়? (প্রয়োগ)

ক উপযোগবিধি খ চাহিদাবিধি

● যোগানবিধি ঘ ক্রমহ্রাসমান প্রান্তিক উৎপাদনবিধি

১১৮. জনাব আজিজের প্রেক্ষিতে দাম আর উক্ত বিষয়টির সম্পর্ক কী রকম? (উচ্চতর দক্ষতা)  
ক বিপরীতমুখী ● সমমুখী গ উর্ধ্বমুখী ঘ নিম্নমুখী

৩.৮ : ভারসাম্য দাম নির্ধারণ → বোর্ড বই, পৃষ্ঠা- ৩২

At a Glance

- বাজারের সাধারণ দৃশ্য হলো— দ্রব্যের দাম নিয়ে দরকষাকষি করা।
- ভারসাম্য দাম হলো— যে দামে চাহিদা ও যোগান সমান।
- বাজার ভারসাম্যের শর্ত হলো— চাহিদা যোগান।
- দ্রব্য বিক্রির ক্ষেত্রে বিক্রেতার বৈশিষ্ট্য— সর্বোচ্চ দামে পণ্য বিক্রয় করা।
- দ্রব্যের দাম নিয়ে দরকষাকষি হয়— ক্রেতা-বিক্রেতার মধ্যে।
- ক্রেতা-বিক্রেতার মধ্যে দ্রব্য নিয়ে দরকষাকষি হয় দ্রব্যের— বাজারে।

### সাধারণ বহুনির্বাচনি প্রশ্নোত্তর

১১৯. বাজার করতে গিয়ে জমির শেখ সাধারণ দৃশ্য হিসেবে কোনটি দেখতে পাবে? (প্রয়োগ)

● দ্রব্যের দাম নিয়ে ক্রেতা বিক্রেতার দর কষাকষি

খ বাজারে দ্রব্যের প্রচুর সরবরাহ

গ অস্বাভাবিক লোকের চাপে বাজার ব্যবস্থায় বিশৃঙ্খলা সৃষ্টি

ঘ দ্রব্যের পরিমাণ থেকে লোক সমাগম বেশি

১২০. বাজারে গিয়ে ক্রেতা সবসময় কী চেষ্টা করেন? (জ্ঞান)

ক বেশি দামের দ্রব্য ক্রয় করতে

● সর্বনিম্ন মূল্যে দ্রব্য ক্রয় করতে

গ সবচেয়ে বেশি বিক্রিত দ্রব্যটি ক্রয় করতে

ঘ সামর্থ্যের বাইরে দ্রব্য ক্রয় করতে

১২১. দ্রব্য বিক্রির ক্ষেত্রে কোনটি বিক্রেতার বৈশিষ্ট্য? (জ্ঞান)

● সর্বোচ্চ দামে দ্রব্য বিক্রয় করা খ সর্বনিম্ন দামে দ্রব্য বিক্রয় করা

গ সর্বোচ্চ দামে দ্রব্য ক্রয় করা ঘ সর্বনিম্ন দামে দ্রব্য ক্রয় করা

১২২. ক্রেতা-বিক্রেতার দর কষাকষির মাধ্যমে কোন অবস্থায় একটি নির্দিষ্ট দামে কোনো দ্রব্য ক্রয়-বিক্রয়ে সম্মত হয়? (জ্ঞান)

ক যোগান ও উপযোগ সমান হলে খ উপযোগ ও চাহিদা সমান হলে

গ ভোগ ও চাহিদা সমান হলে ● চাহিদা ও যোগান সমান হলে

১২৩. কোনটি চাহিদা ও যোগানের সমতার ভিত্তিতে নির্ধারিত হয়? (জ্ঞান)

ক অধিক দাম ● ভারসাম্য দাম গ ভারসাম্যহীন দাম ঘ স্বল্প দাম

১২৪. ভারসাম্য দামে যে পরিমাণ দ্রব্য কেনা-বেচা হয় তাকে কী বলে? (জ্ঞান)

● ভারসাম্য পরিমাণ খ ভারসাম্য বিধি

গ ভারসাম্য চাহিদা

ঘ ভারসাম্য যোগান

১২৫. চাহিদা ও যোগানের মধ্যে সমতা না থাকলে কী হয়? (উচ্চতর দক্ষতা)
- দামের পরিবর্তন হয়      ✕ চাহিদার হ্রাস পায়
- গ দামের বৃদ্ধি হয়      ঘ দামের হ্রাস পায়

### বহুপদী সমাপ্তিসূচক বহুনির্বাচনি প্রশ্নোত্তর

১২৬. ক্রেতা ও বিক্রেতার দরকষাকষির ফলে এমন একটি দামে দ্রব্যটি ক্রয়-বিক্রয় হয় যেখানে পরস্পর সমান থাকে— (উচ্চতর দক্ষতা)
- র. চাহিদা      রর. যোগান

ররর. উপযোগ

নিচের কোনটি সঠিক?

- র ও রর      ✕ র ও ররর      গ রর ও ররর      ঘ র, রর ও ররর

১২৭. চাহিদা অপেক্ষা যোগান বেশি হলে— (উচ্চতর দক্ষতা)
- র. দামের উপর নিম্নমুখী চাপ সৃষ্টি হবে

রর. দ্রব্যের দাম বৃদ্ধি পাবে

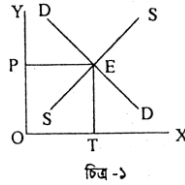
ররর. দ্রব্যের দাম কমবে

নিচের কোনটি সঠিক?

- ক র ও রর      ● র ও ররর      গ রর ও ররর      ঘ র, রর ও ররর

### অভিন্ন তথ্যভিত্তিক বহুনির্বাচনি প্রশ্নোত্তর

নিচের চিত্রটি লক্ষ করে ১২৮ ও ১২৯ নং প্রশ্নের উত্তর দাও :



চিত্র -১

১২৮. চিত্র-১ এ যে ধারণাটিকে নির্দেশ করে তা হলো— (প্রয়োগ)
- ক ভারসাম্য যোগান নির্ধারণ      ● ভারসাম্য দাম ও পরিমাণ নির্ধারণ
- গ ভারসাম্য উৎপাদন নির্ধারণ      ঘ ভারসাম্য উপযোগ নির্ধারণ

১২৯. 'উ' বিন্দুতে চাহিদা ও যোগান হলো— (উচ্চতর দক্ষতা)
- র. চাহিদার চেয়ে যোগান বেশি      রর. চাহিদা ও যোগান সমান

ররর. উক্ত দামে বাজারে স্বাভাবিক দাম থাকে

নিচের কোনটি সঠিক?

- ক র ও রর      ✕ র ও ররর      ● রর ও ররর      ঘ র, রর ও ররর

### ■ অধ্যায়ের পাঠ সমন্বিত বহুনির্বাচনি প্রশ্নোত্তর

### বহুপদী সমাপ্তিসূচক বহুনির্বাচনি প্রশ্নোত্তর

১৩০. স্বাভাবিক জীবনযাপন করতে হলে রোমেলের প্রয়োজন— (উচ্চতর দক্ষতা)
- র. খাদ্য      রর. ধর্ম      ররর. বাসস্থান

নিচের কোনটি সঠিক?

- ক র ও রর      ● র ও ররর      গ রর ও ররর      ঘ র, রর ও ররর

১৩১. উপযোগ হলো— (অনুধাবন)
- র. একটি মানসিক অনুভূতি      রর. অর্থের দ্বারা পরিমাপ করা যায়

ররর. এর সাথে নৈতিকতার সম্পর্ক আছে

নিচের কোনটি সঠিক?

- র ও রর      ✕ র ও ররর      গ রর ও ররর      ঘ র, রর ও ররর

১৩২. বাজারে দৈনন্দিন প্রয়োজনীয় জিনিসপত্র— (উচ্চতর দক্ষতা)
- র. ক্রয় করা হয়      রর. বিক্রয় করা হয়

ররর. মজুদ করে রাখা হয়

নিচের কোনটি সঠিক?

- র ও রর      ✕ র ও ররর      গ রর ও ররর      ঘ র, রর ও ররর

১৩৩. ভারসাম্য দাম নির্ধারণে গুরুত্বপূর্ণ অবদান রাখে— (উচ্চতর দক্ষতা)
- র. উপযোগ      রর. যোগান      ররর. চাহিদা

নিচের কোনটি সঠিক?

- ক র ও রর      ✕ র ও ররর      ● রর ও ররর      ঘ র, রর ও ররর

### অভিন্ন তথ্যভিত্তিক বহুনির্বাচনি প্রশ্নোত্তর

নিচের অনুচ্ছেদটি পড়ে ১৩৪ ও ১৩৫ নং প্রশ্নের উত্তর দাও :

করিম প্রথমে ২টি আম খায় ৫ টাকা করে। ৩টি আম খাওয়ার পর মোট উপযোগ ১৩ টাকা হয়।

১৩৪. আমের প্রান্তিক উপযোগ কত হবে? (প্রয়োগ)
- ৩ টাকা      ✕ ৪ টাকা      গ ৫ টাকা      ঘ ৬ টাকা

১৩৫. অনুচ্ছেদ অনুসারে করিমের প্রথম দুইটি আমের ক্ষেত্রে— (উচ্চতর দক্ষতা)
- র. চাহিদা সমান ছিল      রর. প্রান্তিক উপযোগ শূন্য ছিল

ররর. মোট উপযোগ ছিল ১০ টাকা

নিচের কোনটি সঠিক?

- ক র ও রর      ✕ র ও ররর      গ রর ও ররর      ● র, রর ও ররর

## চতুর্থ অধ্যায়

## উৎপাদন ও সংগঠন

### সৃজনশীল প্রশ্ন

- ১। কবির একজন ব্যবসায়ী। দেশের বিভিন্ন স্থানে তাঁর কয়েকটি ফার্নিচারের দোকান আছে। তিনি ৩০ জন কর্মচারীর সাহায্যে কাঠ থেকে বিভিন্ন ধরনের আসবাবপত্র তৈরি করে দোকানে সরবরাহ করেন।



প্রতিটি দোকানের জন্য তিনি আলাদা লোক নিয়োগ করেন। পণ্যের বাজার বিস্তৃত করার জন্য তিনি প্রদর্শনীতে অংশ নিয়ে থাকেন। বাজারে তার আসবাবপত্রের চাহিদা দিন দিন বেড়েই চলছে।

ক. শ্রম কাকে বলে?

খ. ক্রমহ্রাসমান উৎপাদন বিধি বলতে কী বুঝায়?

গ. কবিরের উপযোগ সৃষ্টির প্রক্রিয়াটি তোমার পাঠ্যবইয়ের আলোকে ব্যাখ্যা কর।

ঘ. কবিরকে কি একজন সফল সংগঠক বলা যায়? তোমার উত্তরের সপক্ষে যুক্তি দাও।

২। হোসেন আলী প্রথম বছর তাঁর নিজের এক একর জমিতে একজন শ্রমিক নিয়োগ করে ৫০ কেজি ধান উৎপাদন করেন। অধিক উৎপাদনের জন্য তিনি পরবর্তী বছরগুলোতে অধিক শ্রম নিয়োগ করে যে উৎপাদন পান তা নিচের সারণিতে দেখানো হলো-

শ্রমিকের সংখ্যা	ধানের মোট উৎপাদন (প্রতি কেজি ২০ টাকা)	ধানের উৎপাদন মূল্য (টাকায়)	প্রান্তিক উৎপাদন
১	৫০	১০০০	১০০০
২	১০০	-	-
৩	১৩০	-	-
৪	১৫০	-	-

ক. মোট উৎপাদন কাকে বলে?

খ. ব্যক্তিগত ব্যয় বলতে কী বুঝায়?

গ. উপরের ছকটি পূরণ করে এর মূল ধারণা ব্যাখ্যা কর।

ঘ. সারণিতে উপস্থাপিত বিষয়টি বাংলাদেশের কৃষিক্ষেত্রেও প্রযোজ্য- মতামত দাও।

৩। গণেশ পদ্মা পাড়ের জেলে। এখন পদ্মায় প্রচুর ইলিশ পাওয়া যায়। ঝাঁকে ঝাঁকে ধরা পড়ছে ইলিশ। তবুও গণেশের চোখে-মুখে হতাশার ছাপ। সে মধ্যস্থত্বভোগীদের দৌরাতে ভালো দাম পায় না। দিনেশ বাবুর পরামর্শে গণেশ ইলিশ ঢাকায় নিয়ে যায় এবং ভালো দামে বিক্রয় করে।

ক. উৎপাদন কাকে বলে? ১

খ. ক্রমহ্রাসমান প্রান্তিক উৎপাদন বিধিটি কী? ২

গ. গণেশের কাজটি কোন ধরনের উৎপাদন সৃষ্টি করছে? বিশ্লেষণ কর। ৩

ঘ. তুমি কি মনে কর গণেশের সিদ্ধান্ত সঠিক ছিল? যুক্তিসহ মূল্যায়ন কর। ৪

৪। ব্যবসায়ী আদনান সাহেব কাঠের ব্যবসা করেই নিজের অবস্থান পরিবর্তন করতে সক্ষম হয়েছেন। প্রত্যন্ত এলাকা থেকে কাঠ কিনে এনে সেই কাঠ দিয়ে শহরে বিশাল ফার্নিচারের দোকান দিয়েছেন তিনি। প্রায় ২০ জন কর্মী তার দোকানে কাজ করছে। বন-জঙ্গল থেকে কিনে আনা কাঠ দিয়ে কর্মীরা সুন্দর সুন্দর আসবাবপত্র তৈরি করছে, যার চাহিদা দিন দিন বৃদ্ধি পাচ্ছে। সম্প্রতি নিজ দোকানে তৈরিকৃত আসবাবপত্রের একটি প্রদর্শনী করেছেন তিনি।

ক. ভূমি কী? ১

খ. উৎপাদন বলতে কী বুঝায়? ২

গ. ব্যবসায়ী আদনান সাহেবের কাজে উৎপাদন প্রক্রিয়ার কোন দিকগুলো লক্ষণীয়? ব্যাখ্যা কর। ৩

ঘ. ব্যবসায়ী আদনান সাহেবকে একজন সফল সংগঠক বলা যায় কি? যুক্তিসহ মতামত দাও। ৪

৫। নিম্নবিত্ত ঘরে জন্মগ্রহণ করেও জনাব শিহাব মোরশেদ আজ প্রসিদ্ধ ব্যবসায়ী হিসেবে খ্যাতি লাভ করেছেন। স্ত্রীর পরামর্শ আর সহযোগিতায় দুধ খামার গড়ে তোলার মধ্য দিয়ে তার যাত্রা শুরু হয়। আজ তিনি দশটি খামার পরিচালনা করছেন। তার প্রতিষ্ঠানে হাজার হাজার নারী-পুরুষ কাজ করছেন। তিনি সঠিকভাবে কর্মী ব্যবস্থাপনা করছেন বলেই কর্মীরা আশানুরূপ কাজ দিতে পারছে। সবার সর্বাঙ্গিক সহযোগিতায় শিহাব আজ তার ব্যবসায়িক উদ্দেশ্য অর্জন করতে সক্ষম হয়েছেন।

ক. মূলধন কী? ১

খ. শ্রম বলতে কী বুঝায়? ২

গ. উদ্দীপকে উৎপাদনের কোন উপকরণটির ইঙ্গিত দেওয়া হয়েছে? ব্যাখ্যা কর। ৩

ঘ. জনাব শিহাব মোরশেদ এই উপকরণটির যথার্থ ব্যবহারে সক্ষম হয়েছেন- তুমি কি বক্তব্যটি সমর্থন কর? যুক্তি দাও। ৪

৬। জাভেদের এক একর জমিতে উৎপাদনে ব্যবহৃত উপকরণ ও উৎপাদনের বিবরণ নিচে দেওয়া হলো :

টাকা	মোট উৎপাদন (মণ)	প্রান্তিক উৎপাদন (মণ)
১০০০	৫৫	৫৫
২০০০	১১৫	৬০
৩০০০	১৬৫	৫০
৪০০০	২০৫	৪০

ক. অর্থনীতিবিদ ফেসারের মতে উৎপাদন কী? ১

খ. মূলধনকে উৎপাদনের উৎপাদিত উপকরণ বলা হয় কেন? ২

গ. উপরের সূচিতে প্রদর্শিত বিধিটি রেখাচিত্রের সাহায্যে ব্যাখ্যা কর। ৩

ঘ. জেলেদের সমুদ্রে মাছ ধরার ক্ষেত্রে এ বিধি কতটুকু কার্যকর হবে বলে তুমি মনে কর? মতামত দাও। ৪

৭। কমল বাবু তার এক বিঘা জমিতে ১০ জন শ্রমিক নিয়োগ করে ৬০০ কুইন্টাল গম উৎপাদন করেন। পরবর্তী তিন বছর তিনি যথাক্রমে ১১ জন, ১২ জন এবং ১৫ জন শ্রমিক নিয়োগ করে ৮০০, ১০০০ এবং ১২০০ কুইন্টাল গম উৎপাদন করেন। এভাবে তিনি দিন দিন অর্থনৈতিক সাফল্য অর্জন করে সামনে এগিয়ে যাচ্ছেন।

ক. এক শ্রম ঘণ্টা কী? ১

খ. ভার অর্পণ বলতে কী বোঝায়? ২

গ. উদ্ভীপকের তথ্যের আলোকে কমল বাবুর বার্ষিক প্রান্তিক উৎপাদন নির্ণয় কর। ৩

ঘ. উদ্ভীপকে বর্ণিত তথ্য গড় উৎপাদন ও প্রান্তিক উৎপাদনের মধ্যে সম্পর্ক নির্ণয় করে কি? যুক্তিসহ মতামত দাও। ৪

৮। মোরেলগঞ্জের কৃষক জমির আলী পৌষ-মাঘ মাসে ধানের দাম কম হওয়ায় প্রচুর ধান কিনে মজুদ করে রাখেন। পরবর্তীতে ভাদ্র-আশ্বিন মাসে তিনি এ ধান বিক্রি করেন। এভাবে ধানের ব্যবসায় করে জমির আলী এখন গ্রামের অন্যান্য কৃষক থেকে অনেক ভালো অবস্থায় রয়েছেন। আর্থিকভাবে লাভবান হওয়ায় তিনি জীবনমান বজায় রেখে পরিবার নিয়ে সামাজিকভাবে বসবাস করতে পারছেন।

ক. উৎপাদন কী? ১

খ. শ্রম বলতে কী বোঝায়? ২

গ. উদ্ভীপকে উৎপাদনের কোন প্রক্রিয়াটি লক্ষণীয়? ব্যাখ্যা কর। ৩

ঘ. এই প্রক্রিয়াটিই উৎপাদনের একমাত্র প্রক্রিয়া নয়- মন্তব্যটি প্রতিষ্ঠা কর। ৪

৯। মাসুদ বিজ্ঞান বিষয়ে পড়াশোনা করে এসএসসি পাস করেছেন। অর্থনৈতিক সংকটে পড়ে তিনি পড়াশোনা শেষ করতে পারেননি ঠিকই, কিন্তু তার মেধার যথার্থ ব্যবহার করতে পেরেছেন। বিভিন্ন প্রচারমাধ্যম থেকে সৌরচুল্লি তৈরির পদ্ধতি জেনে প্রকৃতি প্রদত্ত সৌরশক্তি ব্যবহার করে নিজ বাড়িতে সৌরবিদ্যুৎ উৎপাদন করছেন তিনি। তার উৎপাদিত বিদ্যুৎ প্রতিবেশীদের সরবরাহ করে নিজের অর্থনৈতিক সমস্যা মোকাবিলা করছেন তিনি। তাকে দেখে গ্রামের অনেকেই অনুপ্রাণিত হয়েছেন।

ক. উৎপাদনের উপকরণ কী? ১

খ. স্থানগত উৎপাদন বলতে কী বোঝায়? ২

গ. মাসুদের কাজে ব্যবহৃত সৌরশক্তি উৎপাদনের কোন ধরনের উপকরণ? ব্যাখ্যা কর। ৩

ঘ. তুমি কি মনে কর শুধু এই উপকরণটিই বিপ্লব মাসুদের উৎপাদন কাজের জন্য যথেষ্ট? উত্তরের পক্ষে যুক্তি দাও। ৪

১০। কৃষি ব্যাংক থেকে সহজ শর্তে ৪০,০০০ টাকা ঋণ নিয়ে সেই সব টাকা দিয়ে শ্রীপুরের কৃষক শাহজাহান মিয়া তিন একর জমিতে ১৫০০ কেজি আলু উৎপাদন করেন। উপকরণ হিসেবে তিনি আলু বীজ, ট্র্যাক্টর, সেচ যন্ত্র, সেচ যন্ত্রের জন্য তেল, বিদ্যুৎ, সার, শ্রমিক, কীটনাশক ইত্যাদি ব্যবহার করেন। আলু উৎপাদনের পর ঐ একই জমিতে তিনি ২০০০ কেজি ডাল উৎপাদন করেন। তিনি প্রতি কেজি আলু ২০ টাকা এবং প্রতি কেজি ডাল ৪০ টাকা দরে বিক্রি করেন। এছাড়া একই জমিতে সবজি চাষ করেও তিনি আরও ১০০০০ টাকা আয় করেন।

ক. ক্রমহ্রাসমান প্রান্তিক উৎপাদন বিধি কী? ১

খ. প্রকাশ্য ব্যয় বলতে কী বোঝায়? ২

গ. কৃষক শাহজাহান মিয়া ৩ একর জমি থেকে বছর শেষে কত টাকা মুনাফা অর্জন করল? ব্যাখ্যা কর। ৩

ঘ. শাহজাহান মিয়াকে একজন ভালো উৎপাদক বলা যায় কি? মতামতের পক্ষে যুক্তি দাও। ৪

১১। ধনিয়াভাঙা গ্রামের খ্যাতিমান কৃষক আজগর আলী তার এক একর জমিতে চার বছর ধরে গম উৎপাদন করে আসছেন। প্রথম বছর তিনি একা শ্রম দিয়ে ৫০ কেজি গম উৎপাদন করেন। পরে বেশি উৎপাদনের জন্য তিনি এক একক করে শ্রম বৃদ্ধি করেন। তার গম উৎপাদনের তালিকাটি নিম্নরূপ :

শ্রমের একক	গমের মোট উৎপাদন	গমের মোট উৎপাদন মূল্য	প্রান্তিক উৎপাদন টাকা	গড় উৎপাদন টাকা
১	৫০ কেজি	৫০০	৫০০	৫০০
২	৬০			
৩	৮০			
৪	১০০			

ক. মোট উৎপাদন কী? ১

খ. প্রান্তিক উৎপাদন বলতে কী বোঝায়? ২

গ. উদ্ভীপকের ছকের খালিঘরগুলো নিয়মানুযায়ী পূরণ কর। ৩

ঘ. উদ্ভীপকে ইঙ্গিতকৃত বিধিটি বাংলাদেশের প্রেক্ষিতে প্রযোজ্য কি? মতামত বিশ্লেষণ কর। ৪

১২। নাটোর শহর থেকে প্রায় ১৭ কিলোমিটার দূরে বনপাড়া থানার শরিফ মিয়া তার দু-একর জমিতে লিচুবাগান করেছেন। বাগানে প্রায় ২০০টি লিচু গাছ রয়েছে। এ বছর বিভিন্ন ধরনের পরিচর্যায় বাগানের পেছনে প্রায় ৩০,০০০ টাকা ব্যয় হয়। লিচুর ফলন খুব ভালো হওয়ায় শরিফ মিয়া তার ছেলেদের নিয়ে দিন-রাত বাগান পাহারা দেন। তারা এ

বহুর লিচু বাগান থেকে অনেক টাকা মুনাফা করবেন বলে প্রত্যাশা করছেন।

- ক. ক্রমহ্রাসমান উৎপাদন বিধিটি কী? ১
- খ. সংগঠক কে? ব্যাখ্যা কর। ২
- গ. শরিফ মিয়ার লিচুবাগানের উৎপাদন ব্যয় অর্থনীতির দৃষ্টিতে ব্যাখ্যা কর। ৩
- ঘ. 'প্রত্যেকটি উৎপাদনের ক্ষেত্রেই উদ্দীপকে ইঙ্গিতকৃত উৎপাদন ব্যয় অত্যন্ত জরুরি'— বক্তব্যটি বিশ্লেষণ কর। ৪

১৩। অনেক দিন ধরে হালের বলদ দিয়ে চাষাবাদ করে আসছেন কৃষক হামিদ আলী। কিন্তু তাতে উৎপাদন কিছুটা কম হচ্ছে। তাই বেশি উৎপাদনের লক্ষ্যে হামিদ বন্ধুর পরামর্শমতো যান্ত্রিক উপায়ে চাষাবাদ শুরু করে। তবে এভাবে চাষাবাদ করতে গিয়ে হামিদ আলীর ব্যয় কিছুটা বাড়ছে। তার কাজের ফলে সৃষ্ট অসুবিধা দূরীকরণে তাকে উৎপাদন সংক্রান্ত ব্যয় ছাড়াও অন্যান্য ব্যয় বহন করতে হচ্ছে।

- ক. উৎপাদন ব্যবস্থায় সমন্বয়কারী বলা হয় কাকে? ১
- খ. অপ্রকাশ্য ব্যয় কী? ব্যাখ্যা কর। ২
- গ. হামিদ আলীর অতিরিক্ত অর্থ ব্যয়ের বিষয়টিকে অর্থনীতির ভাষায় কী বলা হয়? ব্যাখ্যা কর। ৩
- ঘ. একজন উৎপাদককে অবশ্যই এই বিষয়টি বিবেচনা করে উৎপাদন ব্যবস্থায় অংশ নিতে হয়— তুমি কি বক্তব্যটি সমর্থন কর? যুক্তি দাও। ৪

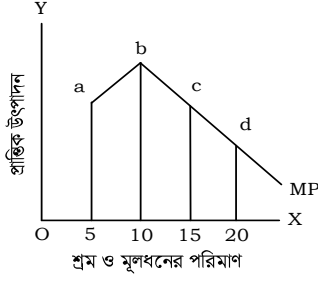
### সাধারণ বহুনির্বাচনি প্রশ্নোত্তর

- রহিম সাহেব তুলা থেকে সুতা তৈরি করেন। সুতা কোন ধরনের পণ্য? [স. বো. ১৬]
- ক কৃষিপণ্য ● শিল্পপণ্য গ প্রাথমিক পণ্য ঘ সবকয়টি
১. শ্রমিকের বেতন কী ধরনের ব্যয়? [স. বো. ১৬]
- প্রকাশ্য ব্যয় খ অপ্রকাশ্য ব্যয়
- গ মোট ব্যয় ঘ প্রকৃত ব্যয়
২. উৎপাদনের আদি ও মৌলিক উপকরণ কোনটি? [স. বো. '১৬]
- ক মূলধন খ শ্রম ● ভূমি ঘ শ্রমিক
৩. মূলধনের সুদ কী ধরনের ব্যয়? [স. বো. '১৫]
- প্রকাশ্য ব্যয় খ অপ্রকাশ্য ব্যয়
- গ প্রকৃত উৎপাদন ব্যয় ঘ সামাজিক ব্যয়
৪. মানুষ কর্তৃক উৎপাদিত একমাত্র উৎপাদনের উপকরণ কোনটি? [স. বো. ১৫]
- ক ভূমি খ শ্রম
- মূলধন ঘ সংগঠন

### ৫. উৎপাদন বলতে কী বোঝায়?

[বাগেরহাট সরকারি উচ্চ বিদ্যালয়; সিলেট সরকারি পাইলট উচ্চ বিদ্যালয়]

- ক দ্রব্য উৎপাদন করা ● দ্রব্যের উপযোগ সৃষ্টি করা
- গ দ্রব্য ব্যবহার করা ঘ প্রাকৃতিক সম্পদ বৃদ্ধি করা
৬. লিটু কামার লোহা পিটিয়ে যন্ত্রপাতি তৈরি করে তার কাজটিকে কোন ধরনের উৎপাদন বলা হয়? [ইউনিভার্সিটি ল্যাব. স্কুল এন্ড কলেজ, ঢাকা]
- রূপগত খ স্থানগত গ সেবাগত ঘ সময়গত
৭. দ্রব্যের রূপ পরিবর্তনের মাধ্যমে কোন ধরনের উৎপাদন সৃষ্টি হয়? [সিলেট সরকারি পাইলট উচ্চ বিদ্যালয়]
- রূপগত খ স্থানগত গ সময়গত ঘ মালিকানাগত
৮. দুধ দিয়ে রসগোল্লা তৈরি কোন ধরনের উৎপাদন প্রক্রিয়ার উদাহরণ? [ভিকারুননিসা নূন স্কুল ও কলেজ, ঢাকা]
- রূপগত খ স্থানগত গ সময়গত ঘ সেবাগত
৯. শাহনাজ পারভিন গ্রামে বসে বনের কাঠকে খড়ি হিসেবে ব্যবহার করলেও শহরে ঐ কাঠ দিয়ে আসবাবপত্র তৈরি করে বিক্রি করা হয়। এটি কোন ধরনের উৎপাদনের অন্তর্ভুক্ত? [ক্যান্টনমেন্ট হাইস্কুল; যশোর]
- স্থানগত খ রূপগত গ মালিকানাগত ঘ সেবাগত
১০. উৎপাদনের আদি ও মৌলিক উপকরণ কোনটি? [পুলিশ লাইস হাইস্কুল এন্ড কলেজ; বগুড়া হলিক্রস উচ্চ বালিকা বিদ্যালয়]
- ভূমি খ শ্রম গ মূলধন ঘ সংগঠন
১১. কৃষকের ধান ভাঙার মেশিন কোন ধরনের উৎপাদন উপকরণ? [ভিকারুননিসা নূন স্কুল ও কলেজ, ঢাকা]
- ক ভূমি খ শ্রম ● মূলধন ঘ সংগঠন
১২. উৎপাদন কাজের কোন উপকরণটি ঝুঁকি বহন করে? [নাটোর বেসরকারি বালিকা বিদ্যালয়]
- ক ভূমি খ মূলধন গ শ্রম ● সংগঠন
১৩. কৃষিপ্রধান দেশ হিসেবে বাংলাদেশে উৎপাদনের উপকরণ হিসেবে বেশি ব্যবহৃত হয় কোনগুলো? [নারায়ণগঞ্জ সরকারি বালিকা উচ্চ বিদ্যালয়; বিএএফ শাহিন কলেজ ঢাকা]
- ভূমি ও শ্রম খ শ্রম ও মূলধন
- গ মূলধন ও সংগঠন ঘ শ্রম ও সংগঠন
১৪. জাপানের মতো দেশের উৎপাদনের উপকরণ হিসেবে বেশি ব্যবহৃত কোনগুলো? [সেন্ট জোসেফ হাইস্কুল খুলনা]
- ক ভূমি ও শ্রম ● মূলধন ও সংগঠন
- গ সংগঠন ও ভূমি ঘ শ্রম ও মূলধন
১৫. ব্যবসায়ের মূল ভিত্তি কী? [বি কে জি সি সরকারি বালিকা উচ্চ বিদ্যালয়, হবিগঞ্জ]
- ক শ্রম খ মূলধন গ ভূমি ● সংগঠন



১৬. উপরের চিত্রে কোন বিধিটি কার্যকর হয়েছে? [সিলেট সরকারি পাইলট উচ্চ বিদ্যালয়; পঞ্চগড় বিপি সরকারি উচ্চ বিদ্যালয়; বিএএফ শাহীন কলেজ, ঢাকা]

- ক্রমহ্রাসমান প্রান্তিক উৎপাদন বিধি    ✕ ক্রমহ্রাসমান চাহিদা বিধি  
 গ ক্রমহ্রাসমান যোগান বিধি    ✕ ক্রমহ্রাসমান উপযোগ বিধি

### বহুপদী সমাপ্তিসূচক বহুনির্বাচনি প্রশ্নোত্তর

১৭. রফিক সাহেব একজন শিল্প উদ্যোক্তা। এক্ষেত্রে সংগঠক হিসেবে তিনি— [স. বো. '১৬]

- র. ঝুঁকি গ্রহণ করবেন  
 রর. নীতি নির্ধারণ করবেন  
 ররর. উৎপাদনের উপকরণ সাজাবেন

নিচের কোনটি সঠিক?

- ক র ও রর    ✕ র ও ররর    গ র ও ররর    ● র, রর ও ররর

১৮. ক্রমহ্রাসমান প্রান্তিক উপযোগ বিধির শর্ত হলো— [স. বো. '১৫]

- র. ভোক্তা স্বাভাবিক বিচার বৃদ্ধিসম্পন্ন  
 রর. দ্রব্যের দাম প্রান্তিক উপযোগের সমান  
 ররর. অন্যান্য অবস্থা অপরিবর্তনীয়

নিচের কোনটি সঠিক?

- ক র ও রর    ✕ র ও ররর    গ র ও ররর    ● র, রর ও ররর

১৯. একজন সংগঠকের কাজ হলো— [ঢাকা রেসিডেন্সিয়াল মডেল কলেজ]

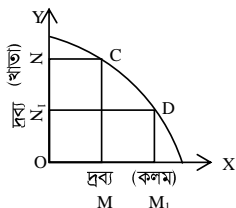
- র. উৎপাদনের উপাদানসমূহ পরিচালনা করা  
 রর. উৎপাদনের পরিকল্পনা করা  
 ররর. পণ্যের বাজার সৃষ্টি করা

নিচের কোনটি সঠিক?

- র ও রর    ✕ র ও ররর    গ রর ও ররর    ✕ র, রর ও ররর

### অভিন্ন তথ্যভিত্তিক বহুনির্বাচনি প্রশ্নোত্তর

নিচের চিত্রটি দেখে ২১ ও ২২ নং প্রশ্নের উত্তর দাও :



[স. বো. '১৫]

২০. উপরের চিত্রে ঝুঁকি রেখাটির নাম কী?

- ক প্রান্তিক উৎপাদন রেখা    ✕ সম-উৎপাদন রেখা  
 ● উৎপাদন সম্ভাবনা রেখা    ✕ প্রান্তিক উপযোগ রেখা

২১. উক্ত ঝুঁকি রেখা যা নির্দেশ করে, তা হলো—

র. দুটি দ্রব্যের বিভিন্ন সংমিশ্রণ

রর. সুযোগ ব্যয়

ররর. ভোক্তার উপযোগ

নিচের কোনটি সঠিক?

- র ও রর    ✕ র ও ররর    গ রর ও ররর    ✕ র, রর ও ররর

### ■ বিষয়ক্রম অনুযায়ী বহুনির্বাচনি প্রশ্নোত্তর

➔ ভূমিকা ➔ বোর্ড বই, পৃষ্ঠা- ৩৬

### সাধারণ বহুনির্বাচনি প্রশ্নোত্তর

২২. উপকরণ ব্যবহার করে উপযোগ সৃষ্টির কাজটি কে করে থাকে? (জ্ঞান)

- সংগঠন    ✕ ব্যক্তি    গ সমবায়    ✕ পরিকল্পনাকারী

২৩. সংগঠন দক্ষ না হলে কোনটি বৃদ্ধি করা সম্ভব হয় না? (অনুধাবন)

- ক উপকরণ    ● উৎপাদন    গ প্রতিষ্ঠান    ✕ কাঠামো

### বহুপদী সমাপ্তিসূচক বহুনির্বাচনি প্রশ্নোত্তর

২৪. শরবত তৈরি করতে প্রয়োজন— (অনুধাবন)

- র. পানি    রর. চিনি

ররর. লেবু

নিচের কোনটি সঠিক?

- ক র ও রর    ✕ র ও ররর    গ রর ও ররর    ● র, রর ও ররর

➔ ৪.১ : উৎপাদন ও উৎপাদক ➔ বোর্ড বই, পৃষ্ঠা- ৩৭

At a Glance

- অর্থনীতিতে উৎপাদন বলতে বোঝায়- নতুন উপযোগ সৃষ্টি করা।
- উৎপাদিত দ্রব্যের অবশ্যই- বিনিময়মূল্য থাকতে হবে।
- প্রাথমিক দ্রব্য ব্যবহারের মাধ্যমে নতুন দ্রব্য বা উপযোগ সৃষ্টি করাকে- উৎপাদন বলে।
- উৎপাদন ও উপযোগ সৃষ্টিকে ভাগ করা যায়- পাঁচ ভাগে।
- দ্রব্যকে রূপ পরিবর্তন করে নতুন দ্রব্য উৎপাদনকে বলে- রূপগত উৎপাদন।
- কোন দ্রব্য একস্থান হতে অন্যস্থানে স্থানান্তরের মাধ্যমে এর উপযোগ বৃদ্ধি প্রক্রিয়াকে বলে- স্থানগত উৎপাদন।
- মানুষ তার সেবা দ্বারা যে উপযোগ সৃষ্টি করে তাকে বলে- সেবাগত উৎপাদন।

### সাধারণ বহুনির্বাচনি প্রশ্নোত্তর

২৫. কোনো কাজকে উৎপাদন বলার শর্ত কী? (অনুধাবন)  
 ● উপযোগ সৃষ্টি হওয়া      ✕ অভাব পূরণ করা  
 গ চাহিদা সৃষ্টি করা      ঘ যোগান থাকা
২৬. উৎপাদিত দ্রব্যের কোনটি থাকলে তাকে উৎপাদন বলা হয়? (অনুধাবন)  
 ক ভারসাম্য মূল্য ● বিনিময় মূল্য      গ চাহিদা      ঘ মুনাফা
২৭. উপকরণ ব্যবহার করে উপযোগ সৃষ্টি করাকে কী বলে? (জ্ঞান)  
 ক যোগান      ✕ উৎপাদক      গ সংগঠন      ● উৎপাদন
২৮. সিমা আটা থেকে রুটি তৈরি করল। একে অর্থনীতিতে কী বলা হয়? (প্রয়োগ)  
 ● উৎপাদন      ✕ যোগান      গ চাহিদা      ঘ বাজার
২৯. উপকরণ সংগ্রহ থেকে বাজারে নিয়ে যাওয়া পর্যন্ত সব কাজ তদারকি করে কে? (উচ্চতর দক্ষতা)  
 ক শ্রমিকনেতা      ● সংগঠক বা উৎপাদক  
 গ বিনিয়োগকারী      ঘ ঋণদানকারী প্রতিষ্ঠান
৩০. একটি সংগঠনের নির্দিষ্ট পরিমাণ উপকরণ থেকে সর্বোচ্চ পরিমাণ উৎপাদন পাওয়া কখন সম্ভব হয় না? (উচ্চতর দক্ষতা)  
 ● দক্ষতার সাথে তদারকি করতে না পারলে  
 ✕ উপযোগ সৃষ্টি করতে না পারলে  
 গ চাহিদা সৃষ্টি না হলে  
 ঘ শ্রমিক অসন্তোষ বৃদ্ধি পেলে
৩১. জনাব শাহীন তার নিজ এলাকায় একটি শিল্প-কারখানা স্থাপন করেছেন। এখানে অনেক বেকার যুবকদের কাজের সংস্থান হয়েছে। জনাব শাহীনের কী বলা যায়? (প্রয়োগ)  
 ● উৎপাদক বা সংগঠক      ✕ নীতিনির্ধারক  
 গ পরিচালক      ঘ ব্যবস্থাপক
৩২. উৎপাদন বা উপযোগ সৃষ্টির প্রক্রিয়াকে কত ভাগে ভাগ করা হয়েছে? (জ্ঞান)  
 ● পাঁচ      ✕ আট      গ দশ      ঘ বারো
৩৩. কীভাবে রূপগত উপযোগ সৃষ্টি করা যায়? (অনুধাবন)  
 ক দ্রব্য স্থানান্তর করে      ● দ্রব্যের রূপ বা আকৃতি পরিবর্তন করে  
 গ মালিকানা পরিবর্তন করে      ঘ নতুন দ্রব্য সৃষ্টি করে
৩৪. মহসিন খান গ্রামাঞ্চল থেকে কাঠ কিনে এনে সেই কাঠ দিয়ে খাট, টেবিল বানিয়ে বাজারে বিক্রি করেন। মহসিন কোন ধরনের উৎপাদনের সাথে জড়িত? (প্রয়োগ)  
 ক স্থানগত      ✕ সময়গত      ● রূপগত      ঘ সেবাগত
৩৫. দ্রব্যের স্থানান্তরের মাধ্যমে কোন ধরনের উৎপাদন সৃষ্টি হয়? (জ্ঞান)  
 ● স্থানগত      ✕ রূপগত      গ সময়গত      ঘ সেবাগত
৩৬. কোথায় ফুলের তেমন কদর নেই? (জ্ঞান)  
 ক বাজারে      ✕ বাড়িতে      গ বাগানে      ● বনে
৩৭. গ্রামে খড়ি হিসেবে ব্যবহৃত কাঠ শহরে আকর্ষণীয় আসবাবপত্রে রূপ পেলে কী বৃদ্ধি পাবে? (উচ্চতর দক্ষতা)  
 ক যোগান      ● উপযোগ      গ চাহিদা      ঘ সম্বয়
৩৮. সময়ের ব্যবধানে অনেক জিনিসের উৎপাদন বাড়ে, একে কী বলা হয়? (জ্ঞান)  
 ক রূপগত উৎপাদন      ● সময়গত উৎপাদন

- গ মালিকানাগত উৎপাদন      ঘ স্থানগত উৎপাদন
৩৯. সাধারণত কোন মৌসুমে ধান বেশি পাওয়া যায়? (জ্ঞান)  
 ক ভাদ্র-আশ্বিন      ● পৌষ-মাঘ  
 গ বৈশাখ-জ্যৈষ্ঠ      ঘ আষাঢ়-শ্রাবণ
৪০. জামিল পৌষ মাসে উৎপাদিত ধান আশ্বিন মাসে বিক্রি করলেন। এতে কোন ধরনের উপযোগ সৃষ্টি হলো? (প্রয়োগ)  
 ক স্থানগত      ● সময়গত      গ মালিকানাগত      ঘ সেবাগত
৪১. মানুষ তার সেবা দ্বারা কোন ধরনের উৎপাদন তৈরি করে? (জ্ঞান)  
 ● সেবাগত      ✕ স্থানগত      গ রূপগত      ঘ সময়গত
৪২. জনসংখ্যার আয়তন ও সম্পদের মধ্যে সামঞ্জস্য বিধানের ওপর কী নির্ভর করে? (জ্ঞান)  
 ● উৎপাদনের পরিমাণ      ✕ জাতীয় আয়  
 গ অর্থনৈতিক অগ্রগতি      ঘ শ্রমিকের দক্ষতা
৪৩. রেবেকা সুলতানা প্রাইমারি স্কুলের শিক্ষিকা। তিনি শিক্ষা দিয়ে নতুন মানুষ তৈরি করছেন। এটি কোন ধরনের উৎপাদন? (প্রয়োগ)  
 ক রূপগত      ✕ স্থানগত      ● সেবাগত      ঘ সময়গত
৪৪. মুরাদ তার বাবার একটি পরিত্যক্ত সম্পত্তি উত্তরাধিকারের ভিত্তিতে পেয়ে সেখানে ধান চাষ করল। এতে কোন ধরনের উৎপাদন সৃষ্টি হলো? (প্রয়োগ)  
 ক রূপগত      ● মালিকানাগত  
 গ সময়গত      ঘ স্থানগত

### বহুপদী সমাঙ্গিসূচক বহুনির্বাচনি প্রশ্নোত্তর

৪৫. উৎপাদন বলতে বোঝায়— (অনুধাবন)  
 র. দ্রব্যের উপযোগ সৃষ্টি করা  
 রর. উৎপাদিত দ্রব্যের বিনিময় মূল্য থাকা  
 ররর. দ্রব্যের অভাব পূরণের ক্ষমতা  
 নিচের কোনটি সঠিক?  
 ● র ও রর      ✕ র ও ররর      গ রর ও ররর      ঘ র, রর ও ররর
৪৬. উৎপাদনের ফলে উৎপাদিত দ্রব্যের— (অনুধাবন)  
 র. বিনিময় মূল্য থাকতে হবে  
 রর. ক্রেতা আকর্ষণের ক্ষমতা থাকতে হবে  
 ররর. অভাব পূরণের ক্ষমতা থাকতে হবে  
 নিচের কোনটি সঠিক?  
 ক র ও রর      ✕ র ও ররর      গ রর ও ররর      ● র, রর ও ররর
৪৭. জনাব রফিক একজন সংগঠক। তার মধ্যে থাকতে হবে— (উচ্চতর দক্ষতা)  
 র. ঝুঁকি গ্রহণের মানসিকতা  
 রর. তত্ত্বাবধান ক্ষমতা  
 ররর. পরিচালনগত দক্ষতা  
 নিচের কোনটি সঠিক?

- ক র ও রর খ র ও ররর গ রর ও ররর ● র, রর ও ররর
৪৮. একই ব্যক্তি এক সাথে— (উচ্চতর দক্ষতা)  
র. শ্রমিক হতে পারেন  
রর. সংগঠক হতে পারেন  
ররর. উৎপাদক হতে পারেন  
নিচের কোনটি সঠিক?
- ক র ও রর খ র ও ররর গ রর ও ররর ● র, রর ও ররর
৪৯. রূপগত উৎপাদনের ক্ষেত্রে— (অনুধাবন)  
র. দ্রব্যের আকৃতি পরিবর্তন করতে হবে  
রর. দ্রব্যের উপযোগ সৃষ্টি করতে হবে  
ররর. দ্রব্য অন্যত্র স্থানান্তর করতে হবে  
নিচের কোনটি সঠিক?
- র ও রর খ র ও ররর গ রর ও ররর ঘ র, রর ও ররর
৫০. সেবাগত উৎপাদনের উদাহরণ হলো— (অনুধাবন)  
র. ডাক্তারের চিকিৎসা করা  
রর. শিক্ষকের শিক্ষা দেওয়া  
ররর. শিল্প মালিকের বিনিয়োগ করা  
নিচের কোনটি সঠিক?
- র ও রর খ র ও ররর গ রর ও ররর ঘ র, রর ও ররর
৫১. জনাব মামুন একজন সফল উদ্যোক্তা। তাকে সফল উদ্যোক্তা বলার কারণ— (উচ্চতর দক্ষতা)  
র. সম্প্রসারিত উৎপাদন পরিকল্পনা গ্রহণ  
রর. অধিকভাবে কর্মী ব্যবস্থাপনা করা  
ররর. ঝুঁকি গ্রহণ ছাড়াই ব্যবসা পরিচালনা করা  
নিচের কোনটি সঠিক?
- র ও রর খ র ও ররর গ রর ও ররর ঘ র, রর ও ররর
৫২. জনাব শিখাব গ্রাম থেকে শহরে কাঠ এনে টেকিল, চেয়ার তৈরি করে আশপাশের এলাকায় বিক্রি করেন। জনাব শিখাবের কাজে ফুটে উঠেছে— (প্রয়োগ)  
র. রূপগত উৎপাদন  
রর. স্থানগত উৎপাদন  
ররর. সময়গত উৎপাদন  
নিচের কোনটি সঠিক?
- র ও রর খ র ও ররর গ রর ও ররর ঘ র, রর ও ররর
৫৩. কমলগঞ্জ স্কুলের শিক্ষক নূরুল হুদা গ্রামের ছেলেমেয়েদের মাঝে শিক্ষা বিতরণ করে তাদেরকে মানুষ হিসেবে তৈরি করছেন। তার কাজটি উৎপাদন, কারণ— (উচ্চতর দক্ষতা)

র. তিনি উপযোগ সৃষ্টি করছেন

রর. তার কাজের বিনিময় মূল্য রয়েছে

ররর. তিনি দেশের সেবায় কাজ করছেন

নিচের কোনটি সঠিক?

● র ও রর খ র ও ররর গ রর ও ররর ঘ র, রর ও ররর

### অভিন্ন তথ্যভিত্তিক বহুনির্বাচনি প্রশ্নোত্তর

নিচের অনুচ্ছেদটি পড়ে ৫৫ ও ৫৬ নং প্রশ্নের উত্তর দাও :

ব্যবসায়ী আশিকুর রহমান বহুমুখী ব্যবসার সাথে জড়িত। তিনি গ্রাম থেকে কাঠ কিনে এনে আসবাবপত্র তৈরি করে বাজারে বিক্রি করেন। আবার বরিশাল থেকে মাছ কিনে এনে ঢাকায় বিক্রি করেন। তার এ কাজে প্রায় ২০ জন শ্রমিক সাহায্য করছে। তিনি নিজেই শ্রমিকদের দায়িত্ব যথাযথভাবে বুঝিয়ে দেন।

৫৪. জনাব আশিকুর রহমানের কাজে সৃষ্টি হয়েছে— (প্রয়োগ)  
র. রূপগত উপযোগ

রর. স্থানগত উপযোগ

ররর. মালিকানাগত উপযোগ

নিচের কোনটি সঠিক?

● র ও রর খ র ও ররর গ রর ও ররর ঘ র, রর ও ররর

৫৫. জনাব আশিকুর রহমান একজন সংগঠক, কারণ তিনি— (উচ্চতর দক্ষতা)  
র. কর্মী পরিচালনা করছেন

রর. ব্যবসায়ের পরিকল্পনা করছেন

ররর. ব্যবসায়ের মুনাফা ভোগ করছেন

নিচের কোনটি সঠিক?

● র ও রর খ র ও ররর গ রর ও ররর ঘ র, রর ও ররর

নিচের অনুচ্ছেদটি পড়ে ৫৭ ও ৫৮ নং প্রশ্নের উত্তর দাও :

দেলোয়ার হোসেন একজন প্রসিদ্ধ আসবাবপত্র ব্যবসায়ী। নিজ হাতে তিনি আসবাব তৈরি করেন। কাঠ দিয়ে সুন্দর সুন্দর খাট, সোফা, আলমারি তৈরি করে বাজারে সুলভ মূল্যে বিক্রি করেন। এতে তার প্রচুর মুনাফা হয়, যা তাকে স্বাচ্ছন্দ্যময় জীবনযাপন করতে সহায়তা করছে।

৫৬. দেলোয়ার হোসেনের কাজটি কোন ধরনের উৎপাদন? (প্রয়োগ)  
● রূপগত খ স্থানগত গ সময়গত ঘ মালিকানাগত

৫৭. এ ধরনের উৎপাদনে উপযোগ সৃষ্টি করা হয়— (উচ্চতর দক্ষতা)  
র. বস্তুর রূপ পরিবর্তন করে

রর. দ্রব্যের স্থান পরিবর্তন করে

ররর. দ্রব্যের আকৃতি পরিবর্তন করে

নিচের কোনটি সঠিক?

ক র ও রর ● র ও ররর গ রর ও ররর ঘ র, রর ও ররর

➔ ৪.২ : উৎপাদনের উপকরণ ➔ বোর্ড বই, পৃষ্ঠা- ৩৮

At a  
Glance

- উৎপাদনের মৌলিক উপকরণ হলো— ৪টি।
- উৎপাদনে সাহায্য করে এমনসব প্রাকৃতিক সম্পদকে বলে— ভূমি।
- উৎপাদন কার্যে ব্যবহৃত সব ধরনের শারীরিক ও মানসিক পরিশ্রমকে বলে— শ্রম।
- মানুষ কর্তৃক উৎপাদিত একমাত্র উপকরণ হলো— মূলধন।
- উৎপাদন কার্য সমন্বয়কারী প্রতিষ্ঠানকে বলে— সংগঠন।
- উৎপাদন ক্ষেত্রে সব উপকরণের গুরুত্ব— সমান নয়।

সাধারণ বহুনির্বাচনি প্রশ্নোত্তর

৫৮. উৎপাদনের বিকল্প ব্যবহার বলতে কী বোঝায়? (উচ্চতর দক্ষতা)
- উপকরণসমূহের সর্বোত্তম ব্যবহার    ✕ উপকরণসমূহের অবাধ ব্যবহার
- গ উপকরণসমূহের সাধারণ ব্যবহার    ঘ উপকরণসমূহের বিশেষ ব্যবহার
৫৯. শাহজাহান আলী ধান চাষ করতে গিয়ে ভূমি, ধানবীজ, সার, পানি প্রভৃতি ব্যবহার করেন। এগুলোকে কী বলা হয়? (প্রয়োগ)
- উৎপাদনের উপকরণ    ✕ উৎপাদন ব্যয়
- গ উৎপাদন প্রভাবক    ঘ উৎপাদন সামগ্রী
৬০. বৃহদায়তন শিল্পের প্রধান বৈশিষ্ট্য কোনটি? (অনুধাবন)
- ক অধিক উৎপাদন    ● শ্রমবিভাগ
- গ পর্যাপ্ত কাঁচামাল    ঘ পণ্যের চাহিদা
৬১. উৎপাদনের মৌলিক উপকরণ মূলত কয়টি? (জ্ঞান)
- চার    ✕ পাঁচ    গ ছয়    ঘ আট
৬২. উৎপাদনে সাহায্য করে এমনসব প্রাকৃতিক সম্পদকে কী বলে? (জ্ঞান)
- ভূমি    ✕ মূলধন    গ সঞ্চয়    ঘ উৎপাদন
৬৩. মাটির উর্বরা শক্তি উৎপাদনের কোন উপকরণ নির্দেশ করে? (জ্ঞান)
- ভূমি    ✕ মূলধন    গ শ্রম    ঘ সংগঠন
৬৪. জনাব তুহিন সৌরশক্তিকে কাজে লাগিয়ে বিদ্যুৎ উৎপাদন করছে। এখানে সৌরশক্তি উৎপাদনের কোন ধরনের উপকরণ? (প্রয়োগ)
- ভূমি    ✕ শ্রম    গ মূলধন    ঘ সংগঠন
৬৫. জনাব মৃদুল হক আলুর চাষ করতে গিয়ে বৃষ্টির পানির ওপর নির্ভর করছেন। এটি উৎপাদনের কোন ধরনের উপকরণ? (প্রয়োগ)
- ক শ্রম    ● ভূমি    গ মূলধন    ঘ সংগঠন
৬৬. নিচের কোনটি ভূমির অন্তর্ভুক্ত? (জ্ঞান)
- ক কাঁচামাল    ● আবহাওয়া ও জলবায়ু
- গ শিক্ষকের শিক্ষাদান    ঘ সত্যতা
৬৭. উৎপাদন কাজে নিয়োজিত মানুষের সব ধরনের শারীরিক ও মানসিক পরিশ্রমকে কী বলে? (জ্ঞান)
- শ্রম    ✕ কর্মদক্ষতা
- গ সংগঠন    ঘ উদ্যোগ

৬৮. বাংলাদেশের হাজার হাজার শ্রমিক পোশাক শিল্পে কায়িক পরিশ্রম দিয়ে দেশের উৎপাদন প্রক্রিয়াকে সচল রাখছে। এসব শ্রমিকের কায়িক পরিশ্রম কোন ধরনের উৎপাদন উপকরণ? (প্রয়োগ)
- ক ভূমি    ● শ্রম    গ সংগঠন    ঘ মূলধন
৬৯. উকিলের পরামর্শ উৎপাদনের কোন ধরনের উপকরণ? (অনুধাবন)
- শ্রম    ✕ ভূমি    গ মূলধন    ঘ সংগঠন
৭০. বিশ্বের উন্নত দেশসমূহে উৎপাদন বেশি হয় কেন? (অনুধাবন)
- ক অনুকূল কর্মপরিবেশের কারণে
- শ্রমিকদের অধিক দক্ষতার জন্য
- গ সামাজিক নিরাপত্তা কর্মসূচির জন্য
- ঘ বেতন-বোনাস বেশি দেওয়ার জন্য
৭১. মানুষ কর্তৃক উৎপাদিত উৎপাদনের একমাত্র উপকরণ কোনটি? (জ্ঞান)
- ক ভূমি    ✕ শ্রম    ● মূলধন    ঘ সংগঠন
৭২. নিচের কোনটি উৎপাদনের সক্রিয় উপকরণ? (অনুধাবন)
- মূলধন    ✕ শ্রম    গ সংগঠন    ঘ ভূমি
৭৩. শিহাব সাত বছরে অর্জিত মুনাফা ভোগ না করে নতুন ব্যবসার কাজে লাগিয়েছে। শিহাবের টাকাকে কী বলা হয়? (প্রয়োগ)
- মূলধন    ✕ যোগান    গ চাহিদা    ঘ শ্রম
৭৪. উৎপাদনের কোন উপকরণটি ভোগ না করে ভবিষ্যতের জন্য ব্যবহার করা যায়? (জ্ঞান)
- মূলধন    ✕ শ্রম    গ ভূমি    ঘ সংগঠন
৭৫. উকিলের পরামর্শ উৎপাদনের কোন ধরনের উপকরণ? (অনুধাবন)
- শ্রম    ✕ ভূমি    গ মূলধন    ঘ সংগঠন
৭৬. বিশ্বের উন্নত দেশসমূহে উৎপাদন বেশি হয় কেন? (অনুধাবন)
- ক অনুকূল কর্মপরিবেশের কারণে
- শ্রমিকদের অধিক দক্ষতার জন্য
- গ সামাজিক নিরাপত্তা কর্মসূচির জন্য
- ঘ বেতন-বোনাস বেশি দেওয়ার জন্য
৭৭. একটি প্রতিষ্ঠানের সার্বিক কাজ পরিচালনাকে কী বলা হয়? (জ্ঞান)
- সংগঠন    ✕ উৎপাদন
- গ বিনিয়োগ    ঘ যোগান
৭৮. রাতুল একজন সংগঠক। সে উৎপাদন ক্ষেত্রে কী করবে? (উচ্চতর দক্ষতা)
- ক মাঠে কাজ করবে    ● ঝুঁকি বহন করবে
- গ শ্রমিকদের বেতন দেবে    ঘ ব্যবসায়ের লভ্যাংশ দান করবে
৭৯. একজন সংগঠক হিসেবে মহিউদ্দিন সাহেবের প্রধান কাজ কী? (উচ্চতর দক্ষতা)
- ক পরিকল্পনা করা    ✕ দায়িত্ব বণ্টন করা
- প্রতিষ্ঠানের ঝুঁকি বহন করা    ঘ মালিকানা প্রতিষ্ঠা করা
৮০. সমগ্র উৎপাদন ব্যবস্থায় চারটি উপকরণ উপস্থিত থাকা জরুরি কেন? (অনুধাবন)
- ক উৎপাদন বেশি হওয়ার জন্য
- উৎপাদন হিসেবে গ্রহণযোগ্যতা পাওয়ার জন্য

- গ উৎপাদনের স্বাভাবিকতা বজায় রাখার জন্য
- ঘ উৎপাদন প্রক্রিয়া ত্বরান্বিত করার জন্য
৮১. উৎপাদনে বেশি বা কম উপকরণের প্রয়োজন হয় কীভাবে (উচ্চতর দক্ষতা)
- অবস্থান্তরে পরিমাণ অনুযায়ী
- গ গুরুত্ব অনুযায়ী ঘ বিনিয়োগ অনুসারে
৮২. উৎপাদন ক্ষেত্রে সব উপকরণের গুরুত্ব সমান নয় কেন? (অনুধাবন)
- ক উৎপাদন কাঠামোর ভিন্নতার কারণে
- খ উপকরণসমূহের গুরুত্বের ভিন্নতার কারণে
- উৎপাদন ব্যবস্থার অবস্থাগত ভিন্নতার কারণে
- ঘ উৎপাদন উপকরণসমূহের সহজলভ্যতার কারণে
৮৩. বাংলাদেশ কোন ধরনের দেশ? (অনুধাবন)
- কৃষিপ্রধান খ শিল্পপ্রধান
- গ অধিক বিনিয়োগের ঘ খনিজসম্পদ প্রধান
৮৪. যুক্তরাষ্ট্রে উৎপাদন ক্ষেত্রে কোনটির ওপর সবচেয়ে বেশি গুরুত্ব দেওয়া হয়? (প্রয়োগ)
- ক শ্রম খ ভূমি ● মূলধন ঘ চাহিদা
৮৫. বর্তমান বাংলাদেশে উৎপাদনের কোন উপাদানটির গুরুত্ব কম? (অনুধাবন)
- ক শ্রম ● মূলধন গ ভূমি ঘ সংগঠন
৮৬. উন্নত দেশে উৎপাদনের কোন উপকরণটির প্রতি বেশি গুরুত্ব দেওয়া হয়? (অনুধাবন)
- মূলধন খ শ্রম গ সংগঠন ঘ ভূমি
৮৭. শিল্পপ্রধান দেশ হতে হলে বাংলাদেশকে উৎপাদনের কোন উপকরণের প্রতি বেশি গুরুত্ব দিতে হবে? (উচ্চতর দক্ষতা)
- ক শ্রম ও ভূমি ● মূলধন ও সংগঠন
- গ মূলধন ও শ্রম ঘ শ্রম ও সংগঠন
৮৮. কৃষক জমির আলীর পরিবারের সম্পর্কের সাথে জনসংখ্যা সামঞ্জস্যপূর্ণ। এক্ষেত্রে কোনটি বৃদ্ধি পাবে? (উচ্চতর দক্ষতা)
- উৎপাদন খ যোগান গ চাহিদা ঘ শ্রম

### বহুপদী সমাপ্তিসূচক বহুনির্বাচনি প্রশ্নোত্তর

৮৯. উৎপাদন উপকরণ হিসেবে ভূমির অন্তর্ভুক্ত— (অনুধাবন)
- র. আবহাওয়া রর. খনিজ দ্রব্য
- ররর. কাঁচামাল
- নিচের কোনটি সঠিক?
- র ও রর খ র ও ররর গ রর ও ররর ঘ র, রর ও ররর
৯০. উৎপাদনের উপকরণ হিসেবে শ্রমের অন্তর্ভুক্ত হবে— (অনুধাবন)
- র. কাঁচামালের ব্যবহার রর. শিক্ষকের শিক্ষাদান
- ররর. নার্সের সেবা
- নিচের কোনটি সঠিক?

ক র ও রর খ র ও ররর ● রর ও ররর ঘ র, রর ও ররর

৯১. উৎপাদনের উপকরণের মধ্যে পড়ে— (অনুধাবন)
- র. জমির উর্বরা শক্তি রর. শ্রমিকদের দায়িত্ব বণ্টন
- ররর. শিক্ষকের শিক্ষাদান
- নিচের কোনটি সঠিক?
- ক র ও রর খ র ও ররর গ রর ও ররর ● র, রর ও ররর
৯২. উৎপাদনের উপকরণ হিসেবে মূলধন— (অনুধাবন)
- র. মানুষ কর্তৃক উৎপাদিত রর. মানুষ ব্যবহার করতে পারে না
- ররর. নতুন পণ্য উৎপাদনে ব্যয় হয়
- নিচের কোনটি সঠিক?
- ক র ও রর ● র ও ররর গ রর ও ররর ঘ র, রর ও ররর
৯৩. জনাব মজিদ উৎপাদনের উপকরণ হিসেবে ভূমিকে গুরুত্ব দিচ্ছেন। এক্ষেত্রে তিনি নির্বাচন করতে পারেন— (প্রয়োগ)
- র. খনিজ দ্রব্য রর. সূর্যকিরণ
- ররর. কাঁচামাল
- নিচের কোনটি সঠিক?
- ক র ও রর খ র ও ররর গ রর ও ররর ● র, রর ও ররর
৯৪. জনাব রিয়াদ তার প্রতিষ্ঠানটিতে নিজস্ব মূলধন ব্যবহার করেছেন। এ মূলধন হতে পারে— (প্রয়োগ)
- র. প্রয়োজনীয় কাঁচামাল রর. শ্রমিকের দক্ষতা
- ররর. আসবাবপত্র
- নিচের কোনটি সঠিক?
- ক র ও রর ● র ও ররর গ রর ও ররর ঘ র, রর ও ররর
৯৫. উৎপাদনের উপকরণ হিসেবে শ্রম হতে পারে— (অনুধাবন)
- র. শারীরিক রর. মানসিক
- ররর. আর্থিক
- নিচের কোনটি সঠিক?
- র ও রর খ র ও ররর গ রর ও ররর ঘ র, রর ও ররর
৯৬. একজন উৎপাদক হিসেবে শাহীন সমন্বয় সাধন করেন— (প্রয়োগ)
- র. ভূমির ও শ্রমের রর. শ্রম ও মূলধনের
- ররর. চাহিদা ও যোগানের
- নিচের কোনটি সঠিক?
- র ও রর খ র ও ররর গ রর ও ররর ঘ র, রর ও ররর
৯৭. একজন সংগঠক হিসেবে রিফাত শারমিনের কাজ হলো— (উচ্চতর দক্ষতা)
- র. উৎপাদনের উপকরণসমূহের সমন্বয় ঘটানো



১০৪. রর. ঝুঁকি নিয়ে উৎপাদন কাজ পরিচালনা করা
১০৫. ররর. চাহিদা ও যোগানের মধ্যে সমন্বয় সাধন করা
- নিচের কোনটি সঠিক?
- র ও রর      খ র ও ররর      গ রর ও ররর      ঘ র, রর ও ররর
১০৬. সমগ্র উৎপাদন ব্যবস্থায় যেসব উপকরণসমূহের অংশগ্রহণ অপরিহার্য— (অনুধাবন)
১০৭. র. ভূমি      রর. মূলধন
১০৮. ররর. শ্রম ও সংগঠন
- নিচের কোনটি সঠিক?
- ক র ও রর      খ র ও ররর      গ রর ও ররর      ● র, রর ও ররর
১০৯. অবস্থানভেদে উৎপাদনের উপকরণসমূহের— (অনুধাবন)
১১০. র. কম প্রয়োজন হয়      রর. বেশি প্রয়োজন হয়
১১১. ররর. প্রয়োজন হয় না
- নিচের কোনটি সঠিক?
- র ও রর      খ র ও ররর      গ রর ও ররর      ঘ র, রর ও ররর
১১২. বাংলাদেশ একটি— (অনুধাবন)
১১৩. র. জনবহুল দেশ      রর. কৃষিপ্রধান দেশ
১১৪. ররর. শিল্পসমৃদ্ধ দেশ
- নিচের কোনটি সঠিক?
- র ও রর      খ র ও ররর      গ রর ও ররর      ঘ র, রর ও ররর
১১৫. একটি প্রতিষ্ঠানে ব্যবস্থাপনা কথাটি ব্যবহৃত হয়— (অনুধাবন)
১১৬. র. কাজের সমন্বয় বোঝাতে      রর. কাজ পরিচালনা বোঝাতে
১১৭. ররর. কর্মী নিয়োগ বোঝাতে
- নিচের কোনটি সঠিক?
- র ও রর      খ র ও ররর      গ রর ও ররর      ঘ র, রর ও ররর
১১৮. জনাব শিপন একজন উন্নত দেশের শিল্প উদ্যোক্তা। উৎপাদনের ক্ষেত্রে তিনি বেশি গুরুত্ব দেবেন— (প্রয়োগ)
১১৯. র. ভূমির      রর. সংগঠনের
১২০. ররর. মূলধনের
- নিচের কোনটি সঠিক?
- ক র ও রর      খ র ও ররর      ● রর ও ররর      ঘ র, রর ও ররর
১২১. উন্নত দেশের উৎপাদনের ক্ষেত্রে ভূমি ও শ্রমের তুলনায় মূলধনের গুরুত্ব দেওয়া হয় বেশি। এ জাতীয় দেশের মধ্যে রয়েছে— (প্রয়োগ)
১২২. র. ভারত      রর. জাপান
১২৩. ররর. যুক্তরাষ্ট্র
- নিচের কোনটি সঠিক?

- ক র ও রর      খ র ও ররর      ● রর ও ররর      ঘ র, রর ও ররর
১০৪. উৎপাদনের উপকরণ হচ্ছে উৎপাদনের জন্য প্রয়োজনীয়— (অনুধাবন)
১০৫. র. দ্রব্য      রর. সেবাকর্ম
১০৬. ররর. অর্থ
- নিচের কোনটি সঠিক?
- র ও রর      খ র ও ররর      গ রর ও ররর      ঘ র, রর ও ররর

### অভিন্ন তথ্যভিত্তিক বহুনির্বাচনি প্রশ্নোত্তর

নিচের অনুচ্ছেদটি পড়ে ১০৬ ও ১০৭ নং প্রশ্নের উত্তর দাও :

গাজীপুরের শালবন থেকে শালকাঠ সংগ্রহ করে মিরাজ এবং তার বন্ধু আসবাবপত্রের দোকান দিয়েছেন। তাদের দোকানে আরও দশজন কর্মী কাজ করছেন। মিরাজ এবং তার বন্ধু দোকানের সার্বিক কাজ তদারকি করছেন।

১০৫. অনুচ্ছেদের শালবন উৎপাদনের কোন ধরনের উপকরণ? (প্রয়োগ)

- ভূমি      খ শ্রম
- গ মূলধন      ঘ সংগঠন

১০৬. মিরাজ ও তার বন্ধুকে সংগঠক বলা যাবে, যদি তারা— (উচ্চতর দক্ষতা)

১০৭. র. ব্যবসায়ের ঝুঁকি বহন করেন
১০৮. রর. কাজের সমন্বয় সাধন করেন
১০৯. ররর. মুনাফা ভোগ করেন

নিচের কোনটি সঠিক?

- র ও রর      খ র ও ররর      গ রর ও ররর      ঘ র, রর ও ররর

নিচের অনুচ্ছেদটি পড়ে ১০৮ ও ১০৯ নং প্রশ্নের উত্তর দাও :

পাথরঘাটার লালদিয়ার চরে বসবাসরত বেশ কিছু জেলে মৎস্য আহরণ করে জীবিকা নির্বাহ করে। নিজেদের জাল এবং নৌকা দিয়ে তারা বঙ্গোপসাগরে মাছ ধরে। এসব মাছ পাথরঘাটা হতে পল্টনে এনে বিক্রি করে যে টাকা পায়, তা দিয়ে সংসারের খরচ চালায় এবং অতিরিক্ত টাকা সঞ্চয় করে।

১০৭. অনুচ্ছেদে বর্ণিত জেলদের জাল ও নৌকা উৎপাদনের কোন ধরনের উপকরণ? (প্রয়োগ)

- ক ভূমি      ● মূলধন      গ শ্রম      ঘ সংগঠন

১০৮. অনুচ্ছেদের মধ্য থেকে উৎপাদনের ভূমি উপকরণ হিসেবে কোনটিকে চিহ্নিত করা যায়? (প্রয়োগ)

- ক নৌকা      খ জেলে      ● বঙ্গোপসাগর      ঘ সঞ্চয়

নিচের অনুচ্ছেদটি পড়ে ১১০ ও ১১১ নং প্রশ্নের উত্তর দাও :

কুমিল্লার গোমতী নদীকে একসময় কুমিল্লার দুঃখ বলা হতো। এই নদীর পানি দুই ধারে প্লাবিত হয়ে জমিতে পলি পড়ায় ফসল ভালো হয়। নদীতে সারা বছর মাছ ধরে এখানকার অনেকেই জীবিকা নির্বাহ করে।

১০৯. গোমতী নদীটি উৎপাদনের কোন ধরনের উপকরণ? (প্রয়োগ)

- ভূমি      খ মূলধন      গ শ্রম      ঘ সংগঠন

১১০. নদীটিকে এ উপকরণের অন্তর্ভুক্ত করা হয়, কারণ— (উচ্চতর দক্ষতা)

র. এটি উৎপাদনে সহায়তা করে

রর. এটি প্রকৃতির দান

ররর. এক্ষেত্রে কোনো উৎপাদন খরচ নেই

নিচের কোনটি সঠিক?

- র ও রর      ✕ র ও ররর      গ রর ও ররর      ঘ র, রর ও ররর

### ➔ ৪.৩ : সংগঠন ও এর বিকাশ ➔

- ব্যবসায় পরিচালনা ও নিয়ন্ত্রণ নির্ভর করে— সংগঠনের ওপর।
- ব্যবসায়ের ভিত্তি হলো— সংগঠন।
- উৎপাদন ক্ষেত্রে দক্ষতার সাথে কার্য ভাগ করে দেন একজন— সংগঠক।
- সাংগঠনিক কাঠামো যত শক্তিশালী হবে— ব্যবসায়ের সাফল্য তত বৃদ্ধি পাবে।
- ব্যবসায়ের উদ্দেশ্য ও প্রকৃতি অনুসারে— সংগঠনের রূপরেখা তৈরি করতে হয়।

### সাধারণ বহুনির্বাচনি প্রশ্নোত্তর

১১১. সংগঠন বলতে কী বোঝায়? (জ্ঞান)  
ক উৎপাদন একত্রীকরণ  
খ উৎপাদন বাজারজাতকরণ  
● উৎপাদনের উপকরণসমূহের সময় সাধন ও কাজ পরিচালনা  
ঘ শ্রমিকদের দায়িত্ব বন্টন
১১২. ব্যবসায়িক উদ্দেশ্যে উৎপাদনমুখী কার্যক্রম নিয়ন্ত্রণ ও পরিচালনা করাকে কী বলে? (জ্ঞান)  
● সংগঠন      ✕ উৎপাদন      গ বিনিয়োগ      ঘ যোগান
১১৩. সংগঠনকে উৎপাদনের মৌলিক উপকরণ বলা হয় কেন? (অনুধাবন)  
● সংগঠন ছাড়া উৎপাদন সম্ভব নয় বলে  
খ উৎপাদনের প্রথম উপাদান বলে  
গ উৎপাদনের গতি প্রকৃতি নির্ধারণ করে বলে  
ঘ উৎপাদন বৃদ্ধি করে বলে
১১৪. উৎপাদনের জন্য পরিকল্পনা করেন কে? (জ্ঞান)  
● সংগঠক      ✕ ব্যবস্থাপক  
গ বিনিয়োগকারী      ঘ উৎপাদনকারী
১১৫. উৎপাদন কর্মকাণ্ডে বিভিন্ন জনকে কী করতে হয়? (জ্ঞান)  
● দায়িত্ব পালন করতে হয়      ✕ মুনাফা ভোগ করতে হয়  
গ মূলধনের যোগান দিতে হয়      ঘ কাজে সাহায্য করতে হয়
১১৬. কোনটি ছাড়া উৎপাদন ও ব্যবসায় নিয়ন্ত্রণ অসম্ভব? (জ্ঞান)  
● সংগঠন      ✕ শ্রম      গ মূলধন      ঘ ভূমি

১১৭. সংগঠন কী? (জ্ঞান)  
● পারস্পরিক দায়িত্ব ও কর্তৃত্ব কাঠামো      ✕ শ্রমিক ব্যবস্থাপনা  
গ উৎপাদন কার্যাবলি      ঘ বাজার ব্যবস্থাপনা
১১৮. সঞ্চিত আয় যখন উৎপাদন কাজে ব্যয় করা হয়। তখন তাকে কী বলা হয়? (জ্ঞান)  
● মূলধন      ✕ ভোগ      গ বিনিয়োগ      ঘ খরচ
১১৯. নিচের কোনটি সাংগঠনিক কাঠামোর কাজ? (অনুধাবন)  
● প্রতিষ্ঠানে নিয়মশৃঙ্খলা গড়ে তোলা      ✕ ব্যবসায়ের আয়তন বৃদ্ধি করা  
গ উৎপাদনের প্রকৃতি নির্ণয় করা      ঘ শ্রমিকদের প্রশিক্ষণ দেয়া
১২০. ব্যবসায়ের সাফল্য নির্ভর করে কোনটির ওপর? (জ্ঞান)  
● সাংগঠনিক কাঠামো      ✕ শ্রমিকের দক্ষতা  
গ ব্যবসায়ের প্রকৃতি      ঘ ব্যবসায়ের আয়তন
১২১. ব্যবসায়ের মৌলিক ও প্রধান বিষয় কোনটি? (জ্ঞান)  
● সংগঠন      ✕ ভূমি      গ শ্রমিক      ঘ মূলধন
১২২. জনাব আব্বাস আলী 'চ' নামক সংগঠনের উদ্যোক্তা। তিনি প্রথমে কী নির্ধারণ করবেন? (প্রয়োগ)  
● ব্যবসায়ের উদ্দেশ্য      ✕ কাজের প্রকৃতি  
গ ব্যবসায়ের সাফল্য      ঘ শ্রমিকের ধরন
১২৩. একটি আদর্শ সংগঠনের প্রথম ধাপ কী? (অনুধাবন)  
● ব্যবসায়ের উদ্দেশ্য নির্ধারণ করা      ✕ ব্যবসায়ের কার্যাবলি বন্টন করা  
গ ব্যবসায়ের ভার অর্পণ করা      ঘ ব্যবসায়ের মুনাফা নির্ধারণ করা
১২৪. ব্যবসায়ের উদ্দেশ্য ও প্রকৃতি অনুযায়ী কী তৈরি করতে হয়? (জ্ঞান)  
● ব্যবসায়ের সাংগঠনিক রূপ      ✕ ব্যবসায়ের পরিবেশ  
গ শ্রমিকদের স্তরবিন্যাস      ঘ ব্যবসায়ের স্তরবিন্যাস
১২৫. জনাব জামিল তার গার্মেন্টসে কোন ধরনের কাপড় উৎপাদন করা হবে এবং কতজন শ্রমিক কাজ করবে তা নির্ধারণ করেন। জনাব জামিলকে কী বলা যায়? (উচ্চতর দক্ষতা)  
● সংগঠক      ✕ ব্যবস্থাপক      গ শ্রমিকনেতা      ঘ উৎপাদক
১২৬. একটি ভালো সংগঠনের বৈশিষ্ট্য কী? (উচ্চতর দক্ষতা)  
ক পণ্যের মূল্য বেশি রাখা  
● প্রতিষ্ঠানের কাজ ভাগাভাগি করে নেয়া  
গ সব ব্যাপারে একমত পোষণ করা  
ঘ পণ্যের মূল্য বৃদ্ধি করা
১২৭. একটি শিল্প কারখানায় কে কী কাজ করবে তা ঠিক করেন কে? (জ্ঞান)  
● সংগঠক      ✕ বিনিয়োগকারী  
গ শ্রমিকনেতা      ঘ উৎপাদনকারী
১২৮. প্রতি বিভাগের কাজে সহায়ক হয়— (জ্ঞান)  
ক অপুবিভাগ      ● উপবিভাগ      গ ক্ষুদ্রবিভাগ      ঘ সহবিভাগ
১২৯. ব্যবসায়ের প্রতিটি বিভাগ ও উপবিভাগে কর্মীর সুনির্দিষ্ট কর্ম স্থির করা হয় কীভাবে? (অনুধাবন)  
● অভিজ্ঞতা, ক্ষমতা ও দক্ষতা অনুযায়ী  
খ শিক্ষাগত যোগ্যতা অনুযায়ী

- গ সামাজিক অবস্থান অনুযায়ী  
ঘ নৈতিক চরিত্র অনুযায়ী
১৩০. বাংলাদেশের ঢাকার তাহসিন গার্মেন্টসের তৈরি পোশাক বিশ্ব বাজারে বিশেষ স্থান দখল করেছে। এ থেকে কী বোঝা যায়? (উচ্চতর দক্ষতা)  
● বাংলাদেশি শ্রমিকদের দক্ষতা    খ গার্মেন্টস শিল্পের গ্রহণযোগ্যতা
- গ গার্মেন্টস কর্মীদের বিলাসিতা    ঘ বাংলাদেশে পোশাকের ঘাটতি
১৩১. কর্তব্য পালনের উপযুক্ত কার্যনির্বাহী ক্ষমতা অর্পণ করাকে কী বলা হয়? (জ্ঞান)  
ক বণ্টন    খ কর্তব্য  
● ভার অর্পণ    ঘ কার্যাবলির ভাগাভাগি
১৩২. একটি কারখানার কর্মীকে কিসের অধিকার দিতে হবে? (জ্ঞান)  
● নির্বিঘ্নে কাজ করার    খ যখন খুশি ছুটি নেয়ার  
গ অধস্তনদের ইচ্ছামতো শাসন করার    ঘ উর্ধ্বতনদের শ্রদ্ধা করার
১৩৩. কারখানায় দুটি ভিন্নমুখী প্রবাহ অব্যাহত থাকলে সংগঠন সফল হয়। এখানে কী বোঝানো হয়েছে? (উচ্চতর দক্ষতা)  
● অধস্তন ও উর্ধ্বতনদের সম্পর্কের দিকটি  
খ চাহিদা ও যোগানের সমন্বয়ের দিকটি  
গ উৎপাদন ও সংগঠনের সম্পর্কের দিকটি  
ঘ উৎপাদন ও বাজারের সমন্বয়ের দিকটি
১৩৪. অধস্তন কর্মী কার নিকট কাজের কৈফিয়ৎ দিতে বাধ্য থাকেন? (অনুধাবন)  
● উর্ধ্বতন কর্মকর্তা    খ মালিক  
গ হিসাব রক্ষক    ঘ ব্যবস্থাপক

### বহুপদী সমাপ্তিসূচক বহুনির্বাচনি প্রশ্নোত্তর

১৩৫. সাধারণত সংগঠন হলো ব্যবসায়িক উদ্দেশ্যে— (অনুধাবন)  
র. উৎপাদনমুখী কার্যক্রম পরিচালনা করা  
রর. কার্যক্রম নিয়ন্ত্রণ করা  
ররর. মুনাফা অর্জন করা  
নিচের কোনটি সঠিক?  
● র ও রর    খ র ও ররর    গ রর ও ররর    ঘ র, রর ও ররর
১৩৬. সংগঠন ছাড়া প্রায় অসম্ভব— (উচ্চতর দক্ষতা)  
র. উৎপাদন করা  
রর. ব্যবসায়িক কার্যক্রম নিয়ন্ত্রণ করা  
ররর. প্রতিষ্ঠানের ব্যবস্থাপনা সংক্রান্ত কাজ সম্পন্ন করা  
নিচের কোনটি সঠিক?  
ক র ও রর    খ র ও ররর    গ রর ও ররর    ● র, রর ও ররর
১৩৭. সংগঠন কর্মীদের মধ্যে সৃষ্টি করে— (উচ্চতর দক্ষতা)

- র. দায়িত্বানুভূতি    রর. সহানুভূতি  
ররর. কর্তৃত্বানুভূতি  
নিচের কোনটি সঠিক?  
ক র ও রর    ● র ও ররর    গ রর ও ররর    ঘ র, রর ও ররর
১৩৮. সংগঠন কাঠামো সৃষ্টি করা হয়— (অনুধাবন)  
র. লক্ষ্য অর্জনের জন্য    রর. কাজের সমন্বয়ের জন্য  
ররর. কর্মী ব্যবস্থাপনার জন্য  
নিচের কোনটি সঠিক?  
ক র ও রর    খ র ও ররর    গ রর ও ররর    ● র, রর ও ররর
১৩৯. ব্যবসায়ের সাংগঠনিক কাঠামো নির্ভরশীল— (উচ্চতর দক্ষতা)  
র. ব্যবসায়ের আয়তনের ওপর  
রর. ব্যবসায়ের মুনাফার ওপর  
ররর. উৎপাদিত পণ্যের প্রকৃতি ও পরিমাণের ওপর  
নিচের কোনটি সঠিক?  
ক র ও রর    ● র ও ররর    গ রর ও ররর    ঘ র, রর ও ররর
১৪০. সাংগঠনিক কাঠামোর অন্তর্ভুক্ত বিষয় হলো— (অনুধাবন)  
র. বিভিন্ন কাজের দায়িত্ব বণ্টন  
রর. নিয়মশৃঙ্খলা গড়ে তোলা  
ররর. কর্মীর দক্ষতা যাচাই করা  
নিচের কোনটি সঠিক?  
ক র ও রর    খ র ও ররর    গ রর ও ররর    ● র, রর ও ররর
১৪১. সংগঠন একটি ব্যবসায়ের— (অনুধাবন)  
র. মূল ভিত্তি    রর. মৌলিক বিষয়  
ররর. সাধারণ বিষয়  
নিচের কোনটি সঠিক?  
● র ও রর    খ র ও ররর    গ রর ও ররর    ঘ র, রর ও ররর
১৪২. ব্যবসায়ের সাংগঠনিক রূপ তৈরি করতে হয়— (অনুধাবন)  
র. ব্যবসায়ের উদ্দেশ্য অনুযায়ী  
রর. ব্যবসায়ের গ্রহণযোগ্যতা অনুযায়ী  
ররর. ব্যবসায়ের প্রকৃতি অনুযায়ী  
নিচের কোনটি সঠিক?  
ক র ও রর    ● র ও ররর    গ রর ও ররর    ঘ র, রর ও ররর
১৪৩. একটি সাংগঠনিক চিত্র থেকে ধারণা লাভ করা যায়— (উচ্চতর দক্ষতা)

র. প্রাতিষ্ঠানিক বিভিন্ন দায়িত্ব সম্পর্কে

রর. দায়িত্বপ্রাপ্ত কর্মকর্তাদের পদক্রম সম্পর্কে

ররর. প্রতিষ্ঠানের আয়-ব্যয় সম্পর্কে

নিচের কোনটি সঠিক?

● র ও রর      খ র ও ররর      গ রর ও ররর      ঘ র, রর ও ররর

১৪৪. জনাব হিসাম একটি প্রতিষ্ঠানের উর্ধ্বতন কর্মকর্তা। তিনি তার অধস্তনদের কর্তব্য বস্টন করবেন— (প্রয়োগ)

র. কর্মীদের দক্ষতা ও অভিজ্ঞতা অনুযায়ী

রর. প্রতিষ্ঠানের নির্দেশানুযায়ী

ররর. নিজের অভিজ্ঞতা অনুযায়ী

নিচের কোনটি সঠিক?

● র ও রর      খ র ও ররর      গ রর ও ররর      ঘ র, রর ও ররর

১৪৫. ভার অর্পণ বলতে বোঝায়— (অনুধাবন)

র. কর্তব্য পালনের ক্ষমতা প্রদান

রর. উর্ধ্বতন কর্মকর্তার কাজের ভাগাভাগি

ররর. প্রতিষ্ঠানে জবাবদিহিতা সৃষ্টি

নিচের কোনটি সঠিক?

ক র ও রর      খ র ও ররর      গ রর ও ররর      ● র, রর ও ররর

১৪৬. শিহাব স্থানীয় একটি এনজিও থেকে ঋণ নিয়ে কর্মসংস্থান গড়ে তোলেন। তার প্রতিষ্ঠানে আরও ২০ জন কর্মী কাজ করছে। শিহাবকে একজন সংগঠক বলা যায়, কারণ— (উচ্চতর দক্ষতা)

র. তিনি উৎপাদনের পরিকল্পনা করেন

রর. তিনি কর্মীদের মধ্যে দায়িত্ব ভাগ করে দেন

ররর. তিনি বার্ষিক আয়-ব্যয়ের হিসাব করেন

নিচের কোনটি সঠিক?

● র ও রর      খ র ও ররর      গ রর ও ররর      ঘ র, রর ও ররর

১৪৭. উৎপাদন ও ব্যবসায়ের কার্য সম্পাদনে কর্মীদের মধ্যে সৃষ্টি হয়— (জ্ঞান)

র. পারস্পরিক কর্তৃত্ব      রর. ভালোবাসা

ররর. দায়িত্ব

নিচের কোনটি সঠিক?

ক র ও রর      ● র ও ররর      গ রর ও ররর      ঘ র, রর ও ররর

### অভিন্ন তথ্যভিত্তিক বহুনির্বাচনি প্রশ্নোত্তর

নিচের অনুচ্ছেদটি পড়ে ১৪৯ ও ১৫০ নং প্রশ্নের উত্তর দাও :

ঢাকা বিশ্ববিদ্যালয়ে মার্কেটিংয়ের ছাত্র রতন দাস ছাত্র থাকা অবস্থায়ই নিজ এলাকায় একটি মৎস্য খামার গড়ে তোলেন। এলাকার বেকার যুবকদের প্রশিক্ষণ দিয়ে তাদের সহযোগিতায় রতন মৎস্য খামারটি পরিচালনা করছেন।

১৪৮. অনুচ্ছেদের কাজ অনুযায়ী রতন দাসকে কী বলা যায়? (প্রয়োগ)

● সংগঠক      খ বিনিয়োগকারী      গ ব্যবস্থাপক      ঘ শ্রমিক

১৪৯. রতন দাসের মতো আত্মনির্ভরশীল হওয়ার জন্য প্রয়োজন— (উচ্চতর দক্ষতা)

র. মূলধন      রর. সংগঠন

ররর. শ্রমিক

নিচের কোনটি সঠিক?

ক র ও রর      খ র ও ররর      গ রর ও ররর      ● র, রর ও ররর

নিচের অনুচ্ছেদটি পড়ে ১৫১ ও ১৫২ নং প্রশ্নের উত্তর দাও :

বিজন দাস শ্রীপুর ইউনিয়নের একজন দরিদ্র কৃষক। তার চাষযোগ্য এক একর জমি আছে, যা দিয়ে পরিবারের অধিকাংশ চাহিদা মেটানো সম্ভব হচ্ছে না। তাই উৎপাদন বৃদ্ধির জন্য সে ঐ জমিতে আগের চেয়ে বেশি পরিশ্রম ও টাকা বিনিয়োগ করে। তবে পরিমিত বৃষ্টিপাত এবার জমির ভালো ফলনে ভূমিকা রেখেছে।

১৫০. অর্থনীতির ভাষায় জনাব বিজন দাস একজন— (প্রয়োগ)

ক কৃষক      ● সংগঠক      গ উৎপাদনকারী      ঘ শ্রমিক

১৫১. অনুচ্ছেদের তথ্যমতে উৎপাদনের উপকরণ হিসেবে ভূমি হলো— (উচ্চতর দক্ষতা)

র. এক একর জমি      রর. পরিমিত বৃষ্টিপাত

ররর. বিজন দাস প্রদত্ত শ্রম

নিচের কোনটি সঠিক?

● র ও রর      খ র ও ররর      গ রর ও ররর      ঘ র, রর ও ররর

### ৪.৪ : মোট, গড় ও প্রান্তিক উৎপাদন

- বিভিন্ন উপকরণ নিয়োগের দ্বারা যে উৎপাদন পাওয়া যায় তাকে— মোট উৎপাদন বলে।
- মোট উৎপাদনের পরিমাণকে মোট উপকরণ দ্বারা ভাগ করলে যে উৎপাদন পাওয়া যায় তাকে বলে— গড় উৎপাদন।
- অতিরিক্ত এক একক উপকরণ নিয়োগের ফলে যে অতিরিক্ত উৎপাদন পাওয়া যায় তাকে বলে— প্রান্তিক উৎপাদন।
- প্রান্তিক উৎপাদন যখন গড় উৎপাদন হতে বেশি তখন— গড় উৎপাদন বাড়ে।
- প্রান্তিক উপযোগ যখন কমতে থাকে তখন— গড় উৎপাদনও কমে।
- গড় উৎপাদনের সর্বোচ্চ বিন্দুতে— গড় উৎপাদন = প্রান্তিক উৎপাদন।
- গড় ও প্রান্তিক উৎপাদনের মধ্যে সম্পর্ক আছে— ৩ ধরনের।

সাধারণ বহুনির্বাচনি প্রশ্নোত্তর

১৫২. জুয়েল আহমেদ তার ৩টি আম বাগানে ৫০ মণ আম উৎপাদন করেন। শ্রমিকপ্রতি গড় উৎপাদন ৫ মণ হলে মোট শ্রমিক কতজন? (প্রয়োগ)

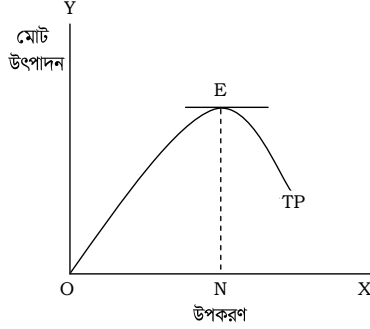
- ১০      ✕ ১২      গ ২০      ঘ ৫০

১৫৩. বিভিন্ন উপকরণ নিয়োগের প্রভাবে যে উৎপাদন পাওয়া যায় তাকে কী বলে? (জ্ঞান)

- মোট উৎপাদন      ✕ গড় উৎপাদন

গ প্রান্তিক উৎপাদন      ঘ নিট উৎপাদন

১৫৪.



উপরের চিত্রটিতে এচ রেখা দ্বারা কী বোঝানো হয়েছে? (প্রয়োগ)

- মোট উৎপাদন      ✕ প্রান্তিক উৎপাদন

গ গড় উৎপাদন      ঘ নিট উৎপাদন

১৫৫. মোট উৎপাদন পরিমাণকে মোট উপকরণ বা উপাদান দ্বারা ভাগ করলে কী পাওয়া যায়? (জ্ঞান)

- ক মোট উৎপাদন      ● গড় উৎপাদন

গ নিট উৎপাদন      ঘ প্রান্তিক উৎপাদন

১৫৬. শ্রম ব্যবহার করলে প্রান্তিক উৎপাদনের ক্ষেত্রে আমরা কী বলব? (জ্ঞান)

- শ্রমের প্রান্তিক উৎপাদন      ✕ মূলধনের প্রান্তিক উৎপাদন

গ শ্রমিকের প্রান্তিক উৎপাদন      ঘ মালিকের প্রান্তিক উৎপাদন

১৫৭. গড় উৎপাদন =  $\frac{?}{\text{মোট শ্রম উপকরণ}}$ । এখানে ‘?’ চিহ্নিত স্থানে কী বসবে? (প্রয়োগ)

- মোট উৎপাদন      ✕ নিট উৎপাদন

গ প্রান্তিক উৎপাদন      ঘ গড় উৎপাদন

১৫৮. গড় উৎপাদন বের করার সূত্র নিচের কোনটি? (জ্ঞান)

- ক  $\frac{\text{গড় উৎপাদন}}{\text{প্রান্তিক উৎপাদন}}$       ●  $\frac{\text{মোট উৎপাদন}}{\text{মোট শ্রম উপকরণ}}$

গ  $\frac{\text{গড় উৎপাদন}}{\text{মোট উৎপাদন}}$       ঘ  $\frac{\text{মোট শ্রম উপকরণ}}{\text{গড় উৎপাদন}}$

১৫৯. এক একক উৎপাদনের উপকরণের পরিবর্তনের ফলে উৎপাদনের যে পরিবর্তন হয়, তাকে কী বলে? (জ্ঞান)

- ক মোট উৎপাদন      ● প্রান্তিক উৎপাদন

গ নিট উৎপাদন      ঘ গড় উৎপাদন

১৬০. ধরি, শ্রম উপকরণ ১০ থেকে বৃদ্ধি পেয়ে ২০ হলো এবং মোট উৎপাদন ১০ থেকে ২২ হলো, এক্ষেত্রে প্রান্তিক উৎপাদন কত হবে? (জ্ঞান)

- ক ১০      ● ১২      গ ১৫      ঘ ২০

১৬১. সোহান মিয়া তার ৫ বিঘা জমিতে আলু উৎপাদন করে ২০ কেজি আলু পেল। এখানে শ্রমিক ছিল ২ জন। এক্ষেত্রে গড় উৎপাদন কত? (প্রয়োগ)

- ১০ কেজি      ✕ ১২ কেজি      গ ২০ কেজি      ঘ ২৫ কেজি

১৬২. প্রান্তিক উৎপাদন যখন গড় উৎপাদনের চেয়ে বেশি থাকে, তখন বাড়বে কোনটি? (উচ্চতর দক্ষতা)

- গড় উৎপাদন      ✕ প্রান্তিক উৎপাদন

গ নিট উৎপাদন      ঘ মোট উৎপাদন

১৬৩. গড় উৎপাদনের সর্বোচ্চ বিন্দুতে গড় ও প্রান্তিক উৎপাদন কেমন হয়? (উচ্চতর দক্ষতা)

- সমান হয়      ✕ গড় উৎপাদন বেশি হয়

গ প্রান্তিক উৎপাদন বেশি হয়      ঘ গড় উৎপাদন কম হয়

১৬৪. প্রান্তিক উৎপাদন প্রথম পর্যায়ে গড় উৎপাদনের চেয়ে কেমন থাকে? (জ্ঞান)

- বেশি থাকে      ✕ কম থাকে

গ সমান থাকে      ঘ কোনো সম্পর্ক থাকে না

১৬৫. কোন পর্যায়ে প্রান্তিক উৎপাদন ও গড় উৎপাদন সমান থাকে? (জ্ঞান)

- ক ১ম      ● ২য়      গ ৩য়      ঘ ৪র্থ

১৬৬. কোন পর্যায়ে প্রান্তিক উৎপাদন গড় উৎপাদনের চেয়ে কম হয়? (জ্ঞান)

- ক ১ম      ✕ ২য়      ● ৩য়      ঘ ৪র্থ

বহুপদী সমাপ্তিসূচক বহুনির্বাচনি প্রশ্নোত্তর

১৬৭. গড় ও প্রান্তিক উৎপাদনের মধ্যকার সম্পর্ক বিষয়ে সঠিক তথ্য হলো— (উচ্চতর দক্ষতা)

র. গড় ও প্রান্তিক উৎপাদন সর্বোচ্চ বিন্দুতে সমান হয়

রর. গড় উৎপাদন বাড়লে প্রান্তিক উৎপাদন স্থির থাকে

ররর. গড় উৎপাদন কমলে প্রান্তিক উৎপাদন কমে

নিচের কোনটি সঠিক?

- ক র ও রর      ● র ও ররর      গ রর ও ররর      ঘ র, রর ও ররর

১৬৮. প্রান্তিক উৎপাদনের ক্ষেত্রে আরোপিত শর্ত হলো— (অনুধাবন)

র. অতিরিক্ত শ্রমিক নিয়োগ অপরিহার্য

রর. অতিরিক্ত এক একক উপকরণ নিয়োগ

ররর. অতিরিক্ত উৎপাদন পাওয়া যায়

নিচের কোনটি সঠিক?

- ক র ও রর      ✕ র ও ররর      ● রর ও ররর      ঘ র, রর ও ররর

১৬৯. কোনো দেশের কর্মক্ষম লোকের সংখ্যা যত বেশি হবে, সেদেশের— (উচ্চতর দক্ষতা)

র. উৎপাদন তত বেশি হবে

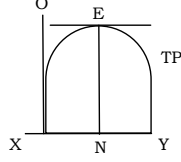
রর. শ্রমের চাহিদা বৃদ্ধি পাবে

১৯০. আর্থসামাজিক উন্নয়ন ঘটবে

নিচের কোনটি সঠিক?

ক র ও রর খ র ও ররর গ রর ও ররর ● র, রর ও ররর

১৯০.



প্রদত্ত চিত্রটি নির্দেশ করছে—

(প্রয়োগ)

১. মোট উৎপাদন রেখা

২. ক্রমহ্রাসমান প্রান্তিক উৎপাদন রেখা

৩. গড় উৎপাদন রেখা

নিচের কোনটি সঠিক?

● র খ রর গ রর ও ররর ঘ র, রর ও ররর

### অভিন্ন তথ্যভিত্তিক বহুনির্বাচনি প্রশ্নোত্তর

নিচের অনুচ্ছেদটি পড়ে ১৭২ ও ১৭৩ নং প্রশ্নের উত্তর দাও :

জমির আলী তার ২ একর জমিতে ১২ জন শ্রমিক নিয়োগ করে ৮৪ মণ আম উৎপাদন করেন। তার আম বাগানে শ্রমিক প্রতি ৮ মণ আম উৎপাদন হয়। পরের বছর আরও ৮ জন শ্রমিক নিযুক্ত করে আরও ১০০ মণ উৎপাদন পাওয়া গেল।

১৭১. শ্রমিক প্রতি ৮ মণ উৎপাদনকে অর্থনীতির ভাষায় কী বলা হয়? (প্রয়োগ)

● গড় উৎপাদন খ মোট উৎপাদন

গ প্রান্তিক উৎপাদন ঘ নিট উৎপাদন

১৭২. অনুচ্ছেদের তথ্য মতে জমির মিয়ার প্রান্তিক উৎপাদন কত? (প্রয়োগ)

ক ৮ মণ খ ১৬ মণ গ ৮৪ মণ ● ১০০ মণ

নিচের অনুচ্ছেদটি পড়ে ১৭৪ ও ১৭৫ নং প্রশ্নের উত্তর দাও :

সবুর মিয়া তার ২ বিঘা জমিতে ৫ জন শ্রমিক নিযুক্ত করে ২০০০ কেজি ধান, ১০০০ কেজি আলু এবং ৫০০ কেজি টমেটো উৎপাদন করলেন। পরের বছর অতিরিক্ত ৩ জন শ্রমিক নিয়োগ করে মোট ৪০০০ কেজি ফসল পেলেন।

১৭৩. সবুর মিয়ার প্রান্তিক উৎপাদন কত? (প্রয়োগ)

ক ৩০০ কেজি ● ৫০০ কেজি

গ ২৫০০ কেজি ঘ ৪০০০ কেজি

১৭৪. সবুর মিয়ার জমিতে কার্যকর হয়েছে— (উচ্চতর দক্ষতা)

১. ক্রমহ্রাসমান প্রান্তিক উৎপাদন বিধি

২. মার্শালের প্রান্তিক উৎপাদন বিধি

৩. প্রান্তিক উপযোগ বিধি

নিচের কোনটি সঠিক?

● র ও রর খ র ও ররর গ রর ও ররর ঘ র, রর ও ররর

### ৪.৫ : ক্রমহ্রাসমান প্রান্তিক উৎপাদন বিধি

- উৎপাদনের প্রাথমিক অবস্থান উপকরণ নিয়োগ বৃদ্ধি পেলে— উৎপাদন ক্রমবর্ধমান হারে বাড়ে।
- একজন শ্রমিকের এক ঘণ্টার কাজকে বলে— শ্রম ঘণ্টা।
- অতিরিক্ত শ্রম নিয়োগ করায় প্রতিক্ষেত্রে শ্রমের জন্য কম লাগে— ভূমি।
- প্রান্তিক উপযোগ বিধির ধারণা পাওয়া যায়— ১৮৬৪ সালে।
- ১ কুইন্টাল = ১০০ কেজি।

### সাধারণ বহুনির্বাচনি প্রশ্নোত্তর

১৭৫. উৎপাদন প্রক্রিয়ার অন্যান্য উপাদান ছিন্ন রেখে একটি উপকরণ বৃদ্ধির ফলে প্রাথমিকভাবে উৎপাদন বাড়ে— (উচ্চতর দক্ষতা)

ক ক্রমহ্রাসমান হারে ● ক্রমবর্ধমান হারে

গ সমানুপাতিক হারে

ঘ আনুভূমিকভাবে

১৭৬. উপকরণ ব্যবহারের সাথে উৎপাদন বাড়ার নিয়মকে অর্থনীতিতে কী বলা হয়? (জ্ঞান)

ক উপযোগ বিধি খ উৎপাদন বিধি

● ক্রমহ্রাসমান উৎপাদন বিধি ঘ যোগান বিধি

১৭৭. সাধারণত কোন ক্ষেত্রের উৎপাদন বৃদ্ধিতে ক্রমহ্রাসমান উৎপাদন বিধিটি কার্যকর হয়? (অনুধাবন)

● কৃষি খ মৎস্য গ শিল্প ঘ বাণিজ্য

১৭৮. উৎপাদন ক্ষেত্রে কোন বিধিটি কার্যকর? (জ্ঞান)

ক চাহিদা খ যোগান

গ উপযোগ ● ক্রমহ্রাসমান উৎপাদন

১৭৯. কোনটির প্রভাবে ক্রমহ্রাসমান উৎপাদন বিধিটি অকার্যকর হয়ে পড়ে? (উচ্চতর দক্ষতা)

ক শ্রমের পরিবর্তন খ মূলধনের পরিবর্তন

● প্রযুক্তির পরিবর্তন ঘ নীতির পরিবর্তন

১৮০. উৎপাদন প্রক্রিয়ায় উপকরণ বৃদ্ধির সাথে উৎপাদন কৌশল ও প্রযুক্তিগত পরিবর্তনের ফলে ক্রমহ্রাসমান প্রান্তিক উৎপাদন বিধি— (উচ্চতর দক্ষতা)

ক কার্যকর হয় ● অকার্যকর হয়ে পড়ে

গ অবমূল্যায়িত হয়

ঘ স্বাভাবিক গতি হারিয়ে ফেলে

১৮১. অতিরিক্ত শ্রম নিয়োগের ফলে উৎপাদন কীভাবে বৃদ্ধি পায়? (উচ্চতর দক্ষতা)

ক ক্রমবর্ধমান হারে

● ক্রমহ্রাসমান হারে

গ সমানুপাতিক হারে

ঘ ছিন্ন থাকে

১৮২. একজন শ্রমিকের এক ঘণ্টার কাজকে কী বলা হয়? (জ্ঞান)

● শ্রম ঘণ্টা

খ কার্যকাল

গ শ্রমিকের দক্ষতা

ঘ শ্রমের চাহিদা

১৮৩. শিহাব সাহেবের প্রতিষ্ঠানে বার্ষিক ৬০০ একক উৎপাদন হলেও পরের বছর শ্রমিক বৃদ্ধিতে উৎপাদন বেড়ে ৮০০ একক দাঁড়াল। শিহাব সাহেবের প্রতিষ্ঠানের প্রান্তিক উৎপাদন কত? (প্রয়োগ)

ক ৭০০ খ ৬০০ ● ২০০ ঘ ১০০

### বহুপদী সমাপ্তিসূচক বহুনির্বাচনি প্রশ্নোত্তর

১৮৪. ক্রমহ্রাসমান প্রান্তিক উৎপাদন বিধিটি অকার্যকর হয়ে পড়ে— (উচ্চতর দক্ষতা)  
র. উৎপাদন প্রক্রিয়ার প্রযুক্তিগত পরিবর্তন হলে

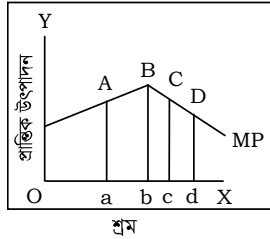
রর. ভূমির উর্বরতা বৃদ্ধি পেলে

ররর. অতিরিক্ত শ্রমিক নিয়োগ করলে

নিচের কোনটি সঠিক?

● র ও রর খ র ও ররর গ রর ও ররর ঘ র, রর ও ররর

১৮৫.



চিত্রের যে বিন্দুতে ক্রমহ্রাসমান উৎপাদন বিধি চিহ্নিত হয়েছে— (প্রয়োগ)

র. ই

রর. ঙ

ররর. উ

নিচের কোনটি সঠিক?

ক র ও রর ● র ও ররর গ রর ও ররর ঘ র, রর ও ররর

১৮৬. সাধারণত কৃষিজমিতে কার্যকর হয়— (অনুধাবন)

র. ক্রমহ্রাসমান প্রান্তিক উৎপাদন বিধি

রর. যোগান বিধি

ররর. উপযোগ বিধি

নিচের কোনটি সঠিক?

● র খ রর গ ররর ঘ র ও ররর

১৮৭. ক্রমহ্রাসমান প্রান্তিক উৎপাদন রেখা ক্রমবর্ধমান হয়— (উচ্চতর দক্ষতা)

র. যখন জমিতে উন্নত প্রযুক্তির ব্যবহার হয়

রর. ভূমির উর্বরা শক্তি বৃদ্ধি পায়

ররর. উৎপাদন প্রক্রিয়ার আনুপাতিক প্রচেষ্টায়

নিচের কোনটি সঠিক?

● র ও রর

খ র ও ররর

গ রর ও ররর

ঘ র, রর ও ররর

### অভিন্ন তথ্যভিত্তিক বহুনির্বাচনি প্রশ্নোত্তর

নিচের সারণিটি দেখে ১৮৯ ও ১৯০ নং প্রশ্নের উত্তর দাও :

ভূমির পরিমাণ হ্রি	শ্রম উপকরণ	মোট উৎপাদন	প্রান্তিক উৎপাদন
১ হেক্টর	১০ ঘণ্টা	১০ কুন্টাইল	?
১ হেক্টর	২০ ঘণ্টা	২২ কুন্টাইল	?
১ হেক্টর	৩০ ঘণ্টা	৩০ কুন্টাইল	?
১ হেক্টর	৪০ ঘণ্টা	৩৪ কুন্টাইল	?

১৮৮. উল্লিখিত সারণিটির প্রান্তিক উৎপাদন কত? (প্রয়োগ)

● ১০, ১২, ৮, ৪ খ ৮, ১, ৪, ১০

গ ১০, ৮, ১, ৪ ঘ ১, ৮, ১০, ৪

১৮৯. উল্লিখিত সূচিতে প্রান্তিক উৎপাদন— (উচ্চতর দক্ষতা)

র. ক্রমহ্রাসমান হারে কমেছে

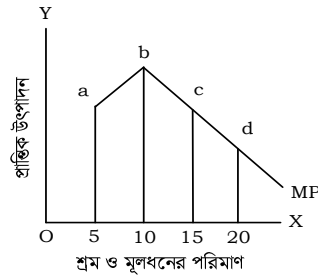
রর. ক্রমবর্ধমান হারে বেড়েছে

ররর. সমান থেকেছে

নিচের কোনটি সঠিক?

● র ও রর খ র ও ররর গ রর ও ররর ঘ র, রর ও ররর

নিচের চিত্রটি দেখে ১৯১ নং প্রশ্নের উত্তর দাও :



১৯০. উপরের চিত্রে সর্বোচ্চ উৎপাদন নির্দেশক বিন্দুটি হলো— (উচ্চতর দক্ষতা)

ক ধ ● ন গ প ঘ ফ

8.৬ ও ৪.৭ : উৎপাদন ব্যয়, প্রকাশ্য ও অপ্রকাশ্য ব্যয়

- উৎপাদন ব্যয়— ২ ধরনের।
- উপকরণ বাবদ যে ব্যয় হয় তাকে- আর্থিক ব্যয় বলে।
- টাকার অংকে পরিমাপযোগ্য ব্যয়কে বলে- আর্থিক উৎপাদন ব্যয়।

- কোনো উৎপাদনী প্রতিষ্ঠানে ভাড়া বা উপকরণের ক্রয়ের জন্য দৃশ্যমান যে ব্যয় করেন এদের সমষ্টিকে বলে— প্রকাশ্য ব্যয়।
- যে ধরনের ব্যয় ফার্মের হিসাবের বইতে থাকে না তাকে— অপ্রকাশ্য ব্যয় বলে।
- শ্রমের মজুরি ও যন্ত্রপাতি ক্রয় হলো— আর্থিক উৎপাদন ব্যয়।

ক অর্থনৈতিক ● সামাজিক গ নৈতিক ঘ ধর্মীয়

### সাধারণ বহুনির্বাচনি প্রশ্নোত্তর

১৯১. জমির আলী একটি লিচুবাগান করেছেন। এক্ষেত্রে তার কয় ধরনের ব্যয় হয়েছে? (প্রয়োগ)
- দুই      খ চার      গ আট      ঘ দশ
১৯২. উপকরণ বাবদ ব্যয়ের অপর নাম কী? (জ্ঞান)
- আর্থিক ব্যয়      খ সামাজিক ব্যয়
- গ প্রকাশ্য ব্যয়      ঘ প্রকৃত ব্যয়
১৯৩. কোন ধরনের ব্যয় একটি মানবিক ধারণা? (জ্ঞান)
- প্রকৃত      খ আর্থিক      গ সামাজিক      ঘ প্রকাশ্য
১৯৪. উৎপাদন ব্যয় সাধারণত কয় ধরনের? (জ্ঞান)
- দুই      খ তিন      গ চার      ঘ ছয়
১৯৫. নিচের কোন ব্যয় টাকার অঙ্কে হিসাবযোগ্য নয়? (অনুধাবন)
- প্রকৃত      খ আর্থিক      গ সামাজিক      ঘ ব্যক্তিগত
১৯৬. নিচের কোনটি উপকরণ ব্যয়? (জ্ঞান)
- শ্রমিকের মজুরি      খ মালিকের বেতন
- গ ভ্রমণের ব্যয়      ঘ বিশ্রামের ব্যয়
১৯৭. মিলন তার আমবাগানের কাঁচামাল, যন্ত্রপাতি ক্রয় বাবদ ২০,০০০ টাকা ব্যয় করেছে। তার এ ব্যয়টি কোন ধরনের? (প্রয়োগ)
- ক প্রকৃত      খ সামাজিক      ● আর্থিক      ঘ অপ্রকাশ্য
১৯৮. জনাব সবুজ সারারাত জেগে থেকে তার আমবাগানটি পাহারা দেন। তার এ ত্যাগকে কী বলা হয়? (প্রয়োগ)
- প্রকৃত ব্যয়      খ আর্থিক ব্যয়
- গ সামাজিক ব্যয়      ঘ ব্যক্তিগত ব্যয়
১৯৯. উৎপাদনের জন্য মানুষের ঘুম, আরাম ত্যাগ কোন ধরনের ব্যয়ের অন্তর্ভুক্ত? (অনুধাবন)
- ক সামাজিক      ● প্রকৃত      গ আর্থিক      ঘ প্রকাশ্য
২০০. প্রকৃত ব্যয়কে মানবিক ধারণা বলা হয় কেন? (অনুধাবন)
- ক মানুষের জন্য ব্যয় করা হয় বলে
- শারীরিক কষ্ট সহ্য করে ব্যয় করা হয়ে বলে
- গ স্বনিয়োজিত ব্যয় বলে
- ঘ আর্থিক দুর্ভোগ পোহাতে হয় বলে
২০১. শ্রমিকের শ্রম যোগান দিতে বিশ্রাম ও আরাম ত্যাগকে কী বলে? (জ্ঞান)
- ক সামাজিক ব্যয়      ● প্রকৃত ব্যয়
- গ ব্যক্তিগত ব্যয়      ঘ আর্থিক ব্যয়
২০২. ঘুম ও আরাম ত্যাগ কোন দৃষ্টিকোণ থেকে প্রকৃত উৎপাদন ব্যয়? (জ্ঞান)

২০৩. কোনো উৎপাদনী প্রতিষ্ঠান ভাড়া বা উপকরণ ক্রয়ের জন্য দৃশ্যমান যে ব্যয় করেন, এদের সমষ্টিকে কী বলে? (জ্ঞান)
- ক প্রকৃত ব্যয়      খ সামাজিক ব্যয়

গ ব্যক্তিগত ব্যয়      ● প্রকাশ্য ব্যয়

২০৪. নিচের কোনটি অপ্রকাশ্য ব্যয়? (জ্ঞান)
- ক বাড়ি ভাড়া      ● অফিস স্থাপন
- গ কাঁচামাল ক্রয়      ঘ শ্রমিকের বেতন-ভাতাদি প্রদান

২০৫. কোন ধরনের ব্যয় ফার্মের হিসাব বইয়ে থাকে না? (জ্ঞান)
- ক সামাজিক      খ আর্থিক
- অপ্রকাশ্য      ঘ ব্যক্তিগত

২০৬. একজন উৎপাদন মালিকের যেকোনো ধরনের বেতন ভাতাদি কোন ব্যয় হিসেবে গণ্য হয়? (অনুধাবন)
- ক প্রকৃত      খ প্রকাশ্য      ● অপ্রকাশ্য      ঘ সামাজিক

২০৭. আমেনা বেগম নিজের বাড়িতেই একটি ফ্যাশন হাউস দিলেন। এতে তার ব্যবসায়ের জন্য বাড়িভাড়া বেঁচে গেল। এটি কোন ধরনের ব্যয়? (প্রয়োগ)
- ক প্রকাশ্য      ● অপ্রকাশ্য
- গ ব্যক্তিগত      ঘ কাঠামোগত

### বহুপদী সমাঙ্গিসূচক বহুনির্বাচনি প্রশ্নোত্তর

২০৮. উৎপাদন ব্যয় বলতে বোঝায়— (অনুধাবন)
- র. ব্যবহারিক ব্যয়
- রর. প্রকৃত ব্যয়
- ররর. আর্থিক ব্যয়
- নিচের কোনটি সঠিক?
- ক র ও রর      খ র ও ররর      ● রর ও ররর      ঘ র, রর ও ররর
২০৯. আর্থিক ব্যয়ের অন্তর্ভুক্ত হলো— (অনুধাবন)
- র. মানসিক শ্রম
- রর. কাঁচামাল ক্রয় খরচ
- ররর. আসবাবপত্র নির্মাণ খরচ
- নিচের কোনটি সঠিক?
- ক র ও রর      খ র ও ররর      ● রর ও ররর      ঘ র, রর ও ররর
২১০. প্রকৃত উৎপাদন ব্যয়ের অন্তর্ভুক্ত— (অনুধাবন)
- র. মানসিক শ্রম
- রর. আরাম
- ররর. আর্থিক ব্যয়
- নিচের কোনটি সঠিক?



● র ও রর	খ র ও ররর	গ রর ও ররর	ঘ র, রর ও ররর
২১১. প্রকৃত ব্যয় একটি মানবিক ধারণা, কারণ এটি— র. মানসিক শ্রমের সাথে জড়িত	(উচ্চতর দক্ষতা)		
রর. মানুষের মানবিক ত্যাগকে নির্দেশ করে			
ররর. এটি সামাজিক ধারণাকে প্রতিষ্ঠিত করে			
নিচের কোনটি সঠিক?			
● র ও রর	খ র ও ররর	গ রর ও ররর	ঘ র, রর ও ররর
২১২. মিজান তার লিচুবাগানে পোকা দমনের জন্য কীটনাশক প্রয়োগ করল এবং রাত জেগে লিচুবাগান পাহারা দিল। মিজানের কাজে ফুটে উঠেছে—(প্রয়োগ)			
র. আর্থিক ব্যয়			
রর. প্রকৃত ব্যয়			
ররর. সামাজিক ব্যয়			
নিচের কোনটি সঠিক?			
● র ও রর	খ র ও ররর	গ রর ও ররর	ঘ র, রর ও ররর
২১৩. প্রকাশ্য ব্যয় হলো— র. মানসিক শ্রম	(অনুধাবন)		
রর. শ্রমিকের মজুরি			
ররর. কাঁচামালের জন্য ব্যয়			
নিচের কোনটি সঠিক?			
ক র ও রর	খ র ও ররর	● রর ও ররর	ঘ র, রর ও ররর
২১৪. অপ্রকাশ্য ব্যয় হলো— র. উদ্যোক্তার শ্রমের মূল্য	(অনুধাবন)		
রর. নিজ জমিতে কারখানা স্থাপন			
ররর. শ্রমিকের রোগ-ব্যধিজনিত খরচ			
নিচের কোনটি সঠিক?			
● র ও রর	খ র ও ররর	গ রর ও ররর	ঘ র, রর ও ররর
২১৫. একজন কারখানা মালিকের আর্থিক উৎপাদন করার উদ্দেশ্য হলো— (উচ্চতর দক্ষতা)			
র. মুনাফা অর্জন করা			
রর. আর্থসামাজিক উন্নয়ন করা			
ররর. উৎপাদন প্রক্রিয়াকে সচল করা			
নিচের কোনটি সঠিক?			
● র ও রর	খ র ও ররর	গ রর ও ররর	ঘ র, রর ও ররর

নিচের অনুচ্ছেদটি পড়ে ২১৭ ও ২১৮ নং প্রশ্নের উত্তর দাও :
শফিক ও তার চার ভাই মিলে নিজস্ব উদ্যোগে একটি মুরগির খামার চালু করে। মুরগি ক্রয় এবং অন্যান্য সামগ্রী ক্রয়ে তাদের ৮০ হাজার টাকা ব্যয় হয়। এছাড়া খামারে তারা পাঁচ ভাই দিন-রাত পরিশ্রম করে মুরগির সেবায়ত্ন করছে।
২১৬. শফিকের খামারে কয় ধরনের ব্যয় হয়েছে? (প্রয়োগ)
● দুই      খ চার      গ পাঁচ      ঘ ছয়
২১৭. শফিক ও তার ভাইদের দিন রাত পরিশ্রম করা কোন ধরনের ব্যয়কে নির্দেশ করছে? (প্রয়োগ)
ক আর্থিক      খ সামাজিক      গ ব্যক্তিগত      ● প্রকৃত
নিচের অনুচ্ছেদটি পড়ে ২১৯ ও ২২০ নং প্রশ্নের উত্তর দাও :
সালমান সাহেব এফ আর গার্মেন্টসের মালিক। তিনি গার্মেন্টসের যাবতীয় খরচ বাবদ মাসিক ১০ কোটি টাকা ব্যয় করেন। এর মধ্যে শ্রমিকের বেতন ভাতা, যন্ত্রপাতি ক্রয় ছাড়াও শ্রমিকের অসুস্থতাজনিত ভাতা জড়িত রয়েছে।
২১৮. এফ আর গার্মেন্টসের শ্রমিকের বেতনভাতা বাবদ খরচ কোন ধরনের ব্যয়ের অন্তর্ভুক্ত? (প্রয়োগ)
ক সামাজিক      খ অপ্রকাশ্য      গ প্রকৃত      ● প্রকাশ্য
২১৯. এফ আর গার্মেন্টসের উৎপাদন ব্যয় হলো— (উচ্চতর দক্ষতা)
র. সামাজিক      রর. প্রকৃত
ররর. আর্থিক
নিচের কোনটি সঠিক?
ক র ও রর      ● র ও ররর      গ রর ও ররর      ঘ র, রর ও ররর
নিচের অনুচ্ছেদটি পড়ে ২২১ ও ২২২ নং প্রশ্নের উত্তর দাও :
নাটোরের বনপাড়ায় আরিফ ও তার পরিবার কলাচাষ করে ব্যাপক লাভবান হন। কলাবাগানে তাদের বার্ষিক ২ কোটি টাকা খরচ হয়। তার বাবা-মা, ভাই- বোন সবাই কলাবাগানে অনেক শ্রম দেন। সবার সম্মিলিত প্রচেষ্টাই তাদের সাফল্য এনে দেয়।
২২০. অনুচ্ছেদে আরিফ পরিবারটিকে অর্থনীতির দৃষ্টিতে কী বলা হয়? (প্রয়োগ)
ক সংগঠক      ● উৎপাদক
গ ব্যবস্থাপক      ঘ পরিচালক
২২১. আরিফ পরিবারের পরিশ্রম প্রদান কোন ধরনের ব্যয়কে নির্দেশ করে? (প্রয়োগ)
ক সামাজিক      খ আর্থিক
● প্রকৃত      ঘ ব্যক্তিগত

## পঞ্চম অধ্যায়

### বাজার

#### সৃজনশীল প্রশ্ন

১। কামাল : আমাকে একটি ম্যাটাডর কলম দিন।

দোকানদার : ভাইয়া এ সপ্তাহে ইকোনো কলমের দাম কমেছে, নেবেন কি?

কামাল : কেন ম্যাটাডর থেকে ইকোনো কলম কি মানে-গুণে আলাদা?

দোকানদার : না তেমন নয়। বাজারে অনেক কোম্পানি আছে তাদের সবার কলম প্রায় একই মানের কেবল দেখতে সামান্য ভিন্ন।

কামাল : তাহলে আমাকে ম্যাটাডরই দিন। এটিই আমার ভালো লাগে।

ক. ফার্ম কাকে বলে?

খ. স্বল্পকালীন বাজারের ধারণাটি ব্যাখ্যা কর।

গ. কামালের ক্রয়কৃত দ্রব্যটি কোন বাজারের পণ্য? ব্যাখ্যা কর।

ঘ. পূর্ণ প্রতিযোগিতামূলক বাজারের সাথে কামালের ক্রয়কৃত পণ্যের বাজারের সম্পর্ক বিশ্লেষণ কর।

২। রিমি একটি নির্দিষ্ট ব্র্যান্ডের ব্যাগ ব্যবহার করে। সে নতুন একটি ব্যাগ বাজারে কিনতে গেলে দাম আগের চেয়ে অনেক বেশি দেখতে পায়। এর কারণ জানতে চাইলে দোকানি জানায় যে উক্ত ব্যাগ একটিমাত্র কোম্পানি আমদানি করে। কোম্পানি দাম বাড়ালে তাদের কিছু করার থাকে না। অনুরূপ কোনো ব্যাগ বাজারে না থাকায় রিমিকে উচ্চ দরে ব্যাগটি ক্রয় করতে হয়।

ক. উপকরণ কাকে বলে?

খ. উৎপাদিত দ্রব্যের পৃথকীকরণ বলতে কী বোঝায়?

গ. রিমির ক্রয়কৃত পণ্যটি কোন বাজারের? ব্যাখ্যা কর।

ঘ. বাংলাদেশে রিমির ক্রয়কৃত পণ্যের বাজারের পরিধি কতটুকু? বিশ্লেষণ কর।

৩। সুমী 'অ' শহরে ফুল সরবরাহ করে। শহরের একটি কলেজের নবীন বরণ অনুষ্ঠানে অনেক ফুলের প্রয়োজন হয়। ফুল কিনতে গেলে সুমী বেশি দাম দাবি করে। উপায় না থাকায় কলেজ কর্তৃপক্ষকে বেশি দামেই ফুল কিনতে হয়। কিন্তু 'ই' শহরে অনেক ফুলের দোকান রয়েছে। ফলে সেখানে ক্রেতারা ফুলের গুণাগুণ ও দর কষাকষি করে ফুল কিনতে পারেন।

ক. একচেটিয়া বাজার কী? ১

খ. ফার্ম ও শিল্পের মধ্যে পার্থক্য কী? ২

গ. সুমীর ফুলের দোকান অর্থনীতিতে কোন ধরনের বাজারকে নির্দেশ করে - ব্যাখ্যা কর। ৩

ঘ. উভয় শহরের ফুলের বিক্রেতারা কী একই মুনাফা অর্জন করবে? মতামত দাও। ৪

৪। রিমি কোল্ডক্রিম কেনার জন্য দোকানে গেলে দোকানদার তাকে চার ধরনের ক্রিম দেখায়। রিমি লক্ষ করে যে, চারটিতেই সমপরিমাণ ক্রিম রয়েছে। কিন্তু দামের ক্ষেত্রে সামান্য পার্থক্য রয়েছে।

ক. অর্থবাজার কী? ১

খ. দীর্ঘকালীন বাজার কী? ব্যাখ্যা কর। ২

গ. রিমির ক্রয়কৃত দ্রব্যটি কোন বাজারের পণ্য? ব্যাখ্যা কর। ৩

ঘ. একচেটিয়া বাজারের সাথে রিমির ক্রয়কৃত পণ্যের বাজারের পার্থক্য বিশ্লেষণ কর। ৪

৫। স্কয়ার টয়লেট্রিজ লিমিটেড চাকা ওয়াশিং পাউডারের একটি চমৎকার বিজ্ঞাপন তৈরি করে। উক্ত বিজ্ঞাপনে ময়লা জামাকাপড় উত্তমরূপে ধোলাই করা হয়। এই বিজ্ঞাপনের মাধ্যমে চাকা ওয়াশিং পাউডারের বিক্রয় বৃদ্ধি পেয়েছে।

ক. 'গড়হড়হড়' শব্দের অর্থ কী? ১

খ. দ্রব্যের মূল্য নির্ধারণের উপায় ব্যাখ্যা কর। ২

গ. উদ্দীপকে যে ধরনের বাজারের ইঙ্গিত রয়েছে তার ব্যাখ্যা দাও। ৩

ঘ. উদ্দীপকের শেষ লাইনটির মূল্যায়ন কর। ৪

৬। শামীম মিয়া প্রতিদিন সকালে ঘুম থেকে উঠে বড় একটি বুড়িতে দুই-তিন পদের সবজি নিয়ে বাজারে বিক্রির জন্য যান। প্রতিদিনই অল্প সময়ের মধ্যে তার সব সবজি বিক্রি হয়ে যায়। কোনো কোনো দিন চাহিদা বুঝে তিনি সবজির দাম বাড়িয়ে দেন। তারপরও অতি দ্রুত সব সবজি বিক্রি হয়ে যায়। প্রায় দিনই তিনি আরও বেশি সবজি না আনতে পারায় আফসোস করেন।

- ক. শিল্প কী? ১
- খ. দীর্ঘকালীন বাজার বলতে কী বোঝায়? ২
- গ. উদ্দীপকে কোন ধরনের বাজারের চিত্র ফুটে উঠেছে? ব্যাখ্যা কর। ৩

ঘ. শামীম মিয়া যদি দীর্ঘকালীন বাজার ব্যবস্থার সাথে জড়িত থাকতেন তাহলে তাকে আর আফসোস করতে হতো না- পাঠ্যবইয়ের আলোকে মন্তব্যটি বিশ্লেষণ কর। ৪

৭। ফরিদ উদ্দিন ঢাকাতে থাকেন। চাকরির প্রয়োজনে প্রতি মাসেই তাকে যশোর যেতে হয়। ঢাকা থেকে যশোরের অনেক বাস আছে। বিভিন্ন কোম্পানির বাসের টিকিটের দামে কিছুটা মিল আছে। এ সম্পর্কে ফরিদ উদ্দিনের ধারণা থাকায় নিজের পছন্দমতো বাসে ভ্রমণ করতে তার কোনো অসুবিধা হয় না। গত মাস থেকে তিনি 'গতি পরিবহন' নামের নতুন একটি পরিবহন বেছে নিয়েছেন। কোম্পানিটি কিছুদিন হলো তাদের সার্ভিস চালু করেছে।

- ক. কোন বাজারে নতুন ফার্মের প্রবেশের সুযোগ নেই? ১
- খ. পূর্ণ প্রতিযোগিতামূলক বাজার বলতে কী বোঝায়? ২
- গ. উদ্দীপকে কোন ধরনের বাজার পরিলক্ষিত হয়? ব্যাখ্যা কর। ৩
- ঘ. এ ধরনের বাজারের পরিধি বাংলাদেশের বাজার ব্যবস্থার প্রেক্ষাপটে আলোচনা কর। ৪

৮। ঢাকা বিশ্ববিদ্যালয়ের হলগুলোতে 'কব ঘবঃড্বেশ' নামের একটি কোম্পানি ইন্টারনেট সেবা প্রদান করে। এজন্য তারা প্রতিটি কানেকশন বাবদ ৫০০ টাকা করে নেয়। সম্প্রতি তারা টাকার পরিমাণ বাড়িয়ে ৫৭৫ করেছে। ছাত্ররা খোঁজ নিয়ে জানতে পেরেছে, হলগুলোতে ইন্টারনেট সেবা প্রদানকারী অন্য কোনো কোম্পানি নেই। ফলে তারা ৫৭৫ টাকা দিয়েই ইন্টারনেটের লাইন নিতে বাধ্য হচ্ছে।

- ক. উপকরণ কী? ১
- খ. পূর্ণ প্রতিযোগিতামূলক বাজারে কোনো নির্দিষ্ট ক্রেতা বা বিক্রেতা মূল্য পরিবর্তন করতে পারে না কেন? ২
- গ. উদ্দীপকের 'কব ঘবঃড্বেশ'-এর ব্যবসায় কোন ধরনের বাজারের বৈশিষ্ট্য পরিলক্ষিত হয়? ব্যাখ্যা কর। ৩
- ঘ. উদ্দীপকের 'কব ঘবঃড্বেশ'-এর প্রতিদ্বন্দ্বী হিসেবে অন্য কোনো কোম্পানির আবির্ভাবের সম্ভাবনা পাঠ্যবইয়ের আলোকে বিশ্লেষণ কর। ৪

৯। তানিয়া সুলতানা মনিরামপুর মহিলা ডিগ্রি কলেজের একজন শিক্ষার্থী। সে সম্প্রতি যশোর থেকে মোম দিয়ে শোপিস তৈরি করার কাজ শিখেছে। একটি ফার্ম স্থাপন করে মনিরামপুরের স্থানীয় কয়েকটি দোকানে সে এখন মোমের শোপিস সরবরাহ করে। এ থেকে সে প্রচুর লাভবান হচ্ছে। তার দেখাদেখি লুবনা হোসেন নামের আরেক শিক্ষার্থীও মোমের শোপিস বানাতে শুরু করে। তানিয়া নিজের ব্যবসায় টিকিয়ে রাখতে তার বানানো শোপিসের দাম কমিয়ে দেয়। ফলে লুবনা হোসেনের শোপিসগুলো দোকানদাররা নিতে চাচ্ছে না। এজন্য লুবনা ব্যবসা বন্ধ করে দেয়ার কথা ভাবছে।

- ক. একচেটিয়া কারবারির মূল লক্ষ্য কী? ১
- খ. একচেটিয়া বাজারে নতুন ফার্ম প্রবেশ করতে পারে না কেন? ২
- গ. উদ্দীপকে একচেটিয়া বাজারের কোন বৈশিষ্ট্যটির ইঙ্গিত পাওয়া যায়? ব্যাখ্যা কর। ৩

ঘ. তানিয়া সুলতানার ফার্মটিকে কি হিসেবে অভিহিত করা যায়? পাঠ্যবইয়ের আলোকে তোমার মতামত দাও। ৪

১০। নীলুফার ইয়াসমিন প্রতি মাসে একটি নামকরা ব্র্যান্ডের প্রসাধনী সামগ্রী কেনেন। এ মাসে একটি পারফিউম কিনতে গিয়ে দেখেন, আগের চেয়ে দাম ১০ টাকা বৃদ্ধি পেয়েছে। তিনি অন্য ব্র্যান্ডের পারফিউম নেয়ার কথা প্রথমে ভাবলেও শেষ পর্যন্ত বেশি দাম দিয়ে পছন্দের ব্র্যান্ডের পারফিউমই কিনলেন।

- ক. সমজাতীয় দ্রব্য কী? ১
- খ. উপকরণের পূর্ণ গতিশীলতা বলতে কী বোঝায়? ২
- গ. উদ্দীপকে একচেটিয়া প্রতিযোগিতামূলক বাজারের কোন বৈশিষ্ট্যটি ফুটে উঠেছে? ব্যাখ্যা কর। ৩

ঘ. নীলুফার ইয়াসমিনের পছন্দের ব্র্যান্ডের পারফিউমের দাম বৃদ্ধির প্রভাব অন্যান্য কোম্পানির ওপর কতটুকু পড়বে? পাঠ্যবইয়ের আলোকে বিশ্লেষণ কর। ৪

১১। শাকিল পরীক্ষার খাতায় লেখার জন্য স্টার সফট জেল নামের কলম কিনে আনে। কিন্তু শাকিলের বড় ভাই তাকে 'জননী চকো চকো' কলম ব্যবহার করতে বলেন। কারণ হিসেবে তিনি উল্লেখ করেন, 'জননী চকো চকো কলমের গুণগত মান ভালো'। শাকিল 'জননী চকো চকো' কলম ব্যবহার করে বুঝতে পারে, বিজ্ঞাপন দেখে স্টার কলম কিনে সে ভুল করেছিল।

- ক. স্বাভাবিক মুনাফা কী? ১
- খ. স্বল্পকালীন বাজার বলতে কী বোঝায়? ২
- গ. উদ্দীপকে কোন ধরনের বাজারের বৈশিষ্ট্য প্রকাশ পেয়েছে? ব্যাখ্যা কর। ৩

ঘ. উদ্দীপকে উল্লিখিত দুটি কলমের ফার্মের মধ্যে প্রতিযোগিতার বিষয়টি পাঠ্যবইয়ের আলোকে বিশ্লেষণ কর। ৪

৫. যে বাজারে অসংখ্য ক্রেতা ও বিক্রেতা এবং সমাজতীয় দ্রব্য কেনা-বেচা করে, তা হলো— [স. বো. '১৫]  
ক ডুয়োপলি বাজার খ একচেটিয়া বাজার  
● পূর্ণ প্রতিযোগিতার বাজার ঘ অলিগোপলি বাজার
৬. বেসরকারি হাসপাতাল কোন ধরনের বাজারের অন্তর্ভুক্ত? [স. বো. '১৫]  
ক পূর্ণ প্রতিযোগিতামূলক খ ডুয়োপলি  
গ অলিগোপলি ● একচেটিয়া প্রতিযোগিতামূলক
৭. কিসের প্রকৃতি অনুযায়ী বাজার ধারণা আলোচনা করা হয়? [সিলেট সরকারি পাইলট উচ্চ বিদ্যালয়]  
ক দ্রব্যের খ উৎপাদনের ● স্থানের ঘ মূল্যের
৮. কিসের ভিত্তিতে বাজারের ধরন ভিন্ন হতে পারে? [দি বাডস রেসিডেন্সিয়াল মডেল স্কুল এন্ড কলেজ, শ্রীমঙ্গল]  
ক ক্রেতার খ বিক্রেতার ● দ্রব্যের ধরন ঘ স্থানের
৯. অর্থনীতিবিদ কুর্নট কোন দেশের অধিবাসী? [নড়াইল সরকারি বালিকা উচ্চ বিদ্যালয়]  
ক আমেরিকা খ ইংল্যান্ড ● ফ্রান্স ঘ রাশিয়া
১০. সময়ের প্রেক্ষিতে বাজার কয় প্রকার? [সিলেট সরকারি পাইলট উচ্চ বিদ্যালয়]  
● ৩ খ ৪ গ ৫ ঘ ৬
১১. সকালের কাঁচাবাজার কোন ধরনের বাজারের উদাহরণ? [কদমতলী পূর্ব বাসাবো স্কুল এন্ড কলেজ, ঢাকা]  
ক অতি দীর্ঘকালীন খ দীর্ঘকালীন  
গ স্বল্পকালীন ● অতি স্বল্পকালীন
১২. অপূর্ণ প্রতিযোগিতার বাজারকে কয়ভাগে ভাগ করা যায়? [সিলেট সরকারি পাইলট উচ্চ বিদ্যালয়]  
ক ২ ● ৩ গ ৪ ঘ ৫
১৩. প্রতিযোগিতার ভিত্তিতে বাজার কয় প্রকার? [আজিমপুর গার্লস স্কুল এন্ড কলেজ, ঢাকা; অগ্রগামী সরকারি উচ্চ বিদ্যালয়, সিলেট]  
● ২ খ ৩ গ ৪ ঘ ৫
১৪. অঞ্চলভেদে বাজারকে কয় ভাগে ভাগ করা হয়? [পুলিশ লাইস হাইস্কুল এন্ড কলেজ, বগুড়া]  
ক ২ ● ৩ গ ৪ ঘ ৫
১৫. কোন বাজারে অল্প সময়ে যোগানের পরিবর্তন করা যায় না? [সিলেট সরকারি পাইলট উচ্চ বিদ্যালয়]  
● অতি স্বল্পকালীন খ স্বল্পকালীন  
গ দীর্ঘকালীন ঘ অতি দীর্ঘকালীন

### সাধারণ বহুনির্বাচনি প্রশ্নোত্তর

১. বাজারের সংজ্ঞা দেন কে? [স. বো. '১৬]  
ক মার্শাল খ এ্যাডাম স্মিথ ● কুর্নট ঘ ক্যানন
২. সময়ের প্রেক্ষিতে বাজার কত প্রকার? [স. বো. '১৬]  
ক ২ প্রকার ● ৩ প্রকার গ ৪ প্রকার ঘ ৫ প্রকার
৩. নিচের কোনটি একচেটিয়া বাজারের পণ্য? [স. বো. '১৬]  
ক ঔষধ খ বই গ লিবার্টি জুতা ● তিতাস গ্যাস
৪. বাংলাদেশের গ্যাসের বাজার কোন ধরনের বাজার? [স. বো. '১৫]  
● একচেটিয়া খ অলিগোপলি  
গ পূর্ণ প্রতিযোগিতা ঘ ডুয়োপলি

১৬. কোন বাজারে দ্রব্যের দামের হ্রাস-বৃদ্ধির ক্ষেত্রে বিক্রেতার প্রভাব অকার্যকর থাকে? [বিএএফ শাহীন কলেজ, চট্টগ্রাম]  
ক একচেটিয়া বাজারে ● পূর্ণ প্রতিযোগিতা বাজারে  
গ ডুয়োপলি বাজারে ঘ অলিগোপলি বাজারে
১৭. উৎপাদন কাজ চালিয়ে যাওয়ার জন্য সরকার যে আর্থিক সুবিধা প্রদান করে তাকে কী বলে? [সিলেট সরকারি পাইলট উচ্চ বিদ্যালয়]  
ক রেশনিং ● ভর্তুকি গ অনুদান ঘ সরকারি ঋণ

১৮. 'গড়হড়' শব্দের অর্থ কোনটি?  
[যশোর জিলা স্কুল; অত্রগামী সরকারি উচ্চ বিদ্যালয়, সিলেট]

- এক      ✕ দুই      গ তিন      ঘ চার

১৯. 'গড়হড়হড়' একচেটিয়া বাজারে কতজন ক্রেতা থাকে?  
[দি বাডস রেসিডেন্সিয়াল স্কুল এন্ড কলেজ, শ্রীমঙ্গল]

- ক এক      ✕ দুই      গ তিন      ● অসংখ্য

২০. কোনটি একচেটিয়া বাজারের উদাহরণ?  
[অত্রগামী সরকারি বালিকা উচ্চ বিদ্যালয়, সিলেট]

- তিতাস গ্যাসের খেঁয়ার      গ সাবানের      ঘ কাঁচা

২১. যে বাজারে একজন বিক্রেতা থাকে তাকে কোন বাজার বলে?  
[আর্মড পুলিশ ব্যাটালিয়ন স্কুল, বগুড়া]

- ক পূর্ণ প্রতিযোগিতার      ✕ অপূর্ণ প্রতিযোগিতার

- একচেটিয়া      ঘ ডুয়োপলি

২২. একচেটিয়া বাজারে অধিক মুনাফা অর্জিত হয় কেন?  
[পুলিশ লাইসেন্স হাইস্কুল এন্ড কলেজ, বগুড়া; সিলেট সরকারি পাইলট উচ্চ বিদ্যালয়]

- ক অসংখ্য ফার্ম থাকায়      ✕ অসংখ্য ক্রেতা থাকায়

- গ উৎপাদক বেশি হওয়ায়      ● নিকট পরিবর্তক দ্রব্য না থাকায়

২৩. নিচের কোনটি বাংলাদেশে একচেটিয়ামূলক প্রতিযোগিতার বাজারের উদাহরণ?  
[নড়াইল সরকারি বালিকা উচ্চ বিদ্যালয়; দি বাডস রেসিডেন্সিয়াল মডেল স্কুল এন্ড কলেজ, শ্রীমঙ্গল]

- ক প্রাকৃতিক গ্যাস      ✕ ডাকটিকিট

- সয়াবিন তেল      ঘ মোটা চাল

### বহুপদী সমাপ্তিসূচক বহুনির্বাচনি প্রশ্নোত্তর

২৪. বাজার ধারণায় মৌলিক বিষয় হলো—  
[ক্যান্টনমেন্ট হাইস্কুল, যশোর; সিলেট সরকারি পাইলট উচ্চ বিদ্যালয়; মাতৃপীঠ সরকারি বালিকা উচ্চ বিদ্যালয়, চাঁদপুর]

র. চাহিদা

রর. যোগান

ররর. সময়

নিচের কোনটি সঠিক?

- ক র ও রর      ✕ র ও ররর      গ রর ও ররর      ● র, রর ও ররর

২৫. পূর্ণ প্রতিযোগিতামূলক বাজারের বৈশিষ্ট্য হলো—  
[পুলিশ লাইসেন্স হাইস্কুল এন্ড কলেজ, বগুড়া]

র. অসংখ্য ক্রেতা-বিক্রেতা থাকে

রর. সমজাতীয় পণ্য কেনাবেচা হয়

ররর. উপকরণের পূর্ণ গতিশীলতা থাকে

নিচের কোনটি সঠিক?

- ক র ও রর      ✕ র ও ররর      গ রর ও ররর      ● র, রর ও ররর

২৬. পূর্ণ প্রতিযোগিতামূলক বাজারে সরকারের প্রভাব নেই—  
[নড়াইল সরকারি বালিকা উচ্চ বিদ্যালয়]

র. কর আরোপে

রর. ভর্তুকি প্রদানে

ররর. রেশনিং-এ

নিচের কোনটি সঠিক?

- ক র ও রর      ✕ র ও ররর      গ রর ও ররর      ● র, রর ও ররর

### অভিন্ন তথ্যভিত্তিক বহুনির্বাচনি প্রশ্নোত্তর

নিচের অনুচ্ছেদটি পড়ে ২৭ ও ২৮ নং প্রশ্নের উত্তর দাও :

রহিমা বেগম নিজের ঘরের পাশে জমিতে সবজি চাষ করেন। তিনি প্রায়ই সকালবেলায় পাশের বাজারে এগুলো বিক্রি করেন। কিন্তু ভালো দাম পান না। [স. বো. '১৫]

২৭. রহিমা বেগমের বাড়ির পাশের বাজারটি কোন ধরনের?

- স্থানীয় বাজার      ✕ জাতীয় বাজার

- গ আন্তর্জাতিক বাজার      ঘ পূর্ণ প্রতিযোগিতামূলক বাজার

২৮. রহিমা বেগমের দ্রব্যটির ন্যায্য দাম নিশ্চিত করতে হলে—

র. যোগাযোগ ব্যবস্থা উন্নত করতে হবে

রর. বিক্রির জন্য কম জিনিস সরবরাহ করতে হবে

ররর. হিমাগার স্থাপন করতে হবে

নিচের কোনটি সঠিক?

- ক র ও রর      ● র ও ররর      গ রর ও ররর      ঘ র, রর ও ররর

নিচের অনুচ্ছেদটি পড়ে ২৯ ও ৩০ নং প্রশ্নের উত্তর দাও :

মন্টু মিয়া বাজারে ৫০ কেজি মাছ নিয়ে যায়। শহর থেকে কোনো দিন পাইকার এলে বেশি দামে সব মাছ বিক্রি করে। আর কোনো দিন কোনো কারণে পাইকার না এলে কম দামে ৩০/৪০ কেজি বিক্রি করতে পারে। আর দেরি হওয়ার কারণে কখনো কখনো মাছ নষ্ট হয়ে যায়। [সিলেট সরকারি পাইলট উচ্চ বিদ্যালয়]

২৯. মন্টু মিয়ার দ্রব্যের বাজার কোন ধরনের?

- স্থানীয়      ✕ জাতীয়      গ দীর্ঘকালীন      ঘ পূর্ণ প্রতিযোগিতার

৩০. যেদিন সব মাছ বেশি দামে বিক্রি করে সেদিন মাছের বাজার কেমন?

- ক স্থানীয়      ✕ জাতীয়

- গ দীর্ঘকালীন      ● পূর্ণ প্রতিযোগিতার

নিচের অনুচ্ছেদটি পড়ে ৩১ ও ৩২ নং প্রশ্নের উত্তর দাও :

রতন কাজীপাড়া গ্রামের একটি বাগানে শাকসবজি উৎপাদন করে। তার উৎপাদিত দ্রব্য আলু, বেগুন, শসা, পেঁপে ইত্যাদি। এলাকার চাহিদা মিটিয়ে পার্শ্ববর্তী এলাকার পাইকারদের নিকট বিক্রি করে। ফলে তার লাভ কম হয়। [সিলেট সরকারি পাইলট উচ্চ বিদ্যালয়]

৩১. রতনের উৎপাদিত দ্রব্যের বাজার কোন ধরনের?

- ক স্বল্পকালীন      ● অতি স্বল্পকালীন

- গ দীর্ঘকালীন      ঘ অতি দীর্ঘকালীন

৩২. রতনের উৎপাদিত দ্রব্যের বাজার ব্যবস্থা সংকীর্ণ হওয়ার কারণ—

র. সংরক্ষণের সমস্যা

রর. পাইকারদের দৌরাত্ম্য

ররর. অনুন্নত যোগাযোগ ও পরিবহন ব্যবস্থা

নিচের কোনটি সঠিক?

ক র ও রর      খ র ও ররর      গ রর ও ররর      ● র, রর ও ররর

নিচের অনুচ্ছেদটি পড়ে ৩৩ ও ৩৪ নং প্রশ্নের উত্তর দাও :

আনিস বাজারে গেল ইলিশ মাছ কেনার জন্য। একটি ইলিশ মাছের দাম বিক্রোতা ৩০০ টাকা চাইল। দামাদামির মাধ্যমে আনিস মাছটি ৫২৫ টাকা দিয়ে কিনল। [বি.কে.জি.সি. সরকারি উচ্চ বিদ্যালয়, হবিগঞ্জ]

৩৩. আনিস কোন প্রকারের বাজার থেকে মাছটি কিনল?

ক জাতীয়      ● পূর্ণ প্রতিযোগিতা

গ ডুয়োপলি      ঘ স্বল্পকালীন

৩৪. আনিস যে বাজারে যায় তার বৈশিষ্ট্য হলো—

র. সমজাতীয় পণ্য      রর. অসংখ্য ক্রেতা-বিক্রেতা

ররর. উপকরণের পূর্ণ গতিশীলতা

নিচের কোনটি সঠিক?

ক র ও রর      খ র ও ররর      গ রর ও ররর      ● র, রর ও ররর

## ■ বিষয়ক্রম অনুযায়ী বহুনির্বাচনি প্রশ্নোত্তর

### ➔ ৫. বাজার ➔

- একটি পণ্যকে ঘিরে ক্রেতা-বিক্রেতার মাঝে যে সংযোগ ঘটে তাকে বলে— বাজার।
- ক্রেতা-বিক্রেতার দরকষাকষির মাধ্যমে— দ্রব্যের দাম নির্ধারিত হয়।
- দ্রব্যের মধ্যে ভিন্নতা অনুযায়ী— বাজারব্যবস্থা বিভিন্ন হয়।
- বাজার হলো— একটি প্রক্রিয়া।
- বাজারের গ্রহণযোগ্য সংজ্ঞা দেন— ফরাসি অর্থনীতিবিদ কুর্নট।
- একটি দ্রব্য তার ক্রেতা ও বিক্রোতা এবং দামকে বোঝায়— বাজার।

### সাধারণ বহুনির্বাচনি প্রশ্নোত্তর

৩৫. একটি পণ্যকে ঘিরে ক্রেতা-বিক্রেতার মধ্যে কী ঘটে? (জ্ঞান)

● সংযোগ      খ বিয়োজন

গ আলোচনা      ঘ বিস্তৃতি

৩৬. অর্থনীতিতে বাজার বলতে কোনটিকে বোঝায়? (জ্ঞান)

● দ্রব্যসামগ্রী ক্রয়-বিক্রয়ের প্রক্রিয়াকে

খ দ্রব্যসামগ্রী উৎপাদনের স্থানকে

গ ক্রেতা-বিক্রেতার সমাবেশকে

ঘ দ্রব্যসামগ্রী ক্রয়-বিক্রয়ের স্থানকে

৩৭. যে প্রক্রিয়ায় বিভিন্নভাবে ক্রেতা-বিক্রেতার মধ্যে দ্রব্য বা সেবা কেনা-বেচা হয়, তাকে কী বলে? (জ্ঞান)

● বাজার      খ শিল্প      গ ফার্ম      ঘ বিনিয়োগ

৩৮. মূল্যের নিয়ম বলতে কী বোঝায়? (অনুধাবন)

ক দ্রব্যসামগ্রীর উৎপাদন খরচের বর্টনকে

খ দ্রব্যসামগ্রীর তালিকা মূল্যকে

● ক্রেতা-বিক্রেতার দর কষাকষির মাধ্যমে নির্ধারিত মূল্যকে

ঘ বিক্রোতা কর্তৃক নির্ধারিত বিক্রয়মূল্যকে

৩৯. বাজারে দ্রব্যের মূল্য নির্ধারিত হয় কীভাবে? (অনুধাবন)

ক ক্রেতার ইচ্ছানুযায়ী      খ বিক্রোতার ইচ্ছানুযায়ী

গ উৎপাদনকারীর সিদ্ধান্ত অনুযায়ী      ● দর কষাকষির মাধ্যমে

৪০. আনোয়ার সাহেব অনেক দর কষাকষি করে একটি শার্ট কিনলেন। তার এই দর কষাকষিকে কী বলা যায়? (প্রয়োগ)

ক বাজার      ● দামের নিয়ম

গ বাজারের ধরন      ঘ ক্রেতার স্বাধীনতা

৪১. দ্রব্যের বেচাকেনা নিচের কোনটির ওপর অধিক নির্ভর করে? (অনুধাবন)

ক নির্দিষ্ট স্থান      খ ক্রেতার ইচ্ছা

গ বিক্রোতার ইচ্ছা      ● নির্ধারিত মূল্য

৪২. নিচের কোনটি নির্ধারিত হলে ক্রেতা-বিক্রেতার মধ্যে দ্রব্য কেনা-বেচা হয়? (জ্ঞান)

ক চাহিদা      ● দাম      গ উপযোগ      ঘ যোগান

৪৩. সাধারণ অর্থে, বাজার বলতে কী বোঝায়? (জ্ঞান)

ক নির্দিষ্ট দ্রব্যসামগ্রীকে

● দ্রব্যসামগ্রী ক্রয়-বিক্রয়ের স্থানকে

গ দ্রব্যসামগ্রী ক্রয়-বিক্রয়ের প্রক্রিয়াকে

ঘ দ্রব্যসামগ্রী উৎপাদনের স্থানকে

৪৪. অর্থনীতির ভাষায় কোনটি বাজার? (অনুধাবন)

ক কারওয়ানবাজার      খ নিউমার্কেট

● সোনার বাজার      ঘ ভবের বাজার

৪৫. ফরাসি অর্থনীতিবিদ কুর্নট বাজারের সংজ্ঞায় জোর দিয়েছেন— (উচ্চতর দক্ষতা)

ক দ্রব্যসামগ্রী ক্রয়-বিক্রয়ের স্থানের ওপর

খ দ্রব্যসামগ্রী উৎপাদনের স্থানের ওপর

গ দ্রব্যসামগ্রীর মূল্য নির্ধারণের ওপর

● ক্রেতা-বিক্রেতার অবাধ সংযোগে দ্রব্যের মূল্য সমান হওয়াকে

### বহুপদী সমাঙ্গিসূচক বহুনির্বাচনি প্রশ্নোত্তর

৪৬. দ্রব্যের দাম নির্ধারণে গুরুত্বপূর্ণ ভূমিকা রাখে— (অনুধাবন)

র. চাহিদা

রর. যোগান

ররর. সময়

নিচের কোনটি সঠিক?

● র ও রর      খ র ও ররর      গ রর ও ররর      ঘ র, রর ও ররর

৪৭. মূল্যের নিয়মের বৈশিষ্ট্য হলো— (উচ্চতর দক্ষতা)  
র. এটির ওপর দ্রব্যের বেচা-কেনা নির্ভরশীল

রর. এটি বাজারের প্রধান উপাদান

ররর. ক্রেতা-বিক্রেতার দর কষাকষির মাধ্যমে নির্ধারিত হয়

নিচের কোনটি সঠিক?

ক র ও রর ● র ও ররর গ রর ও ররর ঘ র, রর ও ররর

৪৮. অর্থনীতিতে বাজারের বৈশিষ্ট্য হলো— (অনুধাবন)  
র. এটি একটি প্রক্রিয়া

রর. এর মাধ্যমে দ্রব্য বেচা-কেনা হয়

ররর. এর মাধ্যমে সেবা বেচা-কেনা হয়

নিচের কোনটি সঠিক?

ক র ও রর খ র ও ররর গ রর ও ররর ● র, রর ও ররর

৪৯. অর্থনীতিতে বাজার বলতে কেবল বেচা-কেনার নির্দিষ্ট স্থানকে বোঝায় না, কারণ— (উচ্চতর দক্ষতা)

র. সব বাজারে স্থান গুরুত্বপূর্ণ নয়

রর. বাজারে দ্রব্য ক্রয়-বিক্রয়ের প্রক্রিয়াই প্রধান

ররর. স্থান বাজারের আবশ্যিক উপাদান নয়

নিচের কোনটি সঠিক?

ক র ও রর খ র ও ররর গ রর ও ররর ● র, রর ও ররর

৫০. বাজারের উপাদান হলো— (অনুধাবন)  
র. দ্রব্য

রর. ক্রেতা ও বিক্রেতা

ররর. নির্দিষ্ট দাম

নিচের কোনটি সঠিক?

ক র ও রর খ র ও ররর গ রর ও ররর ● র, রর ও ররর

### অভিন্ন তথ্যভিত্তিক বহুনির্বাচনি প্রশ্নোত্তর

নিচের অনুচ্ছেদটি পড়ে ৫১ ও ৫২ নং প্রশ্নের উত্তর দাও :

শাকিল অনেক দিন ধরে একটি সেকেন্ড হ্যান্ড স্মার্ট ফোন কিনতে চাচ্ছে। এ জন্য 'এখানেই ডট কম' নামের একটি অনলাইন পোর্টালে সে একটি মোবাইলের বিজ্ঞাপন দেখে ফোনের মাধ্যমে যোগাযোগ করে। ফোনে দর কষাকষির মাধ্যমে সে মনের মতো দামে মোবাইলটি কিনতে সক্ষম হয়।

৫১. অনুচ্ছেদে বাজারের কোন বৈশিষ্ট্যটি ফুটে উঠেছে? (প্রয়োগ)  
● বাজার একটি প্রক্রিয়া খ বাজার একটি নির্দিষ্ট স্থান

গ বাজারে সেবা বেচাকেনা হয় ঘ বাজারে বিক্রেতার ভূমিকা গৌণ

৫২. শাকিলের দর কষাকষি করার কারণ হলো— (উচ্চতর দক্ষতা)  
র. দ্রব্যের দাম নির্ধারণ করা

রর. দ্রব্যের মান যাচাই কর

ররর. নির্দিষ্ট মূল্যে দ্রব্য কেনা

নিচের কোনটি সঠিক?

ক র ও রর ● র ও ররর গ রর ও ররর ঘ র, রর ও ররর

নিচের অনুচ্ছেদটি পড়ে ৫৩ ও ৫৪ নং প্রশ্নের উত্তর দাও :

আনিস ঈদের শপিং করার জন্য ঢাকার নিউ মার্কেটে যায়। সেখান থেকে সে একটি শার্ট ও একটি প্যান্ট ক্রয় করে। কিন্তু কেনার সময় সে কোনো দর কষাকষি করেনি।

৫৩. অর্থনীতির পরিভাষা অনুসারে অনুচ্ছেদের কোনটিকে বাজার বলা যায়? (প্রয়োগ)  
ক নিউ মার্কেটকে খ দোকানি ও আনিসের সম্পর্ককে

গ শার্ট ও প্যান্টের মূল্যকে ● শার্ট-প্যান্ট ক্রয়-বিক্রয়ের প্রক্রিয়াকে

৫৪. অনুচ্ছেদে বাজারের যে বৈশিষ্ট্যটি অনুপস্থিত— (অনুধাবন)  
র. মূল্যের নিয়ম

রর. যোগানের নিয়ম

ররর. দর কষাকষির মাধ্যমে দাম নির্ধারণ

নিচের কোনটি সঠিক?

● র ও রর খ র ও ররর গ রর ও ররর ঘ র, রর ও ররর

### ৫.১ : বাজারের বিকাশ ➔

- বাজার ধারণার মৌলিক বিষয়— ৪টি।
- নির্দিষ্ট সময়ে ক্রেতা-বিক্রেতা দরকষাকষির মাধ্যমে দ্রব্য বা সেবার দাম নির্ধারণ করে তাকে— বাজারব্যবস্থা বলে।
- সময়ের শ্রেণিতে বাজারের উৎপত্তি— ৩ ধরনের।
- দ্রব্যের চাহিদা যেকোনো পরিবর্তনে যোগান কিছুটা সাড়া দিতে সক্ষম— স্বল্পকালীন বাজারে।
- চাহিদার যেকোনো পরিমাণ পরিবর্তনে যোগানের তাৎক্ষণিক পরিবর্তন সম্ভব— দীর্ঘকালীন বাজারে।
- অঞ্চলভেদে বাজারকে ভাগ করা হয়— ৩ ভাগে।
- একটি মাত্র পণ্য উৎপাদনকারী প্রতিষ্ঠানকে বলে— ফার্ম।
- একই ধরনের পণ্য উৎপাদনকারী ফার্মের সমষ্টিকে বলে— শিল্প।

### সাধারণ বহুনির্বাচনি প্রশ্নোত্তর

৫৫. বাজারের ধারণায় কয়টি মৌলিক বিষয় কাজ করে? (জ্ঞান)  
ক ২ ● ৪ গ ৫ ঘ ৬

৫৬. বাজারের উৎপত্তি বিভিন্ন হয়েছে কিসের শ্রেণিতে? (জ্ঞান)  
ক দ্রব্যের যোগানের খ দ্রব্যের চাহিদার

● সময়ের ঘ দ্রব্যের ধরনের

৫৭. যেখানে নির্দিষ্ট সময়ে বাজারে দ্রব্যের যোগান স্থির থাকে, তাকে কী বলে? (জ্ঞান)  
 ● অতি স্বল্পকালীন বাজার      ✕ স্বল্পকালীন বাজার  
 গ দীর্ঘকালীন বাজার      ✕ অতি দীর্ঘকালীন বাজার
৫৮. অতি স্বল্পকালীন বাজারের বৈশিষ্ট্য কোনটি? (জ্ঞান)  
 ক যোগান খানিকটা সাড়া দিতে সক্ষম  
 ● যোগান স্থির থাকে  
 গ যোগানের যেকোনো পরিবর্তন সম্ভব  
 ✕ চাহিদা স্থির থাকে
৫৯. সাধারণত কোন ধরনের দ্রব্যের বাজার অতি স্বল্পকালীন হয়? (প্রয়োগ)  
 ক পূর্ণ প্রতিযোগিতার      ✕ শ্রম  
 ● পচনশীল দ্রব্যের      ✕ উপকরণ
৬০. কোন বাজারে প্রয়োজন অনুযায়ী যোগান বাড়ানো বা কমানো যায়? (জ্ঞান)  
 ক অতি স্বল্পকালীন      ● স্বল্পকালীন  
 গ দীর্ঘকালীন      ✕ অতি দীর্ঘকালীন
৬১. চাহিদার পরিবর্তন হলে যোগান খানিকটা সাড়া দিতে সক্ষম কোন ধরনের বাজারে? (জ্ঞান)  
 ক অতি স্বল্পকালীন      ● স্বল্পকালীন  
 গ দীর্ঘকালীন      ✕ অতি দীর্ঘকালীন
৬২. দীর্ঘকালীন বাজারের বৈশিষ্ট্য কোনটি? (উচ্চতর দক্ষতা)  
 ক যোগান অপরিবর্তিত থাকে      ● যোগানের যেকোনো পরিবর্তন সম্ভব  
 গ চাহিদা অপরিবর্তিত থাকে      ✕ উৎপাদন বৃদ্ধি করা সম্ভব নয়
৬৩. কোন ধরনের বাজারের পরিধি কম বিস্তৃত? (জ্ঞান)  
 ক দীর্ঘকালীন      ✕ জাতীয়  
 ● স্থানীয়      ✕ আন্তর্জাতিক
৬৪. 'মাংসের বাজার' কোন ধরনের বাজার? (জ্ঞান)  
 ● স্থানীয়      ✕ জাতীয়      গ আন্তর্জাতিক      ✕ দীর্ঘকালীন
৬৫. 'মোটো চালের বাজার' কোন ধরনের বাজার? (জ্ঞান)  
 ক স্থানীয়      ✕ স্বল্পকালীন      ● জাতীয়      ✕ অতি-স্বল্পকালীন
৬৬. নিচের কোনটি জাতীয় বাজারের দ্রব্য? (জ্ঞান)  
 ● চাল      ✕ মাছ      গ তুলা      ✕ সোনা
৬৭. বাংলাদেশের শ্রেষ্ঠিতে আন্তর্জাতিক বাজারের উদাহরণ কোনটি? (প্রয়োগ)  
 ● তৈরি পোশাকের      ✕ প্রাকৃতিক গ্যাসের  
 গ সবজির      ✕ খাদ্যশস্যের
৬৮. কোনটি আন্তর্জাতিক বাজারের দ্রব্য? (জ্ঞান)  
 ক চাল      ✕ মাংস      গ ফল      ● তৈরি পোশাক
৬৯. বিকশিত বাজার মূলত কয় ধরনের? (জ্ঞান)  
 ক ২      ● ৩      গ ৪      ✕ ৫
৭০. ফার্ম বলতে কী বোঝায়? (অনুধাবন)  
 ● একটি মাত্র দ্রব্য উৎপাদনকারী প্রতিষ্ঠানকে

- ✕ একাধিক দ্রব্য উৎপাদনকারী প্রতিষ্ঠানকে  
 গ দ্রব্য বিক্রয়কারী প্রতিষ্ঠানকে  
 ✕ দ্রব্য ক্রয়কারী প্রতিষ্ঠানকে
৭১. নিচের কোনটি শিল্পের বৈশিষ্ট্য? (অনুধাবন)  
 ● একাধিক ফার্ম থাকে      ✕ একটিমাত্র ফার্ম থাকে  
 গ পণ্যের মূল্য পরিবর্তনশীল হয়      ✕ পণ্যের উৎপাদন পরিবর্তনশীল হয়
৭২. উৎপাদনে ব্যবহৃত যেকোনো মৌলিক উপাদানকে কী বলা হয়? (জ্ঞান)  
 ক কাঁচামাল      ✕ মূলধন      ● উপকরণ      ✕ উপযোগ
৭৩. কেফ এন্ড কোং চিনিকলে প্রচুর পরিমাণে আখের প্রয়োজন হয়। দেশের বিভিন্ন অঞ্চল থেকে কোম্পানিটি আখ ক্রয় করে। এক্ষেত্রে কোন ধরনের বাজার লক্ষণীয়? (প্রয়োগ)  
 ক শ্রম      ● উপকরণ      গ অর্থ      ✕ মূলধন
৭৪. উপকরণ বাজার কী? (অনুধাবন)  
 ক উপকরণ ক্রয়-বিক্রয়ের স্থান      ✕ উপকরণ উৎপাদনের স্থান  
 ● উপকরণ ক্রয়-বিক্রয়ের প্রক্রিয়া      ✕ উপকরণের উপযোগিতা
৭৫. উপকরণের বেচাকেনা কিসের ওপর নির্ভর করে? (অনুধাবন)  
 ● উপকরণের মূল্যের      ✕ উপকরণের পরিমাণের  
 গ উপকরণের চাহিদার      ✕ উপকরণের যোগানের

### বহুপদী সমাঙ্গিসূচক বহুনির্বাচনি প্রশ্নোত্তর

৭৬. অতি স্বল্পকালীন বাজারের বৈশিষ্ট্য হলো— (অনুধাবন)  
 র. দ্রব্যের যোগান স্থির থাকে  
 রর. দ্রব্যের চাহিদা স্থির থাকে  
 ররর. দ্রব্যের মূল্যের হ্রাস-বৃদ্ধি ঘটে  
 নিচের কোনটি সঠিক?  
 ক র ও রর      ● র ও ররর      গ রর ও ররর      ✕ র, রর ও ররর
৭৭. স্বল্পকালীন বাজারের বৈশিষ্ট্য হলো— (অনুধাবন)  
 র. যোগানের কিছুটা পরিবর্তন সম্ভব  
 রর. উৎপাদনের হ্রাস-বৃদ্ধি হয়  
 ররর. যোগান ইচ্ছামতো পরিবর্তন সম্ভব  
 নিচের কোনটি সঠিক?  
 ● র ও রর      ✕ র ও ররর      গ রর ও ররর      ✕ র, রর ও ররর
৭৮. দীর্ঘকালীন বাজারের বৈশিষ্ট্য হলো— (অনুধাবন)  
 র. যোগানের যেকোনো পরিবর্তন সম্ভব  
 রর. উৎপাদনের আয়তনের পরিবর্তন সম্ভব  
 ররর. উৎপাদনের উপকরণের পরিবর্তন সম্ভব  
 নিচের কোনটি সঠিক?  
 ক র ও রর      ✕ র ও ররর      গ রর ও ররর      ● র, রর ও ররর



৭৯. শিল্পের বৈশিষ্ট্য হলো— (অনুধাবন)  
র. অসংখ্য ফার্মের সমন্বয়ে গঠিত

রর. একই ধরনের পণ্য উৎপাদনকারী ফার্ম থাকে

ররর. মূল্য ও উৎপাদন পরিবর্তনশীল হয়

নিচের কোনটি সঠিক?

● র ও রর    খ র ও ররর    গ রর ও ররর    ঘ র, রর ও ররর

৮০. নাসিমা বেগম প্রতিদিন সকালে কাঁচাবাজার থেকে তরকারি ক্রয় করেন। এই বাজারের বৈশিষ্ট্য হলো— (প্রয়োগ)

র. দ্রব্যের যোগান অপরিবর্তিত থাকে

রর. চাহিদার হ্রাস-বৃদ্ধি ঘটে

ররর. মূল্য অপরিবর্তিত থাকে

নিচের কোনটি সঠিক?

● র ও রর    খ র ও ররর    গ রর ও ররর    ঘ র, রর ও ররর

৮১. বাজার ব্যবস্থার বিকাশ লাভ করার কারণ— (অনুধাবন)  
র. সময়ের বিবর্তন

রর. দ্রব্যের দাম নির্ধারণ করা

ররর. দ্রব্য বা সেবার ক্রয়-বিক্রয়

নিচের কোনটি সঠিক?

ক র ও রর    খ র ও ররর    গ রর ও ররর    ● র, রর ও ররর

### অভিন্ন তথ্যভিত্তিক বহুনির্বাচনি প্রশ্নোত্তর

নিচের অনুচ্ছেদটি পড়ে ৮২ ও ৮৩ নং প্রশ্নের উত্তর দাও :

গফুর মিয়া প্রতিদিন সকালে পলাশীর মোড়ে তরকারি বিক্রি করেন। কোনো কোনো দিন তরকারির চাহিদা অনেক বেশি থাকে এবং তখন বেশি দামে তিনি তরকারি বিক্রি করেন।

৮২. অনুচ্ছেদে কোন ধরনের বাজারের ইঙ্গিত পাওয়া যায়? (প্রয়োগ)

● অতি স্বল্পকালীন    খ স্বল্পকালীন  
গ দীর্ঘকালীন    ঘ অতি দীর্ঘকালীন

৮৩. গফুর মিয়া পরিচালিত বাজারের অসুবিধা হলো— (উচ্চতর দক্ষতা)  
র. যোগান স্থির থাকে

রর. স্বল্প সময়ে দাম বৃদ্ধি পায়

ররর. স্বল্প সময়ে পণ্যের চাহিদা হ্রাস পায়

নিচের কোনটি সঠিক?

ক র ও রর    খ র ও ররর    গ রর ও ররর    ● র, রর ও ররর

নিচের অনুচ্ছেদটি পড়ে ৮৪ ও ৮৫ নং প্রশ্নের উত্তর দাও :

সেলিম মিয়া আগে মাছের ব্যবসা করতেন। এতে তিনি কিছু সমস্যার মুখোমুখি হতেন, কেননা মাছ দ্রুত পচনশীল পণ্য। তাই তিনি বর্তমানে জুতার ব্যবসা শুরু করবেন বলে ঠিক করেছেন।

৮৪. সেলিম মিয়ার পূর্বে কোনো ধরনের বাজার ব্যবসা করতেন? (প্রয়োগ)  
● অতি স্বল্পকালীন    খ অতি দীর্ঘকালীন

গ মধ্যমেয়াদি    ঘ দীর্ঘকালীন

৮৫. সেলিম মিয়া নতুন ব্যবসায় মুনাফা করতে পারেন— (উচ্চতর দক্ষতা)  
র. স্বল্পমেয়াদে অস্বাভাবিক

রর. দীর্ঘমেয়াদে স্বাভাবিক

ররর. কখনও কখনও ক্ষতি

নিচের কোনটি সঠিক?

ক র ও রর    খ র ও ররর    গ রর ও ররর    ● র, রর ও ররর

### ৫.২ : প্রতিযোগিতার ভিত্তিতে বাজারের শ্রেণিবিভাগ

- প্রতিযোগিতার ভিত্তিতে বাজারের শ্রেণিবিভাগ— ২ প্রকার।
- যে বাজারে অসংখ্য ক্রেতা-বিক্রেতা সমজাতীয় পণ্য ক্রয়-বিক্রয় করে তাকে বলে— পূর্ণ প্রতিযোগিতামূলক বাজার।
- উপকরণ পূর্ণ গতিশীল থাকে— পূর্ণ প্রতিযোগিতামূলক বাজারে।
- ফার্মের অবাধে প্রবেশ ও প্রস্থানের সুযোগ রয়েছে— পূর্ণ প্রতিযোগিতামূলক বাজারে।
- উপকরণসমূহের অবাধ বিচরণ থাকে— পূর্ণ প্রতিযোগিতামূলক বাজারে।
- ভোক্তার পণ্যের দাম ও বাজার সম্বন্ধে পূর্ণ জ্ঞান থাকে— পূর্ণ প্রতিযোগিতামূলক বাজারে।

### সাধারণ বহুনির্বাচনি প্রশ্নোত্তর

৮৬. সমগ্র বাজার কাঠামোকে কিসের ভিত্তিতে বিশ্লেষণ করাটা অর্থনীতির জন্য বেশি তাৎপর্যপূর্ণ? (উচ্চতর দক্ষতা)

● প্রতিযোগিতার খ স্থানের    গ সময়ের    ঘ বিকাশের

৮৭. অসংখ্য ক্রেতা-বিক্রেতা সমজাতীয় দ্রব্য কেনাবেচা করে কোন বাজারে? (জ্ঞান)  
ক একচেটিয়া    খ অলিগপলি

● পূর্ণ প্রতিযোগিতামূলক    ঘ অপূর্ণ প্রতিযোগিতামূলক

৮৮. পূর্ণ প্রতিযোগিতামূলক বাজারে দ্রব্যের মূল্য কীভাবে নির্ধারিত হয়? (অনুধাবন)  
ক বিক্রেতার ইচ্ছানুযায়ী    ● চাহিদা ও যোগানের মাধ্যমে

গ ক্রেতার দর কষাকষির মাধ্যমে    ঘ সরকার কর্তৃক

৮৯. একবার মূল্য নির্ধারিত হলে কোনো ক্রেতা বা বিক্রেতার পক্ষে তা পরিবর্তন করা সম্ভব হয় না কোন বাজারে? (জ্ঞান)

● পূর্ণ প্রতিযোগিতামূলক    খ একচেটিয়া ক্রেতার

গ একচেটিয়া বিক্রেতার    ঘ অলিগপলি

৯০. অল্প কয়েকজন ক্রেতা-বিক্রেতা পূর্ণ প্রতিযোগিতামূলক বাজারের দ্রব্যের মূল্যকে প্রভাবিত করতে পারে না কেন? (অনুধাবন)

ক সরকার কর্তৃক দাম নির্দিষ্ট হওয়ায়

খ ক্রেতা-বিক্রেতার চাহিদা ও যোগান অসীম হওয়ায়

- ক্রেতা-বিক্রেতার চাহিদা ও যোগান নগণ্য হওয়ায়  
 ঘ সমজাতীয় পণ্য কেনাবেচা হওয়ায়
৯১. নিচের কোনটি পূর্ণ প্রতিযোগিতামূলক বাজারের বৈশিষ্ট্য? (অনুধাবন)  
 ক শিল্প ফার্মসমূহের অনুপস্থিতি      খ স্বল্পকালীন স্থায়িত্ব  
 গ সীমিত চাহিদা ও যোগান      ● অসংখ্য ক্রেতা-বিক্রেতা
৯২. সমজাতীয় দ্রব্য বলতে নিচের কোনটিকে বোঝায়? (অনুধাবন)  
 ● একই গুণসম্পন্ন ও পৃথকযোগ্য দ্রব্যকে  
 খ ভিন্ন গুণসম্পন্ন ও পৃথকযোগ্য দ্রব্যকে  
 গ একই গুণসম্পন্ন ও পৃথক অযোগ্য দ্রব্যকে  
 ঘ ভিন্ন গুণসম্পন্ন ও পৃথক অযোগ্য দ্রব্যকে
৯৩. আবিদ সাহেব তার সংসারের জন্য সম্প্রতি এক মণ চাল কিনেছেন। তিনি কোন ধরনের বাজার থেকে চাল কিনেছেন? (প্রয়োগ)  
 ● পূর্ণ প্রতিযোগিতামূলক      খ একচেটিয়া  
 গ একচেটিয়া প্রতিযোগিতামূলক      ঘ অলিগপলি
৯৪. স্বাভাবিক মুনাফা বলতে কী বোঝায়? (অনুধাবন)  
 ক মোট আয় বেশি হওয়াকে      খ মোট ব্যয় বেশি হওয়া  
 ● মোট আয়-ব্যয়ের সমতাকে      ঘ মুনাফা সর্বাধিক হওয়াকে
৯৫. পূর্ণ প্রতিযোগিতামূলক বাজারের অধীনে শিল্পে ফার্মসমূহের বৈশিষ্ট্য কোনটি? (উচ্চতর দক্ষতা)  
 ক প্রবেশ ইচ্ছাধীন কিন্তু প্রস্থান শর্তসাপেক্ষ  
 খ প্রবেশ শর্তসাপেক্ষ কিন্তু প্রস্থান ইচ্ছাধীন  
 গ প্রবেশ ও প্রস্থান উভয়ই শর্তসাপেক্ষ  
 ● প্রবেশ ও প্রস্থান শর্তবিহীন
৯৬. পূর্ণপ্রতিযোগিতামূলক বাজারে অন্যতম বিশেষত্ব কোনটি? (উচ্চতর দক্ষতা)  
 ● বাহ্যিক প্রভাবমুক্ত      খ সীমিত ক্রেতা-বিক্রেতার সমাবেশ  
 গ শিল্পের অনুপস্থিতি      ঘ মূল্যের পরিবর্তনশীলতা
৯৭. কর আরোপ, ভর্তুকি প্রদান, রেশনিং ইত্যাদি মাধ্যমে সরকার প্রভাব সৃষ্টি করে না কোন বাজারে? (জ্ঞান)  
 ● পূর্ণ প্রতিযোগিতামূলক      খ একচেটিয়া  
 গ একচেটিয়া প্রতিযোগিতামূলক      ঘ অলিগপলি
৯৮. পূর্ণ প্রতিযোগিতামূলক বাজারে উপকরণের মূল্য সর্বত্র সমান থাকে কেন? (অনুধাবন)  
 ক বাহ্যিক প্রভাব না থাকায়      ● উপকরণের পূর্ণ গতিশীলতা থাকায়  
 গ সিদ্ধান্ত গ্রহণ স্বাধীন হওয়ায়      ঘ উপকরণের সংখ্যা সীমিত হওয়ায়
৯৯. পূর্ণ প্রতিযোগিতামূলক বাজারে ফার্মসমূহের মূল লক্ষ্য কোনটি? (উচ্চতর দক্ষতা)  
 ক স্বাভাবিক মুনাফা অর্জন      ● সর্বনিম্ন ব্যয়ে সর্বোচ্চ মুনাফা অর্জন  
 গ সেবা প্রদান      ঘ চাহিদা-যোগানের ভারসাম্য রক্ষা
১০০. পূর্ণ প্রতিযোগিতার বাজারে দীর্ঘমেয়াদে শিল্প কিরূপ মুনাফা অর্জন করে? (অনুধাবন)

ক সর্বোচ্চ      খ সর্বনিম্ন      ● স্বাভাবিক      ঘ অস্বাভাবিক

### বহুপদী সমাঙ্গিসূচক বহুনির্বাচনি প্রশ্নোত্তর

১০১. পূর্ণ প্রতিযোগিতামূলক বাজারে ক্রেতার অবিহিত থাকে— (অনুধাবন)  
 র. পণ্যের গুণাগুণ সম্পর্কে  
 রর. পণ্যের উৎপাদনের পরিমাণ সম্পর্কে  
 ররর. পণ্যের মূল্য সম্পর্কে  
 নিচের কোনটি সঠিক?  
 ক র ও রর      ● র ও ররর      গ রর ও ররর      ঘ র, রর ও ররর
১০২. পূর্ণ প্রতিযোগিতামূলক বাজারের অধীনে শিল্পে ফার্মসমূহ— (উচ্চতর দক্ষতা)  
 র. অবাধে প্রবেশ করতে পারে  
 রর. অবাধে প্রস্থান করতে পারে  
 ররর. স্বাভাবিক মুনাফা অর্জন করে  
 নিচের কোনটি সঠিক?  
 ● র ও রর      খ র ও ররর      গ রর ও ররর      ঘ র, রর ও ররর
১০৩. পূর্ণ প্রতিযোগিতামূলক বাজারের পণ্যসমূহের বৈশিষ্ট্য হলো— (অনুধাবন)  
 র. একই গুণাগুণ সম্পন্ন  
 রর. পরিমাণগত দিক থেকে একই  
 ররর. পণ্যের এককগুলো গঠনগত দিক থেকে ভিন্ন  
 নিচের কোনটি সঠিক?  
 ● র ও রর      খ র ও ররর      গ রর ও ররর      ঘ র, রর ও ররর
১০৪. পূর্ণ প্রতিযোগিতামূলক বাজারে ফার্মের স্বাধীনতা থাকে— (অনুধাবন)  
 র. দ্রব্যের মূল্য নির্ধারণের  
 রর. দ্রব্যের উৎপাদনের পরিমাণ নির্ধারণের  
 ররর. দ্রব্যের মূল্য ইচ্ছামতো পরিবর্তনের  
 নিচের কোনটি সঠিক?  
 ● র ও রর      খ র ও ররর      গ রর ও ররর      ঘ র, রর ও ররর
১০৫. গণি মিয়া চালের ব্যবসা করেন। এক্ষেত্রে তার পরিচালিত বাজারের বৈশিষ্ট্য হলো— (প্রয়োগ)  
 র. অসংখ্য ক্রেতা থাকে  
 রর. ক্রেতা মূল্যকে প্রভাবিত করেন  
 ররর. উপকরণ মূল্য সর্বত্র সমান থাকে  
 নিচের কোনটি সঠিক?  
 ক র ও রর      ● র ও ররর      গ রর ও ররর      ঘ র, রর ও ররর

### অভিন্ন তথ্যভিত্তিক বহুনির্বাচনি প্রশ্নোত্তর

নিচের ছকটি লক্ষ করে ১০৬ ও ১০৭নং প্রশ্নের উত্তর দাও :



১০৬. 'প' চিহ্নিত স্থানে নিচের কোনটি বসবে?

- পূর্ণ প্রতিযোগিতামূলক বাজার

খ একচেটিয়া বাজার

গ একচেটিয়া প্রতিযোগিতামূলক বাজার

ঘ একচেটিয়া ক্রেতার বাজার

১০৭. ছকে উপস্থাপিত বৈশিষ্ট্যসমূহের আলোকে বলা যায়— (উচ্চতর দক্ষতা)

র. পণ্যসমূহের গুণগত মান একই রর. উপকরণ মূল্য সর্বত্র সমান

ররর. দ্রব্যের পরিমাণগত একক ভিন্ন

নিচের কোনটি সঠিক?

- র ও রর    খ র ও ররর    গ রর ও ররর    ঘ র, রর ও ররর

নিচের অনুচ্ছেদটি পড়ে ১০৮ ও ১০৯ নং প্রশ্নের উত্তর দাও :

অর্থনীতিতে এমন একটি বাজার ব্যবস্থা প্রচলিত আছে যেখানে উৎপাদন, দাম নির্ধারণ ইত্যাদি ক্ষেত্রে সরকারি কোনো হস্তক্ষেপ থাকে না। এ বাজারে প্রতিটি ফার্ম ক্ষুদ্র ক্ষুদ্র অংশে বিভক্ত করে দ্রব্য উৎপাদন করে বলে উৎপাদিত পণ্যের বাজার বিভাজ্য বলা যায়।

১০৮. অনুচ্ছেদে কোন বাজার ব্যবস্থার প্রতি ইঙ্গিত করা হয়েছে? (প্রয়োগ)

- পূর্ণ প্রতিযোগিতামূলক    খ একচেটিয়া

গ অলিগপলি

ঘ একচেটিয়া প্রতিযোগিতামূলক

১০৯. উক্ত বাজার ব্যবস্থার লক্ষ্য— (উচ্চতর দক্ষতা)

র. ফার্মের উৎপাদন ব্যয় সর্বনিম্নকরণ

রর. সরকার থেকে ভর্তুকি গ্রহণ

ররর. সর্বনিম্ন ব্যয়ে সর্বোচ্চ মুনাফা অর্জন

নিচের কোনটি সঠিক?

- ক র ও রর    ● র ও ররর    গ রর ও ররর    ঘ র, রর ও ররর

### ➔ একচেটিয়া বাজার ➔

- গড়হড়হড়হড় শব্দের বাংলা প্রতিশব্দ হলো—একচেটিয়া বাজার।
- যে বাজারে শুধুমাত্র একজন বিক্রেতা অথচ অসংখ্য ক্রেতা থাকে সে দ্রব্যের বাজারকে বলে— একচেটিয়া বাজার।
- অবাধে প্রবেশ ও প্রস্থানের সুযোগ নেই— একচেটিয়া বাজারে।
- ফার্মই শিল্প হিসেবে বিবেচিত হয়— একচেটিয়া বাজারে।
- একচেটিয়া বাজারে— কোনো নিকটতম শিল্পদ্রব্য নেই।

- একচেটিয়া বাজারে নতুন ফার্ম প্রবেশ করলে— একচেটিয়া কারবারী পণ্যের দাম কমিয়ে দেয়।
- একচেটিয়া কারবারির একমাত্র লক্ষ হলো— মুনাফা অর্জন করা।

### সাধারণ বহুনির্বাচনি প্রশ্নোত্তর

১১০. 'চড়ু' শব্দের অর্থ কোনটি? (জ্ঞান)

- ক ক্রেতা    ● বিক্রেতা

গ উৎপাদনকারী    ঘ মধ্যস্থতাকারী

১১১. 'গড়হড়হড়হড়' শব্দের অর্থ কোনটি? (জ্ঞান)

- ক একজন মাত্র ক্রেতা    খ একাধিক ক্রেতা

● একজন মাত্র বিক্রেতা    ঘ একাধিক বিক্রেতা

১১২. যখন কোনো ফার্ম একটি দ্রব্য উৎপাদন করে অসংখ্য ক্রেতাকে যোগান দেয় তখন সেই বাজারকে কী বলে? (জ্ঞান)

- একচেটিয়া বাজার    খ অলিগপলি বাজার

গ একচেটিয়া প্রতিযোগিতার বাজার    ঘ পূর্ণ প্রতিযোগিতামূলক বাজার

১১৩. 'বাংলাদেশ পল্লি উন্নয়ন বোর্ড' দেশের গ্রামজুড়ে বিদ্যুতের একচ্ছত্র যোগানদাতা। এক্ষেত্রে কোন ধরনের বাজার বৈশিষ্ট্য প্রকাশ পায়? (প্রয়োগ)

- ক পূর্ণ প্রতিযোগিতামূলক    ● একচেটিয়া

গ অলিগপলি    ঘ ডুয়োগলি

১১৪. কোন বাজারে ফার্ম ও শিল্পকে আলাদা করা যায় না? (জ্ঞান)

- মনোগলি

খ অলিগপলি

গ মনোগলি প্রতিযোগিতামূলক

ঘ পূর্ণ প্রতিযোগিতামূলক

১১৫. পুরোপুরি বাস্তবে খুঁজে পাওয়া কঠিন কোন ধরনের বাজার? (জ্ঞান)

- মনোগলি    খ অলিগপলি

গ পূর্ণ প্রতিযোগিতামূলক    ঘ একচেটিয়া প্রতিযোগিতামূলক

১১৬. নিচের কোনটি মনোগলি মার্কেটের দৃষ্টান্ত? (প্রয়োগ)

- বাংলাদেশ অক্সিজেন    খ শেয়ারবাজার

গ শ্রমবাজার    ঘ উপকরণ বাজার

১১৭. সোবহান সাহেব তিতাস গ্যাস কোম্পানিতে কর্মরত আছেন। তার কর্মরত প্রতিষ্ঠানটি কোন ধরনের বাজারের অন্তর্ভুক্ত? (প্রয়োগ)

- ক পূর্ণ প্রতিযোগিতামূলক    ● মনোগলি

গ ডুয়োগলি    ঘ অলিগপলি

১১৮. নিচের কোনটি মনোগলি মার্কেটের বৈশিষ্ট্য? (জ্ঞান)

- ক অসংখ্য ক্রেতা-বিক্রেতা থাকে

খ সমজাতীয় দ্রব্য বেচাকেনা হয়

গ একাধিক ফার্ম থাকে

- উৎপাদক এককভাবে দ্রব্যের যোগান নিয়ন্ত্রণ করে

১১৯. একচেটিয়া কারবারের মূল লক্ষ্য কোনটি? (উচ্চতর দক্ষতা)  
ক সেবা প্রদান করা ● সর্বাধিক মুনাফা অর্জন করা

গ সর্বাধিক উৎপাদন করা ঘ দ্রব্যের মূল্য নিয়ন্ত্রণ করা

১২০. একচেটিয়া বাজারে শিল্প বলতে কোনটিকে বোঝায়? (অনুধাবন)

● একটিমাত্র ফার্মকে ✕ একাধিক ফার্মকে

গ একাধিক উৎপাদককে ঘ অসংখ্য ক্রেতার সমাবেশকে

১২১. একচেটিয়া ফার্ম দ্রব্যের দামকে প্রভাবিত করে কীভাবে? (উচ্চতর দক্ষতা)

ক নতুন ফার্ম অন্তর্ভুক্তকরণের মাধ্যমে

✕ বাজার বিশ্লেষণের মাধ্যমে

● উৎপাদনের পরিমাণ কমবেশি করার মাধ্যমে

ঘ উৎপাদন বন্ধ করে দেয়ার মাধ্যমে

১২২. নতুন ফার্মের প্রবেশ বন্ধ করতে একচেটিয়া ফার্ম কী পদক্ষেপ গ্রহণ করে? (উচ্চতর দক্ষতা)

ক পণ্যের উৎপাদন কমিয়ে দেয় ● পণ্যের দাম কমিয়ে দেয়

গ আইনের আশ্রয় নেয় ঘ মুনাফার পরিমাণ বাড়িয়ে দেয়

১২৩. একচেটিয়া বাজারে নতুন ফার্ম প্রবেশ করতে পারে না কেন? (অনুধাবন)

● লোকসানের ভয়ে ✕ সরকারের বিধিনিষেধ থাকায়

গ আইনগত বাধা থাকায় ঘ ক্রেতার সংখ্যা কম হওয়ায়

### বহুপদী সমাপ্তিসূচক বহুনির্বাচনি প্রশ্নোত্তর

১২৪. একচেটিয়া বাজারে গড় আয় ও প্রান্তিক আয় রেখার বৈশিষ্ট্য হলো— (অনুধাবন)  
র. দুটি রেখাই উর্ধ্বগামী

রর. দুটি রেখাই নিম্নগামী

ররর. প্রান্তিক আয় রেখা সবচেয়ে নিচে থাকে

নিচের কোনটি সঠিক?

ক র ✕ রর গ র ও ররর ● রর ও ররর

১২৫. একচেটিয়া বাজারের বৈশিষ্ট্য হলো— (জ্ঞান)  
র. নিকট পরিবর্তক দ্রব্যের উপস্থিতি থাকে

রর. একজন বিক্রেতা ও অসংখ্য ক্রেতা থাকে

ররর. নতুন ফার্মের প্রবেশের সুযোগ নেই

নিচের কোনটি সঠিক?

ক র ও রর ✕ র ও ররর ● রর ও ররর ঘ র, রর ও ররর

১২৬. একচেটিয়া ফার্ম দ্রব্যের দামকে প্রভাবিত করে— (অনুধাবন)  
র. উৎপাদন বৃদ্ধি করে

রর. উৎপাদন হ্রাস করে

ররর. উৎপাদন অপরিবর্তিত রেখে

নিচের কোনটি সঠিক?

● র ও রর ✕ র ও ররর গ রর ও ররর ঘ র, রর ও ররর

১২৭. একচেটিয়া শিল্পে নতুন ফার্ম প্রবেশ করতে পারে না, কারণ— (উচ্চতর দক্ষতা)  
র. লোকসানের ভয় থাকে

রর. একচেটিয়া ফার্ম পণ্যের দাম কমিয়ে দেয়

ররর. সরকার বিধিনিষেধ আরোপ করে

নিচের কোনটি সঠিক?

● র ও রর ✕ র ও ররর গ রর ও ররর ঘ র, রর ও ররর

১২৮. একচেটিয়া ফার্মে মুনাফা অর্জন সহজ, কারণ— (অনুধাবন)  
র. নিকট পরিবর্তক দ্রব্য থাকে না

রর. একটির বেশি ফার্ম থাকে না

ররর. ক্রেতা-বিক্রেতা অসংখ্য থাকে

নিচের কোনটি সঠিক?

● র ও রর ✕ র ও ররর গ রর ও ররর ঘ র, রর ও ররর

### অভিন্ন তথ্যভিত্তিক বহুনির্বাচনি প্রশ্নোত্তর

নিচের অনুচ্ছেদটি পড়ে ১২৯ ও ১৩০ নং প্রশ্নের উত্তর দাও :

রহিম গ্যাস কিনতে বাজারে গেল। বাজারে গ্যাসের দাম বেশি হওয়ায় রহিম বিক্রেতার কাছে জানতে চাইল গ্যাসের দাম বেশি কেন। বিক্রেতা তাকে বলল গ্যাসের বাজারে মাত্র একজন বিক্রেতা। তাই গ্যাসের দাম বেশি। এ বাজারে বিক্রেতা তার ইচ্ছা অনুযায়ী দ্রব্যের দাম ও যোগান নিয়ন্ত্রণ করে।

১২৯. রহিমের পণ্য কোন বাজারে বিক্রি হয়? (প্রয়োগ)  
● একচেটিয়া ✕ পূর্ণ প্রতিযোগিতার

গ একচেটিয়ামূলক ঘ অলিগপলি

১৩০. এ ধরনের আরও কিছু বাজারের উদাহরণ হলো— (অনুধাবন)  
র. বিদ্যুৎ

রর. বাংলাদেশ অক্সিজেন

ররর. শেয়ার

নিচের কোনটি সঠিক?

● র ও রর ✕ র ও ররর গ রর ও ররর ঘ র, রর ও ররর

### ➡ একচেটিয়া প্রতিযোগিতা বাজার ও অলিগপলি বাজার ➡

- দ্রব্য সমজাতীয় অথচ পৃথক করা যায়— একচেটিয়া প্রতিযোগিতামূলক বাজারে।
- বিজ্ঞাপন ব্যয় অধিক হয়— একচেটিয়া প্রতিযোগিতামূলক বাজারে।
- কতিপয় বিক্রেতার বাজারকে বলে— অলিগপলি বাজার।
- এক ফার্ম অন্য ফার্মের আচরণ দ্বারা প্রভাবিত হয়— অলিগপলি বাজারে।

- অলিগপলি বাজারের বৈশিষ্ট্য— ৪ ধরনের।
- ক্রেতা আকর্ষণ করার জন্য বিজ্ঞাপনের আশ্রয় নেয়— অলিগপলি বাজার।

### সাধারণ বহুনির্বাচনি প্রশ্নোত্তর

১৩১. একচেটিয়া প্রতিযোগিতামূলক বাজারে মোট উৎপাদনের সামান্যতম অংশ কে নিয়ন্ত্রণ করতে পারে? (জ্ঞান)
- ফার্ম      খ শিল্প      গ ক্রেতা      ঘ বিক্রেতা
১৩২. কারা একচেটিয়া প্রতিযোগিতামূলক বাজারে মোট উৎপাদনের ওপর উল্লেখযোগ্য প্রভাব সৃষ্টি করতে পারে না? (জ্ঞান)
- ক ক্রেতা      খ বিক্রেতা      ● ফার্ম      ঘ শিল্প
১৩৩. পূর্ণ প্রতিযোগিতামূলক এবং একচেটিয়া বাজারের সমন্বয়ে কোন ধরনের বাজার গড়ে ওঠে? (জ্ঞান)
- ক ডুয়োপলি      খ মনোপলি
- একচেটিয়া প্রতিযোগিতামূলক      ঘ অলিগপলি
১৩৪. নিচের কোনটি একচেটিয়া প্রতিযোগিতামূলক বাজারের উদাহরণ? (জ্ঞান)
- ক শাকসবজির      ● সাবানের      গ উপকরণ      ঘ বিদ্যুতের
১৩৫. মীনা শ্যাম্পু কিনতে বাজারে গেল। তার কেনা শ্যাম্পু কোন বাজারের পণ্য? (প্রয়োগ)
- ক পূর্ণ প্রতিযোগিতামূলক      খ একচেটিয়া
- একচেটিয়া প্রতিযোগিতামূলক      ঘ অলিগপলি
১৩৬. একচেটিয়া প্রতিযোগিতামূলক বাজারে কোনো পণ্যের চাহিদা কখনই শূন্য হয় না কেন? (অনুধাবন)
- ক উৎপাদন বেশি হয় বলে      ● ভক্ত ক্রেতাদের জন্য
- গ সরকার ভর্তুকি দেয় বলে      ঘ একাধিক ফার্ম থাকে বলে
১৩৭. একচেটিয়া প্রতিযোগিতামূলক বাজারে অনেক ক্ষেত্রে জোট বা দলভুক্ত ফার্ম থাকে কেন? (অনুধাবন)
- পণ্যের মূল্যের উপর কোনো ফার্ম প্রভাব সৃষ্টি করতে পারে না বলে
- খ পণ্যের চাহিদা নিরূপণ করতে পারে না বলে
- গ পণ্যের সরবরাহ বাড়ানোর জন্য
- ঘ পণ্যের মান উন্নয়নের জন্য
১৩৮. কোন বাজারের উৎপাদিত দ্রব্য ভিন্ন থাকে? (জ্ঞান)
- ক পূর্ণ প্রতিযোগিতার      খ স্থানীয়
- একচেটিয়া মূলক প্রতিযোগিতা      ঘ দ্বিপাক্ষিক একচেটিয়া
১৩৯. কোন বাজারের শিল্পে ফার্মের অবাধ প্রবেশ বা প্রস্থান বাধাহীন থাকে? (জ্ঞান)
- ক দ্বিপাক্ষিক একচেটিয়া      খ মনোপলি
- একচেটিয়া মূলক প্রতিযোগিতা      ঘ পূর্ণ প্রতিযোগিতার
১৪০. একচেটিয়া মূলক প্রতিযোগিতা বাজারে স্বল্পকালে ফার্ম কী ধরনের মুনাফা অর্জন করে? (জ্ঞান)
- ক স্বাভাবিক      ● অস্বাভাবিক
- গ সর্বোচ্চ      ঘ ক্ষতি স্বীকার করে

১৪১. কোন বাজারে দ্রব্য পৃথকীকরণ করা যায়? (জ্ঞান)
- ক একচেটিয়া      খ পূর্ণ প্রতিযোগিতামূলক
- একচেটিয়া প্রতিযোগিতামূলক      ঘ অলিগপলি
১৪২. একচেটিয়া প্রতিযোগিতার উদ্ভবের কারণ কী? (অনুধাবন)
- ক সমজাতীয় দ্রব্যের উপস্থিতি      ● দ্রব্যের গুণগত ও বাহ্যিক দিকের ভিন্নতা
- গ অসংখ্য ক্রেতার সমাবেশ      ঘ বিকল্প কোনো দ্রব্যের অনুপস্থিতি
১৪৩. একচেটিয়া প্রতিযোগিতামূলক বাজারে ফার্মসমূহ বিজ্ঞাপন প্রচার করে কেন? (অনুধাবন)
- ক সেবা প্রদানের লক্ষ্যে      ● পণ্যের বিক্রি বাড়ানোর
- গ বিক্রয়জনিত ব্যয় কমাতে      ঘ আনুষঙ্গিক মুনাফা অর্জনের লক্ষ্যে
১৪৪. একচেটিয়া প্রতিযোগিতামূলক বাজারে ফার্মসমূহ প্রতিযোগিতার জন্য কী করে? (অনুধাবন)
- বিজ্ঞাপন প্রচার করে      খ স্বাভাবিক মুনাফা অর্জন করে
- গ উৎপাদনের পরিমাণ বৃদ্ধি করে      ঘ পণ্যের দাম বৃদ্ধি করে
১৪৫. একচেটিয়া প্রতিযোগিতামূলক বাজারে বিক্রয়জনিত ব্যয় বেশি হয় কেন? (অনুধাবন)
- ক ফার্মের সংখ্যাধিক্যের কারণে      খ ক্রেতার সংখ্যা কম হওয়ায়
- বিজ্ঞাপনের খরচ যুক্ত হওয়ায়      ঘ প্রতিযোগিতা বেশি থাকায়
১৪৬. অন্যান্য বাজারের সাথে একচেটিয়া প্রতিযোগিতামূলক বাজারের সাদৃশ্য রয়েছে নিচের কোন দিক থেকে? (প্রয়োগ)
- ক ক্রেতা-বিক্রেতার সংখ্যায়      খ ফার্মের প্রবেশাধিকারে
- গ পণ্যের উৎপাদনের পরিমাণে      ● সর্বোচ্চ মুনাফা অর্জনে
১৪৭. কোন সময়ে একচেটিয়া মূলক প্রতিযোগিতা বাজারে ফার্মের ভারসাম্য পূর্ণ প্রতিযোগিতামূলক বাজারের মতো থাকে? (জ্ঞান)
- ক অতি স্বল্পকালে      খ স্বল্পকালে
- দীর্ঘকালে      ঘ অতি দীর্ঘকালে
১৪৮. একচেটিয়া প্রতিযোগিতামূলক বাজারের পণ্যকে যা করা যায় না তা কী? (অনুধাবন)
- ক বিক্রয়      খ ক্রয়
- পূর্ণ অনুকরণ      ঘ উৎপাদন
১৪৯. পূর্ণ প্রতিযোগিতামূলক বাজারের সাথে একচেটিয়া প্রতিযোগিতামূলক বাজারের কোন দিক থেকে সাদৃশ্য রয়েছে? (উচ্চতর দক্ষতা)
- স্বাভাবিক মুনাফা অর্জনের দিক থেকে
- খ সমজাতীয় দ্রব্য বেচাকেনার দিক থেকে
- গ অনুরূপতা ও সাদৃশ্যের দিক থেকে
- ঘ গড় আয় রেখার প্রকৃতির দিক থেকে
১৫০. অলিগপলি বাজারে কয়জন বিক্রেতা থাকেন? (জ্ঞান)
- ক অসংখ্য      খ একজন
- গ দুজন      ● কতিপয়
১৫১. অলিগপলি বাজারের বৈশিষ্ট্য কোনটি? (জ্ঞান)
- সিদ্ধান্ত গ্রহণে প্রতিদ্বন্দ্বী ফার্মের ভূমিকা বিদ্যমান
- খ দ্রব্যসমূহ সমজাতীয় নয়

গ বিজ্ঞাপন দ্বারা প্রভাবিত নয়

ঘ ক্রেতা-বিক্রেতার সংখ্যা অনেক

### বহুপদী সমাপ্তিসূচক বহুনির্বাচনি প্রশ্নোত্তর

১৫২. একচেটিয়া প্রতিযোগিতামূলক বাজারের বৈশিষ্ট্য হলো- (অনুধাবন)  
র. উৎপাদিত দ্রব্যের পৃথকীকরণ করা যায়

রর. অসংখ্য ফার্মের উপস্থিতি থাকে

ররর. সম্পূর্ণ সমজাতীয় পণ্যের বেচাকেনা হয়

নিচের কোনটি সঠিক?

● র ও রর      খ র ও ররর      গ রর ও ররর      ঘ র, রর ও ররর

১৫৩. একচেটিয়া প্রতিযোগিতামূলক বাজারের পণ্যসমূহ- (অনুধাবন)  
র. সমজাতীয় অথচ পৃথকীকরণ করা যায়

রর. ভিন্নজাতীয় অথচ পৃথকীকরণ করা যায় না

ররর. সদৃশ হলেও অভিন্ন নয়

নিচের কোনটি সঠিক?

ক র ও রর      ● র ও ররর      গ রর ও ররর      ঘ র, রর ও ররর

১৫৪. একচেটিয়া প্রতিযোগিতামূলক বাজারের দ্রব্যসমূহ পৃথক হয়ে থাকে- (অনুধাবন)  
র. গুণগত দিক থেকে

রর. বাহ্যিক দিক থেকে

ররর. পরিমাণগত দিক থেকে

নিচের কোনটি সঠিক?

● র ও রর      খ র ও ররর      গ রর ও ররর      ঘ র, রর ও ররর

১৫৫. একচেটিয়া প্রতিযোগিতামূলক বাজারে ফার্মসমূহ বিজ্ঞাপন প্রচার করে- (অনুধাবন)  
র. প্রতিযোগিতার জন্য

রর. পণ্যের বিক্রি বাড়াতে

ররর. ক্রেতাকে আকৃষ্ট করতে

নিচের কোনটি সঠিক?

ক র ও রর      খ র ও ররর      গ রর ও ররর      ● র, রর ও ররর

১৫৬. একচেটিয়া বাজারে একজন বিক্রেতা অন্য বিক্রেতার উৎপাদিত পণ্য পূর্ণ অনুকরণ করতে না পারার ফলে- (উচ্চতর দক্ষতা)  
র. প্রত্যেক বিক্রেতা নিজ নিজ দ্রব্যের যোগান নিয়ন্ত্রণ করতে পারে

রর. প্রত্যেক বিক্রেতা স্বাভাবিক মুনাফা অর্জন করতে পারে

ররর. প্রত্যেক ফার্ম মূল্য নিয়ন্ত্রণ করতে পারে

নিচের কোনটি সঠিক?

ক র ও রর      ● র ও ররর      গ রর ও ররর      ঘ র, রর ও ররর

১৫৭. নিচের যেটি অসংখ্য প্রতিযোগিতার বাজারের শ্রেণিভুক্ত- (উচ্চতর দক্ষতা)

র. একচেটিয়া

রর. একচেটিয়া প্রতিযোগিতার

ররর. কয়েকজন বিক্রেতার

নিচের কোনটি সঠিক?

ক র ও রর      খ র ও ররর      গ রর ও ররর      ● র, রর ও ররর

১৫৮. একচেটিয়া বাজারের ফার্মগুলো একই ধরনের হয়। কারণ- (প্রয়োগ)  
র. ব্যয় ও চাহিদা রেখা একই

রর. গ্রুপ অন্তর্ভুক্ত

ররর. পণ্যের মূল্য একই

নিচের কোনটি সঠিক?

● র ও রর      খ র ও ররর      গ রর ও ররর      ঘ র, রর ও ররর

১৫৯. একচেটিয়া প্রতিযোগিতামূলক বাজারের ক্ষেত্রে পরিলক্ষিত হয়- (প্রয়োগ)  
র. একচেটিয়া বাজারের কিছু বৈশিষ্ট্য

রর. পূর্ণ প্রতিযোগিতামূলক বাজারের কিছু বৈশিষ্ট্য

ররর. অলিগপলি বাজারের সকল বৈশিষ্ট্য

নিচের কোনটি সঠিক?

● র ও রর      খ র ও ররর      গ রর ও ররর      ঘ র, রর ও ররর

১৬০. একচেটিয়া প্রতিযোগিতামূলক বাজারে প্রতিযোগিতার উদ্ভবের কারণ হলো- (অনুধাবন)

র. দ্রব্যসমূহের গুণগত পার্থক্য

রর. একাধিক ফার্মের উপস্থিতি

ররর. অসংখ্য ক্রেতার সমাবেশ

নিচের কোনটি সঠিক?

● র ও রর      খ র ও ররর      গ রর ও ররর      ঘ র, রর ও ররর

১৬১. অলিগপলি বাজারের বৈশিষ্ট্য হলো- (অনুধাবন)

র. দ্রব্যসমূহ সমজাতীয়

রর. বিক্রেতার সংখ্যা অনেক

ররর. ক্রেতার সংখ্যা অনেক

নিচের কোনটি সঠিক?

ক র ও রর      ● র ও ররর      গ রর ও ররর      ঘ র, রর ও ররর

১৬২. অলিগপলি বাজারের দ্রব্যের বৈশিষ্ট্য হলো- (উচ্চতর দক্ষতা)

র. দ্রব্যসমূহ সামান্য পৃথকীকরণ করা যায়

রর. দ্রব্যসমূহের যোগান সীমাবদ্ধ

নিচের কোনটি সঠিক?

### অভিন্ন তথ্যভিত্তিক বহুনির্বাচনি প্রশ্নোত্তর

নিচের অনুচ্ছেদটি পড়ে ১৬৩ ও ১৬৪ নং প্রশ্নের উত্তর দাও :

শাম্মী আকতার তার পরিবারের জন্য সবসময় ডাভ সাবান কিনে থাকেন। কিন্তু এ মাসে তিনি লাক্স সাবান কিনেছেন। কারণ ডাভ সাবানের দাম আগের থেকে বেশি বৃদ্ধি পেয়েছে। অবশ্য তার প্রতিবেশী উর্মি সাহা দাম বাড়লেও বরাবরের মতো ডাভ সাবানই কিনেছেন।

১৬৩. অনুচ্ছেদে কোন ধরনের বাজারের ইঙ্গিত প্রদান করা হয়েছে? (প্রয়োগ)

ক পূর্ণ প্রতিযোগিতামূলক    খ একচেটিয়া

● একচেটিয়া প্রতিযোগিতামূলক    ঘ অলিগপলি

১৬৪. উর্মি সাহার মতো ক্রেতার কারণেই ডাভ সাবানের— (উচ্চতর দক্ষতা)

র. চাহিদা কখনো শূন্য হবে না

রর. চাহিদা কখনো পরিবর্তিত হবে না

ররর. চাহিদা রাখার আকৃতি এক রকম হবে না

নিচের কোনটি সঠিক?

ক র ও রর    ● র ও ররর    গ রর ও ররর    ঘ র, রর ও ররর

নিচের অনুচ্ছেদটি পড়ে ১৬৫ ও ১৬৬ নং প্রশ্নের উত্তর দাও :

সকালে ঘুম থেকে উঠেই পত্রিকা পড়ার অভ্যাস আতিকুর রহমান সাহেবের। প্রতিদিনের মতো পত্রিকা হাতে নিয়েই তিনি প্রথম পাতাতে এক পাশে নোকিয়া মোবাইল এবং অন্যপাশে সামস্যাং মোবাইলে বিজ্ঞাপন দেখতে পেলেন। দুটি বিজ্ঞাপনে মোবাইলের দামে তিনি খুব বেশি ব্যবধান দেখতে পেলেন না।

১৬৫. অনুচ্ছেদে কোন ধরনের বাজারের বৈশিষ্ট্য প্রকাশ পেয়েছে? (প্রয়োগ)

ক মনোপলি    খ ডুয়োপলি

গ পূর্ণ প্রতিযোগিতামূলক    ● একচেটিয়া প্রতিযোগিতামূলক

১৬৬. মোবাইল কোম্পানি দুটির এরূপ বিজ্ঞাপনের কারণ হলো— (উচ্চতর দক্ষতা)

র. বাজারে প্রতিযোগিতায় টিকে থাকা

রর. পণ্যের বিক্রি বাড়ানো

ররর. বিক্রয়জনিত ব্যয় কমানো

নিচের কোনটি সঠিক?

● র ও রর    খ র ও ররর    গ রর ও ররর    ঘ র, রর ও ররর

➔ বাংলাদেশের বাজারব্যবস্থা ➔ ■ বাংলাদেশে রয়েছে— ৩ ধ

- বাংলাদেশে অনুপস্থিত— বিশুদ্ধ পূর্ণ প্রতিযোগিতা।
- বাংলাদেশে উৎপাদিত পণ্যের ক্ষেত্রে দেখা যায় না— একচেটিয়া বাজার।
- বাংলাদেশের সর্বত্র বিরাজ করে— একচেটিয়া প্রতিযোগিতামূলক বাজার।
- বাংলাদেশে আমদানিকৃত পণ্যসামগ্রি হলো— একচেটিয়া বাজার।

■ কাঁচামালের বাজারকে বলে— পূর্ণপ্রতিযোগিতার কাছাকাছি বাজার।

### সাধারণ বহুনির্বাচনি প্রশ্নোত্তর

১৬৭. বাংলাদেশে কোন ধরনের বাজার নেই? (জ্ঞান)

ক একচেটিয়া

খ একচেটিয়া প্রতিযোগিতামূলক

● বিশুদ্ধ পূর্ণ প্রতিযোগিতার

ঘ একচেটিয়া ক্রেতার

১৬৮. নিচের কোনটি বাংলাদেশের পূর্ণ প্রতিযোগিতামূলক বাজারের দৃষ্টান্ত? (জ্ঞান)

● মুরগির

খ বিদ্যুৎ সরবরাহের

গ শিল্পজাত পণ্যের

ঘ মোবাইলের

১৬৯. জাহাঙ্গীর আলম গাবতলী বাস পরিবহন সমিতির সভাপতি। এক্ষেত্রে তিনি কোন ধরনের বাজারের সাথে জড়িত? (প্রয়োগ)

ক একচেটিয়া

● পূর্ণ প্রতিযোগিতামূলক

গ একচেটিয়া প্রতিযোগিতামূলক

ঘ অলিগপলি

১৭০. সেবার ক্ষেত্রে নিচের কোনটি বাংলাদেশের পূর্ণ প্রতিযোগিতামূলক বাজারের উদাহরণ? (জ্ঞান)

● রিকশা পরিবহন

খ টেলিফোন সেবা

গ শিক্ষাপ্রতিষ্ঠান

ঘ হাসপাতাল

১৭১. বাংলাদেশে একচেটিয়া বাজার দেখা যায় কোন ধরনের পণ্যের ক্ষেত্রে? (জ্ঞান)

ক উৎপাদিত পণ্যের

● আমদানিকৃত পণ্যের

গ রপ্তানিকৃত পণ্যের

ঘ কৃষিজাত পণ্যের

১৭২. বাংলাদেশে একচেটিয়া বাজারের উদাহরণ নিচের কোনটি? (জ্ঞান)

● জ্বালানি তেলের

খ কৃষিজাত পণ্যের

গ প্রসাধনী দ্রব্যের

ঘ খাদ্যশস্যের

১৭৩. ফজলুর রহমান বাংলাদেশ পেট্রোলিয়াম কর্পোরেশনে কর্মরত আছেন। তার কর্মরত প্রতিষ্ঠানটি কোন ধরনের বাজারের অন্তর্ভুক্ত? (প্রয়োগ)

ক পূর্ণ প্রতিযোগিতামূলক

● একচেটিয়া

গ একচেটিয়া প্রতিযোগিতামূলক

ঘ অলিগপলি

১৭৪. যাতায়াতের ক্ষেত্রে বাংলাদেশের একচেটিয়া বাজারের উদাহরণ নিচের কোনটি? (জ্ঞান)

ক বাংলাদেশ বিমান

খ বাংলাদেশ নৌ কর্তৃপক্ষ

● বাংলাদেশ রেলওয়ে

ঘ বাংলাদেশ বাস মালিক সমিতি

১৭৫. মি. জামান 'দি প্যাথ' নামের একটি বেসরকারি ডায়গনস্টিক সেন্টারে প্যাথোলজিস্ট হিসেবে কর্মরত আছেন। এক্ষেত্রে তার কর্মরত প্রতিষ্ঠানটি বাংলাদেশের কোন ধরনের বাজারের অন্তর্ভুক্ত? (প্রয়োগ)

ক একচেটিয়া

● একচেটিয়া প্রতিযোগিতামূলক

গ পূর্ণ প্রতিযোগিতামূলক

ঘ অলিগপলি

১৭৬. বাংলাদেশের সর্বত্র লক্ষ করা যায় কোন ধরনের বাজার? (অনুধাবন)

ক একচেটিয়া

● একচেটিয়া প্রতিযোগিতামূলক

গ পূর্ণ প্রতিযোগিতামূলক	ঘ অলিগপলি
১৭৭. বাংলাদেশের কৃষি পণ্যের খুচরা বাজার কোন ধরনের বাজারের মধ্যে পড়ে? (জ্ঞান)	
ক অলিগপলি	খ একচেটিয়া
● পূর্ণ প্রতিযোগিতার কাছাকাছি	ঘ একচেটিয়া প্রতিযোগিতা
১৭৮. নিচের কোনটি বাংলাদেশের একচেটিয়া প্রতিযোগিতামূলক বাজারের উদাহরণ? (জ্ঞান)	
● প্রসাধনী দ্রব্যের	খ ডিম-দুধের
গ কৃষিপণ্যের খুচরা	ঘ বিদ্যুৎ সরবরাহের
১৭৯. বাংলাদেশে সেবার ক্ষেত্রে একচেটিয়া প্রতিযোগিতামূলক বাজারের অন্তর্ভুক্ত কোনটি? (প্রয়োগ)	
ক সরকারি হাসপাতাল	● ডায়াগনস্টিক সেন্টার
গ বাংলাদেশ রেলওয়ে	ঘ রিকশা পরিবহন

### বহুপদী সমাপ্তিসূচক বহুনির্বাচনি প্রশ্নোত্তর

১৮০. বাংলাদেশে বিভিন্ন ধরনের বাজার লক্ষ করা যায়— (অনুধাবন)	
র. প্রাকৃতিক কারণে	
রর. পরিবেশগত কারণে	
ররর. সাংস্কৃতিক কারণে	
নিচের কোনটি সঠিক?	
● র ও রর	খ র ও ররর
গ রর ও ররর	ঘ র, রর ও ররর
১৮১. বাংলাদেশের বাজার ব্যবস্থায়— (অনুধাবন)	
র. বিশুদ্ধ পূর্ণ প্রতিযোগিতার বাজার অনুপস্থিত	
রর. উৎপাদিত পণ্যের একচেটিয়া বাজার বিদ্যমান	
ররর. আমদানিকৃত পণ্যের একচেটিয়া বাজার বিদ্যমান	
নিচের কোনটি সঠিক?	
ক র ও রর	● র ও ররর
গ রর ও ররর	ঘ র, রর ও ররর
১৮২. বাংলাদেশ রেলওয়ে একচেটিয়া বাজারের অন্তর্ভুক্ত, কারণ— (জ্ঞান)	
র. এর নিকট পরিবর্তক প্রতিষ্ঠান নেই	
রর. রেলপথে যাতায়াতের ক্ষেত্রে এটি একক প্রতিষ্ঠান	
ররর. রেলওয়ে কর্তৃপক্ষ এককভাবে মূল্যের নিয়ন্ত্রক	
নিচের কোনটি সঠিক?	
ক র ও রর	খ র ও ররর
গ রর ও ররর	● র, রর ও ররর
১৮৩. বাংলাদেশের ঢাকা শহরে মনোপলি বাজারের উদাহরণ হলো— (অনুধাবন)	
র. পানি সরবরাহ	
রর. খাদ্য সরবরাহ	
ররর. বিদ্যুৎ সরবরাহ	
নিচের কোনটি সঠিক?	

ক র ও রর ● র ও ররর গ রর ও ররর ঘ র, রর ও ররর

### অভিন্ন তথ্যভিত্তিক বহুনির্বাচনি প্রশ্নোত্তর

নিচের অনুচ্ছেদটি পড়ে ১৮৪ ও ১৮৫ নং প্রশ্নের উত্তর দাও :	
শিউলি নারিকেল তেল কেনার জন্য বাজারে যায়। বাজারে বিক্রয় তাতে একটি গন্ধরাজ নারিকেলের কৌটা দেয়। কিন্তু জুই নারিকেল তেলের সুন্দর বোতল দেখে সে জুই নারিকেল তেল নিয়ে আসে।	
১৮৪. শিউলির ক্রয়কৃত পণ্যটি বাংলাদেশের কোন ধরনের বাজারের অন্তর্ভুক্ত? (প্রয়োগ)	
ক একচেটিয়া	● একচেটিয়া প্রতিযোগিতামূলক
গ পূর্ণ প্রতিযোগিতামূলক	ঘ অলিগপলি
১৮৫. এ ধরনের বাজারের বৈশিষ্ট্য হলো— (উচ্চতর দক্ষতা)	
র. মুনাফার সর্বোচ্চকরণ হয়	
রর. বিজ্ঞাপনের ব্যবহার থাকে	
ররর. দ্রব্য সমজাতীয় অথচ পৃথকীকরণ করা যায়	
নিচের কোনটি সঠিক?	
ক র ও রর	খ র ও ররর
গ রর ও ররর	● র, রর ও ররর
নিচের অনুচ্ছেদটি পড়ে ১৮৬ ও ১৮৭ নং প্রশ্নের উত্তর দাও :	
জামশেদ আলম বাংলাদেশ পেট্রোলিয়াম কর্পোরেশনের একজন উচ্চপদস্থ কর্মকর্তা। বাংলাদেশের বিভিন্ন অঞ্চলে তার কর্মরত প্রতিষ্ঠানটি ডিলারের মাধ্যমে আমদানিকৃত জ্বালানি তেল সরবরাহ করে থাকে।	
১৮৬. জামশেদ আলমের কর্মরত প্রতিষ্ঠানটি বাংলাদেশের কোন ধরনের বাজারের অন্তর্ভুক্ত? (প্রয়োগ)	
● একচেটিয়া	খ একচেটিয়া প্রতিযোগিতামূলক
গ ডুয়োগলি	ঘ অলিগপলি
১৮৭. বাংলাদেশে এ ধরনের বাজার দেখা যায়— (উচ্চতর দক্ষতা)	
র. উৎপাদিত দ্রব্যের ক্ষেত্রে	
রর. আমদানিকৃত দ্রব্যের ক্ষেত্রে	
ররর. রেলপথে যাতায়াতের ক্ষেত্রে	
নিচের কোনটি সঠিক?	
ক র ও রর	খ র ও ররর
● রর ও ররর	ঘ র, রর ও ররর
নিচের অনুচ্ছেদটি পড়ে ১৮৮ ও ১৮৯ নং প্রশ্নের উত্তর দাও :	
বাংলাদেশের টিভি চ্যানেলগুলোতে প্রচারিত গ্রামীণফোন, বাংলালিংক, এয়ারটেল, রবি, টেলিটক ইত্যাদি কোম্পানিগুলোর বিজ্ঞাপন বেশ সাড়া ফেলেছে। তারা প্রত্যেকেই ক্রেতাদের আকৃষ্ট করার জন্য বিশিষ্ট ব্যক্তিদের অংশগ্রহণে বিজ্ঞাপনগুলো নির্মাণ করে।	
১৮৮. অনুচ্ছেদটি উল্লিখিত খাতটি কোন বাজারকে নির্দেশ করছে? (প্রয়োগ)	
ক একচেটিয়া	● অলিগপলি
গ একচেটিয়া প্রতিযোগিতা	ঘ পূর্ণ প্রতিযোগিতা
১৮৯. উক্ত বাজারের বৈশিষ্ট্য— (উচ্চতর দক্ষতা)	
র. দ্রব্যের বাজার সমজাতীয়	
রর. বিজ্ঞাপনের প্রভাব বিদ্যমান	



ররর. কতিপয় বিক্রেতা থাকে

নিচের কোনটি সঠিক?

ক র ও রর      খ র ও ররর      গ রর ও ররর      ● র, রর ও ররর

## ■ অধ্যায়ের পাঠ সমন্বিত বহুনির্বাচনি প্রশ্নোত্তর

### বহুপদী সমাপ্তিসূচক বহুনির্বাচনি প্রশ্নোত্তর

১৯০. রাসেল সাহেব একটি মোবাইল কিনতে গিয়ে দোকানির সাথে দর কষাকষি করছেন। তার দর কষাকষির মাধ্যমে নির্ধারিত হবে— (প্রয়োগ)

র. মূল্যের নিয়ম      রর. মোবাইলের মূল্য

ররর. মোবাইলের উপযোগিতা

নিচের কোনটি সঠিক?

● র ও রর      খ র ও ররর      গ রর ও ররর      ঘ র, রর ও ররর

১৯১. আনিসুর রহমান 'বাংলাদেশ তিতাস গ্যাস' প্রতিষ্ঠার একজন কর্মকর্তা। তার প্রতিষ্ঠানটির বৈশিষ্ট্য হলো— (প্রয়োগ)

র. সর্বাধিক মুনাফা অর্জন করে

রর. সমজাতীয় পণ্য বেচাকেনা করে

ররর. এককভাবে মূল্য ও যোগান নিয়ন্ত্রণ করে

নিচের কোনটি সঠিক?

ক র ও রর      ● র ও ররর      গ রর ও ররর      ঘ র, রর ও ররর

১৯২. একচেটিয়া প্রতিযোগিতামূলক বাজারে প্রতি ফার্মের চাহিদা রেখার আকৃতি এক রকম হয় না, কারণ— (উচ্চতর দক্ষতা)

র. ফার্মসমূহের উৎপাদিত দ্রব্যের পার্থক্য

রর. ভক্ত ক্রেতার পছন্দনীয়তা

ররর. সমজাতীয় পণ্যের বেচাকেনা

নিচের কোনটি সঠিক?

● র ও রর      খ র ও ররর      গ রর ও ররর      ঘ র, রর ও ররর

### অভিন্ন তথ্যভিত্তিক বহুনির্বাচনি প্রশ্নোত্তর

নিচের অনুচ্ছেদটি পড়ে ১৯৩ ও ১৯৪ নং প্রশ্নের উত্তর দাও :

সাভার জেলায় 'কেএস নেটওয়ার্ক' নামের একটি প্রতিষ্ঠান ব্রডব্যান্ড ইন্টারনেট সেবা প্রদান করে। রাসেল সম্প্রতি তাদের কাছ থেকে ইন্টারনেট কানেকশন নিতে চাইলে তারা ১০০০ টাকা দাবি করে। রাসেল খোঁজ নিয়ে জানতে পারে সাভার এলাকায় ইন্টারনেট সেবা প্রদানকারী এই একটি প্রতিষ্ঠানই আছে। ফলে রাসেল ১০০০ টাকা দিয়ে কানেকশন নিতে বাধ্য হয়।

১৯৩. 'কেএস নেটওয়ার্ক' প্রতিষ্ঠানটি কোন ধরনের বাজারকে নির্দেশ করে? (প্রয়োগ)

ক পূর্ণ প্রতিযোগিতামূলক

খ একচেটিয়া প্রতিযোগিতামূলক

● একচেটিয়া

ঘ অলিগপলি

১৯৪. এই বাজারের বৈশিষ্ট্য হলো—

(উচ্চতর দক্ষতা)

র. বিক্রেতা যোগান নিয়ন্ত্রণ করে

রর. সর্বাধিক মুনাফা অর্জিত হয়

ররর. একাধিক বিক্রেতা থাকে

নিচের কোনটি সঠিক?

● র ও রর      খ র ও ররর      গ রর ও ররর      ঘ র, রর ও ররর

নিচের অনুচ্ছেদটি পড়ে ১৯৫ ও ১৯৬ নং প্রশ্নের উত্তর দাও :

ইন্টারনেটে রকমারি ডটকম বাংলাদেশ বুকস এমন একটি সাইট যেখানে বইপ্রেমীরা বিভিন্ন ধরনের বইয়ের অর্ডার দেয়। অর্ডার অনুযায়ী সাইটের কর্তৃপক্ষ নির্দিষ্ট দামের প্রেক্ষিতে অর্ডারকারীদের নিকট বই পৌঁছে দেয়।

[বিএএফ শাহীন কলেজ, চট্টগ্রাম]

১৯৫. অনুচ্ছেদে অর্থনীতির কোন ধারণাটি পরিলক্ষিত হচ্ছে?

ক উন্নত প্রযুক্তি

খ যোগাযোগ ব্যবস্থা

● বাজার ব্যবস্থা

ঘ দাম ব্যবস্থা

১৯৬. উক্ত ধারণার ক্ষেত্রে অনুচ্ছেদে যে শর্ত পূরণ হয়েছে—

র. ক্রেতা ও বিক্রেতার উপস্থিতি

রর. একটি নির্দিষ্ট দাম

ররর. একটি নির্দিষ্ট স্থান

নিচের কোনটি সঠিক?

● র ও রর      খ র ও ররর      গ রর ও ররর      ঘ র, রর ও ররর

## ষষ্ঠ অধ্যায়

# জাতীয় আয় ও এর পরিমাপ

## সৃজনশীল প্রশ্ন

১। ঘটনা-১ :

ঘটনা-২ : মিসেস ব্রাউনী ব্রিটেনের নাগরিক। তিনি বাংলাদেশে একটি বেসরকারি সংস্থায় কর্মরত। প্রতিমাসে তিনিও তাঁর দেশে টাকা পাঠান।

ক. নিট জাতীয় আয় কাকে বলে?

খ. আয় পদ্ধতিতে কীভাবে জাতীয় আয় পরিমাপ করা হয়? বুঝিয়ে লিখ।

গ. শিহাবের অর্থ প্রেরণ আমাদের জাতীয় আয় পরিমাপে কীভাবে সম্পৃক্ত হয়? ব্যাখ্যা কর।

ঘ. মিসেস ব্রাউনীর আয় কি বাংলাদেশের জাতীয় আয়কে প্রভাবিত করবে? তোমার মতামত দাও।

২। জহির তার নানাবাড়ি মধুপুরে বেড়াতে যায়। তার নানা পুকুরে মাছ চাষ করেন। জহির তার নানাবাড়ির পাশে প্রচুর গাছপালা ও জীবজন্তু দেখতে পায়। সে জানতে পারে এটি একটি বিশেষ ধরনের অঞ্চল।

ক. ঙ্গঅ-এর পূর্ণরূপ কী?

খ. মোট দেশজ উৎপাদ বলতে কী বোঝায়?

গ. জহির তার নানাবাড়ির পাশে যে অঞ্চলটি দেখতে পায় সেটি অর্থনীতির কোন খাতের অন্তর্ভুক্ত তা ব্যাখ্যা কর।

ঘ. বাংলাদেশের অর্থনীতিতে জহিরের নানার চাষকৃত মাছের অবদান পাঠ্যপুস্তকের আলোকে বিশ্লেষণ কর।

৩। “ক” দেশে এক বছরে ১ লক্ষ কুইন্টাল ধান, ২০ হাজার কুইন্টাল পাট, ১ লক্ষটি পোশাক ও ১ লক্ষটি সাবান উৎপাদিত দ্রব্যগুলোর বাজার দর নিম্নরূপ—

ধান প্রতি কুইন্টাল ১ হাজার টাকা, পাট প্রতি কুইন্টাল ১ হাজার টাকা, পোশাক প্রতিটি ১ হাজার টাকা।

ক. ঙ্গঅ-এর পূর্ণরূপ কী? ১

খ. নিট জাতীয় উৎপাদন বলতে কী বোঝায়? ২

গ. উদ্দীপকে উল্লিখিত তথ্যের ভিত্তিতে কীভাবে “ক” দেশটির মোট দেশজ উৎপাদ নিরূপণ করা যায়? ব্যাখ্যা কর। ৩

ঘ. উদ্দীপকে উল্লিখিত কোন দ্রব্যগুলোর খাত বাংলাদেশের অর্থনীতিতে অধিকতর ভূমিকা রাখে? বিশ্লেষণ কর। ৪

৪। দশম শ্রেণির ছাত্রী শিলা তার বন্ধু শুদ্ধকে বলে, সে বুঝতে পারে না কীভাবে দেশের মোট আয় হিসাব করা সম্ভব হয়। শুদ্ধ তাকে বুঝিয়ে বলে যে উৎপাদনের ৪টি উপকরণের আয় একত্রে করেই মোট আয় নির্ণয় করা সম্ভব।

ক. এউচ কী? ১

খ. মাধ্যমিক দ্রব্য বলতে কী বোঝায়? ২

গ. শুদ্ধ জাতীয় আয় হিসাবের বোধগম্যতার কথর বলে তিনি প্রতিমাসে তার আয়ের বেশ কিছু ত কর। ৩

ঘ. উদ্দীপকে উল্লিখিত পদ্ধতি ছাড়া জাতীয় আয় পরিমাপের অন্য কোনো পদ্ধতি আছে কি? যদি থাকে তাহলে সেগুলো আলোচনা কর। ৪

৫। ঘটনা-১ : রস টেলর যুক্তরাষ্ট্রের নাগরিক। তিনি বাংলাদেশের একটি বিদেশি সংস্থায় প্রায় দশ বছর ধরে কর্মরত আছেন। সম্প্রতি তিনি চাকরির পাশাপাশি এ দেশে একটি সিমেন্ট ফ্যাক্টরি স্থাপন করেছেন।

ঘটনা-২ : আফজাল বিএ পাস করার পর জীবিকার সন্ধানে সিঙ্গাপুরে পাড়ি জমান। বর্তমানে তিনি সিঙ্গাপুরের একটি কনস্ট্রাকশন ফার্মে কর্মরত আছেন। প্রতি মাসেই তিনি পরিবারের জন্য টাকা পাঠান।

ক. মোট জাতীয় আয় কী? ১

খ. মোট জাতীয় আয়ের গুরুত্ব ব্যাখ্যা কর। ২

গ. রস টেলরের আয় বাংলাদেশের মোট দেশজ উৎপাদের সাথে কীভাবে সম্পৃক্ত হয়? ব্যাখ্যা কর। ৩

ঘ. আফজালের আয় কি বাংলাদেশের মোট দেশজ উৎপাদকে প্রভাবিত করবে? পাঠ্যবইয়ের আলোকে তোমার মতামত দাও। ৪

৬। জনাব হাবিবুর রহমান বাংলাদেশের বিশিষ্ট শিল্পপতি। ঢাকায় তার একটি গার্মেন্ট ও একটি সিমেন্ট ফ্যাক্টরি আছে। এ প্রতিষ্ঠান দুটি থেকে প্রতিবছরই তিনি অনেক লাভ করেন। অবশ্য তিনি বেশিরভাগ সময়ই লন্ডনে থাকেন। সেখানে তিনি বাংলাদেশি খাবারের একটি রেস্টুরেন্ট দিয়েছেন। সেখান থেকেও তিনি প্রচুর পরিমাণে লাভবান হন।

ক. জনপ্রতি বার্ষিক আয়কে কী বলে? ১

খ. বাংলাদেশের অর্থনীতিতে কৃষিখাত অত্যন্ত গুরুত্বপূর্ণ কেন? ২

গ. জনাব হাবিবুর রহমানের আয়ের কোন অংশ বাংলাদেশের মোট দেশজ উৎপাদের অন্তর্ভুক্ত? ব্যাখ্যা কর। ৩

ঘ. বাংলাদেশের মোট জাতীয় আয় বৃদ্ধিতে জনাব হাবিবুর রহমানের কোনোরূপ ভূমিকা আছে কি? তোমার মতামত দাও। ৪

৭। অর্থনীতির শিক্ষক রেজাউল করিম দশম শ্রেণির শিক্ষার্থীদের জাতীয় আয় পরিমাপের পদ্ধতি বোঝাতে গিয়ে নিচের উদাহরণটি উপস্থাপন করেন-

হামিদ মিয়া একজন অবস্থাসম্পন্ন কৃষক। তার জমি-জমার পরিমাণও অনেক। প্রতিবছর অসংখ্য দিনমজুর তার ফসলি জমিতে শ্রম দেয়। ফসলি জমিগুলোতে চাষ করার জন্য তাকে নির্দিষ্ট পরিমাণ মূলধন বিনিয়োগ করতে হয়। আর চাষের সমস্ত কার্যক্রম পরিচালনায় তিনি একটি সংগঠকের ভূমিকা পালন করেন। এখন তার ক্ষেত্রে জাতীয় আয় পরিমাপে ভূমি, শ্রম, মূলধন ও সংগঠন থেকে প্রাপ্ত আয় বিবেচনায় আনা হবে।

ক. এউচ-এর পূর্ণরূপ কী? ১

খ. মাথাপিছু জিডিপি বলতে কী বোঝায়? ২

গ. উদ্দীপকে জাতীয় আয় পরিমাপের কোন পদ্ধতির ইঙ্গিত প্রদান করা হয়েছে? ব্যাখ্যা কর। ৩

ঘ. উদ্দীপকে ইঙ্গিতকৃত পদ্ধতিটিই জাতীয় আয় পরিমাপের একমাত্র পদ্ধতি নয়- বিশ্লেষণ কর। ৪

৮। মনে কর, 'চ' ও 'গ' দুটি প্রতিবেশী রাষ্ট্র। ২০১৪ সালে রাষ্ট্র দুটির মোট দেশজ উৎপাদ বা জিডিপি যথাক্রমে ৭,৯০,৫০,০০০ টাকা ও ৭,২৮,০০,০০০ টাকা। এই বছরে রাষ্ট্র দুটির মোট জনসংখ্যা যথাক্রমে ১,৫৫,০০০ জন ও ১,৬০,০০০ জন।

ক. এঘও-এর পূর্ণরূপ কী? ১

খ. কোনো দেশের অর্থনৈতিক অবস্থা জানতে মাথাপিছু জিডিপি জানা প্রয়োজন কেন? ২

গ. 'চ' ও 'গ' রাষ্ট্রের মাথাপিছু জিডিপি নির্ণয় কর। ৩

ঘ. 'চ' ও 'গ' রাষ্ট্রের মধ্যে কোন রাষ্ট্রটি অর্থনৈতিকভাবে উন্নত বলে তুমি মনে কর উত্তরের পক্ষে যুক্তি দাও। ৪

৯। হাকিম শেখের একটি মুরগির ফার্ম রয়েছে। প্রায় দশ বছর ধরে তিনি মুরগির ফার্মটি পরিচালনা করে আসছেন। কিন্তু সম্প্রতি এলাকায় আর পাঁচ-সাতটি মুরগির ফার্ম চালু হওয়ায় তিনি আগের মতো লাভবান হচ্ছেন না। এজন্য তিনি মুরগির ফার্ম উঠিয়ে দিয়ে গরু-ছাগলের ফার্ম দিতে চাচ্ছেন। কারণ এলাকায় গরু-ছাগলের মাত্র একটি ফার্ম রয়েছে। কিন্তু টাকা-পয়সা পর্যাপ্ত না হওয়ায় তিনি নতুন ব্যবসায় শুরু করার সাহস পাচ্ছেন না।

ক. বাংলাদেশে জাতীয় আয় গণনার দায়িত্বে নিয়োজিত প্রতিষ্ঠানটির নাম কী? ১

খ. জাতীয় আয় গণনার মূলধনী লাভ-ক্ষতির প্রভাব শূন্য কেন? ২

গ. হাকিম শেখের নতুন ব্যবসায় শুরু করার সিদ্ধান্তটি জিডিপি-এর কোন নির্ধারকটিকে নির্দেশ করে? ব্যাখ্যা কর। ৩

ঘ. মূলধনের অভাবে হাকিম শেখের নতুন ব্যবসায় শুরুর ক্ষেত্রে সৃষ্ট প্রতিবন্ধকতা কি জিডিপির ক্ষেত্রে কোনোরূপ প্রভাব ফেলে? উত্তরের পক্ষে যুক্তি দাও। ৪

১০। ঘটনা-১

ঘটনা-২ : সালমা বেগম একজন গৃহিণী। সংসারের সকল কাজ তিনি অত্যন্ত যত্নের সাথে করেন। ছেলেমেয়েদের খেয়াল রাখা, স্বামীর সেবা করা সবকিছুতেই তার নজর থাকে। তিনি এক বছর আগে বাবার কাছ থেকে পাওয়া জমিটুকু বিক্রি করে দিয়েছিলেন। সেই টাকা দিয়ে সে সময়ে তিনি বড় ছেলেকে একটি দোকান করে দিয়েছিলেন।

ক. নিট রপ্তানি কী? ১

খ. জাতীয় আয় গণনার মাধ্যমিক দ্রব্যের মূল্য হিসাব করা হয় না কেন? ২

গ. কায়সার আহমেদের আয়ের কোন অংশটুকু জাতীয় আয়ের হিসাব বহির্ভূত? ব্যাখ্যা কর। ৩

ঘ. সালমা বেগমের কাজসমূহ কি জাতীয় আয় গণনার অন্তর্ভুক্ত হবে? যুক্তিসহ আলোচনা কর। ৪

১১। ঘটনা-১

ঘটনা-২ : আলতাফ চৌধুরী বাংলাদেশের একজন বিশিষ্ট শিল্পপতি। তিনি দুটি গার্মেন্টস ফ্যাক্টরির মালিক। তার প্রতিষ্ঠান দুটিতে বহু লোক কাজ করে জীবিকা নির্বাহ করে।

ক. ঘঘচ-এর পূর্ণরূপ কী? ১

খ. মূলধন মোট দেশজ উৎপাদের একটি গুরুত্বপূর্ণ নির্ধারক কেন? ২

গ. শাকিল আহমেদ বাংলাদেশের অর্থনীতির কোন খাতের সাথে সংশ্লিষ্ট- ব্যাখ্যা কর। ৩

ঘ. আলতাফ চৌধুরীর মতো শিল্পপতিদের অবদান কেমন? পাঠ্যবইয়ে আলোচিত শিল্প খাতের আলোকে আলোচনা কর।

: কায়

: শাকিল আহমেদ

সাধারণ বহুনির্বাচনি প্রশ্নোত্তর

১. মূলধন রক্ষণাবেক্ষণ ও ক্ষতিপূরণের ব্যয়কে বলা হয়- [স. বো. '১৬]  
 ● ঘঘও খ ঙ্গঙ্গা গ এঘও ঘ ঘঘচ
২. “ক” দেশের ভৌগোলিক সীমানার মধ্যে যে পরিমাণ চূড়ান্ত দ্রব্য ও সেবা উৎপাদিত হয়, তার আর্থিক সমষ্টি হলো- [স. বো. '১৫]  
 ● মোট দেশজ আয় উৎপাদ খ মোট জাতীয় উৎপাদন  
 গ নিট জাতীয় উৎপাদন ঘ নিট জাতীয় আয়
৩. মতস্য খাতে ২০১০-২০১১ অর্থবছরে বাংলাদেশের মোট দেশজ উৎপাদন হলো- [স. বো. '১৫]  
 ক ২৪২২৩ কোটি টাকা ● ২৬৯৯৬ কোটি টাকা  
 গ ২৮১১৪ কোটি টাকা ঘ ২৯০২১ কোটি টাকা
৪. আল-আমিন বাংলাদেশের নাগরিক। বাংলাদেশের মোট জাতীয় আয় যদি ৫০০০ টাকা এবং মোট জনসংখ্যা ১০০ জন হয় তাহলে আল-আমিনের মাথাপিছু আয় কত? [কদমতলা পূর্ব বাসাবো স্কুল এন্ড কলেজ, ঢাকা]  
 ক ১০০ টাকা খ ২০০ টাকা গ ৪০০ টাকা ● ৫০ টাকা
৫. এউচ-এর বাংলা পূর্ণরূপ কী?  
 [দি বাডস রেসিডেন্সিয়াল মডেল স্কুল এন্ড কলেজ, শ্রীমঙ্গল]  
 ● মোট দেশজ উৎপাদ খ নিট দেশজ উৎপাদ  
 গ মোট জাতীয় উৎপাদ ঘ নিট জাতীয় উৎপাদ
৬. এউচ-এর পূর্ণরূপ কী? [ক্যান্টনমেন্ট হাইস্কুল, যশোর]  
 ক এড্‌ভেং উবঃবৎসরহঃঃ চৎড়ফঁপঃ  
 ● এড্‌ভেং উড্‌সবৎঃঃঃ চৎড়ফঁপঃ  
 গ উড্‌সবৎঃঃঃ এড্‌ভেং চৎড়ফঁপঃ  
 ঘ এড্‌ভেং উড্‌সবৎঃঃঃ চৎড়ফঁপঃ
৭. একটি আর্থিক বছরে কোনো দেশের নাগরিক কর্তৃক যে পরিমাণ চূড়ান্ত পর্যায়ের দ্রব্য ও সেবা উৎপন্ন হয় তার বাজার মূল্যকে কী বলে? [আজিমপুর গার্লস স্কুল এন্ড কলেজ, ঢাকা]  
 ক এউচ ● এঘও গ ঘঘচ ঘ ঘও
৮. মোট দেশজ উৎপাদের সাথে নিট উপাদান আয় যোগ করে কী পাওয়া যায়? [কদমতলা পূর্ব বাসাবো স্কুল এন্ড কলেজ, ঢাকা]  
 ক মোট জাতীয় ব্যয় ● মোট জাতীয় আয়  
 গ নিট জাতীয় আয় ঘ ব্যক্তিগত আয়
৯. ঙ্গঙ্গা বলতে নিচের কোনটিকে বোঝানো হয়? [আজিমপুর গার্লস স্কুল এন্ড কলেজ, ঢাকা]  
 ক মূলধন ব্যবহারজনিত মুনাফা খ মূলধন ব্যবহারজনিত আয়  
 ● মূলধন ব্যবহারজনিত অবচয় ব্যয় ঘ মূলধন ব্যবহারজনিত উৎপাদন
১০. কোনটি মূলধন রক্ষণাবেক্ষণ ও ক্ষতিপূরণের ব্যয়? [মাতৃপীঠ সরকারি বালিকা উচ্চ বিদ্যালয়, চাঁদপুর]  
 ক এউচ ● ঙ্গঙ্গা গ ঘঘও ঘ এঘও

১১. কোন পদ্ধতিতে চূড়ান্ত দ্রব্য ও সেবার মূল্য যোগ করে এউচ নির্ণয় করা হয়? [বালকাঠি সরকারি হরচন্দ্র বালিকা উচ্চ বিদ্যালয়]  
 ● উৎপাদন খ আয় গ ব্যয় ঘ ভোগ
১২. বাংলাদেশ পরিসংখ্যান ব্যুরো জিডিপি পরিমাপের জন্য অর্থনীতিকে কয়টি খাতে বিভক্ত করেছে? [আজিমপুর গার্লস স্কুল এন্ড কলেজ, ঢাকা]  
 ● ১৫ খ ১৬ গ ১৭ ঘ ১৮
১৩. উৎপাদন পদ্ধতিতে উৎপাদনের মূল্য নির্ধারিত হয় কীভাবে? [বিএএফ শাহীন কলেজ, চট্টগ্রাম]  
 ● খাতওয়ারি খ খাজনা অনুযায়ী  
 গ সুদ হিসেবের মাধ্যমে ঘ মজুরি অনুযায়ী
১৪. নিচের কোনটি জাতীয় আয় পরিমাপের পদ্ধতি? [বি কে জি সি বালিকা উচ্চ বিদ্যালয়, হবিগঞ্জ]  
 ক বণ্টন খ বিনিময় গ ভোগ ● আয়
১৫. সংগঠনের প্রাপ্ত আয় নিচের কোনটি? [পুলিশ লাইন হাই স্কুল এন্ড কলেজ, বগুড়া]  
 ক সুদ ● মুনাফা গ মজুরি ঘ খাজনা
১৬. ভোগ + বিনিয়োগ + সরকারি ব্যয় + নিট রপ্তানি - আমদানি = কী? [বিএএফ শাহীন কলেজ, চট্টগ্রাম]  
 ক জাতীয় আয় ● মোট দেশজ উৎপাদ  
 গ সরকারি আয় ঘ নিট রপ্তানি
১৭. আজকের উন্নত দেশসমূহে মোট দেশজ উৎপাদ বৃদ্ধির মূলে নিচের কোনটি কাজ করে? [বিএএফ শাহীন কলেজ, চট্টগ্রাম]  
 ক প্রযুক্তি ● মূলধন গ শ্রম ঘ ভূমি
১৮. অর্থনীতিতে এমন কিছু দ্রব্য ও সেবা আছে যেগুলো বাজারে কেনাবেচা হয় না সেগুলো কী ধরনের দ্রব্য? [বর্ডার গার্ড পাবলিক স্কুল, সিলেট]  
 ● অবাধলভ্য খ মাধ্যমিক গ চূড়ান্ত ঘ প্রাথমিক
১৯. কোনটি মূল্যহীন সেবা নয়? [কদমতলা পূর্ব বাসাবো স্কুল এন্ড কলেজ, ঢাকা]  
 ক মা কর্তৃক সন্তান-লালন ● নার্সের সেবা  
 গ রান্নাবান্নার কাজ ঘ বন্ধুদের গান শুনানো
২০. জিডিপি গণনার ক্ষেত্রে কোন ধরনের হিসাব মোট দেশজ উৎপাদনে অন্তর্ভুক্ত করা হয় না? [গভ. মডেল গার্লস হাইস্কুল, ব্রাহ্মণবাড়িয়া]  
 ক ভবিষ্যতে উৎপাদিত পণ্য ● অতীতের উৎপাদিত পণ্য  
 গ বর্তমানে উৎপাদিত পণ্য ঘ চূড়ান্ত উৎপাদিত পণ্য
২১. পুরাতন গাড়ি এউচ-তে অন্তর্ভুক্ত হয় না কেন? [কুষ্টিয়া সরকারি বালিকা উচ্চ বিদ্যালয়]  
 ক পূর্বেই তৈরি বলে ● দৈত গণনা হবে বলে  
 গ বর্তমানে উৎপাদিত পণ্য ঘ চূড়ান্ত উৎপাদিত পণ্য
২২. বাংলাদেশ পরিসংখ্যান ব্যুরো এউচ ও এঘও গণনা করার ক্ষেত্রে কোন পদ্ধতি ব্যবহার করে? [লায়ন স্কুল এন্ড কলেজ]  
 ● উৎপাদন ও ব্যয় খ উৎপাদন ও আয়  
 গ আয় ও ব্যয় ঘ বিনিয়োগ ও ব্যয়

## বহুপদী সমাপ্তিসূচক বহুনির্বাচনি প্রশ্নোত্তর

২৩. মোট দেশজ উৎপাদ হিসেবের সময়ে বিবেচনায় আনতে হবে—  
[বি এ এফ শাহীন কলেজ, চট্টগ্রাম]

- র. ভৌগোলিক সীমানা                      রর. নির্দিষ্ট সময়
- ররর. প্রবাসীদের অর্জিত আয়
- নিচের কোনটি সঠিক?
- র ও রর                      খ র ও ররর                      গ রর ও রর                      ঘ র, রর ও ররর

২৪. মাথাপিছু আয় সূচক দ্বারা সহজেই পরিমাপ করা যায়—  
[বি. কে. জি. সি. সরকারি বালিকা উচ্চ বিদ্যালয়, হবিগঞ্জ]

- র. দেশটি উন্নত                      রর. দেশটি অনুন্নত
- ররর. দেশটি উন্নয়নশীল
- নিচের কোনটি সঠিক?
- ক র ও রর                      খ র ও ররর                      গ রর ও ররর                      ● র, রর ও ররর

২৫. মোট দেশজ উৎপাদনের হিসাববহির্ভূত বিষয়ের মধ্যে অন্যতম হলো—  
[আর্মড পুলিশ ব্যাটালিয়ন স্কুল]

- র. মূলধনী লাভ ক্ষতি                      রর. মাধ্যমিক দ্রব্য ও সেবা
- ররর. মূল্যহীন দ্রব্য ও সেবা
- নিচের কোনটি সঠিক?
- ক র ও রর                      খ র ও ররর                      গ রর ও ররর                      ● র, রর ও ররর

## অভিন্ন তথ্যভিত্তিক বহুনির্বাচনি প্রশ্নোত্তর

নিচের অনুচ্ছেদটি পড়ে ২৬ ও ২৭ নং প্রশ্নের উত্তর দাও :

লালু মিয়া একটি কারখানার মালিক। তিনি কারখানার আয়-ব্যয় হিসাব করার সময় প্রাথমিক ও মাধ্যমিক উভয় পণ্য বিবেচনা করেন। এতে তাঁর প্রকৃত আয় হিসাব করতে সমস্যা হয়। [স. বো. '১৫]

২৬. লালু মিয়ার হিসাবের ক্ষেত্রে কী সমস্যা হয়?  
ক মূলধন বেশি হয়                      খ মূলধনের ঘাটতি হয়
- দ্বৈত গণনা হয়                      ঘ প্রকৃত আয় কম হয়
২৭. লালু মিয়া উক্ত সমস্যা সমাধান করতে যে পদ্ধতি অনুসরণ করতে পারেন, তা হলো—  
র. চূড়ান্ত উৎপাদন পদ্ধতি
- রর. আয় ও ব্যয় পদ্ধতি
- ররর. মূল্য সংযোজন পদ্ধতি
- নিচের কোনটি সঠিক?
- র ও রর                      খ র ও ররর                      গ রর ও ররর                      ঘ র, রর ও ররর

নিচের অনুচ্ছেদটি পড়ে ২৮ ও ২৯ নং প্রশ্নের উত্তর দাও :

আলম 'অ' দেশের নাগরিক। লেখাপড়া শেষ করে সে 'ই' দেশে চলে যায়। 'ই' দেশে চাকরি করে আলম প্রচুর বৈদেশিক মুদ্রা 'অ' দেশে পাঠায়। [মাতৃপীঠ সরকারি বালিকা উচ্চ বিদ্যালয়, চাঁদপুর]

২৮. আলমের পাঠানো অর্থ নিচের কোনটির সাথে যুক্ত হবে?  
● এঘণ্ড                      খ এউচ                      গ ঙ্গঙ                      ঘ ঘঘচ

২৯. আলমের পাঠানো অর্থ অ দেশের—  
র. এঘণ্ড বৃদ্ধি করবে

রর. মাথাপিছু আয় হ্রাস করবে

ররর. ঘঘচ বৃদ্ধি করবে

নিচের কোনটি সঠিক?

- ক র ও রর                      ● র ও ররর                      গ রর ও ররর                      ঘ র, রর ও ররর

নিচের অনুচ্ছেদটি পড়ে ৩০ ও ৩১ নং প্রশ্নের উত্তর দাও :

সালমা ইসলাম একটি কমপ্লেক্স ফ্যাক্টরির মালিক। তার ফ্যাক্টরিতে বাজার থেকে তুলা ক্রয় করে এনে প্রথমে সুতা তৈরি করা হয়। অতঃপর পর্যায়ক্রমে ঐ সুতা দ্বারা কাপড় ও পাঞ্জাবি বানানো হয় এবং প্রতি পাঞ্জাবি ২০০ টাকা করে বিক্রি করা হয়।

৩০. সালমা ইসলামের ফ্যাক্টরিতে তৈরি সুতাকে কোন পর্যায়ের দ্রব্য বলা যায়?  
ক প্রাথমিক                      ● মাধ্যমিক                      গ কাঁচামাল                      ঘ চূড়ান্ত

৩১. উক্ত পাঞ্জাবির দামের মধ্যেই অন্তর্ভুক্ত হয়েছে—  
র. তুলার দাম

রর. সুতার দাম

ররর. কাপড়ের দাম

নিচের কোনটি সঠিক?

- ক র ও রর                      খ র ও ররর                      গ রর ও ররর                      ● র, রর ও ররর

নিচের অনুচ্ছেদটি পড়ে ৩২ ও ৩৩ নং প্রশ্নের উত্তর দাও :

মি. রতন অ্যাপারেল ফ্যাক্টরির মালিক। তার ফ্যাক্টরিতে বাজার থেকে তুলা ক্রয় করে এনে প্রথমে সুতা তৈরি করা হয় অতঃপর পর্যায়ক্রমে ঐ সুতা দ্বারা কাপড় ও শার্ট-প্যান্ট বানানো হয় এবং প্রতিটি শার্ট ও প্যান্ট ২৫০০ টাকা করে বিক্রি করা হয়। [নারায়ণগঞ্জ সরকারি বালিকা উচ্চ বিদ্যালয়; বরিশাল সরকারি বালিকা বিদ্যালয়]

৩২. মি. রতনের ফ্যাক্টরিতে তুলা কোন পর্যায়ের দ্রব্য বলা যায়?  
● প্রাথমিক                      খ মাধ্যমিক                      গ কাঁচামাল                      ঘ চূড়ান্ত

৩৩. জাতীয় আয় গণনার সময় বাদ দিতে হয়—  
র. তুলার দাম

রর. সুতার দাম

ররর. কাপড়ের দাম

নিচের কোনটি সঠিক?

- র ও রর                      খ র ও ররর                      গ রর ও ররর                      ঘ র, রর ও ররর

## ■ বিষয়ক্রম অনুযায়ী বহুনির্বাচনি প্রশ্নোত্তর



- র ও রর      খ র ও ররর      গ রর ও ররর      ঘ র, রর ও ররর
৪৮. এউচ-এর মধ্যে অন্তর্ভুক্ত হয় হবে? (উচ্চতর দক্ষতা)  
 র. দেশে অবস্থানরত বিদেশিদের আয়  
 রর. প্রবাসে অবস্থানরত নাগরিকদের আয়  
 ররর. দেশে অবস্থানরত নাগরিকদের আয়  
 নিচের কোনটি সঠিক?  
 ক র ও রর      ● র ও ররর      গ রর ও ররর      ঘ র, রর ও ররর
৪৯. এঘও-এর মধ্যে অন্তর্ভুক্ত হবে (উচ্চতর দক্ষতা)  
 র. দেশের নাগরিকদের আয়  
 রর. বিদেশিদের আয়  
 ররর. নিট উপাদান আয়  
 নিচের কোনটি সঠিক?  
 ক র ও রর      ● র ও ররর      গ রর ও ররর      ঘ র, রর ও ররর

৫০. হাসিব বাংলাদেশের এউচ নির্ণয় করতে চায়। এক্ষেত্রে তাকে বিবেচনায় আনতে হবে— (প্রয়োগ)  
 র. দেশের অভ্যন্তরে উৎপাদিত দ্রব্য ও সেবা  
 রর. দেশের সকল নাগরিকের আয়  
 ররর. এক আর্থিক বছর সময়কাল  
 নিচের কোনটি সঠিক?  
 ক র ও রর      ● র ও ররর      গ রর ও ররর      ঘ র, রর ও ররর

### অভিন্ন তথ্যভিত্তিক বহুনির্বাচনি প্রশ্নোত্তর

নিচের অনুচ্ছেদটি পড়ে ৫১ ও ৫২ নং প্রশ্নের উত্তর দাও :

মিলন পড়াশোনার জন্য বাংলাদেশ ছেড়ে ইতালিতে পাড়ি জমায়। সেখানে পড়াশোনা শেষ করে মিলন। একটি বিশ্ববিদ্যালয়ে প্রভাষক হিসেবে চাকরি নেয়। প্রতি মাসেই সে তার মায়ের নামে ইতালি থেকে টাকা পাঠায়।

৫১. মিলনের পাঠানো অর্থ নিচের কোনটির অন্তর্ভুক্ত? (প্রয়োগ)  
 ক এউচ      ● এঘও      গ ঘঘচ      ঘ ঙ্গঙ্ঞ

৫২. মিলনের পাঠানো অর্থ বাংলাদেশের— (উচ্চতর দক্ষতা)  
 র. মোট জাতীয় আয় বৃদ্ধি করবে

রর. অর্থনৈতিক উন্নয়ন ত্বরান্বিত করবে

ররর. এউচ-এর পরিমাণ বৃদ্ধি করবে

নিচের কোনটি সঠিক?

- র ও রর      খ র ও ররর      গ রর ও ররর      ঘ র, রর ও ররর

নিচের অনুচ্ছেদটি পড়ে ৫৩ ও ৫৪ নং প্রশ্নের উত্তর দাও :

দশম শ্রেণির শিক্ষার্থী আনিকা শ্রেণিশিক্ষকের দেয়া উপাত্ত ব্যবহার করে বাংলাদেশের এউচ হিসাব করতে চাচ্ছে। শিক্ষকের দেয়া উপাত্তের মধ্যে দেশে অবস্থানরত বিদেশি নাগরিকদের আয়ও অন্তর্ভুক্ত হয়েছে দেখে সে অবাক হয়।

৫৩. আনিকা নিচের কোনটি হিসাব করতে চাচ্ছে? (প্রয়োগ)  
 ক মোট জাতীয় আয়      খ নিট জাতীয় উৎপাদ

- মোট দেশজ উৎপাদ      ঘ অবচয় ব্যয়

৫৪. এউচ হিসাবের ক্ষেত্রে আনিকাকে বিবেচনায় আনতে হবে— (উচ্চতর দক্ষতা)  
 র. নির্দিষ্ট ভৌগোলিক সীমানা

রর. প্রবাসী বাংলাদেশিদের আয়

ররর. নির্দিষ্ট সময়

নিচের কোনটি সঠিক?

- ক র ও রর      ● র ও ররর      গ রর ও ররর      ঘ র, রর ও ররর

### ৬.২ : জাতীয় আয় পরিমাপ পদ্ধতিসমূহ-উৎপাদন, আয় ও ব্যয় পদ্ধতি ➔

- জাতীয় আয় পরিমাপ করা যায়— ৩ ভাবে।
- উৎপাদন কার্যে ব্যবহৃত উপকরণসমূহ হতে প্রাপ্ত আয়ের সমষ্টিকে বলে— আয় পদ্ধতি।
- আয় পদ্ধতিতে জাতীয় আয়— খাজনা + মজুরি + সুদ + মুনাফা।
- বাংলাদেশের অর্থনীতিকে বিভক্ত করা হয়— ১৫টি খাতে।
- একটি নির্দিষ্ট সময়ের সমাজের সব ধরনের ব্যয়ের সমষ্টি দিয়ে জাতীয় আয় নির্ধারণ করাকে— ব্যয় পদ্ধতি বলে।

### সাধারণ বহুনির্বাচনি প্রশ্নোত্তর

৫৫. জাতীয় আয় পরিমাপের পদ্ধতি কয়টি? (জ্ঞান)  
 ক ৫      খ ৬      গ ৭      ● ৩

৫৬. বাংলাদেশের অর্থনীতির খাতসমূহের কিসের মূল্য যোগ করে মোট দেশজ উৎপাদ হিসাব করা হয়? (অনুধাবন)  
 ক বিনিয়োগের      ● উৎপাদনের      গ কাঁচামালের      ঘ বাণিজ্যের

৫৭. আয় পদ্ধতিতে জাতীয় আয় হিসাবের জন্য বিবেচনায় আনতে হয়— (উচ্চতর দক্ষতা)  
 ● উৎপাদনে ব্যবহৃত উপকরণসমূহের প্রাপ্ত আয়ের সমষ্টিকে

খ উৎপাদনে ব্যবহৃত কাঁচামালসমূহের মোট খরচকে

গ উৎপাদনে ব্যবহৃত জনবলের জন্য ব্যয়িত খরচকে

ঘ উৎপাদনে ব্যবহৃত মূলধনের মোট পরিমাণকে

৫৮. উৎপাদন ক্ষেত্রে ব্যবহৃত মৌলিক উপকরণ কয়টি? (জ্ঞান)  
 ক ২      খ ৩      ● ৪      ঘ ৫

৫৯. নিচের কোনটি উৎপাদনের মৌলিক উপকরণ? (জ্ঞান)  
 ● সংগঠন      খ মজুরি      গ সুদ      ঘ মুনাফা

৬০. ভূমির প্রাপ্ত আয় কোনটি? (জ্ঞান)  
ক মজুরি ● খাজনা গ মুনাফা ঘ সুদ
৬১. জাতীয় আয় = উৎপাদন কাজে ব্যবহৃত উপকরণসমূহের প্রাপ্ত আয়ের সমষ্টি। সূত্রটি কোন পদ্ধতিকে নির্দেশ করে? (প্রয়োগ)  
ক ব্যয় ● আয় গ উৎপাদন ঘ বিনিয়োগ
৬২. খাজনা + মজুরি + সুদ + মুনাফা = কী? (উচ্চতর দক্ষতা)  
ক জাতীয় ব্যয় খ জাতীয় উৎপাদ  
● জাতীয় আয় ঘ বক্তিগত আয়
৬৩. শ্রমের প্রাপ্ত আয় কোনটি? (জ্ঞান)  
ক খাজনা ● মজুরি গ সুদ ঘ মুনাফা
৬৪. মূলধনের প্রাপ্ত আয় কোনটি? (জ্ঞান)  
ক মজুরি খ খাজনা ● সুদ ঘ মুনাফা
৬৫. কোনো নির্দিষ্ট সময়ে সমাজের সব ধরনের ব্যয়ের সমষ্টিকে বিবেচনায় আনা হয় জাতীয় আয় পরিমাপের কোন পদ্ধতিতে? (অনুধাবন)  
ক আয় ● ব্যয় গ উৎপাদন ঘ বিনিয়োগ
৬৬. রাতুল বাংলাদেশের জাতীয় আয় পরিমাপে ব্যয় পদ্ধতি অনুসরণ করতে চায়। এক্ষেত্রে তাকে বিবেচনায় আনতে হবে সমাজের সব ধরনের- (প্রয়োগ)  
ক আয়ের যোগফল খ ভোগের যোগফল  
গ বিনিয়োগের যোগফল ● ব্যয়ের যোগফল
৬৭. কোনো একটি দেশের সকল অর্থনৈতিক খাতের উৎপাদনের মূল্য যোগ করে কী পাওয়া যায়? (উচ্চতর দক্ষতা)  
ক মোট জাতীয় আয় খ নিট জাতীয় আয়  
গ মোট দেশজ আয় ● মোট দেশজ উৎপাদ
৬৮. জাতীয় আয় পরিমাপের ব্যয় পদ্ধতি অনুসারে নিচের কোনটি সঠিক? (উচ্চতর দক্ষতা)  
ক  $গ = ঙ + ও + এ (ঢ + গ)$  ●  $গ = ও + ঙ + এ (ঢ - গ)$   
গ  $গ = ও + ঙ + এ (ঢ + গ)$  ঘ  $গ = ঙ + ও + এ (ঢগ)$
৬৯. ব্যয় পদ্ধতিতে নিট রপ্তানিকে নিচের কোন সূত্র দ্বারা প্রকাশ করা যায়? (জ্ঞান)  
●  $ঢ - গ$  খ  $গ - ঢ$  গ  $ঢ + গ$  ঘ  $ঢ ÷ গ$

### বহুপদী সমাপ্তিসূচক বহুনির্বাচনি প্রশ্নোত্তর

৭০. বিভিন্ন পদ্ধতিতে জাতীয় আয় পরিমাপে কিছুটা পার্থক্য হতে পারে- (উচ্চতর দক্ষতা)  
র. হিসাবের ত্রুটির কারণে  
রর. গণনার বিচ্যুতির কারণে  
ররর. পদ্ধতিগত ভিন্নতার কারণে  
নিচের কোনটি সঠিক?  
● র ও রর খ র ও ররর গ রর ও ররর ঘ র, রর ও ররর
৭১. সমাজের মোট ব্যয়ের অন্তর্ভুক্ত হলো- (অনুধাবন)  
র. ব্যক্তি খাতের ভোগ ব্যয়  
রর. সরকারি ব্যয় ও নিট রপ্তানি

ররর. সরকারি নিট আমদানি

নিচের কোনটি সঠিক?

● রর খ র ও ররর গ রর ও ররর ঘ র, রর ও ররর

৭২. জাতীয় আয় পরিমাপের জন্য আয় পদ্ধতিতে বিবেচনা করা হয়- (উচ্চতর দক্ষতা)

র. ভূমি থেকে প্রাপ্ত আয়

রর. শ্রম থেকে প্রাপ্ত আয়

ররর. সংগঠন থেকে প্রাপ্ত আয়

নিচের কোনটি সঠিক?

ক র ও রর খ র ও ররর গ রর ও ররর ● র, রর ও ররর

৭৩. ব্যয় পদ্ধতিতে জাতীয় আয় গণনায় নিট রপ্তানি নির্ণয়ে ব্যবহৃত সূত্র- (অনুধাবন)

র. রপ্তানি-আমদানি

রর. আমদানি-রপ্তানি

ররর. ঢ-গ

নিচের কোনটি সঠিক?

ক র ও রর ● র ও ররর গ রর ও ররর ঘ র, রর ও ররর

৭৪. শাকিরা বাংলাদেশের মোট জাতীয় আয় পরিমাপের জন্য ব্যয় পদ্ধতি ব্যবহার করতে চায়। এক্ষেত্রে তাকে বিবেচনায় আনতে হবে- (প্রয়োগ)

র. সমাজের সব ধরনের ব্যয়ের যোগফল

রর. সমাজের সব ধরনের আয়ের যোগফল

ররর. সমাজের সব ধরনের উৎপাদনের যোগফল

নিচের কোনটি সঠিক?

● র খ রর ও ররর গ রর ঘ র, রর ও ররর

৭৫. উৎপাদনের ক্ষেত্রে ব্যবহৃত মৌলিক উপকরণসমূহের জন্য প্রযোজ্য- (অনুধাবন)

র. ভূমির প্রাপ্ত আয় খাজনা

রর. মূলধনের প্রাপ্ত আয় মুনাফা

ররর. শ্রমের প্রাপ্ত আয় মজুরি

নিচের কোনটি সঠিক?

ক র ও রর ● র ও ররর খ রর ও ররর ঘ র, রর ও ররর

### অভিন্ন তথ্যভিত্তিক বহুনির্বাচনি প্রশ্নোত্তর

নিচের অনুচ্ছেদটি পড়ে ৭৬ ও ৭৭ নং প্রশ্নের উত্তর দাও :

দশম শ্রেণির শিক্ষার্থী আরিফা বাংলাদেশের মোট দেশজ উৎপাদ নির্ণয়ের জন্য নিচের সূত্রটি ব্যবহার করে।  $গ = ঙ + ও + এ(ঢ - গ)$

৭৬. আরিফা নিচের কোন পদ্ধতিটি ব্যবহার করেছে? (প্রয়োগ)

ক আয় ● ব্যয় গ উৎপাদন ঘ বিনিয়োগ

৭৭. আরিফা মোট দেশজ উৎপাদ নির্ণয়ে বিবেচনায় এনেছে- (প্রয়োগ)



র. নিট রপ্তানি

রর. সরকারি আয়

ররর. ব্যক্তি খাতের ভোগব্যয়

নিচের কোনটি সঠিক?

ক র ও রর      ● র ও ররর      খ রর ও ররর      ঘ র, রর ও ররর

নিচের অনুচ্ছেদটি পড়ে ৭৮ ও ৭৯ নং প্রশ্নের উত্তর দাও :

মোহনডাঙ্গা সরকারি উচ্চ বিদ্যালয়ের দশম শ্রেণির অর্থনীতির শিক্ষক আলতাফ হোসেনের শিক্ষার্থীদের জাতীয় আয় পরিমাপের পদ্ধতি সম্পর্কে শেখাচ্ছেন। প্রথমে তিনি যে সূত্রটি ব্যবহার করলেন সেটি হলো, জাতীয় আয় = খাজনা + মজুরি + সুদ + মুনাফা। দ্বিতীয় পদ্ধতিটি শেখাতে গিয়ে তিনি কোনো নির্দিষ্ট সময়ে সমাজের সবধরনের ব্যয়ের যোগফল নির্ণয়ের ওপর শিক্ষার্থীদের গুরুত্ব দিতে বললেন।

৭৮. আলতাফ হোসেনের দ্বিতীয় পদ্ধতিটি জাতীয় আয় পরিমাপের কোন পদ্ধতিকে নির্দেশ করে? (প্রয়োগ)  
ক আয়      খ উৎপাদন      ● ব্যয়      ঘ বিনিয়োগ

৭৯. আলতাফ হোসেনের অনুসৃত প্রথম পদ্ধতির ক্ষেত্রে বিবেচ্য হলো- (উচ্চতর দক্ষতা)  
র. সংগঠন থেকে প্রাপ্ত আয়

রর. ভূমি থেকে প্রাপ্ত আয়

ররর. নিট আমদানি আয়

নিচের কোনটি সঠিক?

● র ও রর      খ র ও ররর      খ রর ও ররর      ঘ র, রর ও ররর

➔ ৬.৩ : মাথাপিছু মোট দেশজ উৎপাদ

- মাথাপিছু এউচ বলতে— জনপ্রতি বার্ষিক এউচ কে বোঝায়।
- কোনো নির্দিষ্ট আর্থিক বছরে দেশের মোট উৎপাদনকে ঐ দেশের মোট জনসংখ্যা দ্বারা ভাগ করলে— মাথাপিছু দেশজ উৎপাদ পাওয়া যায়।
- মাথাপিছু আয় =  $\frac{\text{কোনো নির্দিষ্ট বছরে মোট দেশজ উৎপাদ}}{\text{ঐ সময়ে মোট জনসংখ্যা}}$
- ভূমি, শ্রম, মূলধন হলো— দেশজ উৎপাদের নির্ধারক।
- একটি দেশ উন্নত না অনুন্নত তা বোঝা যায়— মাথাপিছু জিডিপি দ্বারা।

সাধারণ বহুনির্বাচনি প্রশ্নোত্তর

৮০. মাথাপিছু জিডিপি বলতে কী বোঝায়? (অনুধাবন)  
● জনপ্রতি বার্ষিক জিডিপিকে      খ মোট জিডিপিকে

গ মোট জাতীয় আয়কে      ঘ নিট আয়কে

৮১. আতিক বাংলাদেশের মাথাপিছু এউচ নির্ণয় করতে চায়। এক্ষেত্রে তাকে নিচের কোনটি বিবেচনায় আনতে হবে? (প্রয়োগ)  
● কোনো নির্দিষ্ট আর্থিক বছর      খ মোট দেশজ আয়

গ সমাজের মোট ব্যয়

ঘ মূলধন ব্যবহারজনিত অবচয় ব্যয়

৮২. মাথাপিছু জিডিপি বের করতে হলে কোনো নির্দিষ্ট বছরের দেশজ উৎপাদকে কী দিয়ে ভাগ করতে হয়? (অনুধাবন)  
ক ঐ সময়ের ব্যয়কৃত অর্থ      খ ঐ সময়ের ব্যবহৃত মূলধন

গ ঐ সময়ে উৎপাদিত পণ্য      ● ঐ সময়ের মোট জনসংখ্যা

৮৩. মাথাপিছু আয় কীভাবে নির্ণয় করা যায়? (অনুধাবন)  
ক এউচ-কে এঘও দ্বারা ভাগ করে

● এউচ-কে মোট জনসংখ্যা দ্বারা ভাগ করে

গ এউচ-কে ঘঘচ দ্বারা ভাগ করে

ঘ এউচ-কে মোট শ্রম ব্যয় দ্বারা ভাগ করে

৮৪. কোনো দেশের মোট দেশজ উৎপাদকে মোট জনসংখ্যা দিয়ে ভাগ করলে কী পাওয়া যায়? (জ্ঞান)

● মাথাপিছু এউচ      খ মাথাপিছু এঘও

গ মাথাপিছু এঘচ      ঘ মাথাপিছু ঙঙঅ

৮৫. মাথাপিছু মোট দেশজ উৎপাদ নির্ণয়ের সূত্র কোনটি? (অনুধাবন)  
ক  $\frac{\text{এউচ}}{\text{ঙঙঅ}}$       ঘ  $\frac{\text{এউচ}}{\text{মোট দেশজ আয়}}$

●  $\frac{\text{এউচ}}{\text{মোট জনসংখ্যা}}$       ঘ  $\frac{\text{এউচ}}{\text{ঘঘঅ}}$

৮৬. একটি দেশের উন্নয়ন ও জীবনযাত্রার মানের প্রধান সূচক কোনটি? (জ্ঞান)  
ক এঘও      খ ঘঘচ      ● এউচ      ঘ ঙঙঅ

৮৭. একটি দেশ কতটুকু উন্নত তা বোঝা যায় কিসের মাধ্যমে? (অনুধাবন)  
ক মাথাপিছু এঘও থেকে      খ মাথাপিছু এঘচ থেকে

● মাথাপিছু এউচ থেকে      ঘ মাথাপিছু ঘঘচ থেকে

৮৮. একটি দেশের মাথাপিছু জিডিপি বেশি হলে দেশটি হবে— (অনুধাবন)  
ক অনুন্নত      খ উন্নয়নশীল      ● উন্নত      ঘ খুবই অনুন্নত

বহুপদী সমাপ্তিসূচক বহুনির্বাচনি প্রশ্নোত্তর

৮৯. কোনো দেশের মাথাপিছু এউচ একটি নির্দিষ্ট স্তরের কম হলে দেশটি হতে পারে— (অনুধাবন)  
র. অনুন্নত      রর. উন্নত

ররর. উন্নয়নশীল

নিচের কোনটি সঠিক?

ক র ও রর      ● র ও ররর      গ রর ও ররর      ঘ র, রর ও ররর

৯০. মাথাপিছু মোট দেশজ উৎপাদ হিসেবে সময় বিচেনায় আনতে হয়— (অনুধাবন)  
র. কোনো নির্দিষ্ট আর্থিক বছর      রর. মোট দেশজ উৎপাদ

ররর. মোট জনসংখ্যা

নিচের কোনটি সঠিক?

ক র ও রর      খ র ও ররর      গ রর ও ররর      ● র, রর ও ররর

৯১. কোনো দেশের মাথাপিছু জিডিপি দ্বারা বোঝা যায় দেশটির— (অনুধাবন)  
র. অর্থনৈতিক অবস্থা রর. মোট জাতীয় আয়

ররর. জীবনযাত্রার মান

নিচের কোনটি সঠিক?

ক র ও রর ● র ও ররর গ রর ও ররর ঘ র, রর ও ররর

৯২. মাথাপিছু মোট দেশজ উৎপাদ হলো একটি দেশের— (অনুধাবন)  
র. অর্থনৈতিক উন্নয়নের সূচক

রর. জীবনযাত্রার মানের সূচক

ররর. বৈদেশিক বাণিজ্যের সূচক

নিচের কোনটি সঠিক?

● র ও রর খ র ও ররর গ রর ও ররর ঘ র, রর ও ররর

### অভিন্ন তথ্যভিত্তিক বহুনির্বাচনি প্রশ্নোত্তর

নিচের অনুচ্ছেদটি পড়ে ৯৩ ও ৯৪ নং প্রশ্নের উত্তর দাও :

সোহান দশম শ্রেণির ছাত্র। শিক্ষক তাকে কিছু তথ্য-উপাত্ত দিয়েছেন এবং সেগুলো ব্যবহার করে জনপ্রতি মোট দেশজ উৎপাদ নির্ণয় করতে বলেছেন। সোহান শিক্ষকের নির্দেশনা অনুযায়ী জনপ্রতি মোট দেশজ উৎপাদ নির্ণয় করে এবং বুঝতে পারে যে তা একটি অনুন্নত বা উন্নয়নশীল দেশকে নির্দেশ করেছে।

৯৩. সোহান মূলত নিচের কোনটি নির্ণয় করেছে? (প্রয়োগ)

● মাথাপিছু এউচ খ মাথাপিছু এঘও  
গ মাথাপিছু ঘঘচ ঘ মাথাপিছু ঙ্গঅ

৯৪. জনপ্রতি মোট দেশজ উৎপাদ নির্ণয়ে সোহানের ব্যবহৃত উপাত্তের মধ্যে রয়েছে— (উচ্চতর দক্ষতা)

র. মোট জনসংখ্যা রর. মোট দেশজ উৎপাদ

ররর. স্বল্পকালীন সময়

নিচের কোনটি সঠিক?

● র ও রর খ র ও ররর গ রর ও ররর ঘ র, রর ও ররর

### ➔ ৬.৪ : জিডিপি-এর নির্ধারকসমূহ

- গড়নরঘরু শব্দের অর্থ— সচলতা।
- এউচ-এর নির্ধারক হলো— ৫টি।
- ভূমি ও প্রাকৃতিক সম্পদ— মোট দেশজ উৎপাদে গুরুত্বপূর্ণ নির্ধারক।
- মোট দেশজ উৎপাদের বৃদ্ধির মৌলিক নির্ধারক হলো— মূলধন।
- উন্নয়নশীল ও অনুন্নত দেশসমূহ মোট জাতীয় আয় বৃদ্ধি করতে পারে না— মূলধনের অভাবে।
- মোট দেশজ উৎপাদ বহুলাংশে নির্ভর করে— প্রযুক্তির ওপর।

### সাধারণ বহুনির্বাচনি প্রশ্নোত্তর

৯৫. ভূমি, শ্রম, মূলধন, প্রযুক্তি, সম্পদের সচলতা এগুলো কিসের নির্ধারক? (জ্ঞান)  
● জিডিপির খ জিএনপির

গ এনএনপির ঘ সিসিএর

৯৬. জিডিপি বৃদ্ধির জন্য সহায়ক হলো— (অনুধাবন)

ক ট্রেড ইউনিয়ন খ শ্রমিক সমিতি

গ উচ্চাভিলাষী শ্রমিক ● দক্ষ ও কর্মক্ষম শ্রমিক

৯৭. বাংলাদেশের মতো উন্নয়নশীল দেশসমূহ কিসের অভাবে মোট জাতীয় আয় বৃদ্ধির ক্ষেত্রে প্রতিবন্ধকতার সম্মুখীন হয়? (প্রয়োগ)

ক শ্রম ● মূলধন গ প্রযুক্তি ঘ সচলতা

৯৮. কৃষি পণ্য উৎপাদনের জন্য প্রধানত কিসের পর্যাণ্ডতা থাকলে মোট দেশজ উৎপাদ বৃদ্ধি পায়? (জ্ঞান)

● উর্বর ভূমি খ প্রাকৃতিক সার

গ রাসায়নিক সার ঘ উন্নত বীজ

৯৯. পাট চাষ কমিয়ে ধান উৎপাদন জিডিপি কোন নির্ধারককে নির্দেশ করে? (অনুধাবন)

ক শ্রম ● সচলতা গ প্রযুক্তি ঘ মূলধন

১০০. কোনো দেশের মোট দেশজ উৎপাদের পরিমাণ কয়টি বিষয়ের ওপর নির্ভর করে? (জ্ঞান)

ক ২ খ ৩ গ ৪ ● ৫

১০১. কোনো দেশের মোট দেশজ উৎপাদ বৃদ্ধির জন্য করণীয় কী? (উচ্চতর দক্ষতা)

ক শ্রমমূল্য অধিক হারে কমাতে হবে

● প্রাকৃতিক সম্পদের যথার্থ ব্যবহার করতে হবে

গ প্রযুক্তির ব্যবহার সীমাবদ্ধ করতে হবে

ঘ বৈদেশিক বাণিজ্য কমাতে হবে

১০২. মোট দেশজ উৎপাদ বৃদ্ধির গুরুত্বপূর্ণ মৌলিক নির্ধারক কোনটি? (জ্ঞান)

ক শ্রম খ প্রযুক্তি

● মূলধন ঘ সচলতা

১০৩. প্রসারমান অর্থনৈতিক কার্যকলাপে সম্পদ ব্যবহারের ক্ষমতাকে কী বলে? (অনুধাবন)

● সম্পদের সচলতা খ সম্পদের স্থিরতা

গ সম্পদের উপযোগিতা ঘ সম্পদের বিনিময়যোগ্যতা

১০৪. দক্ষ জনশক্তি দেশের জিডিপির ক্ষেত্রে কী ভূমিকা রাখবে? (অনুধাবন)

● দেশজ উৎপাদ বৃদ্ধিতে সহায়ক হবে

খ দেশজ উৎপাদে কোনো ভূমিকা রাখবে না

গ দেশজ উৎপাদ কমিয়ে দেবে

ঘ মূলধনী ক্ষতি কমিয়ে দেবে

১০৫. উন্নত জাতের বীজ ব্যবহার করে কুমড়ার উৎপাদন বাড়ানো জিডিপি কোন নির্ধারকটিকে নির্দেশ করে? (অনুধাবন)

ক সচলতা খ শ্রম ● প্রযুক্তি ঘ মূলধন

১০৬. অবনতিশীল অর্থনৈতিক কার্যকলাপ থেকে সম্পদ সরিয়ে নেওয়া জিডিপির কোন নির্ধারকের বৈশিষ্ট্যকে নির্দেশ করে? (উচ্চতর দক্ষতা)  
ক ভূমির খ শ্রমের ● সচলতার ঘ মূলধনের

১০৭. বাংলাদেশে পাঠ চাষের পরিমাণ হ্রাস পেয়েছে কেন? (অনুধাবন)  
ক উপযুক্ত পরিবেশের অভাবে

● অবনতিশীল অর্থনৈতিক খাত হওয়ায়

গ বিশ্ববাজার চাহিদা হ্রাস পাওয়ায়

ঘ উপযুক্ত কৃষি উপকরণের অভাবে

### বহুপদী সমাপ্তিসূচক বহুনির্বাচনি প্রশ্নোত্তর

১০৮. মোট দেশজ উৎপাদ বৃদ্ধির জন্য প্রয়োজন— (উচ্চতর দক্ষতা)  
র. প্রাকৃতিক সম্পদের যথার্থ ব্যবহার

রর. উর্বর ভূমির পর্যাপ্ততা

ররর. প্রযুক্তিগত উন্নয়ন

নিচের কোনটি সঠিক?

ক র ও রর খ র ও ররর গ রর ও ররর ● র, রর ও ররর

১০৯. অনুন্নত দেশসমূহ মূলধনের অভাবের কারণে বৃদ্ধি করতে পারে না— (অনুধাবন)  
র. মোট দেশজ উৎপাদ

রর. মোট জাতীয় আয়

ররর. মূলধন অবচয়জনিত ব্যয়

নিচের কোনটি সঠিক?

● র ও রর খ র ও ররর গ রর ও ররর ঘ র, রর ও ররর

১১০. শ্রমখাত মোট দেশজ উৎপাদ বৃদ্ধিতে সহায়ক হয় শ্রমিক যদি— (উচ্চতর দক্ষতা)  
র. প্রযুক্তির ব্যবহার জানে

রর. প্রশিক্ষণপ্রাপ্ত হয়

ররর. ভূমির মালিক হয়

নিচের কোনটি সঠিক?

● র ও রর খ র ও ররর গ রর ও ররর ঘ র, রর ও ররর

১১১. সচলতার বৈশিষ্ট্য হলো— (উচ্চতর দক্ষতা)  
র. মোট দেশজ উৎপাদ বৃদ্ধিতে সহায়ক

রর. অবনতিশীল অর্থনৈতিক খাতে সম্পদের ব্যবহার

ররর. প্রসারমান অর্থনৈতিক কার্যকলাপে সম্পদের ব্যবহার

নিচের কোনটি সঠিক?

ক রর ও ররর ● র ও ররর গ রর ও ররর ঘ র, রর ও ররর

১১২. মোট দেশজ উৎপাদ নির্ভর করে— (অনুধাবন)  
র. মূলধনের ওপর

রর. প্রাকৃতিক সম্পদের ওপর

ররর. সরকারি খণ্ডের সুদের ওপর

নিচের কোনটি সঠিক?

● র ও রর খ রর ও ররর গ রর ও ররর ঘ র, রর ও ররর

### অভিন্ন তথ্যভিত্তিক বহুনির্বাচনি প্রশ্নোত্তর

নিচের অনুচ্ছেদটি পড়ে ১১৩ ও ১১৪ নং প্রশ্নের উত্তর দাও :

হামিদ মিয়া একজন কৃষক। গত দু'বছর ধরে তিনি ধান চাষ করে লাভবান হতে পারছেন না। এ বছর স্থানীয় কৃষি কর্মকর্তা আনিসুর রহমানের পরামর্শে তিনি উচ্চ ফলনশীল ধানের বীজ ব্যবহার করেছেন। এবার তিনি লাভের মুখ দেখতে পারবেন বলে আশা করছেন।

১১৩. অনুচ্ছেদটি জিডিপির কোন নির্ধারকটির ইঙ্গিত রয়েছে? (প্রয়োগ)  
ক ভূমি খ শ্রম ● প্রযুক্তি ঘ সচলতা

১১৪. হামিদ মিয়ার কার্যক্রমের ফলে— (উচ্চতর দক্ষতা)  
র. মোট দেশজ উৎপাদ বৃদ্ধি পাবে

রর. সম্পদের সচলতা বৃদ্ধি পাবে

ররর. অর্থনৈতিক উন্নয়ন সাধিত হবে

নিচের কোনটি সঠিক?

ক র ও রর ● র ও ররর গ রর ও ররর ঘ র, রর ও ররর

নিচের অনুচ্ছেদটি পড়ে ১১৫ ও ১১৬ নং প্রশ্নের উত্তর দাও :

দক্ষিণ আফ্রিকার একটি অনুন্নত দেশ সুদান। যুদ্ধকবলিত এ দেশটির অর্থনীতি অত্যন্ত ভঙ্গুর। দেশটিতে মাথাপিছু জিডিপির পরিমাণও অনেক কম। দেশটিতে জাতিসংঘের শান্তিরক্ষী বাহিনী অর্থনৈতিক উন্নয়নের জন্য নানামুখী কার্যক্রম পরিচালনা করছে।

১১৫. সুদানের জিডিপি বৃদ্ধির ক্ষেত্রে প্রধান প্রতিবন্ধক কোনটি? (প্রয়োগ)  
ক ভূমি ● মূলধন গ সচলতা ঘ শ্রম

১১৬. সুদানে জিডিপি বৃদ্ধির জন্য করণীয় হলো— (উচ্চতর দক্ষতা)  
র. প্রাকৃতিক সম্পদের যথার্থ ব্যবহার

রর. শ্রমিকদেরকে প্রশিক্ষণ দেওয়া

ররর. প্রযুক্তির ব্যবহার বৃদ্ধি করা

নিচের কোনটি সঠিক?

ক র ও রর খ র ও ররর গ রর ও ররর ● র, রর ও ররর

### ৬.৫ : জিডিপি-এর হিসাব বহির্ভূত বিষয়াদি

■ জিডিপি গণনায়— লাভ-ক্ষতির প্রভাব শূন্য।

- জাতীয় আয় গণনা ক্ষেত্রে— শুধুমাত্র চূড়ান্ত পণ্য বিবেচিত হয়।
- মাধ্যমিক দ্রব্য বা সেবা— জাতীয় আয়ে অন্তর্ভুক্ত হয় না।
- বিনামূল্যে ব্যবহৃত দ্রব্য ও সেবা— জিডিপিতে হিসাব হয় না।
- সরকারি ঋণের সুদ— জিডিপিতে হিসাব হয় না।
- বেআইনি কার্যকলাপ হতে প্রাপ্ত আয়— জিডিপিতে হিসাব হয় না।
- অতীতে উৎপাদিত দ্রব্য ও লেনদেন জিডিপিতে হিসাব করলে— দ্বৈত গণনার সমস্যা দেখা যায়।

### সাধারণ বহুনির্বাচনি প্রশ্নোত্তর

১১৭. কোনো দেশের ভৌগোলিক সীমানার মধ্যে উৎপাদিত কোনো দ্রব্য বা সেবাকে কী বলা হয়? (জ্ঞান)
- জিডিপি    ✕ জিএনপি    গ এনএনপি    ঘ সিসিএ
১১৮. মূলধনী লাভ-ক্ষতি জাতীয় আয় গণনার ক্ষেত্রে বিবেচনা করা হয় না কেন? (উচ্চতর দক্ষতা)
- ক দ্বৈত গণনার সমস্যা সৃষ্টি হয় বলে    ● কোনো রকম প্রভাব থাকে না বলে
- গ অবচয়জনিত ব্যয় হ্রাস পায় বলে    ঘ অপরিবর্তনশীল ও ধ্রুব বলে
১১৯. সম্পদের মূল্য পরিবর্তন হলে লাভ বা ক্ষতি জাতীয় আয় গণনার ক্ষেত্রে কোনো প্রভাব ফেলে না কেন? (অনুধাবন)
- ক স্থানগত কারণে    ✕ অবকাঠামোগত কারণে
- কালগত কারণে    ঘ অবস্থানগত কারণে
১২০. নিচের কোনটি শুধু কাগজ-কলামে ব্যবহার প্রতিষ্ঠানে লিপিবদ্ধ করা হয়? (জ্ঞান)
- মূলধনী লাভ-ক্ষতি    ✕ মূলধন
- গ শ্রম বা সেবার মূল্য    ঘ আমদানি মূল্য
১২১. জাতীয় আয় গণনায় লাভ-ক্ষতির প্রভাব কিরূপ? (জ্ঞান)
- ক অসীম    ● শূন্য
- গ ধনাত্মক    ঘ ঋণাত্মক
১২২. জিডিপি গণনার ক্ষেত্রে প্রধানত কয়টি উপাদান কখনও অন্তর্ভুক্ত করা হয় না? (জ্ঞান)
- ক ৩    ✕ ৪    গ ৫    ● ৬
১২৩. জাতীয় আয় গণনায় শুধু কোন পর্যায়ের দ্রব্য ও সেবা বিবেচিত হয়? (জ্ঞান)
- ক প্রাথমিক    গ মাধ্যমে
- চূড়ান্ত    ঘ মূলধনী
১২৪. মা কর্তৃক সঞ্চারিত লালন-পালন জাতীয় আয়ের বহির্ভূত বিষয় কেন? (উচ্চতর দক্ষতা)
- মূল্যহীন বলে    ✕ বিনিময় অযোগ্য বলে
- গ বিমূর্ত বিষয় বলে    ঘ জিডিপিতে প্রভাব ফেলে বলে
১২৫. অতীতে উৎপাদিত পণ্যে মোট দেশজ উৎপাদের অন্তর্ভুক্ত নয় কেন? (উচ্চতর দক্ষতা)
- ক বাজার মূল্য না থাকায়    ● পূর্বে গণনা করায়
- গ বিনিময় অযোগ্য হওয়ায়    ঘ বিনিময় মূল্য না থাকায়

১২৬. জাতীয় আয় গণনার ক্ষেত্রে দ্বৈত গণনা সমস্যা দেখা যায় কখন? (অনুধাবন)
- ক চূড়ান্ত দ্রব্যের মূল্য হিসাব করলে    ● মাধ্যমিক দ্রব্যের মূল্য হিসাব করলে
- গ মূলধনী লাভ-ক্ষতি হিসাব করলে    ঘ সরকারি ঋণের সুদ হিসাব করলে
১২৭. অতীতে উৎপাদিত পণ্য জাতীয় আয় গণনায় অন্তর্ভুক্ত করলে কোন সমস্যার সৃষ্টি হয়? (জ্ঞান)
- ক ব্যয়গত সমস্যা    ✕ আয়গত সমস্যা
- দ্বৈত গণনা সমস্যা    ঘ অবচয়জনিত সমস্যা
১২৮. নিচের কোনটি জিডিপির অন্তর্ভুক্ত নয়? (জ্ঞান)
- ক মূলধন    ✕ দ্রব্যের মূল্য    ● বন্ড    ঘ সেবার মূল্য
১২৯. কোন ধরনের সুদ জাতীয় আয়ের অন্তর্ভুক্ত নয়? (জ্ঞান)
- সরকারি ঋণের সুদ    ✕ বাণিজ্যিক ঋণের সুদ
- গ কৃষি ঋণের সুদ    ঘ শিল্প ঋণের সুদ
১৩০. কোন ঋণের বিপরীতে সুদ হস্তান্তর পাওনা হিসেবে বিবেচিত হয়? (অনুধাবন)
- ক কৃষি উৎপাদনের জন্য কৃষকের ঋণ    ● যুদ্ধকালীন সরকারের গৃহীত ঋণ
- গ শিল্প স্থাপনে উদ্যোক্তাদের ঋণ    ঘ ব্যবসায়ের জন্য গৃহীত ঋণ
১৩১. যুদ্ধকালীন সরকারের গৃহীত ঋণের বিপরীতে সুদ কী হিসেবে বিবেচিত হয়? (জ্ঞান)
- ক সরকারি পাওনা    ✕ বেসরকারি পাওনা
- হস্তান্তর পাওনা    ঘ হস্তান্তর অযোগ্য পাওনা
১৩২. জাতীয় আয় গণনায় নিচের কোনটি বিবেচিত হয় না? (জ্ঞান)
- ক আমদানি মূল্য    ✕ রপ্তানি মূল্য
- বেআইনি আয়    ঘ চূড়ান্ত দ্রব্য
১৩৩. আরিফুর রহমান একজন দুর্নীতিগ্রস্ত সরকারি কর্মকর্তা। তিনি ঘুষ ছাড়া কোনো ফাইল সই করেন না। তার প্রাপ্ত আয় জাতীয় আয়ের অন্তর্ভুক্ত হবে না কেন? (প্রয়োগ)
- বেআইনি বলে    ✕ মূল্যহীন বলে
- গ অমূল্য বলে    ঘ গণনার অযোগ্য বলে

### বহুপদী সমাঙ্গিসূচক বহুনির্বাচনি প্রশ্নোত্তর

১৩৪. জাতীয় আয় হিসাবের ক্ষেত্রে দ্বৈত গণনার সমস্যা হয়? (উচ্চতর দক্ষতা)
- র. মাধ্যমিক দ্রব্য ও সেবা বিবেচনায় আনলে
- রর. অতীতে উৎপাদিত পণ্য হিসাব করলে
- ররর. সরকারি ঋণের সুদ হিসাব করলে
- নিচের কোনটি সঠিক?
- র ও রর    ✕ র ও ররর    গ রর ও ররর    ঘ র, রর ও ররর
১৩৫. মূলধনী লাভ-ক্ষতি জাতীয় আয় গণনায় বিবেচনা না করার কারণ হলো—(উচ্চতর দক্ষতা)
- র. এর প্রভাব শূন্য
- রর. শুধু কাগজে-কলামে প্রতিষ্ঠানের ক্ষেত্রে লিপিবদ্ধ
- ররর. দ্বৈত গণনা সমস্যার সৃষ্টি হয়
- নিচের কোনটি সঠিক?
- ক র    ✕ রর    ● র ও রর    ঘ রর ও ররর

১৩৬. জাতীয় আয় গণনার ক্ষেত্রে মাধ্যমিক দ্রব্য ও সেবা বিবেচনায় আনলে—  
(উচ্চতর দক্ষতা)

র. দ্বৈত গণনা সমস্যার সৃষ্টি হয়  
রর. লাভ-ক্ষতির পরিমাণ শূন্য হয়  
ররর. সঠিক ফলাফল পাওয়া যায় না

নিচের কোনটি সঠিক?

ক র ও রর ● র ও ররর গ রর ও ররর ঘ র, রর ও ররর

১৩৭. বেআইনি কার্যকলাপ বলতে বোঝায়—  
(অনুধাবন)

র. যা সামাজিকভাবে অগ্রহণযোগ্য  
রর. যা সমাজে অপ্রচলিত  
ররর. যা প্রচলিত আইনের বিরোধী

নিচের কোনটি সঠিক?

ক র ও রর ● র ও ররর গ রর ও ররর ঘ র, রর ও ররর

১৩৮. অতীতে উৎপাদিত পণ্য জাতীয় আয় গণনার ক্ষেত্রে বিবেচিত না হওয়ার কারণ—  
(অনুধাবন)

র. দ্বৈত গণনার সমস্যার উদ্ভব  
রর. পূর্ববর্তী বছরের জিডিপিতে অন্তর্ভুক্তি  
ররর. সঠিক জিডিপি হিসাব না পাওয়া

নিচের কোনটি সঠিক?

ক র ও রর খ র ও ররর গ রর ও ররর ● র, রর ও ররর

১৩৯. দেশের প্রচলিত আইনবিরোধী কার্যকলাপ হলো—  
(অনুধাবন)

র. কালো বাজারে দ্রব্য ক্রয়-বিক্রয়  
রর. মাদকদ্রব্যের ব্যবসা  
ররর. জুয়াখেলা

নিচের কোনটি সঠিক?

ক র ও রর খ র ও ররর গ রর ও ররর ● র, রর ও ররর

১৪০. জাতীয় আয়ের বহির্ভূত সেবা হলো—  
(অনুধাবন)

র. নার্স কর্তৃক রোগীদের সেবা প্রদান  
রর. মা কর্তৃক সন্তান লালন-পালন  
ররর. মহিলাদের সাংসারিক কাজকর্ম

নিচের কোনটি সঠিক?

ক র ও রর খ র ও ররর ● রর ও ররর ঘ র, রর ও ররর

১৪১. শার্ট-প্যাণ্টের দামের মধ্যেই অন্তর্ভুক্ত হয়েছে—  
(উচ্চতর দক্ষতা)

র. তুলার দাম রর. সুতার দাম  
ররর. কাপড়ের দাম

নিচের কোনটি সঠিক?

ক র ও রর খ র ও ররর গ রর ও ররর ● র, রর ও ররর

## অভিন্ন তথ্যভিত্তিক বহুনির্বাচনি প্রশ্নোত্তর

নিচের অনুচ্ছেদটি পড়ে ১৪২ ও ১৪৩ নং প্রশ্নের উত্তর দাও :

আরিফুর রহমান 'রহমান গার্মেন্ট'-এর মালিক। তার প্রতিষ্ঠানে তৈরি কাপড় বিদেশেও রপ্তানি হয়। তিনি প্রথমে বাজার থেকে তুলা কিনে নিজস্ব মিলে তা থেকে সুতা তৈরি করেন। এই সুতার ব্যবহার করেই তার গার্মেন্টে মানসম্পন্ন কাপড় তৈরি করা হয়।

১৪২. জাতীয় আয় গণনার ক্ষেত্রে 'রহমান গার্মেন্ট'-এর কোন পণ্যের মূল্য বিবেচনায় আনা হবে?  
(প্রয়োগ)

ক তুলা খ সুতা ● কাপড় ঘ মেশিনপত্র

১৪৩. 'রহমান গার্মেন্ট'র উৎপাদিত সুতা ও কাপড় উভয়টিই জাতীয় আয় গণনার ক্ষেত্রে বিবেচনায় আনলে—  
(উচ্চতর দক্ষতা)

র. দ্বৈত গণনা সমস্যার সৃষ্টি হবে রর. মূলধনী লাভ হ্রাস পাবে

ররর. ভুল হিসাব পাওয়া যাবে

নিচের কোনটি সঠিক?

ক র ও রর ● র ও ররর গ রর ও ররর ঘ র, রর ও ররর

নিচের অনুচ্ছেদটি পড়ে ১৪৪ ও ১৪৫ নং প্রশ্নের উত্তর দাও :

রবিউল আলম গত বছর একটি ফ্ল্যাট বিক্রি করে বেশ লাভবান হয়েছিলেন। এ বছর তিনি একটি জমি বিক্রি করেছেন। টাকাপয়সার তার কোনো অভাব নেই। মূলত তিনি সারের ব্যবসা করেন। কিন্তু তার টাকাপয়সার গোপন উৎস হলো মাদকদ্রব্য বিক্রয়লব্ধ অর্থ। অবশ্য এলাকার মানুষের কাছে তিনি ভালো মানুষ হিসেবেই পরিচিত। কারণ তিনি দরিদ্রদের মুক্তহস্তে দান করেন।

১৪৪. রবিউল আলমের কোন কাজটি জাতীয় আয় গণনার ক্ষেত্রে বিবেচিত হবে?  
(প্রয়োগ)

ক ফ্ল্যাট বিক্রি ● জমি বিক্রি

গ মাদকদ্রব্য বিক্রয় ঘ দরিদ্রদের দান করা

১৪৫. রবিউল আলম কর্তৃক মাদকদ্রব্য বিক্রয়—  
(উচ্চতর দক্ষতা)

র. সামাজিকভাবে গ্রহণযোগ্য নয় রর. প্রচলিত আইনের বিরোধী

ররর. জাতীয় আয়ের অন্তর্ভুক্ত

নিচের কোনটি সঠিক?

● র ও রর খ র ও ররর গ রর ও ররর ঘ র, রর ও ররর

## ৬.৬ : বাংলাদেশে জাতীয় আয় পরিমাপ পদ্ধতি

- বাংলাদেশে জাতীয় আয় গণনার দায়িত্বে নিয়োজিত সরকারি প্রতিষ্ঠান হলো— বাংলাদেশ পরিসংখ্যান ব্যুরো।
- মোট দেশজ উৎপাদ পরিমাপের জন্য অর্থনীতিকে— ১৫টি খাতে বিভক্ত করা হয়।

- সকল শিল্পের উৎপাদিত পণ্যের বাজার মূল্য হিসাব করে- মোট দেশজ উৎপাদ বের করা যায়।
- কৃষিজ ও বনজ খাতের উপখাত- ৩টি।
- বনখাতের উপকরণের তথ্যের অভাবে মোট উৎপাদন হতে- ৩% মূল্য বাদ দিতে হয়।
- পরিবহন খাতের বড় অংশ- বেসরকারি খাতে রয়েছে।
- বাংলাদেশে শিক্ষাখাতে মোট দেশজ উৎপাদ হিসাব করা হয়- ব্যয় পদ্ধতিতে।

গ ২২,২৩৮ কোটি টাকা ● ২৭,৬৬৭ কোটি টাকা

১৫৬. বনজ খাতে কিসের অভাবে মোট উৎপাদন থেকে ৩% মূল্য বাদ দিয়ে এউচ হিসেব করা হয়? (অনুধাবন)

● উপকরণের তথ্যের

গ প্রয়োজনীয় লোকবলের

১৫৭. বনজ খাতে উপকরণ তথ্যের অভাবে মোট উৎপাদন হতে কত শতাংশ মূল্য বাদ দিয়ে এউচ বের করা হয়? (জ্ঞান)

ক ২% ● ৩% গ ৪% ঘ ৫%

১৫৮. ২০১২-১৩ সালে বনজ সম্পদ খাতে বাংলাদেশের এউচ কত কোটি টাকা ছিল? (জ্ঞান)

● ১৬,৬০৫

১৫৯. ২০১৩-১৪ সালে বনজ সম্পদ খাতে দেশজ উৎপাদন ছিল কত কোটি টাকা? (জ্ঞান)

ক ১০,১০৫

১৬০. ২০১২-১৩ সালে মৎস্য খাতে বাংলাদেশের এউচ কত কোটি টাকা ছিল? (জ্ঞান)

ক ১০,৮৭৬

১৬১. ২০১৩-১৪ সালে মৎস্য খাতে দেশজ উৎপাদের পরিমাণ কত কোটি টাকা ছিল? (জ্ঞান)

ক ১৬,৯৯৫

১৬২. খনিজ ও খনন অর্থনীতির কোন খাতের অন্তর্ভুক্ত? (অনুধাবন)

ক সেবা

১৬৩. শিল্পখাতের মধ্যে কোন খাতকে আলাদা হিসেবে চিহ্নিত করা হয়? (জ্ঞান)

ক মুদ্রায়তন শিল্পখাত

১৬৪. বাংলাদেশের গ্যাসক্ষেত্রগুলো অর্থনীতির কোন খাতের অন্তর্ভুক্ত? (প্রয়োগ)

ক শিল্পখাতের

১৬৫. খনিজ ও খনন শিল্পখাতে ২০১২-১৩ সালে কত কোটি টাকা আয় হয়? (জ্ঞান)

ক ১০,৬৫০

১৬৬. খনিজ ও খনন শিল্পখাতে ২০১৩-১৪ সালে কত কোটি টাকা আয় হয়? (জ্ঞান)

ক ৯,৪৬১

১৬৭. ২০১২-১৩ সালে বাংলাদেশে বৃহৎ ও মাঝারি শিল্প দেশজ উৎপাদনের পরিমাণ কত কোটি টাকা ছিল? (জ্ঞান)

ক ১,০০,০৫৩

১৬৮. ২০১২-১৩ সালের হিসাবে পাইকারি ও খুচরা বিপণনে মোট দেশজ উৎপাদন কত কোটি টাকা হিসাব করা? (জ্ঞান)

ক ১,১৩,৩৯৬

১৬৯. ২০১৩-১৪ সালের হিসাবে পাইকারি ও খুচরা বিপণনে মোট দেশজ উৎপাদন কত কোটি টাকা হিসাব করা? (জ্ঞান)

ক ১,২৪,৫৭৯

১৭০. বিদ্যুৎ, গ্যাস ও পানিসম্পদ খাতে কিসের প্রেক্ষিতে এউচ হিসাব করা হয়? (অনুধাবন)

● সেবা সরবরাহের মূল্যের প্রেক্ষিতে

### সাধারণ বহুনির্বাচনি প্রশ্নোত্তর

১৪৬. বাংলাদেশ পরিসংখ্যান ব্যুরো কোন দুটি মূল্য পরিমাপ করে এউচ ও এমও গণনা করে? (অনুধাবন)

ক বাজার মূল্য ও চলতি ক্রয়মূল্য

গ স্থির ক্রয়মূল্য ও বাজার মূল্য

১৪৭. বাংলাদেশে জাতীয় আয় গণনার দায়িত্বে নিয়োজিত সরকারি প্রতিষ্ঠানের নাম কী? (জ্ঞান)

ক জাতীয় রাজস্ব বোর্ড

গ বাংলাদেশ অর্থনৈতিক ব্যুরো

১৪৮. বাংলাদেশে কোন পদ্ধতিতে এউচ পরিমাপের জন্য অর্থনীতিকে ১৫টি প্রধান খাতে ভাগ করা হয়েছে? (জ্ঞান)

ক আয়

১৪৯. কী পরিমাপের জন্য দেশের অর্থনীতিকে ১৫টি প্রধান খাতে বিভক্ত করা হয়েছে? (জ্ঞান)

ক জিএনআই

১৫০. এউচ গণনা করতে কোন খাতটি ধরাবাধাভাবে হিসাব করা কঠিন? (অনুধাবন)

● কৃষিখাত

গ পরিবহনখাত

১৫১. এউচ গণনায় কৃষি খাত ধরাবাধাভাবে হিসাব করা কঠিন কেন? (অনুধাবন)

ক স্বল্প পরিসরের কারণে

গ ৩টি উপখাতের কারণে

১৫২. শস্য ও শাকসবজি খাতে এউচ কিসের প্রেক্ষিতে হিসাব করা হয়? (অনুধাবন)

ক চলতি খুচরা বাজার মূল্যের

গ স্থির খুচরা বাজার মূল্যের

১৫৩. শস্য ও শাকসবজি খাতে ২০১৩-১৩ সালে মোট দেশজ উৎপাদ কত ছিল? (জ্ঞান)

ক ১০০০,৮৯৯ কোটি

গ ৯২,৫০৮ কোটি

১৫৪. প্রাণিসম্পদ খাতে ২০১২-১৩ সালে মোট দেশজ উৎপাদ কত ছিল? (জ্ঞান)

ক ১৮,৪৭০ কোটি টাকা

গ ২৬,৯৯৬ কোটি টাকা

১৫৫. প্রাণিসম্পদ খাতে ২০১৩-১৪ সালে মোট দেশজ উৎপাদনের পরিমাণ কত ছিল? (জ্ঞান)

ক ১৮,৪৭০ কোটি টাকা

- গ বাজার মূল্যের প্রেক্ষিতে      ঘ মোট উৎপাদের প্রেক্ষিতে
১৭১. ২০১২-১৩ সালে বিদ্যুৎ, গ্যাস ও পানি সম্পদ খাতে দেশজ উৎপাদের পরিমাণ কত কোটি টাকা ছিল? (জ্ঞান)  
ক ১০,১৮৯      খ ১২,১৮৯      ● ১৬,৩৮১      ঘ ১৬,১৮৯
১৭২. ২০১১-১২ সালে শুধু বিদ্যুৎ উপখাতে মোট দেশজ উৎপাদের পরিমাণ কত কোটি টাকা ছিল? (জ্ঞান)  
ক ৮,১৮৯      খ ৯,১৮৯      ● ১২,১৬৮      ঘ ১৪,১৮৯
১৭৩. ২০১২-১৩ সালে শুধু গ্যাস উপখাতে মোট দেশজ উৎপাদের পরিমাণ কত কোটি টাকা ছিল? (জ্ঞান)  
ক ১,১০০      খ ২,২০০      ● ৩,৪৪৮      ঘ ৪,৪০০
১৭৪. নিচের কোন খাতে যে পরিমাণ আয় হিসাব হওয়ার কথা তার তুলনায় কম হয়? (জ্ঞান)  
● নির্মাণ      খ কৃষি      গ শিল্প      ঘ পরিবহন
১৭৫. নির্মাণ খাতে যে পরিমাণ আয় হিসাব হওয়ার কথা তার তুলনায় কম আয় হয় কেন? (উচ্চতর দক্ষতা)  
● চলতি বাজার মূল্য সরকার প্রদত্ত মূল্য থেকে বেশি বলে  
খ চলতি বাজার মূল্য সরকার প্রদত্ত মূল্য থেকে কম বলে  
গ স্থির বাজার মূল্য সরকার প্রদত্ত মূল্য থেকে কম বলে  
ঘ স্থির বাজার মূল্য সরকার প্রদত্ত মূল্য থেকে বেশি বলে
১৭৬. ২০১২-১৩ সালে নির্মাণ খাত থেকে আয় হয় কত কোটি টাকা? (জ্ঞান)  
ক ৪৮,৩০৪      খ ৫৮,৩০৪      ● ৮২,৪৩২      ঘ ৭৮,৩০৪
১৭৭. ২০১৩-১৪ সালে নির্মাণ খাত থেকে আয় হয় কত কোটি টাকা? (জ্ঞান)  
ক ৫২,৪৩২      খ ৬২,৪৩২      গ ৭২,৪৩২      ● ৯০,৮৩৪
১৭৮. হাশেম মিয়া পুরান ঢাকায় সম্প্রতি একটি খাবার হোটেল চালু করেছেন। এটি গণনার ক্ষেত্রে তার হোটেলের কোন বিষয়টি অন্তর্ভুক্ত হবে? (প্রয়োগ)  
● দ্রব্য ও সেবার বিক্রয়মূল্য      খ মোট লভ্যাংশ  
গ খাবারের উৎপাদন      ঘ হোটেলের ক্রয়মূল্য
১৭৯. হোটেল ও রেস্তোরাঁ খাত থেকে ২০১২-২০১৩ সালে সরকারের কত কোটি টাকা আয় হয়? (জ্ঞান)  
ক ৭,৭৫৫      ● ১১,২৬৩      গ ১০,৭৫৫      ঘ ১১,৭৫৫
১৮০. হোটেল ও রেস্তোরাঁ খাত থেকে ২০১৩-২০১৪ সালে সরকারের কত কোটি টাকা আয় হয়? (জ্ঞান)  
ক ৯,২৬৩      ● ১৩,০৩৫      গ ১৩,২৬৩      ঘ ১৫,২৬৩
১৮১. নিচের জিডিপির কোন খাতটির বড় অংশ বেসরকারি খাতে ন্যস্ত আছে? (জ্ঞান)  
ক শিক্ষা      খ লোক প্রশাসন ও প্রতিরক্ষা  
গ স্বাস্থ্য ও সামাজিক সেবা      ● পরিবহন, সংরক্ষণ ও যোগাযোগ
১৮২. ২০১২-১৩ সালে পরিবহন, সংরক্ষণ ও যোগাযোগ উপখাতে মোট আয় কত কোটি টাকা ধরা হয়েছিল? (জ্ঞান)  
ক ১,১০,১২১      খ ১,৯৪,১৮১      ● ১,২৪,২৮১      ঘ ১,১৫,৯৫৯
১৮৩. আর্থিক প্রাতিষ্ঠানিক সেবাখাতে মোট দেশজ উৎপাদ হিসাব করা হয় किसের ভিত্তিতে? (অনুধাবন)  
ক মোট উৎপাদনের ভিত্তিতে      ● প্রাপ্ত মূল্যের ভিত্তিতে  
গ মোট ব্যয়ের ভিত্তিতে      ঘ সেবা সরবরাহ মূল্যের প্রেক্ষিতে

১৮৪. আর্থিক প্রাতিষ্ঠানিক সেবা খাত থেকে ২০১২-১৩ সালে দেশজ উৎপাদন মূল্যের পরিমাণ ছিল কত কোটি টাকা? (জ্ঞান)  
ক ১৬,৩১৬      খ ২৬,৩১৬      ● ৪২,২৩৭      ঘ ৪৬,৩১৬
১৮৫. আর্থিক প্রাতিষ্ঠানিক সেবা খাতকে কয়টি উপখাতে ভাগ করা হয়েছে? (জ্ঞান)  
ক ২      ● ৩      গ ৪      ঘ ৫
১৮৬. আর্থিক প্রাতিষ্ঠানিক সেবাখাতের কোন উপখাতে সবচেয়ে বেশি আয় হয়ে থাকে? (প্রয়োগ)  
● ব্যাংক      খ বিমা  
গ রিয়েল এস্টেট      ঘ কমিউনিটি
১৮৭. আর্থিক প্রাতিষ্ঠানিক সেবাখাত থেকে ২০১১-১২ সালে ব্যাংক উপখাত থেকে আয় হয় কত কোটি টাকা? (জ্ঞান)  
ক ১৯,৩৫১      ● ৩৪,৭২৭      গ ৩৯,৩৫১      ঘ ৪৯,৩৫১
১৮৮. আর্থিক প্রাতিষ্ঠানিক সেবাখাত থেকে ২০১২-১৩ সালে বিমা উপখাত থেকে কত কোটি টাকা আয় হয়? (জ্ঞান)  
ক ১,৩৮১      ● ৪,৯২০      গ ৩,৩৮১      ঘ ৪,৪৮১
১৮৯. আর্থিক প্রাতিষ্ঠানিক সেবা খাত থেকে ২০১৩-১৪ অর্থবছরে মোট কত কোটি টাকা আয় হয়? (জ্ঞান)  
ক ১২,২৩৭      খ ২২,২৩৭      গ ৩২,২৩৭      ● ৪৮,৫৬৩
১৯০. আর্থিক প্রাতিষ্ঠানিক সেবা থেকে ২০১৩-১৪ সালে ব্যাংক উপখাত থেকে আয় হয় কত কোটি টাকা? (জ্ঞান)  
ক ১৪,৭২৭      খ ২৪,৭২৭      ● ৪০,৩৯০      ঘ ৪৪,৭২৭
১৯১. আর্থিক প্রাতিষ্ঠানিক সেবাখাত থেকে ২০১৩-১৪ সালে বিমা উপখাত থেকে আয় হয় কত কোটি টাকা? (জ্ঞান)  
ক ২,৯২০      ● ৫,৩৬৪      গ ৬,৯২০      ঘ ৮,৯২০
১৯২. আর্থিক প্রাতিষ্ঠানিক সেবাখাত থেকে ২০১৩-১৪ সালে অন্যান্য উপখাত থেকে আয় হয় কত কোটি টাকা? (জ্ঞান)  
ক ১,৫৯০      খ ২,০৯০      ● ২,৮১০      ঘ ৩,০৯০
১৯৩. রিয়েল এস্টেট, ভাড়া ও অন্যান্য ব্যবসা খাত থেকে ২০১২-১৩ সালে প্রাপ্ত দেশজ আয় ছিল কত কোটি টাকা? (জ্ঞান)  
ক ৩৮,৭১৫      খ ৪৮,৭১৫      গ ৫৮,৭১৫      ● ৭৮,৮২০
১৯৪. রিয়েল এস্টেট, ভাড়া ও অন্যান্য ব্যবসা খাত থেকে ২০১৩-১৪ সালে প্রাপ্ত দেশজ আয় ছিল কত কোটি টাকা? (জ্ঞান)  
ক ৫৮,৮২০      খ ৬৮,৮২০      গ ৭৮,৮২০      ● ৯১,২২৯
১৯৫. ২০১২-১৩ সালে লোক প্রশাসন ও প্রতিরক্ষা খাতে দেশজ উৎপাদ ছিল কত কোটি টাকা? (জ্ঞান)  
ক ১১,৪৯৯      খ ২২,৪৯৯      ● ৩৭,৬৭৮      ঘ ৪৪,৪৯৯
১৯৬. ২০১৩-১৪ সালে লোক প্রশাসন ও প্রতিরক্ষা খাতে দেশজ উৎপাদ ছিল কত কোটি টাকা? (জ্ঞান)  
ক ১৭,৬৭৮      খ ২৭,৬৭৮      ● ৪৪,৭২৮      ঘ ৪৭,৬৭৮
১৯৭. শিক্ষাখাতে মোট দেশজ উৎপাদ গণনা করা হয় কোন দিক থেকে? (অনুধাবন)  
ক আয়ের      ● ব্যয়ের      গ উৎপাদনের      ঘ বিনিময়ের
১৯৮. ২০১২-১৩ সালে শিক্ষাখাতে বাংলাদেশের এটচ কত কোটি টাকা ছিল? (জ্ঞান)  
ক ৫০,৩৩৭      খ ৫৫,৫৪৬      গ ২৫,৪৪৯      ● ২৮,৪২৯
১৯৯. ২০১৩-১৪ সালে শিক্ষাখাতে দেশজ উৎপাদ ছিল কত কোটি টাকা? (জ্ঞান)  
ক ১৮,৪২৯      ● ২৮,৪২৯

গ ২৮,৯৮২

ঘ ২৮,২৪৯

২০০. স্বাস্থ্য ও সেবা খাতে ২০১৩-১৪ সালে ব্যয় হয়েছিল কত কোটি টাকা? (জ্ঞান)  
ক ১৩,৮৬৮ ● ২৬,৯২৪ গ ২৫,৮৮৬ ঘ ৩৩,৬৮৬

২০১. কমিউনিটি, সামাজিক ও ব্যক্তিগত খাতে ২০১২-১৩ সালে কত কোটি টাকা ব্যয় হয়? (জ্ঞান)  
● ১,৩৮,৯৫২ খ ১৭,১২৯ গ ১,৭২,৩২৯ ঘ ১,১১,২৯৩

২০২. কমিউনিটি, সামাজিক ও ব্যক্তিগত সেবাখাতে ২০১৩-১৪ সালে কত কোটি টাকা ব্যয় হয়? (জ্ঞান)  
ক ১,০৮,৯৫২ ● ১,৩৮,৯৫২ গ ১,৫৬,৫৫২ ঘ ১,৬৯,৮৫২

### বহুপদী সমাপ্তিসূচক বহুনির্বাচনি প্রশ্নোত্তর

২০৩. বাংলাদেশে এউচ ও এঘও হিসাব করা হয়— (অনুধাবন)  
র. উৎপাদন পদ্ধতিতে

রর. আয় পদ্ধতিতে

ররর. ব্যয় পদ্ধতিতে

নিচের কোনটি সঠিক?

ক র ও রর ● র ও ররর গ রর ও ররর ঘ র, রর ও ররর

২০৪. বাংলাদেশের কৃষি ও শিল্পখাতে স্বল্প উৎপাদনের— (উচ্চতর দক্ষতা)  
র. এউচ-এর পরিমাণ কম

রর. মাথাপিছু আয় কম

ররর. এঘও-এর পরিমাণ কম

নিচের কোনটি সঠিক?

ক র ও রর গ র ও ররর গ রর ও ররর ● র, রর ও ররর

২০৫. আর্থিক প্রাতিষ্ঠানিক সেবা খাতের অন্তর্ভুক্ত হলো— (অনুধাবন)  
র. ব্যাংক উপখাতের সেবা রর. বিমা উপখাতের সেবা

ররর. পরিবহন উপখাতের সেবা

নিচের কোনটি সঠিক?

● র ও রর খ র ও ররর গ রর ও ররর ঘ র, রর ও ররর

২০৬. খনিজ ও খনন খাতে এউচ গণনায় হিসাব করা হয়— (অনুধাবন)  
র. প্রাকৃতিক গ্যাস ও অপরিশোধ্য তেলের মূল্য

রর. বৃহদায়তন শিল্পে উৎপাদিত পণ্যের মূল্য

ররর. খনিজ ও খনন বিষয়ের পণ্যের বাজার মূল্য

নিচের কোনটি সঠিক?

ক র ও রর ● র ও ররর গ রর ও ররর ঘ র, রর ও ররর

২০৭. শিল্পখাতের মধ্যে আলাদা খাত হিসেবে চিহ্নিত করা হয়— (অনুধাবন)  
র. খনিজ খাতকে

রর. খনন খাতকে

ররর. ক্ষুদ্রায়তন খাতকে

নিচের কোনটি সঠিক?

● র ও রর খ র ও ররর গ রর ও ররর ঘ র, রর ও ররর

২০৮. নির্মাণ খাতে আয়ের হিসাব কম হওয়ার কারণ— (উচ্চতর দক্ষতা)

র. চলতি বাজার মূল্য বেশি

রর. সরকারি মূল্যে হিসাব

ররর. সরকারি মূল্য বেশি

নিচের কোনটি সঠিক?

● র খ ররর গ র ও রর ঘ রর ও ররর

২০৯. ব্যয়ের দিক থেকে মোট দেশজ উৎপাদ হিসাব করা হয়— (অনুধাবন)

র. স্বাস্থ্য ও সামাজিক সেবাখাতে

রর. শিক্ষাখাতে

ররর. শিল্পখাতে

নিচের কোনটি সঠিক?

● র ও রর খ র ও ররর গ রর ও ররর ঘ র, রর ও ররর

২১০. হাজী নান্না মিয়া হোটেল ব্যবসায় ব্যাপক লাভবান হন। মোট দেশজ উৎপাদে তার খাতের হিসাব করা হয়— (প্রয়োগ)

র. উৎপাদিত পণ্যের বাজার মূল্যে

রর. প্রদত্ত সেবার প্রাপ্ত মূল্যে

ররর. উৎপাদিত পণ্যের বিক্রয় মূল্যে

নিচের কোনটি সঠিক?

ক র ও রর ● র ও ররর গ রর ও ররর ঘ র, রর ও ররর

### অভিন্ন তথ্যভিত্তিক বহুনির্বাচনি প্রশ্নোত্তর

নিচের অনুচ্ছেদটি পড়ে ২১১ ও ২১২ নং প্রশ্নের উত্তর দাও :

আফসার মিয়া একজন নির্মাণ শ্রমিক। ঢাকা শহরের বিভিন্ন উঁচু ভবনের নির্মাণ কাজে তিনি শ্রম দেন। তাছাড়া বিভিন্ন সেতু, ফ্লাইওভার ও ব্রিজের নির্মাণ কাজেও তিনি শ্রম দেন।

২১১. আফসার মিয়ার কর্মরত খাতে ২০১২-১৩ সালে কত কোটি টাকা আয় হয়েছিল? (প্রয়োগ)

● ৮২,৪৩২ খ ৭৫,৪৬৫ গ ৮৫,৩২১ ঘ ৯০,০১৪

২১২. আফসার মিয়ার কর্মরত খাতে এউচ হিসাব করা হয়— (প্রয়োগ)

র. ভোক্তার প্রাপ্ত তথ্য থেকে

রর. প্রতিষ্ঠানের প্রাপ্ত তথ্য থেকে

ররর. সরকারের প্রাপ্ত তথ্য থেকে

নিচের কোনটি সঠিক?

ক র ও রর খ র ও ররর গ রর ও ররর ● র, রর ও ররর



নিচের অনুচ্ছেদটি পড়ে ২১৩ ও ২১৪ নং প্রশ্নের উত্তর দাও :

আদিল সোহাগ পরিবহনের একজন সুপারভাইজার হিসেবে কর্মরত রয়েছে। এর পূর্বে সে সরকারি পরিবহন বিআরটিসিতে কর্মরত ছিল। বর্তমানে সে বেশ ভালোই আয় করে।

২১৩. অনুচ্ছেদে নিচের কোন উপখাতের ইঙ্গিতে প্রদান করা হয়েছে? (প্রয়োগ)

● স্থলপথ পরিবহন

খ জলপথ পরিবহন

গ আকাশপথ পরিবহন

ঘ ডাক ও যোগাযোগ

২১৪. আদিলের কর্মরত খাতটির বৈশিষ্ট্য হলো— (উচ্চতর দক্ষতা)

র. এটি এউচ গণনার একটি বড় খাত

রর. এর একটি বড় অংশ বেসরকারি

ররর. এ খাতে এউচ কম হয়

নিচের কোনটি সঠিক?

ক র      খ ররর      ● র ও রর      ঘ র, রর ও ররর

## ■ অধ্যায়ের পাঠ সমন্বিত বহুনির্বাচনি প্রশ্নোত্তর

### বহুপদী সমাপ্তিসূচক বহুনির্বাচনি প্রশ্নোত্তর

২১৫. অরণি বাংলাদেশের মোট জাতীয় আয় বের করতে চায়। এক্ষেত্রে তার করণীয় হলো— (প্রয়োগ)

র. দেশের নাগরিকদের আয় হিসাব করা

রর. দেশজ উৎপাদের সাথে নিট উপাদান আয় যোগ করা

ররর. বিদেশি নাগরিকদের আয় অন্তর্ভুক্ত করা

নিচের কোনটি সঠিক?

● র ও রর      খ র ও ররর      গ রর ও ররর      ঘ র, রর ও ররর

২১৬. প্রযুক্তির উন্নয়ন সম্ভব— (অনুধাবন)

র. নতুন আবিষ্কারের মাধ্যমে

রর. যন্ত্রপাতির ডিজাইনের উৎকর্ষের মাধ্যমে

ররর. শ্রম ব্যয় কমানোর মাধ্যমে

নিচের কোনটি সঠিক?

● র ও রর      খ র ও ররর      গ রর ও ররর      ঘ র, রর ও ররর

২১৭. জাতীয় আয় গণনায় কেবল চূড়ান্ত দ্রব্য ও সেবা বিবেচিত হয়, কারণ— (অনুধাবন)

র. এর মধ্যেই মাধ্যমিক দ্রব্য ও সেবার মূল্য অন্তর্ভুক্ত

রর. এর ফলে দ্বৈত গণনা সমস্যা এড়ানো যায়

ররর. এর প্রভাব শূন্য

নিচের কোনটি সঠিক?

● র ও রর      খ র ও ররর      গ রর ও ররর      ঘ র, রর ও ররর

২১৮. জিডিপি হিসাববহির্ভূত বিষয়ের মধ্যে উল্লেখযোগ্য হলো— (অনুধাবন)

র. ভূমি ও প্রাকৃতিক সম্পদ      রর. মূলধনী লাভ-ক্ষতি

ররর. মাধ্যমিক দ্রব্য ও সেবা

নিচের কোনটি সঠিক?

ক র ও রর      খ র ও ররর      ● রর ও ররর      ঘ র, রর ও ররর

২১৯. নির্মাণ খাতের এউচ হিসাবে অন্তর্ভুক্ত করা হয়— (অনুধাবন)

র. সরকারের নির্ধারিত মূল্য      রর. চলতি বাজার মূল্য

ররর. সরকারি প্রাপ্ত তথ্য

নিচের কোনটি সঠিক?

ক র ও রর      ● র ও ররর      গ রর ও ররর      ঘ র, রর ও ররর

## অভিন্ন তথ্যভিত্তিক বহুনির্বাচনি প্রশ্নোত্তর

নিচের অনুচ্ছেদটি পড়ে ২২০ ও ২২১ নং প্রশ্নের উত্তর দাও :

শারমিন সুলতানা একটি সরকারি প্রাইমারি স্কুলে সহকারী শিক্ষক হিসেবে নিয়োজিত আছেন। শিক্ষকতা করলেও পরিবারের প্রতি দায়িত্ব পালনে তিনি কখনও অবহেলা করেন না। সন্তানদের লালনপালন, স্বামীর সেবায়ত্ন এবং অন্যান্য সাংসারিক কাজ করতে তিনি সব সময়ই সচেতন থাকেন।

২২০. শারমিন সুলতানা কোন কাজটি জাতীয় আয় গণনার ক্ষেত্রে বিবেচনায় আনা যাবে? (প্রয়োগ)

ক সন্তান লালন-পালন

● স্কুলের শিক্ষকতা

গ স্বামীর সেবায়ত্ন

ঘ সাংসারিক অন্যান্য কাজ

২২১. উক্ত কাজটি জাতীয় আয় গণনার ক্ষেত্রে বিবেচিত হওয়ার কারণ— (উচ্চতর দক্ষতা)

র. কাজটির বিনিময় মূল্য রয়েছে

রর. কাজটি বিনামূল্যে সম্পাদিত হয়

ররর. কাজটির বিনিময়ে তিনি টাকা পান

নিচের কোনটি সঠিক?

ক র      খ রর      গ ররর      ● র ও ররর

## সপ্তম অধ্যায়

# অর্থ ও ব্যাংক ব্যবস্থা

## সৃজনশীল প্রশ্ন

১। রত্না একটি আর্থিক প্রতিষ্ঠানে কর্মরত। তার প্রতিষ্ঠান জনগণকে ঋণ দিতে পারে না। কিন্তু অন্যান্য আর্থিক প্রতিষ্ঠানের ঋণ পরিচালনার ক্ষেত্রে পরামর্শদাতা হিসেবে কাজ করে। অন্যদিকে তার বান্ধবীও অন্য একটি আর্থিক প্রতিষ্ঠানে কর্মরত। এটি জনগণের সঞ্চিত অর্থ জমা রাখে এবং এর বিপরীতে অতিরিক্ত অর্থ প্রদান করে।

ক. বিনিময় প্রথা কী?

খ. সঞ্চয়ের বাহন হিসেবে অর্থের কার্যাবলি বর্ণনা কর।

গ. রত্নার প্রতিষ্ঠানের প্রকৃতি ব্যাখ্যা কর।

ঘ. রত্নার প্রতিষ্ঠানের সাথে তার বান্ধবীর প্রতিষ্ঠানের পার্থক্য বিশ্লেষণ কর।

২। হারসনের স্ত্রীর একটি শাড়ির খুবই প্রয়োজন। কিন্তু তার কাছে একটি ছাগল ছাড়া কিছুই নেই। হারসন তার ছাগল নিয়ে তাঁতির কাছে গেলে তাঁতি একটি শাড়ির বদলে ছাগল নিতে চায়। কিন্তু হারসন একটি শাড়ির বদলে ছাগলটি দিতে রাজি হয়নি। পরে সবার কাছে গ্রহণযোগ্য একটি দ্রব্য আবিষ্কৃত হওয়ায় এ অসুবিধা দূর হয়।

ক. বিহিত অর্থ কাকে বলে?

খ. নিকাশঘর বলতে কী বোঝায়?

গ. হারসন তাঁতির কাছে গিয়ে শাড়ি কিনতে না পারার কারণ ব্যাখ্যা কর।

ঘ. সবার কাছে গ্রহণযোগ্য দ্রব্যটির ভূমিকা তোমার পাঠ্যপুস্তকের আলোকে বিশ্লেষণ কর।

৩। তমিজ মিয়া একজন কৃষক। নিজের ৯০ শতাংশ জমির সাথে অন্যের জমি বর্গা নিয়ে আমনের ধান চাষ করেন। চলতি বন্যায় ফসল নষ্ট হওয়ায় তিনি অসহায় হয়ে পড়েন। লোক মুখে শুনতে পায় শুধু কৃষি

খাতের গতিশীলতা বৃদ্ধির জন্য সরকার একটি ব্যাংক প্রতিষ্ঠা করেছে। তিনি এ ব্যাংক থেকে ঋণ গ্রহণ করে পুনরায় ধান চাষ করে ভাগ্যের পরিবর্তন ঘটান।

ক. ব্যাংক কী? ১

খ. কেন্দ্রীয় ব্যাংকের নিকাশ ঘর বলতে কী বোঝায়? ২

গ. তমিজ মিয়া যে ব্যাংক থেকে ঋণ নিয়েছিল তার স্বরূপ বিশ্লেষণ কর। ৩

ঘ. এ ধরনের ব্যাংক কি দেশের আর্থসামাজিক অবস্থার ব্যাপক পরিবর্তন ঘটায়? মূল্যায়ন কর। ৪

৪। মুনিয়া গত এক বছর ধরে ১ টাকা, ২ টাকা, ৫ টাকা ও ১০ টাকার নোট ব্যক্তিগত মাটির ব্যাংকে জমা করে। পার্শ্ববর্তী দেশে ভ্রমণের জন্য টাকাগুলো নিয়ে ব্যাংকে রূপান্তর করতে গেল। কিন্তু ব্যাংক কর্মকর্তা তার কিছু টাকা ফেরত দিলেন এবং বাকি টাকার সমপরিমাণ ডলার প্রদান করলেন।

ক. কাগজি নোট কাকে বলে? ১

খ. স্থায়ী আমানত বলতে কী বোঝায়? ২

গ. মুনিয়া যে টাকাগুলো রূপান্তর করতে পারল না, তা কোন প্রকার মুদ্রার অন্তর্গত? ব্যাখ্যা কর। ৩

ঘ. মুনিয়া যে টাকাগুলো রূপান্তর করতে পারল পাঠ্যবইয়ের আলোকে তার প্রকৃতি বিশ্লেষণ কর। ৪

৫। হাঁস-মুরগি পালন আর মৎস্যচাষ করে গ্রামের ভূমিহীন আয়েশা আর মিলন দম্পতি আজ স্বাবলম্বী। গ্রাম্য মহাজনদের কাছ থেকে ঋণ নিয়ে এক সময়ের নিঃশ্ব হওয়া দম্পতি আজ ঘুরে দাঁড়িয়েছে। বিনা জামানতে ব্যাংক থেকে ঋণ নিয়ে আর নিজেদের শ্রমকে কাজে লাগিয়ে তারা নিজেরা যেমন স্বাবলম্বী হয়েছে, তেমনি দেশের অর্থনীতিতে ইতিবাচক ভূমিকা রাখছে। তাদের অবস্থার পরিবর্তন গ্রাম্য মহাজনদের দৌরাত্ম্য কমাতে অনেকটাই সক্ষম হয়েছে।

ক. কেন্দ্রীয় ব্যাংক কী? ১

খ. কেন্দ্রীয় ব্যাংককে সর্বশেষ ঋণদাতা বলা হয় কেন? ২

গ. উদ্দীপকে কোন ব্যাংকের ইঙ্গিত দেওয়া হয়েছে? ব্যাখ্যা কর। ৩

ঘ. উদ্দীপকে এ ধরনের ব্যাংকের লক্ষ্য ও উদ্দেশ্যের সম্পূর্ণ প্রতিফলন ঘটেছে কি? মতামতের পক্ষে যুক্তি দাও। ৪

৬। সাজুর বাবা সাজুকে ঢাকায় ব্যাংকের মাধ্যমে ১০,০০০ টাকা পাঠাবেন। সাজু উক্ত টাকা পেয়ে নিজের, ছোট ভাই-বোনের এবং মায়ের জন্য ঈদের কেনাকাটা করে গ্রামের বাড়ি কুষ্টিয়ায় ফেরে।

ক. বাংলাদেশের কেন্দ্রীয় ব্যাংকের নাম কী? ১

খ. ব্যাংক হিসাব পরিচালনায় ইন্টারনেটের ভূমিকা ব্যাখ্যা কর। ২

গ. সাজুর বাবা কুষ্টিয়া থেকে যে টাকা পাঠিয়েছেন তা ব্যাংকের কোন ধরনের কাজের আওতাভুক্ত বর্ণনা কর। ৩

ঘ. সাজুর কেনাকাটায় অর্থের ভূমিকা বর্ণনা কর। ৪

৭। আঁখি ও শিরিন দুইজন বান্ধবী। আঁখি পড়ালেখা করে এবং পড়ালেখার ফাঁকে টিউশনি করে। শিরিন একজন ব্যবসায়ী। প্রতিদিন তার অনেক টাকা ব্যাংকে জমা দিতে হয় ও ওঠাতে হয়। তারা দুই জনই ব্যাংকে হিসাব খুলতে আগ্রহী।

ক. ব্যাংক কত ধরনের হিসাব খোলার সুযোগ দেয়? ১

খ. ব্যাংক হিসাব থেকে কীভাবে টাকা জমা দেওয়া ও তোলা যায়? ২

গ. আঁখি ও শিরিন এ দুজন কোন ধরনের হিসাব খুলবে? ৩

ঘ. আঁখি ও শিরিনের হিসাবের মধ্যে তুলনামূলক বিশ্লেষণ কর। ৪

৮। শিল্পপতি আনিসুর রহমানের অনেক দিনের প্রত্যাশা গ্রামের সবুজ প্রকৃতির এক খেঁ জমিতে একটি আবাসন প্রকল্প গড়ে তোলা। এজন্য তিনি গ্রামের বন্ধু জমির কৃষকের দুটি আম বাগান দাবি করেন। বিনিময়ে তিনি জমিরকে শহরের একটি বাড়ি প্রদান করার প্রতিশ্রুতি দেন। কৃষক জমিরের বাড়িটি প্রয়োজন থাকায় মূল্য গত ব্যাপক পার্থক্য থাকা সত্ত্বেও অসম্ভবচিন্তে শহরের বাড়িটির বিনিময়ে তিনি আমবাগান দুটি বন্ধুকে ছেড়ে দেন।

ক. ধাতব মুদ্রা কী? ১

খ. কাগজি নোট বলতে কী বোঝায়? ২

গ. উদ্দীপকে লেনদেনের কোন মাধ্যমটির ইঙ্গিত দেওয়া হয়েছে? ব্যাখ্যা কর। ৩

ঘ. জমির কৃষকের প্রত্যাশা পূরণে অর্থ কার্যকর ভূমিকা পালন করতে সক্ষম-তুমি কি বক্তব্যটি সমর্থন কর? যুক্তি দাও। ৪

৯। দিল্লি সালতানাতের মুসলিম শাসক সুলতান গিয়াসউদ্দিন বলবন তার সাম্রাজ্যে অর্থনৈতিক স্থিতিশীলতা রক্ষার্থে কিছু অর্থের প্রচলন করেন। যার বাহ্যিক মূল্য অপেক্ষা অন্তর্নিহিত মূল্য বেশি ছিল। তাই এসব অর্থ অল্প সময়ে বাজার থেকে অদৃশ্য হয়ে গেলে তিনি অন্য এক প্রকার অর্থের প্রচলন করেন যার দৃশ্যমান মূল্য অন্তর্নিহিত মূল্য অপেক্ষা বেশি ছিল।

ক. দ্রব্য বিনিময় প্রথা কী? ১

খ. অর্থ বলতে কী বোঝায়? ২

গ. উদ্দীপকে অর্থের কোন প্রকারটির ইঙ্গিত রয়েছে? ব্যাখ্যা কর। ৩

ঘ. অর্থকে কার্যকরভাবে উপস্থাপন করতে উদ্দীপকটির বর্ণনা যথেষ্ট নয়-মন্তব্যটি প্রতিষ্ঠা কর। ৪

১০। পাথরঘাটার মহীপুরের মাছ ব্যবসায়ী দেলোয়ার তার মাছের বিনিময়ে মুদি দোকানদার সেলিম শেখের কাছ থেকে চাল এবং তেল ক্রয় করতে চান। কিন্তু ঐ সময়ে সেলিম শেখের মাছের প্রয়োজন না থাকায় তিনি দেলোয়ারকে ফিরিয়ে দেন। দেলোয়ারের প্রয়োজনের অতিরিক্ত মাছ থাকা সত্ত্বেও তিনি দৈনন্দিন চাহিদা পূরণ করতে ব্যর্থ হন।

ক. অর্থ কী? ১

খ. ধাতব মুদ্রা বলতে কী বোঝায়? ২

গ. উদ্দীপকে দ্রব্য বিনিময় ব্যবস্থার কোন অসুবিধাটির ইঙ্গিত দেয়া হয়েছে? ব্যাখ্যা কর। ৩

ঘ. তুমি কি মনে কর শুধু এই সমস্যার কারণেই অর্থের উদ্ভব ঘটেছে? মতামতের পক্ষে যুক্তি দাও। ৪

১১। বরিশালের হারুন মিয়া ঢাকা শহরে রিকশা চালিয়ে দৈনিক ৫০০ টাকা আয় করে। রিকশার ভাড়া ও খাওয়া বাবদ তার দৈনিক ৩০০ টাকা খরচ হয়। বাকি ২০০ টাকা করে সঞ্চিত টাকা জমা রাখার জন্য গ্যারেজ মালিকের পরামর্শে সে ইসলামী ব্যাংকে একটি হিসাব খোলে। পাঁচ বছর পর অর্থ তুলতে পারবে এমন শর্তের ভিত্তিতে হারুন মিয়া প্রতি মাসে তার হিসাবে অর্থ জমা করে।

ক. ব্যাংকের মুনাফা কী? ১

খ. বাণিজ্যিক ব্যাংক বলতে কী বোঝায়? ২

গ. উদ্দীপকের হারুন মিয়ার খোলা ব্যাংক হিসাবটি কোন ধরনের? ব্যাখ্যা কর। ৩

ঘ. উদ্দীপকে ইঙ্গিতকৃত ব্যাংক হিসাবটিই ব্যাংকে অর্থ জমা করার একমাত্র উপায় নয়-মন্তব্যটি প্রতিষ্ঠা কর। ৪

১২। ঢাকার মগবাজারে অবস্থিত আড়ং-এর বিক্রয় কেন্দ্রে শপিং করতে এসে মধুমিতা এবং তার বান্ধবী স্বর্ণালি ১০০০ টাকা মূল্যের দুটি বিছানার চাদর ক্রয় করে। মধুমিতা বিক্রেতাকে চাদরের মূল্য বাবদ ১০০০ টাকার একটি নোট প্রদান করে যা বিক্রেতা সহজেই গ্রহণ করে। অন্যদিকে স্বর্ণালি চাদরের মূল্য বাবদ ১০০০ টাকার সই করা একটি ব্যাংক চেকের পাতা প্রদান করলে বিক্রেতা তা গ্রহণ করতে অস্বীকৃতি জানায়। ফলে স্বর্ণালি চাদরটি ক্রয় করতে ব্যর্থ হয়।

ক. অগ্রগ-এর পূর্ণরূপ লেখ। ১

খ. অর্থকে মূল্যের পরিমাপক বলা হয় কেন? ২

গ. মধুমিতার প্রদেয় অর্থটি কোন প্রকার অর্থের ধারণা দেয়? ব্যাখ্যা কর। ৩

ঘ. গ্রহণযোগ্যতাগত পার্থক্য থাকার কারণেই সমপরিমাণ অর্থ প্রদান করেও স্বর্ণালি পছন্দের পণ্যটি কিনতে ব্যর্থ হয়- মন্তব্যটি বিশ্লেষণ কর। ৪

১. রূপালী ব্যাংক ● সবগুলো
২. ঋণ নিয়ন্ত্রণ করে কোন ব্যাংক? [স. বো. '১৬]  
ক কৃষি ব্যাংক খ জনতা ব্যাংক গ গ্রামীণ ব্যাংক ● কেন্দ্রীয় ব্যাংক
৩. মুদ্রা বাজারের অভিভাবক কোন ব্যাংক? [স. বো. '১৫]  
ক বাণিজ্যিক ব্যাংক খ গ্রামীণ ব্যাংক  
গ বেসরকারি ব্যাংক ● কেন্দ্রীয় ব্যাংক
৪. বাণিজ্যিক ব্যাংকের মূল উদ্দেশ্য কী? [স. বো. '১৫]  
ক ঋণ নিয়ন্ত্রণ খ নোট তৈরি  
গ আমানত গ্রহণ ● মুনাফা অর্জন
৫. সমবায় ব্যাংকের উদ্দেশ্য কোনটি? [স. বো. '১৫]  
● দারিদ্র্য বিমোচন খ ঋণ নিয়ন্ত্রণ  
গ মুদ্রা প্রচলন ঘ বিনিময় হার নির্ধারণ
৬. বিনিময়ের সবচেয়ে সহজ ও সুবিধাজনক মাধ্যম কোনটি? [স. বো. '১৫]  
ক প্রাইজ বন্ড খ শেয়ার  
● অর্থ ঘ দ্রব্য
৭. জনাব শফিক একজন ব্যাংকার। তিনি যে ব্যাংকে কর্মরত আছেন, সেই ব্যাংক আমানতকারীকে কম সুদ দেয় এবং ঋণ গ্রহণকারীর নিকট থেকে বেশি সুদ আদায় করে। জনাব শফিকের ব্যাংকের মূল লক্ষ্য কী? [স. বো. '১৫]  
ক ঋণ নিয়ন্ত্রণ করা খ নোট ইস্যু করা  
● মুনাফা অর্জন করা ঘ মুদ্রা বাজার নিয়ন্ত্রণ করা
৮. গ্রামীণ ব্যাংক প্রতিষ্ঠিত হয় কত সালে? [পুলিশ লাইন স্কুল এন্ড কলেজ, বগুড়া]  
ক ১৯৭২ খ ১৯৮৫ ● ১৯৮৩ ঘ ১৯৭৩
৯. জনাব নোমান তার অতিরিক্ত চালের বিনিময়ে জনাব আরিফের কাছ থেকে আলু নিতে চান। কিন্তু আরিফের চালের প্রয়োজন না থাকায় চাল এবং আলু বিনিময় সম্ভব নয়। এ ঘটনায় দ্রব্য বিনিময় প্রথার কোন ত্রুটিটি প্রকাশ পেয়েছে। [ভিকারনিসা নূন স্কুল এন্ড কলেজ, ঢাকা]  
ক দ্রব্যের স্থানান্তর সমস্যা খ দ্রব্যের মূল্য পরিমাপের সমস্যা  
● অভাবের অমিল ঘ দ্রব্য বণ্টনের সমস্যা
১০. আধুনিক অর্থনীতিতে বিনিময়ের মাধ্যম হিসেবে সর্বজনস্বীকৃত কোনটি? [হলিক্রস উচ্চ বালিকা বিদ্যালয়, ঢাকা]  
● অর্থ খ দ্রব্য গ স্বর্ণ ঘ রৌপ্য
১১. অর্থের প্রথম ও প্রধান কাজ কী? [হলিক্রস বালিকা উচ্চ বিদ্যালয়, ঢাকা]  
● বিনিময়ের মাধ্যম হিসেবে ব্যবহৃত হওয়া  
খ দ্রব্য ভাগের অসুবিধা দূর করা  
গ সঞ্চয়ের বাহন হিসেবে ব্যবহৃত হওয়া  
ঘ মূল্যের পরিমাপক হিসেবে ব্যবহৃত হওয়া
১২. অর্থের প্রধান বৈশিষ্ট্য কোনটি? [কাদিরাবাদ ক্যান্টনমেন্ট পাবলিক স্কুল, নাটোর]  
ক ব্যবহারগত সুবিধা খ সঞ্চয়ের মাধ্যম  
গ উৎপাদনগত সুবিধা ● দেনা-পাওনা মেটানোর উপায়

### সাধারণ বহুনির্বাচনি প্রশ্নোত্তর

১. বাংলাদেশের বাণিজ্যিক ব্যাংক কোনটি? [স. বো. '১৬]  
ক সোনালী ব্যাংক খ জনতা ব্যাংক

১৩. কিসের প্রচলনের ফলে ঋণগ্রহণ ও পরিশোধ সহজলভ্য হয়েছে?  
[বগুড়া সরকারি বালিকা উচ্চ বিদ্যালয়]

ক মুদ্রা ● অর্থ গ দ্রব্য ঘ ডলার

১৪. সঞ্চয়ের নিরাপদ মাধ্যম কোনটি?  
[ঢাকা রেসিডেন্সিয়াল কলেজ]

ক দ্রব্য ● অর্থ গ স্বর্ণ ঘ রৌপ্য

১৫. ডলার কোন দেশের মুদ্রা?  
[ঢাকা রেসিডেন্সিয়াল কলেজ]

ক বাংলাদেশ ● আমেরিকা গ ভারত ঘ পাকিস্তান

১৬. ১০০ টাকার একটি প্রাইজবন্ড কোন ধরনের মুদ্রা?  
[ভিকারুননিসা নূন স্কুল এন্ড কলেজ, ঢাকা]

● ব্যাংক হিসাবি ঋ কাগজি গ প্রামাণিক ঘ প্রতীক

১৭. ৫০০ টাকার নোট কোন ধরনের কাগজি মুদ্রা?  
[পাবনা সরকারি বালিকা উচ্চ বিদ্যালয়]

ক বিহিত ঋ হিসাবি গ অরূপান্তরযোগ্য ● রূপান্তরযোগ্য

১৮. বাংলাদেশের ১ ও ২ টাকার নোট কোন ধরনের মুদ্রা?  
[হলিক্রস উচ্চ বালিকা বিদ্যালয়, ঢাকা]

ক অসীম ঋ প্রতীক ● রূপান্তর অযোগ্য ঘ ব্যাংক

১৯. রূপান্তর অযোগ্য কাগজি মুদ্রা কোনটি?  
[খিলগাঁও গার্লস স্কুল এন্ড কলেজ, ঢাকা]

● ২ টাকা ঋ ৫ টাকা গ ১০ টাকা ঘ ২০ টাকা

২০. গ্রহণের বাধ্যবাধকতার দিক দিয়ে অর্থকে কয়ভাগে ভাগ করা যায়?  
[হলিক্রস বালিকা উচ্চ বিদ্যালয়, ঢাকা]

● দুই ঋ তিন গ চার ঘ পাঁচ

২১. যে অর্থ সরকারি আইন দ্বারা প্রচলিত তাকে কী বলে?  
[ঢাকা রেসিডেন্সিয়াল কলেজ]

● বিহিত অর্থ ঋ ধাতব মুদ্রা গ প্রতীক মুদ্রা ঘ কাগজি মুদ্রা

২২. কেন্দ্রীয় ব্যাংকের প্রধান কাজ কোনটি?  
[শিলক্ষমারী সরকারি উচ্চ বিদ্যালয়]

ক ঋণ দান ● মুদ্রা প্রচলন গ বৈদেশিক বাণিজ্য ঘ মুনাফা অর্জন

২৩. দেশের বর্তমান অর্থের যোগান ও তার মূল্য কিসের ওপর নির্ভর করে?  
[ইউনিভার্সিটি ল্যাবরেটরি স্কুল এন্ড কলেজ, ঢাকা]

ক বাণিজ্যিক ব্যাংকের নীতির ঋ সরকারের নীতির ● কেন্দ্রীয় ব্যাংকের নীতির ঘ বেসরকারি আর্থিক প্রতিষ্ঠানের নীতির

২৪. বাংলাদেশ ব্যাংক কত সালে প্রতিষ্ঠিত হয়েছে?  
[পুলিশ লাইন স্কুল এন্ড কলেজ, বগুড়া]

ক ১৯৭১ ● ১৯৭২ গ ১৯৭৫ ঘ ১৯৭৮

### বহুপদী সমাপ্তিসূচক বহুনির্বাচনি প্রশ্নোত্তর

২৫. অর্থ হলো-  
[কাদিরাবাদ ক্যান্টনমেন্ট পাবলিক স্কুল এন্ড কলেজ, নাটোর]

র. ঋণের ভিত্তি

রর. সঞ্চয়ের বাহন

ররর. অভাব পূরণের মাধ্যম

নিচের কোনটি সঠিক?

ক র ও রর ঋ র ও ররর গ রর ও ররর ● র, রর ও ররর

২৬. বাংলাদেশে প্রচলিত ১ ও ২ টাকার নোট হলো-  
[অহ্মণী গার্লস স্কুল এন্ড কলেজ, ঢাকা]

রর. বিহিত মুদ্রা

ররর. প্রতীকী ধাতব মুদ্রা

নিচের কোনটি সঠিক?

● র ও রর ঋ র ও ররর গ রর ও ররর ঘ র, রর ও ররর

২৭. ব্যাংক ড্রাফট কী?  
[বিএএফ শাহীন কলেজ, চট্টগ্রাম]

ক মুদ্রা ঋ টাকা ● ঐচ্ছিক মুদ্রা ঘ অসীম বিহিত মুদ্রা

২৮. বাণিজ্যিক ব্যাংকের মূল উদ্দেশ্য হলো-  
[বিএএফ শাহীন কলেজ, চট্টগ্রাম]

র. মুনাফা অর্জন

রর. জনসেবা

ররর. অর্থকে নিরাপদ রাখা

নিচের কোনটি সঠিক?

● র ঋ রর গ ররর ঘ র ও ররর

২৯. আধুনিক অর্থনীতিতে অর্থ হলো-  
[ভিকারুননিসা নূন স্কুল এন্ড কলেজ, ঢাকা]

র. বিনিময়ের মাধ্যম

রর. মূল্য পরিমাপক

ররর. উৎপাদিত দ্রব্যের পরিমাণ

নিচের কোনটি সঠিক?

● র ও রর ঋ র ও ররর গ রর ও ররর ঘ র, রর ও ররর

### অভিন্ন তথ্যভিত্তিক বহুনির্বাচনি প্রশ্নোত্তর

নিচের অনুচ্ছেদটি পড়ে ৩০ ও ৩১ নং প্রশ্নের উত্তর দাও :

মনির একটি ব্যাংকে চাকরি করে, যে ব্যাংক জনগণের অর্থ জমা রাখে না অথচ সকল আর্থিক প্রতিষ্ঠানকে নিয়ন্ত্রণ করে। [স. বো. '১৬]

৩০. মনির চাকরির ব্যাংকটি-

ক সোনালী ব্যাংক ঋ রূপালী ব্যাংক গ অহ্মণী ব্যাংক ● বাংলাদেশ ব্যাংক

৩১. দেশের অর্থনীতিতে উক্ত ব্যাংকের অবদান-

র. ঋণ নিয়ন্ত্রণ করা

রর. সঞ্চয় বৃদ্ধি করা

ররর. বিনিময় হার ঠিক রাখা

নিচের কোনটি সঠিক?

ক র ও রর খ র ও ররর গ রর ও ররর ● র, রর ও ররর

নিচের অনুচ্ছেদটি পড় এবং ৩২ ও ৩৩ নং প্রশ্নের উত্তর দাও :

খুকুমনি ব্যাংকে একটি হিসাব খুললেন। তার হিসাবে প্রতিদিন টাকা লেনদেন করা যায় কিন্তু জমা টাকায় সুদ পাওয়া যায় না। [স. বো. '১৬]

৩২. খুকুমনি ব্যাংকে কী ধরনের হিসাব খুললেন?

র. সঞ্চয়ী

রর. চলতি

ররর. স্থায়ী

নিচের কোনটি সঠিক?

ক র খ রর গ ররর ঘ র ও ররর

৩৩. খুকুমনিকে জমা টাকার সুদ পেতে হলে ব্যাংকে কোন ধরনের হিসাব খুলতে হবে?

র. চলতি

রর. সঞ্চয়ী

ররর. স্থায়ী

নিচের কোনটি সঠিক?

ক র খ রর গ ররর ঘ রর ও ররর

নিচের অনুচ্ছেদটি পড়ে ৩৪ ও ৩৫ নং প্রশ্নের উত্তর দাও :

রহমান সাহেবের ব্যাংকে যে হিসাবটি রয়েছে, সে হিসাবে তিনি সপ্তাহে দুবারের বেশি টাকা তুলতে পারেন না। অন্যদিকে তার ছেলে যে ব্যাংকে চাকরি করেন, সেখানে কেউ সাধারণ মানুষ হিসাব খুলতে পারে না।

[হলিক্রস বালিকা উচ্চ বিদ্যালয়, ঢাকা]

৩৪. রহমান সাহেবের ব্যাংক হিসাবটি কোন ধরনের?

● চলতি খ স্থায়ী গ সঞ্চয়ী ঘ স্বল্পমেয়াদি

৩৫. রহমান সাহেবের ছেলের কর্মরত ব্যাংকটির বৈশিষ্ট্য হলো—

র. নোট প্রচলন

রর. ঋণ নিয়ন্ত্রণ

ররর. সঞ্চয় বৃদ্ধি

নিচের কোনটি সঠিক?

● র ও রর খ র ও ররর গ রর ও ররর ঘ র, রর ও ররর

নিচের অনুচ্ছেদটি পড়ে ৩৬ ও ৩৭ নং প্রশ্নের উত্তর দাও :

আয়শা বেগম একজন গৃহিণী। স্বামীর সামান্য আয় দিয়ে সংসারের ব্যয়ভার বহন করা কষ্টসাধ্য বলে সে স্থানীয় একটি ব্যাংক থেকে ঋণ নিয়ে হাঁস-মুরগির খামার গড়ে তোলে। হাঁস-মুরগির ডিম বিক্রি করে আজ সে স্বাবলম্বী।

[আন্তঃক্যান্টনমেন্ট বোর্ড হাইস্কুল, বগুড়া]

৩৬. আয়শা বেগম কোন প্রতিষ্ঠান থেকে ঋণ নেয়?

ক সোনালী ব্যাংক ● গ্রামীণ ব্যাংক

গ কর্মসংস্থান ব্যাংক

ঘ বাংলাদেশ ব্যাংক

৩৭. আয়শা বেগমকে ঋণদানকারী প্রতিষ্ঠানটি—

র. মুদ্রার যোগান নিয়ন্ত্রণ করে

রর. দারিদ্র্যবিমোচনে কাজ করে

ররর. বেকারত্ব দূরীকরণে সাহায্য করে

নিচের কোনটি সঠিক?

ক র ও রর খ র ও ররর ● রর ও ররর ঘ র, রর ও ররর

## ■ বিষয়ক্রম অনুযায়ী বহুনির্বাচনি প্রশ্নোত্তর

### ➔ ৭.১ : অর্থ ও অর্থের প্রকারভেদ ➔

- দ্রব্যের বিনিময়ে দ্রব্য প্রাপ্তিকে বলা হয়— বিনিময় প্রথা।
- আধুনিক অর্থনীতিতে সর্বজন স্বীকৃত বিনিময় মাধ্যম হলো— অর্থ।
- ধাতব মুদ্রাকে— ২ ভাগে ভাগ করা যায়।
- কাগজি মুদ্রাকে— ২ ভাগে ভাগ করা যায়।
- সরকারি আইন দ্বারা প্রচলিত অর্থকে বলে— বিহিত মুদ্রা।
- ডেবিট কার্ড, ক্রেডিট কার্ড, ব্যাংক ড্রাফট ইত্যাদি— ব্যাংক সৃষ্ট মুদ্রা।

## সাধারণ বহুনির্বাচনি প্রশ্নোত্তর

৩৮. অর্থ ও ঋণের ব্যবসা কিসের মাধ্যমে হয়ে থাকে? (জ্ঞান)  
ক দ্রব্যের খ স্বর্ণের ● আর্থিক প্রতিষ্ঠান ঘ শিল্পের
৩৯. জমির কৃষক তার উৎপাদিত চালের বিনিময়ে ছিন্ন মাঝির কাছ থেকে মাছ সংগ্রহ করল। এ বিষয়টি নিচের কোন ব্যবস্থাটির ইস্তিত দেয়? (প্রয়োগ)  
● বিনিময় খ অর্থ গ উৎপাদন ঘ আমদানি
৪০. বিনিময় প্রথা বলতে কী বোঝায়? (অনুধাবন)  
● দ্রব্যের সাথে দ্রব্যের বিনিময়  
খ টাকার বিনিময়ে টাকা প্রাপ্তি  
গ দ্রব্যের মূল্য হিসেবে স্বর্ণের ব্যবহার  
ঘ সঞ্চয়ের বাহন হিসেবে টাকার ব্যবহার
৪১. দ্রব্য বিনিময় প্রথায় কিসের মাধ্যমে ঋণ পরিশোধ করতে হয়? (অনুধাবন)  
ক অর্থের খ শ্রমের ● দ্রব্যের ঘ চেকের
৪২. কৃষক তার ধানের বিনিময়ে তাঁতির কাছ থেকে কাপড় এবং জেলে তার মাছের বিনিময়ে কুমারের নিকট থেকে হাঁড়ি-পাতিল সংগ্রহ করত। এভাবে লেনদেনের মাধ্যমে অভাব পূরণের নাম কী? (প্রয়োগ)  
ক অর্থ বিনিময় খ বিনিময় প্রথা  
গ অর্থব্যবস্থা ● দ্রব্য বিনিময় প্রথা
৪৩. এক দ্রব্যের পরিবর্তে অন্য দ্রব্য বিনিময় করে অভাব পূরণ করার ব্যবস্থাকে কী বলে? (জ্ঞান)

- ক অর্থব্যবস্থা ● বিনিময়ব্যবস্থা
- গ দ্রব্যব্যবস্থা ঘ ব্যাংকব্যবস্থা
৪৪. কোনটি বিনিময় প্রথার ইংরেজি শব্দ? (জ্ঞান)  
● ইথৎগবৎ তুৎগবস ঋ ইথৎগবৎ তুৎগবস
- গ ইবৎগৎ তুৎগবস ঘ ইউৎগৎ তুৎগবস
৪৫. কোন সময় পর্যন্ত দ্রব্য বিনিময় প্রথা চালু ছিল? (জ্ঞান)  
● অর্থ আবিষ্কারের পূর্ব ঋ মধ্যযুগ
- গ প্রথম বিশ্বযুদ্ধ ঘ দ্বিতীয় বিশ্বযুদ্ধ
৪৬. অর্থের আবির্ভাব ঘটে কেন? (অনুধাবন)  
● বিনিময় প্রথার অসুবিধা দূরীকরণে
- ঋ আধুনিক সমাজ ব্যবস্থার সাথে তাল মিলানোর জন্য
- গ মানুষের অভাব পূরণের জন্য
- ঘ মানুষের ভবিষ্যৎ নিরাপত্তা নিশ্চিত করার জন্য
৪৭. বিনিময় প্রথার অসুবিধা দূর করতে কিসের আবির্ভাব ঘটেছে? (জ্ঞান)  
● অর্থের ঋ ব্যবসা-বাণিজ্যের
- গ শিল্পের ঘ কৃষির
৪৮. যে বস্তু দ্বারা মানুষ পণ্যসামগ্রী ক্রয়-বিক্রয় করে তাকে অর্থ বলে। এক্ষেত্রে অর্থের প্রধান বৈশিষ্ট্য কোনটি? (প্রয়োগ)  
ক অর্থ সঞ্চয়ের বাহন ● অর্থ বিনিময়ের মাধ্যম
- গ অর্থ মূল্যের পরিমাপক ঘ অর্থ ঋণের ভিত্তি
৪৯. অর্থ কীভাবে সঞ্চয়ের কাজ করে? (অনুধাবন)  
ক বাহক হিসেবে ● বাহন হিসেবে
- গ পরিমাপক হিসেবে ঘ চাহিদার একক হিসেবে
৫০. কোনো ব্যক্তি দশ টাকা দিয়ে একটি কলা কিনল। এখানে দশ টাকা কী হিসেবে পরিগণিত? (প্রয়োগ)  
● দ্রব্যের মূল্যের পরিমাপক ঋ বিনিময় মূল্য
- গ চাহিদার একক ঘ দ্রব্যের দাম
৫১. বাংলাদেশের অর্থ কী নামে পরিচিত? (জ্ঞান)  
ক ডলার ঋ ইউরো গ পাউন্ড ● টাকা
৫২. মিজান আমেরিকা গিয়ে যে অর্থ ব্যয় করবে তা কী নামে পরিচিতি পাবে? (প্রয়োগ)  
● ডলার ঋ ইউরো গ পাউন্ড ঘ টাকা
৫৩. ইউরোপের অধিকাংশ দেশের অর্থের নাম কী? (জ্ঞান)  
● ইউরো ঋ ডলার গ রুপি ঘ দিনার
৫৪. তৈরির উপকরণের দিক দিয়ে অর্থকে কয়ভাগে ভাগ করা হয়েছে? (জ্ঞান)  
● দুই ঋ তিন গ চার ঘ পাঁচ
৫৫. ধাতব মুদ্রা কী দিয়ে তৈরি করা হয়েছে? (জ্ঞান)  
● ধাতব খন্ড ঋ কাগজ গ পাথর ঘ মাটি
৫৬. ধাতব খন্ড দ্বারা তৈরি যে মুদ্রার মাধ্যমে মানুষ প্রাত্যহিক জীবনের লেনদেন করে তাকে কী বলে? (জ্ঞান)  
● ধাতব মুদ্রা ঋ অর্থ

- গ বিহিত মুদ্রা ঘ প্রামাণিক মুদ্রা
৫৭. ধাতব খন্ড দ্বারা তৈরি যে মুদ্রার মাধ্যমে মানুষ প্রাত্যহিক জীবনের লেনদেন করে তাকে কী বলে? (জ্ঞান)  
● ধাতব মুদ্রা ঋ অর্থ গ বিহিত মুদ্রা ঘ প্রামাণিক মুদ্রা
৫৮. ধাতব মুদ্রাকে বস্তুগত মূল্যমানের দিক দিয়ে কয়ভাগে ভাগ করা যায়? (জ্ঞান)  
● দুই ঋ তিন গ চার ঘ পাঁচ
৫৯. যে মুদ্রা গলানোর মাধ্যমে ধাতু হিসেবে বিক্রি করলে দৃশ্যমান মূল্যের সমপরিমাণ মূল্য পাওয়া যায় তাকে কী বলে? (জ্ঞান)  
ক বিহিত মুদ্রা ● প্রামাণিক মুদ্রা
- গ প্রতীক মুদ্রা ঘ কাগজি মুদ্রা
৬০. যে মুদ্রার ধাতব মূল্য তার দৃশ্যমান মূল্যের চেয়ে কম থাকে তাকে কী বলে? (জ্ঞান)  
ক ধাতব মুদ্রা ● প্রতীক মুদ্রা গ বিহিত মুদ্রা ঘ প্রামাণিক মুদ্রা
৬১. সাধারণত ধাতব মুদ্রা কার দ্বারা প্রচলিত হয়? (জ্ঞান)  
● সরকার ঋ জনগণ
- গ ব্যবসায়ী শ্রেণি ঘ শিল্পপতি
৬২. যেসব মুদ্রা কাগজ দ্বারা তৈরি তাকে কী বলে? (জ্ঞান)  
● কাগজি মুদ্রা ঋ প্রামাণিক মুদ্রা
- গ প্রতীক মুদ্রা ঘ বিহিত মুদ্রা
৬৩. বিশ্বের প্রায় সকল দেশে কোন ধরনের মুদ্রা প্রচলন দেখা যায়? (জ্ঞান)  
● কাগজি ঋ প্রামাণিক গ ব্যাংক হিসাব ঘ রূপান্তরযোগ্য
৬৪. সরকারি নির্দেশে কোন ব্যাংক কর্তৃক কাগজি মুদ্রা প্রচলিত হয়? (জ্ঞান)  
● কেন্দ্রীয় ব্যাংক ঋ রূপালী ব্যাংক
- গ কৃষি ব্যাংক ঘ সোনালী ব্যাংক
৬৫. বাংলাদেশের ১০০০ টাকার নোট হলো- (উচ্চতর দক্ষতা)  
● কাগজি মুদ্রা ঋ প্রামাণিক মুদ্রা গ প্রতীক মুদ্রা ঘ ধাতব মুদ্রা
৬৬. কাগজি মুদ্রাকে কয়ভাগে ভাগ করা যায়? (জ্ঞান)  
● দুই ঋ তিন গ চার ঘ পাঁচ
৬৭. কোন মুদ্রার পরিবর্তে চাওয়ামাত্র সরকারের সমমূল্যের দেশীয় মুদ্রা দিতে বাধ্য থাকে? (জ্ঞান)  
● রূপান্তরযোগ্য ঋ প্রতীক
- গ কাগজি ঘ বিহিত
৬৮. কোন টাকার বিনিময়ে সরকারের কাছ থেকে কোনো বৈদেশিক মুদ্রা বা সোনা, রূপা পাওয়া যায় না? (জ্ঞান)  
● রূপান্তর অযোগ্য মুদ্রা ঋ রূপান্তরযোগ্য মুদ্রা
- গ প্রামাণিক মুদ্রা ঘ প্রতীক মুদ্রা
৬৯. যে কাগজি মুদ্রার পরিবর্তে সরকারের কাছ থেকে কোনো ধাতব মুদ্রা বা সোনা, রূপা পাওয়া যায় না তাকে রূপান্তর অযোগ্য মুদ্রা বলে। কেবল সরকারের আদেশে এ রকম কাগজি নোট বাজারে চালু থাকে। এ প্রেক্ষিতে কোনগুলো জাতীয় মুদ্রা? (উচ্চতর দক্ষতা)  
ক ১০ ও ২০ টাকার নোট ঋ ৫০ পয়সা
- গ ১০০ টাকার নোট ● ১ টাকা ও ২ টাকার নোট

৭০.	বিহিত অর্থকে কয় ভাগে ভাগ করা যায়? ● দুই	খ তিন	গ চার	ঘ পাঁচ	(জ্ঞান)
৭১.	কোন মুদ্রা সরকারি আইনানুযায়ী যে কোনো পরিমাণ আদায় প্রদান করা যায়? ক সসীম বিহিত	● অসীম বিহিত			(জ্ঞান)
	গ কাগজি	ঘ ধাতব			
৭২.	কোনটি অসীম বিহিত মুদ্রা? ক ১ টাকার নোট	খ ২ টাকার নোট			(জ্ঞান)
	● ৫০ টাকার নোট	ঘ ৫ টাকার ধাতব মুদ্রা			
৭৩.	বাংলাদেশের ৫ টাকার ও ১০ টাকার নোট কোন শ্রেণির? ক অসীম মুদ্রা	● অসীম বিহিত মুদ্রা			(অনুধাবন)
	গ সসীম মুদ্রা	ঘ সসীম বিহিত মুদ্রা			
৭৪.	কোনটি সসীম বিহিত মুদ্রা? ক ৫০ টাকার নোট	খ ১০০ টাকার নোট			(অনুধাবন)
	গ ২০ টাকার নোট	ঘ ৫ টাকার নোট			
৭৫.	নিচের কোনটিকে চিহ্নিত মুদ্রা বলে? ক বিদেশে প্রচলিত মুদ্রা	● দেশে প্রচলিত মুদ্রা			(জ্ঞান)
	গ গ্রহণযোগ্য মুদ্রা	ঘ হিসাবি মুদ্রা			
৭৬.	কোন মুদ্রা দ্বারা একটি নির্দিষ্ট সীমা পর্যন্ত লেনদেন করা যায়? ● সসীম বিহিত	খ অসীম বিহিত			(জ্ঞান)
	গ কাগজি	ঘ ধাতব			
৭৭.	কোন মুদ্রা গ্রহণে কাউকে বাধ্য করা যায় না? ● ব্যাংক হিসাব	খ বিহিত			(জ্ঞান)
	গ কাগজি	ঘ হিসাবি			
৭৮.	কোনটি ব্যাংক সৃষ্ট অর্থ? ক ডলার	খ টাকা			(জ্ঞান)
	গ পাউন্ড	● ব্যাংক ড্রাফট			
৭৯.	নিচের কোনটি ব্যাংক অর্থ? ক ১ টাকার নোট	খ ১০ টাকার নোট			(জ্ঞান)
	গ ১০০০ টাকার নোট	● চেক			
৮০.	চেক, ব্যাংক ড্রাফট, প্রাইজবন্ড কী ধরনের মুদ্রা? ● ব্যাংক সৃষ্ট অর্থ	খ বিহিত			(জ্ঞান)
	গ কাগজি	ঘ হিসাবি			

### বহুপদী সমাপ্তিসূচক বহুনির্বাচনি প্রশ্নোত্তর

৮১.	বিনিময় প্রথায় মানুষকে যেসব সমস্যার সম্মুখীন হতে হয়- র. দ্রব্য বিভাজনে অসুবিধা	(অনুধাবন)
	রর. অভাব পূরণে অক্ষমতা	
	ররর. অভাবের অমিল	

নিচের কোনটি সঠিক?

ক র ও রর ● র ও ররর গ রর ও ররর ঘ র, রর ও ররর

৮২. অর্থ প্রচলনের মাধ্যমে দ্রব্য বিনিময় প্রথার অসুবিধা দূরীভূত হয়। কারণ এর ফলে-  
(উচ্চতর দক্ষতা)

র. দ্রব্য বিভাজনজনিত সমস্যায় পড়তে হয় না

রর. যেকোনো স্থানে অর্থ সহজে বহন করা যায়

ররর. যেকোনো বস্তুর মূল্য সহজে প্রকাশ করা যায়

নিচের কোনটি সঠিক?

ক র ও রর খ র ও ররর গ রর ও ররর ● র, রর ও ররর

৮৩. ৫০ পয়সার মুদ্রাকে বলে-  
র. অসীম বিহিত মুদ্রা  
(প্রয়োগ)

রর. সসীম বিহিত মুদ্রা

ররর. মুদ্রা

নিচের কোনটি সঠিক?

ক র ● রর গ ররর ঘ র ও ররর

৮৪. প্রাইজবন্ডকে বলা হয়-  
র. বিহিত মুদ্রা  
(প্রয়োগ)

রর. হিসাবি মুদ্রা

ররর. ঐচ্ছিক মুদ্রা

নিচের কোনটি সঠিক?

ক র খ রর ● ররর ঘ র ও রর

৮৫. দ্রব্য বিনিময়ের শর্ত হলো-  
র. অভাবের মিল থাকতে হবে  
(অনুধাবন)

রর. দ্রব্য বিনিময়ের মানসিকতা থাকতে হবে

ররর. দ্রব্য থাকতে হবে

নিচের কোনটি সঠিক?

ক র ও রর খ র ও ররর ● রর ও ররর ঘ র, রর ও ররর

৮৬. মানব সভ্যতার ইতিহাসে যুগান্তকারী ঘটনা হিসেবে বিবেচিত-  
র. বিনিময় প্রথার প্রচলন  
(উচ্চতর দক্ষতা)

রর. অর্থের উদ্ভাবন

ররর. আণ্ডনের আবিষ্কার

নিচের কোনটি সঠিক?

ক র ও রর খ র ও ররর ● রর ও ররর ঘ র, রর ও ররর

৮৭. অর্থের প্রচলনের ফলে-  
র. দ্রব্যের মূল্য বিনষ্টের ঝুঁকি দূর হয়েছে  
(উচ্চতর দক্ষতা)

রর. মানুষের অর্থনৈতিক জীবনে গতিশীলতা সৃষ্টি হয়েছে



১০০. মানুষের সব অভাব মেটানো সম্ভব হয়েছে  
নিচের কোনটি সঠিক?  
● র ও রর      খ র ও ররর      গ রর ও ররর      ঘ র, রর ও ররর
১০১. সামীর কাছে দুটি কাপড় আছে। একটি কাপড়ের বিনিময়ে সে উর্মির কাছ থেকে চাল নিতে চাচ্ছে। কিন্তু উর্মির কাপড়ের প্রয়োজন নেই। এখানে দ্রব্য বিনিময়ের যেসব ধরনের সমস্যা পরিলক্ষিত হচ্ছে— (প্রয়োগ)  
র. অভাবের অমিল  
রর. দ্রব্যের মূল্যের অসামঞ্জ্যতা  
ররর. দ্রব্য স্থানান্তরে সমস্যা  
নিচের কোনটি সঠিক?  
● র ও রর      খ র ও ররর      গ রর ও ররর      ঘ র, রর ও ররর
১০২. দ্রব্য বিনিময় প্রথা ঋণ পরিশোধ করতে গেলে— (উচ্চতর দক্ষতা)  
র. দ্রব্য ভাগজনিত সমস্যা সৃষ্টি হয়  
রর. অভাবের অমিল দেখা দেয়  
ররর. সামাজিক বিশৃঙ্খলা সৃষ্টি হয়  
নিচের কোনটি সঠিক?  
● র ও রর      খ র ও ররর      গ রর ও ররর      ঘ র, রর ও ররর
১০৩. প্রাচীনকালে দ্রব্য বিনিময় প্রথা চালু হয়েছিল— (অনুধাবন)  
র. বিভিন্ন ধরনের অভাব দেখা দেওয়ায়  
রর. স্বাবলম্বন মানসিকতাকে কেন্দ্র করে  
ররর. দ্রব্যের প্রয়োজনীয়তার উপলব্ধি থেকে  
নিচের কোনটি সঠিক?  
● র ও রর      খ র ও ররর      গ রর ও ররর      ঘ র, রর ও ররর
১০৪. অর্থকে বিবেচনা করা হয়— (উচ্চতর দক্ষতা)  
র. সামাজিক মর্যাদার প্রতীক হিসেবে  
রর. দ্রব্যের মূল্যের পরিমাপক হিসেবে  
ররর. ঋণ ও সঞ্চয়ের বাহন হিসেবে  
নিচের কোনটি সঠিক?  
ক র ও রর      খ র ও ররর      গ রর ও ররর      ● র, রর ও ররর
১০৫. ধাতব মুদ্রা বলতে বোঝায়— (অনুধাবন)  
র. সরকার প্রবর্তিত মুদ্রাকে  
রর. ধাতব খণ্ড দ্বারা তৈরি মুদ্রাকে  
ররর. কাগজ দ্বারা তৈরি মুদ্রাকে  
নিচের কোনটি সঠিক?  
● র ও রর      খ র ও ররর      গ রর ও ররর      ঘ র, রর ও ররর

১০৬. বাংলাদেশের বিহিত অর্থ— (উচ্চতর দক্ষতা)  
র. সরকার কর্তৃক প্রচলিত  
রর. কেন্দ্রীয় ব্যাংক কর্তৃক প্রচলিত  
ররর. শিল্প ব্যাংক কর্তৃক প্রচলিত  
নিচের কোনটি সঠিক?  
● র ও রর      খ র ও ররর      গ রর ও ররর      ঘ র, রর ও ররর
১০৭. অসীম বিহিত মুদ্রা— (অনুধাবন)  
র. আইনগতভাবে যেকোনো পরিমাণ লেনদেন করা যায়  
রর. দেনা-পাওনা পরিশোধ করলে পাওনাদার তা গ্রহণ করতে বাধ্য থাকে  
ররর. একটি নির্দিষ্ট সীমা পর্যন্ত লেনদেন করা যায়  
নিচের কোনটি সঠিক?  
● র ও রর      খ র ও ররর      গ রর ও ররর      ঘ র, রর ও ররর
১০৮. আমাদের দেশের বিহিত অর্থ— (উচ্চতর দক্ষতা)  
র. ধাতব মুদ্রা দ্বারা গঠিত  
রর. স্বর্ণ-রৌপ্য নির্মিত  
ররর. কাগজি নোট দিয়ে তৈরি  
নিচের কোনটি সঠিক?  
ক র ও রর      ● র ও ররর      গ রর ও ররর      ঘ র, রর ও ররর
১০৯. সসীম বিহিত অর্থ— (অনুধাবন)  
র. জনগণের ইচ্ছানুযায়ী গ্রহণ করা হয়  
রর. একটি নির্দিষ্ট সীমা পর্যন্ত লেনদেন করা যায়  
ররর. যেকোনো পরিমাণ লেনদেন করা যায়  
নিচের কোনটি সঠিক?  
● র ও রর      খ র ও ররর      গ রর ও ররর      ঘ র, রর ও ররর
১১০. আমাদের দেশের ব্যাংক সৃষ্টি অর্থ হলো— (উচ্চতর দক্ষতা)  
র. চলতি হিসাবে আমানত  
রর. সঞ্চয়ী হিসাবে আমানত  
ররর. ব্যবসায়িক আমানত  
নিচের কোনটি সঠিক?  
● র ও রর      খ র ও ররর      গ রর ও ররর      ঘ র, রর ও ররর

### অভিন্ন তথ্যভিত্তিক বহুনির্বাচনি প্রশ্নোত্তর

নিচের অনুচ্ছেদটি পড়ে ৯৮ ও ৯৯ নং প্রশ্নের উত্তর দাও :

শরীফুল ইসলাম একজন কৃষক। তার উৎপাদিত চাল এবং আলুর বিনিময়ে সে বন্ধু জমির আলীর কাছ থেকে মাছ নিতে চাচ্ছে। কিন্তু জমির আলীর পর্যাপ্ত মাছ না থাকায় এবং চালের প্রয়োজন না হওয়ায় শরীফুল ইসলাম তার কাজটি করতে সক্ষম হননি।

৯৮. অনুচ্ছেদে নিচের কোন ব্যবস্থার ইঙ্গিত দেওয়া হয়েছে? (প্রয়োগ)  
● দ্রব্য বিনিময় প্রথা      ✕ অর্থ ব্যবস্থা

গ উৎপাদন ব্যবস্থা      ঘ আমদানি-রপ্তানি ব্যবস্থা

৯৯. অনুচ্ছেদে ইঙ্গিতকৃত বিষয় সফল না হওয়ার কারণ- (উচ্চতর দক্ষতা)  
র. দ্রব্য স্থানান্তরে অসুবিধা

রর. চাহিদার অমিল থাকা

ররর. দ্রব্যের মূল্য নির্ধারণজনিত সমস্যা

নিচের কোনটি সঠিক?

ক র ও রর      ✕ র ও ররর      ● রর ও ররর      ঘ র, রর ও ররর

নিচের অনুচ্ছেদটি পড়ে ১০০ ও ১০১ নং প্রশ্নের উত্তর দাও :

ইসমাম জামান ছোটবেলা থেকে বিভিন্ন ধরনের কয়েন জমিয়ে একটি মাটির ব্যাংকে জমা রাখে। এসব কয়েনের মধ্যে ৫ টাকা, ২ টাকা প্রভৃতি মূল্যের কয়েন ছিল। কিছুদিন পর ইসমামের বাবা কয়েনগুলোর বিনিময়ে তাকে সমপরিমাণ টাকা দেন। যা পেয়ে ইসমাম খুব খুশি হয়।

১০০. ইসলামের জমাকৃত কয়েনগুলোকে কী বলা হয়? (প্রয়োগ)  
● ধাতব মুদ্রা      ✕ স্বর্ণ মুদ্রা

গ রৌপ্য মুদ্রা      ঘ তাম্র মুদ্রা

১০১. ইসলামের বাবার দেওয়া টাকাগুলো- (উচ্চতর দক্ষতা)  
র. সরকারি নির্দেশে তৈরি করা হয়

রর. জনসাধারণের ইচ্ছার ভিত্তিতে তৈরি করা হয়

ররর. কেন্দ্রীয় ব্যাংক কর্তৃক প্রচলিত হয়

নিচের কোনটি সঠিক?

ক র ও রর      ● র ও ররর      গ রর ও ররর      ঘ র, রর ও ররর

নিচের অনুচ্ছেদটি পড়ে ১০২ ও ১০৩ নং প্রশ্নের উত্তর দাও :

জমির শেখ তার গ্রামের আমবাগানের বিনিময়ে ব্যবসায়ী সুলতান আলীর কাছ থেকে শহরে একটি বাড়ি ক্রয় করে। বাড়িটির তুলনায় আমবাগানের দাম বেশি হওয়া সত্ত্বেও প্রয়োজনের তাগিদে জমির শেখ কাজটি করতে বাধ্য হয়।

১০২. অনুচ্ছেদে বিনিময় প্রথার কোন সমস্যাটি ফুটে উঠেছে? (প্রয়োগ)  
ক স্থানান্তরের অসুবিধা      ✕ চাহিদার অমিল

● মূল্যের ভিন্নতা      ঘ পছন্দের অমিল

১০৩. এ ধরনের সমস্যা উত্তরণে কোনটি উদ্ভব ঘটেছে? (উচ্চতর দক্ষতা)  
● অর্থ ব্যবস্থার      ✕ শিল্প ব্যবস্থার

গ ব্যবসা-বাণিজ্যের      ঘ আমদানি-রপ্তানির

➔ ৭.২ : অর্থের কার্যাবলি ➔ বোর্ড বই, পৃষ্ঠা- ৭১

■ অর্থের প্রধান কাজ- ৪টি।

■ স্থগিত লেনদেনের মান রক্ষা করে- অর্থ।

■ সমাজের মানুষের মর্যাদা নির্ধারিত হয়- অর্থের মাধ্যমে।

■ অর্থ হলো- তরল সম্পদ।

■ অর্থের সামগ্রিক কার্যাবলির মাধ্যমে- অর্থনৈতিক উন্নয়নের পথ সুগম হয়।

■ দৈনন্দিন কার্যক্রমকে সহজতর করেছে- অর্থ।

## সাধারণ বহুনির্বাচনি প্রশ্নোত্তর

১০৪. 'যাহা করে বিনিময় ও মূল্য পরিমাপ ঋণ পরিশোধ আর সঞ্চয় সাধন

অর্থ বলি গণ্য তারে করে সর্বজন'-কে বলেছেন? (অনুধাবন)

● জনৈক কবি      ✕ অধ্যাপক এল. রবিস

গ জি. ডি. এইচ কোল      ঘ আর. পি. কেন্ট

১০৫. কোনটি অর্থের কাজ? (জ্ঞান)  
ক সঞ্চয় বৃদ্ধি      ● মূল্যের পরিমাপক

গ ঋণদান করা      ঘ বিনিময় হার ঠিক রাখা

১০৬. বিনিময়ের মাধ্যম হিসেবে নিচের কোনটি সর্বজন স্বীকৃত? (জ্ঞান)  
ক স্বর্ণ      ● অর্থ      গ দ্রব্য      ঘ তাম্র

১০৭. সাধারণত অর্থের কাজ কয় ধরনের হয়ে থাকে? (জ্ঞান)  
ক দুই      ✕ তিন      ● চার      ঘ পাঁচ

১০৮. অর্থ কীভাবে বিনিময়ের মাধ্যম হিসেবে কাজ করতে পারবে? (উচ্চতর দক্ষতা)  
● সকলের নিকট গ্রহণযোগ্য হয়ে      ✕ মানুষের সঞ্চয় বৃদ্ধি করে

গ উৎপাদনে ভূমিকা রেখে      ঘ তারল্যের মান নির্দেশ করে

১০৯. অর্থের মাধ্যমে লেনদেন সহজ ও গতিশীল হয় কীভাবে? (অনুধাবন)  
ক বেশি মুনাফা অর্জিত হওয়ায়

● যেকোনো সময় যেকোনো পরিমাণ পণ্য ক্রয়-বিক্রয় সম্ভব হওয়ায়

গ পণ্যের মান বৃদ্ধি পাওয়ায়

ঘ অর্থের মূল্য বেশি হওয়ায়

১১০. অর্থের বিনিময়ে লেনদেন হয় কেন? (অনুধাবন)  
● অর্থ সবার নিকট গ্রহণযোগ্য বলে      ✕ অর্থের মূল্য বেশি বলে

গ অর্থের বাজার ব্যবসায় বেশি মুনাফা হয় বলে

ঘ অর্থ চাহিদা পূরণ করে বলে

১১১. বিনিময়ের সবচেয়ে সহজ ও সুবিধাজনক মাধ্যম কোনটি? (জ্ঞান)  
● অর্থ      ✕ দ্রব্য      গ শ্রম      ঘ সম্পত্তি

১১২. দৈর্ঘ্যের একক কোনটি? (জ্ঞান)  
● মিটার      ✕ পাউন্ড      গ কিলোগ্রাম      ঘ সেকেন্ড

১১৩. ওজনের পরিমাপক কোনটি? (জ্ঞান)  
ক মিটার      ● কিলোগ্রাম      গ সেকেন্ড      ঘ শক্তি

১১৪. পণ্য ও সেবার মূল্যের পরিমাপক কোনটি? (জ্ঞান)

- ক কিলোগ্রাম    খ মিটার    গ পাউন্ড    ● অর্থ
১১৫. আমির আলী ৫০ টাকা দিয়ে একটি বই ক্রয় করল। এখানে ৫০ টাকা কী হিসাবে কাজ করে? (প্রয়োগ)  
● মূল্যের পরিমাপক    খ চাহিদার একক  
গ বিনিময়ের মাধ্যম    ঘ সঞ্চয়ের বাহন
১১৬. এক ব্যক্তি দশ টাকা দামে একটি দ্রব্য ক্রয় করে। এক্ষেত্রে দশ টাকা ঐ দ্রব্যের কী? (অনুধাবন)  
ক দৈর্ঘ্যের পরিমাপক    খ ওজনের পরিমাপক  
● মূল্যের পরিমাপক    ঘ ওজনের একক
১১৭. রহিম ৫০ টাকা কেজি দরে ১০ কেজি ডাল কিনল। এখানে ৫০ টাকা অর্থের কোন কার্যাবলিকে নির্দেশ করে? (প্রয়োগ)  
ক ঋণের ভিত্তি    খ তারল্যের মান  
● মূল্যের পরিমাপক    ঘ সঞ্চয়ের বাহন
১১৮. মূল্যের পরিমাপক হিসেবে কাজ করে নিচের কোনটি? (জ্ঞান)  
● অর্থ    খ স্বর্ণ    গ রৌপ্য    ঘ শিল্প
১১৯. অর্থ কিরূপে সঞ্চয়ের কাজ করে? (জ্ঞান)  
● বাহন হিসেবে    খ পরিবহন হিসেবে  
গ টাকা গচ্ছিত রেখে    ঘ সঞ্চালন হিসেবে
১২০. দ্রব্যসামগ্রীর মাধ্যমে সঞ্চয় করা যায় না কেন? (অনুধাবন)  
● দ্রব্যসামগ্রী পচনশীল তাই    খ দ্রব্যসামগ্রী মূল্যহীন তাই  
গ দ্রব্যসামগ্রীর প্রতি মানুষের আকর্ষণ কম তাই  
ঘ দ্রব্যসামগ্রী পরিমাপ করা যায় না তাই
১২১. সেবা কী ধরনের উপকরণ? (অনুধাবন)  
● জীবন্ত    খ চিরন্তন    গ মূল্যহীন    ঘ আদি
১২২. শ্রম ও সেবা সঞ্চয় করে রাখা যায় না কেন? (অনুধাবন)  
● জীবন্ত উপকরণ তাই    খ মূল্যহীন উপকরণ বলে  
গ মানুষের সাথে সম্পর্কিত বলে    ঘ বিনিময় করা যায় না বলে
১২৩. আধুনিক অর্থনীতিতে সঞ্চয়ের বাহন হিসেবে গুরুত্বপূর্ণ ভূমিকা পালন করে কোনটি? (উচ্চতর দক্ষতা)  
● অর্থ    খ দ্রব্য    গ শিল্প উপকরণ    ঘ স্বর্ণ
১২৪. মানুষের উৎপাদিত আয় থেকে ভোগ বাদ দিয়ে যা উদ্ধৃত থাকে তাকে কী বলে? (জ্ঞান)  
● সঞ্চয়    খ মুনাফা    গ যোগান    ঘ ব্যয়
১২৫. জনাব রিহান অনেক বেশি নিরাপদ ও তুলনামূলক স্থায়ী পদ্ধতিতে সম্পদ সংরক্ষণ করতে চান। তিনি কোন পদ্ধতিতে এটি করতে পারেন? (প্রয়োগ)  
ক দ্রব্য বিনিময় প্রথার মাধ্যমে    খ শ্রম বিনিময়ের মাধ্যমে  
● অর্থের মাধ্যমে    ঘ শিল্পায়নের মাধ্যমে
১২৬. স্থগিত লেনদেন কী নির্দেশ করে? (অনুধাবন)  
ক স্থায়ী সঞ্চয়    ● ভবিষ্যৎ দেনা-পাওনা  
গ উৎপাদিত পণ্যের মূল্য    ঘ ব্যাংক ড্রাফট

১২৭. ভবিষ্যৎ দেনা-পাওনার হিসাব-নিকাশ কিসের মাধ্যমে করা হয়? (অনুধাবন)  
● অর্থের    খ শ্রমের    গ দ্রব্যের    ঘ সেবার
১২৮. বর্তমান সময়ে অধিকাংশ লেনদেন চেক, ব্যাংক ড্রাফট, বিনিময় বিল ইত্যাদির মাধ্যমে সম্পাদিত হয়। এগুলোকে কী হিসেবে আখ্যায়িত করা যায়? (উচ্চতর দক্ষতা)  
ক নগদ অর্থ    ● মুদ্রার সমতুল্য  
গ বিহিত মুদ্রা    ঘ চিহ্নিত মুদ্রা
১২৯. চাকরির জন্য আবেদন করতে জনাব নোমানকে ৩০০ টাকার একটি ব্যাংক ড্রাফট করতে হলো। এ ব্যাংক ড্রাফট কী ধরনের অর্থ? (প্রয়োগ)  
ক কাগজি নোট    ● ব্যাংক হিসাব  
গ বিহিত    ঘ রূপান্তর অযোগ্য
১৩০. ব্যাংক রক্ষিত নগদ অর্থের ভিত্তিতে ব্যাংক বিভিন্ন ঋণপত্র প্রচলন করে। এ প্রেক্ষিতে অর্থকে গণ্য করা যায়? (উচ্চতর দক্ষতা)  
ক মূল্যের পরিমাপক    খ তারল্যের মান  
গ সঞ্চয়ের বাহন    ● ঋণের ভিত্তি
১৩১. ব্যাংক কিসের ভিত্তিতে ঋণপত্র প্রচলন করে? (জ্ঞান)  
ক গ্রাহক সংখ্যার    ● আমানত হিসেবে রক্ষিত নগদ অর্থের  
গ মানুষের চাহিদার    ঘ ব্যাংকের মূলধনের
১৩২. চেক কী?  
ক মুনাফা    খ পুঁজি    ● ঋণের ভিত্তি    ঘ ঋণ
১৩৩. সমাজের মানুষের মর্যাদা কিসের প্রেক্ষিতে নির্ণীত হয়? (অনুধাবন)  
● অর্থের    খ প্রতিপত্তির    গ ভূসম্পত্তির    ঘ সম্মান

### বহুপদী সমাপ্তিসূচক বহুনির্বাচনি প্রশ্নোত্তর

১৩৪. রহিম তার আয়ের কিছু অংশ বাড়িতে সঞ্চয় করতে চায়। কারণ- (অনুধাবন)  
র. অর্থ সঞ্চয় করা নিরাপদ  
রর. অর্থ সঞ্চয় করা সুবিধাজনক  
ররর. অর্থ সঞ্চয় করা মর্যাদাপূর্ণ  
নিচের কোনটি সঠিক?  
ক র ও রর    খ র ও ররর    গ রর ও ররর    ● র, রর ও ররর  
(উচ্চতর দক্ষতা)
১৩৫. অর্থের প্রধান বৈশিষ্ট্য হলো- (উচ্চতর দক্ষতা)  
র. মূল্যের পরিমাপক  
রর. মূল্য স্থানান্তরের সুবিধা  
ররর. বিনিময়ের মাধ্যম হিসেবে সবার কাছে গ্রহণযোগ্য  
নিচের কোনটি সঠিক?  
ক র    খ রর    ● ররর    ঘ র, রর ও ররর
১৩৬. আব্দুর রহিম সাহেব তার মাসিক খরচ থেকে ১০০০ টাকা জমা রাখেন। দ্রব্য জমা না রেখে অর্থ জমা রাখার কারণ হলো- (উচ্চতর দক্ষতা)  
র. সুবিধাজনক  
রর. নিরাপদ

ররর. অধিক মুনাফা লাভ

নিচের কোনটি সঠিক?

ক র                      খ রর                      গ ররর                      ● র ও রর

১৩৭. অর্ধেক বিনিময়ের সহজ ও সুবিধাজনক মাধ্যম বলা হয়। কারণ- (উচ্চতর দক্ষতা)  
র. এর মাধ্যমে লেনদেন সহজ ও গতিশীল হয়

রর. যেকোনো সময়ে যে কোনো পরিমাণ পণ্য ক্রয়-বিক্রয় করা যায়

ররর. ব্যবসায়িকভাবে বেশি লাভবান হওয়া যায়

নিচের কোনটি সঠিক?

● র ও রর                      খ র ও ররর                      গ রর ও ররর                      ঘ র, রর ও ররর

১৩৮. অর্থের কাজ হলো- (অনুধাবন)  
র. সঞ্চয়ের বাহন হিসেবে কাজ করা

রর. দ্রব্যের মূল্য পরিমাপক হিসেবে কাজ করা

ররর. মানুষের চাহিদা বৃদ্ধি করা

নিচের কোনটি সঠিক?

● র ও রর                      খ র ও ররর                      গ রর ও ররর                      ঘ র, রর ও ররর

১৩৯. অর্থের মাধ্যমে দ্রব্য ও সেবা সংরক্ষণ করা যায়। কারণ- (উচ্চতর দক্ষতা)  
র. অর্থ নষ্ট হওয়ার নয়

রর. অর্থ দ্বারা সবকিছু বিনিময় করা সম্ভব

ররর. অর্থ ভোগকে সংকুচিত করে

নিচের কোনটি সঠিক?

● র ও রর                      খ র ও ররর                      গ রর ও ররর                      ঘ র, রর ও ররর

১৪০. অর্থ বলতে বোঝায়- (অনুধাবন)  
র. মূল্যের পরিমাপককে

রর. বিনিময়ের মাধ্যমকে

ররর. উৎপাদনের একককে

নিচের কোনটি সঠিক?

● র ও রর                      খ র ও ররর                      গ রর ও ররর                      ঘ র, রর ও ররর

১৪১. জিসান ৫০০ টাকা দিয়ে এক জোড়া জুতা ক্রয় করল। এখানে ৫০০ টাকা হলো- (প্রয়োগ)

র. জুতার মূল্য

রর. উৎপাদন খরচ

ররর. মূল্যের পরিমাপক

নিচের কোনটি সঠিক?

ক র ও রর                      ● র ও ররর                      গ রর ও ররর                      ঘ র, রর ও ররর

১৪২. অর্ধেক প্রতীক হিসেবে বিবেচনা করা হয়- (উচ্চতর দক্ষতা)  
র. সামাজিক মর্যাদার

রর. তারল্যের মানের

ররর. সামাজিক স্থিতিশীলতার

নিচের কোনটি সঠিক?

● র ও রর                      খ র ও ররর                      গ রর ও ররর                      ঘ র, রর ও ররর

১৪৩. সমাজে অর্থের প্রচলনের ফলে- (উচ্চতর দক্ষতা)  
র. সমাজজীবনে গতিশীলতা এসেছে

রর. মানুষের সঞ্চয় বৃদ্ধি পেয়েছে

ররর. ভোগ প্রবণতা কমেছে

নিচের কোনটি সঠিক?

● র ও রর                      খ র ও ররর                      গ রর ও ররর                      ঘ র, রর ও ররর

### অভিন্ন তথ্যভিত্তিক বহুনির্বাচনি প্রশ্নোত্তর

নিচের অনুচ্ছেদটি পড়ে ১৪৪ ও ১৪৫ নং প্রশ্নের উত্তর দাও :

সরকারি চাকরিজীবী রিদওয়ান সাহেব মাসিক ২০,০০০ টাকা বেতন পান। সব টাকা পরিবারের প্রয়োজনে ব্যয় না হওয়ায় ৫০০ করে ব্যাংকে জমা রাখেন। এভাবে অনেক টাকা জমা হওয়ায় তিনি ব্যাংক থেকে ৬% সুদে আরও ঋণ নিয়ে একটি ক্ষুদ্র ব্যবসা শুরু করেন।

১৪৪. অনুচ্ছেদে নিচের কোনটির কার্যকারিতার প্রতি ইঙ্গিত করা হয়েছে? (প্রয়োগ)  
ক ব্যবসার                      খ শিল্পের                      গ ঋণের                      ● অর্থের

১৪৫. অনুচ্ছেদে এই বিষয়টি কাজ করেছে- (উচ্চতর দক্ষতা)  
র. সঞ্চয়ের বাহন হিসেবে

রর. মূল্যের পরিমাপক হিসেবে

ররর. ঋণের ভিত্তি হিসেবে

নিচের কোনটি সঠিক?

ক র ও রর                      ● র ও ররর                      গ রর ও ররর                      ঘ র, রর ও ররর

### ৭.৩ : বাণিজ্যিক ব্যাংক →

- কম সুদে আমানত সংগ্রহ করে বেশি সুদে ঋণদানকারী প্রতিষ্ঠানকে বলে- বাণিজ্যিক ব্যাংক।
- বাণিজ্যিক ব্যাংকের মূল উদ্দেশ্য হলো- মুনাফা অর্জন।
- বাণিজ্যিক ব্যাংকের প্রথম ও প্রধান কাজ- আমানত গ্রহণ।
- বাণিজ্যিক ব্যাংক- তিনভাবে অর্থ আমানত হিসেবে গ্রহণ করে।
- বাণিজ্যিক ব্যাংক বেশি সুদ দেয়- স্থায়ী আমানতে।



- গ সরকারি নির্দেশে                      ঘ বিদেশি বাণিজ্য নিয়ন্ত্রণে
১৬৯. বাণিজ্যিক ব্যাংক রেমিটেন্স সংগ্রহ করে কাদের কাছ থেকে? (উচ্চতর দক্ষতা)
- বিদেশে কর্মরত জনসাধারণের                      খ দেশে কর্মরত জনসাধারণের
- গ সরকারি কর্মকর্তাদের                      ঘ শিল্পপতিদের
১৭০. বাণিজ্যিক ব্যাংক কীভাবে পুঁজিগঠনে সহায়তা করে? (অনুধাবন)
- সঞ্চয় বৃদ্ধি করে                      খ আমানত সংগ্রহ করে
- গ ঋণ প্রদান করে                      ঘ অর্থ স্থানান্তর করে
১৭১. বাণিজ্যিক ব্যাংক ঋণ প্রদান করে- (অনুধাবন)
- ক জামানতবিহীন                      ● মূল্যবান জিনিস জামানতের বিপরীতে
- গ শুধু শিল্পপতিদের                      ঘ শুরু সরকারি প্রতিষ্ঠানকে
১৭২. বাণিজ্যিক ব্যাংকসমূহ আর্থিক সচ্ছলতার সনদপত্র প্রদান করে কেন? (জ্ঞান)
- মক্কেলের স্বার্থে                      খ ব্যাংকের স্বার্থে
- গ সরকারি নির্দেশে                      ঘ কেন্দ্রীয় ব্যাংকের সুবিধা পেতে
১৭৩. বাণিজ্যিক ব্যাংক কীভাবে জনগণকে সঞ্চয়ে উৎসাহ দেয়? (অনুধাবন)
- ক ঋণ দিয়ে                      খ ছুড়ি বাড়া করে
- সুদ দিয়ে                      ঘ অর্থ স্থানান্তর করে
১৭৪. ব্যাংক কর্তৃক সৃষ্ট বিনিময় মাধ্যমগুলোর মধ্যে সবচেয়ে বেশি ব্যবহৃত হয় কোনটি? (অনুধাবন)
- চেক                      খ ছুড়ি                      গ ব্যাংক ড্রাফট                      ঘ ই-পেমেন্ট
১৭৫. নিচের কোনটি অর্থ প্রেরণের মাধ্যম হিসেবে কাজ করে? (অনুধাবন)
- মেইল ট্রান্সফার                      খ অর্থ
- গ অ্যাকাউন্ট নম্বর                      ঘ বিনিময়

### বহুপদী সমাপ্তিসূচক বহুনির্বাচনি প্রশ্নোত্তর

১৭৬. বাণিজ্যিক ব্যাংকের মূল উদ্দেশ্য হলো- (অনুধাবন)
- র. মুনাফা অর্জন
- রর. জনসেবা
- ররর. অর্থকে নিরাপদ রাখা
- নিচের কোনটি সঠিক?
- র ও রর                      খ র ও ররর                      গ রর ও ররর                      ঘ র, রর ও ররর
১৭৭. বাণিজ্যিক ব্যাংক স্বল্পকালের জন্য ঋণপ্রদান করে। কারণ- (অনুধাবন)
- র. চাওয়া মাত্র আমানতকারীর অর্থ ফেরত দিতে হয়
- রর. ঋণের ঝুঁকি কমানোর জন্য
- ররর. অল্প সময়ে বেশি মুনাফা অর্জনের জন্য
- নিচের কোনটি সঠিক?
- ক র ও রর                      খ র ও ররর                      গ রর ও ররর                      ● র, রর ও ররর

১৭৮. কেউ যদি বাণিজ্যিক ব্যাংকে টাকা গচ্ছিত রাখতে চায় তাহলে তার করণীয় হলো- (অনুধাবন)
- র. ব্যাংকের লকারে টাকা রেখে দেওয়া
- রর. চলতি বা সঞ্চয়ী হিসাব খোলা
- ররর. স্থায়ী আমানতের হিসাব খোলা
- নিচের কোনটি সঠিক?
- ক র ও রর                      খ র ও ররর                      ● রর ও ররর                      ঘ র, রর ও ররর
১৭৯. আমাদের দেশের বাণিজ্যিক ব্যাংকসমূহের ঋণ প্রদানের ক্ষেত্র হলো- (অনুধাবন)
- র. মৎস্য চাষ
- রর. গৃহনির্মাণ
- ররর. বিদেশ গমন
- নিচের কোনটি সঠিক?
- র ও রর                      খ র ও ররর                      গ রর ও ররর                      ঘ র, রর ও ররর
১৮০. বাণিজ্যিক ব্যাংকসমূহ জামানতের বিপরীতে ঋণ প্রদান করে। এ জামানত হতে পারে- (উচ্চতর দক্ষতা)
- র. স্বর্ণালঙ্কার
- রর. জমির দলিলপত্রাদি
- ররর. হালের বলদ বা চাষের উপকরণ সামগ্রী
- নিচের কোনটি সঠিক?
- র ও রর                      খ র ও ররর                      গ রর ও ররর                      ঘ র, রর ও ররর
১৮১. বর্তমানে বাণিজ্যিক ব্যাংকসমূহ বিনিময়ের মাধ্যম সৃষ্টি করে লেনদেনকে সহজ ও গতিশীল করেছে। এসব মাধ্যমের মধ্যে রয়েছে- (উচ্চতর দক্ষতা)
- র. অর্থ
- রর. চেক বই
- ররর. ব্যাংক ড্রাফট
- নিচের কোনটি সঠিক?
- ক র ও রর                      খ র ও ররর                      ● রর ও ররর                      ঘ র, রর ও ররর
১৮২. বাণিজ্যিক ব্যাংকসমূহ ব্যবসায়ীদের সহায়তা করে- (অনুধাবন)
- র. দেশের অভ্যন্তরের
- রর. দেশের বাইরের
- ররর. কেন্দ্রীয় ব্যাংক কর্তৃক চিহ্নিত ব্যবসায়ীদের
- নিচের কোনটি সঠিক?
- র ও রর                      খ র ও ররর                      গ রর ও ররর                      ঘ র, রর ও ররর
১৮৩. বাণিজ্যিক ব্যাংকসমূহ দেশীয় ও বৈদেশিক বাণিজ্যে সহায়তা করে- (অনুধাবন)
- র. বিনিময় বিলে স্বীকৃতি প্রদানের মাধ্যমে
- রর. বৈদেশিক মুদ্রার ক্রয়-বিক্রয়ের মাধ্যমে
- ররর. অর্থ সংকটে মুদ্রা সৃষ্টির মাধ্যমে

নিচের কোনটি সঠিক?

- র ও রর      খ র ও ররর      গ রর ও ররর      ঘ র, রর ও ররর

১৮৪. ব্যাংক একস্থান থেকে অন্যস্থানে অর্থ স্থানান্তর করতে পারে— (অনুধাবন)  
র. দ্রুত

রর. নিরাপদে

ররর. কোনো প্রকার ফি ছাড়া

নিচের কোনটি সঠিক?

- র ও রর      খ র ও ররর      গ রর ও ররর      ঘ র, রর ও ররর

১৮৫. ব্যাংক পুঁজি গঠনে সাহায্য করে— (উচ্চতর দক্ষতা)  
র. অর্থ ব্যবসায় ঋণ দিয়ে

রর. উৎপাদন ক্ষেত্রে ঋণ দিয়ে

ররর. শিক্ষাক্ষেত্রে ঋণ দিয়ে

নিচের কোনটি সঠিক?

- র ও রর      খ র ও ররর      গ রর ও ররর      ঘ র, রর ও ররর

১৮৬. সোনালী ব্যাংকের প্রধান শাখা নিজ উদ্যোগে ঢাকার বাইরে অন্যান্য শাখায় অর্থ প্রেরণ করে থাকে। এক্ষেত্রে ব্যাংকটি যেসব মাধ্যম ব্যবহার করে তা হলো— (উচ্চতর দক্ষতা)  
র. পোস্টাল অর্ডার

রর. অগ্রগ কার্ড

ররর. মেইল ট্রান্সফার

নিচের কোনটি সঠিক?

- ক র ও রর      ● র ও ররর      গ রর ও ররর      ঘ র, রর ও ররর

১৮৭. বাণিজ্যিক ব্যাংকসমূহ পে-অর্ডার ইস্যু করে। কারণ— (অনুধাবন)  
র. মুনাফা বাড়াতে

রর. নগদ অর্থ বাড়াতে

ররর. অর্থের দ্রুত ও নিরাপদ যোগান দিতে

নিচের কোনটি সঠিক?

- ক র      খ রর      ● ররর      ঘ র ও রর

১৮৮. ছড়ির মাধ্যমে ব্যবসায়িক লেনদেন হওয়ার কারণ— (প্রয়োগ)  
র. সহজ ও নিরাপদ লেনদেনের তাগিদ

রর. নগদ অর্থের প্রভাব

ররর. বৈদেশিক মুদ্রার সংকট

নিচের কোনটি সঠিক?

- র      খ রর      গ ররর      ঘ র, রর ও ররর

১৮৯. বাণিজ্যিক ব্যাংককে কেন্দ্র করে আবর্তিত হয়— (উচ্চতর দক্ষতা)  
র. ব্যবসা-বাণিজ্য

রর. শিল্প

ররর. অর্থনৈতিক কর্মকাণ্ড

নিচের কোনটি সঠিক?

- ক র ও রর      খ র ও ররর      গ রর ও ররর      ● র, রর ও ররর

১৯০. বর্তমান সময়ে অধিকাংশ ব্যবসায়িক লেনদেন ঋণপত্রের মাধ্যমে সম্পন্ন হয়। ঋণপত্র হলো— (উচ্চতর দক্ষতা)  
র. মুদ্রা

রর. ব্যাংক ড্রাফট

ররর. বিনিময় বিল

নিচের কোনটি সঠিক?

- ক র ও রর      খ র ও ররর      ● রর ও ররর      ঘ র, রর ও ররর

### অভিন্ন তথ্যভিত্তিক বহুনির্বাচনি প্রশ্নোত্তর

নিচের অনুচ্ছেদটি পড়ে ১৯১ ও ১৯২ নং প্রশ্নের উত্তর দাও :

জনাব সোহানুর রহমান দীর্ঘদিন বিদেশে অবস্থান করছেন। তিনি প্রতি মাসে পরিবারের জন্য ২০,০০০ টাকা খরচ পাঠান। সোনালী ব্যাংকের একটি শাখার মাধ্যমে এ টাকা তার পরিবারের কাছে পৌঁছে যায়।

১৯১. অনুচ্ছেদে বাণিজ্যিক ব্যাংকের কোন ভূমিকার ইঙ্গিত দেওয়া হয়েছে? (প্রয়োগ)  
ক অর্থ স্থানান্তর      খ বৈদেশিক বাণিজ্যে সহায়তা

- রেমিটেন্স সংগ্রহ      ঘ সঞ্চয় বৃদ্ধি

১৯২. এ ধরনের কাজের মাধ্যমে বাণিজ্যিক ব্যাংক— (উচ্চতর দক্ষতা)  
র. বিদেশের অর্থনৈতিক উন্নয়ন ত্বরান্বিত করছে

রর. সাধারণ জনগণের সেবা করছে

ররর. সরকারের আয় বৃদ্ধিতে সহায়তা করছে

নিচের কোনটি সঠিক?

- ক র ও রর      খ র ও ররর      ● রর ও ররর      ঘ র, রর ও ররর

নিচের অনুচ্ছেদটি পড়ে ১৯৩ ও ১৯৪ প্রশ্নের উত্তর দাও :

শেফালি ও হারিস দম্পতি একটি ক্ষুদ্র ব্যবসার মাধ্যমে স্বাবলম্বী হয়েছে। বর্তমানে তারা মাসিক খরচ ছাড়াও অতিরিক্ত কিছু টাকা উপার্জন করতে পারছে। তাদের এ অতিরিক্ত টাকা এলাকার সদরে রূপালী ব্যাংকের একটি শাখায় জমা রাখছে। ব্যবসার সম্প্রসারণে তারা এ টাকা ব্যবহার করবে বলে জানা গেছে।

১৯৩. শেফালি ও হারিস দম্পতি বাণিজ্যিক ব্যাংকের কোন ভূমিকার কারণে অর্থ জমা করতে পারছে? (প্রয়োগ)

- আমানত সংগ্রহ      খ অর্থ স্থানান্তর

গ বিনিময়ের মাধ্যম সৃষ্টি      ঘ রেমিটেন্স সংগ্রহ

১৯৪. অনুচ্ছেদের আলোকে ব্যাংকের এ ধরনের ভূমিকার ফলে— (উচ্চতর দক্ষতা)  
র. জনগণের পুঁজি গঠিত হয়েছে

রর. ব্যবসায়িক সচ্ছলতা বৃদ্ধি পেয়েছে

ররর. নিরাপদে ব্যবসা করা সম্ভব হয়েছে

নিচের কোনটি সঠিক?

- র ও রর      ✕ র ও ররর      গ রর ও ররর      ঘ র, রর ও ররর

নিচের অনুচ্ছেদটি পড়ে ১৯৫ ও ১৯৬ নং প্রশ্নের উত্তর দাও :

বাংলাদেশের অর্থনীতি কৃষিনির্ভর। তবে বর্তমানে শিল্পের অবদান একেবারে কম নয়। এছাড়া বাংলাদেশের মোট জনসংখ্যার একটি বিরাট অংশ প্রবাসে কর্মরত। তারাও সমানভাবে অর্থনীতিতে অবদান রেখে চলেছেন।

১৯৫. অনুচ্ছেদের উল্লিখিত প্রবাসীরা বাংলাদেশের অর্থনীতিতে অবদান রাখে কীভাবে? (প্রয়োগ)

- রেমিটেন্স প্রেরণে      ✕ তথ্য প্রেরণে  
গ প্রযুক্তির প্রসারে      ঘ মেধার বিকাশে

১৯৬. উক্ত বিষয়ের ক্ষেত্রে প্রযোজ্য তথ্য— (উচ্চতর দক্ষতা)

- র. অর্থনীতিতে নেতিবাচক প্রভাব ফেলে      রর. মানবসম্পদ উন্নয়ন  
ররর. অর্থনীতির উন্নয়ন

নিচের কোনটি সঠিক?

- ক র ও রর      ✕ র ও ররর      ● রর ও ররর      ঘ র, রর ও ররর

## ➔ ৭.৪ : ব্যাংক হিসাব খোলার ও পরিচালনার নিয়ম

- ব্যাংক হিসাব খোলার পদ্ধতি— ৩ ধরনের।
- আবেদনকারীর মৃত্যুর পর তার হিসাবকৃত অর্থ উত্তোলন করতে পারে তার— নমিনী।
- অ্যেগ কার্ড হল— অর্থ উত্তোলন পদ্ধতি।
- সঞ্চয়ী হিসাবে অর্থ উত্তোলন করা যায়— সপ্তাহে দুইবার।
- চলতি হিসাবে অর্থ উত্তোলন করা যায়— যত খুশি তত বার।
- হিসাব খুলতে প্রয়োজন হয়— আবেদনকারীর ২ কপি সত্যায়িত ছবি।
- অ্যেগ-এর পূর্ণরূপ— অ্যেগসঞ্চয়বক্ষ এনবিসমবং গধপযরহব.
- আবেদনপত্রে আবেদনকারীর পক্ষে যে শনাক্তকারী স্বাক্ষর করেন তাকে বলে— পরিচয় প্রদানকারী।

### সাধারণ বহুনির্বাচনি প্রশ্নোত্তর

১৯৭. আমানত কত প্রকার? (জ্ঞান)

- তিন      ✕ চার      গ পাঁচ      ঘ ছয়

১৯৮. সেলিম সাহেব সম্প্রতি একটি বাণিজ্যিক ব্যাংকে আমানত হিসেবে অর্থ সঞ্চয় করলেন, যা তিনি যেকোনো সময় ওঠাতে পারবেন এবং এর ওপর কোনো সুদ পাবেন না। এটা কোন ধরনের আমানত? (উচ্চতর দক্ষতা)

- চলতি      ✕ সঞ্চয়ী      গ স্বল্পকালীন      ঘ স্থায়ী আমানত

১৯৯. ব্যাংক হিসাব খোলার ব্যাপারে নিচের কোন ব্যাংকটি ব্যতিক্রম? (জ্ঞান)

- গ্রামীণ      ✕ সোনালী      গ পূবালী      ঘ ইসলামী

২০০. বনি আমিন একজন ছাত্র। সে বাণিজ্যিক ব্যাংকে একটি হিসাব খুলতে আগ্রহী। তার জন্য কোন ধরনের হিসাব অধিক উপযোগী হবে বলে তুমি মনে কর? (প্রয়োগ)

- সঞ্চয়ী      ✕ চলতি      গ স্থায়ী      ঘ স্বল্পকালীন

২০১. রহিম ইসলামী ব্যাংকে একটি সঞ্চয়ী হিসাব খুলতে চায়। এক্ষেত্রে তার প্রথম করণীয় কী? (উচ্চতর দক্ষতা)

- আবেদন ফরম সংগ্রহ করা      ✕ টাকা জমা দেওয়া

- গ নমিনীকে ব্যাংকে হাজির করা      ঘ শনাক্তকারী ব্যক্তিকে উপস্থিত করা

২০২. ব্যাংকের নিয়ম অনুযায়ী আমানতকারী বর্তমানে কিসের মাধ্যমে লেনদেন সংক্রান্ত যাবতীয় কাজ সম্পন্ন করতে পারেন? (অনুধাবন)

- ক চেকের      ● ইন্টারনেটের

- গ এটিএম কার্ডের      ঘ টেলিগ্রাফের

২০৩. নমিনী বলতে কী বোঝায়? (অনুধাবন)

- ক শনাক্তকারী ব্যক্তিকে

- আমানতকারীর অবর্তমানে জমাকৃত টাকা উত্তোলনের অধিকারী ব্যক্তিকে

- গ ব্যাংক হিসাবধারী ব্যক্তিকে

- ঘ ব্যাংক গ্রাহককে

২০৪. বাণিজ্যিক ব্যাংক হিসাব খোলার ক্ষেত্রে ন্যূনতম কত টাকা জমা রাখতে হয়? (জ্ঞান)

- ক ২০০      ● ৫০০      গ ১০০০      ঘ ১৫০০

২০৫. ব্যাংক হিসাব খোলার সময় হিসাবধারীকে কী দেওয়া হয়? (জ্ঞান)

- চেক বই, পাস বই, জমা বই      ✕ পাস বই

- গ পাস বই ও জমা বই      ঘ জমা বই

২০৬. অ্যেগ হলো— (অনুধাবন)

- ক হিসাব পদ্ধতি      ● অর্থ উত্তোলন পদ্ধতি

- গ অর্থ হস্তান্তর প্রামাণ্য দলিল      ঘ অর্থ উত্তোলন আজ্ঞাপত্র

২০৭. আবেদনপত্রের যে ব্যক্তি আবেদনকারীর শনাক্তকারী হিসেবে স্বাক্ষর করে তাকে কী বলে? (অনুধাবন)

- পরিচয় প্রদানকারী      ✕ আবেদনকারী অভিভাবক

- গ নমিনি      ঘ ব্যাংকের কর্মকর্তা

### বহুপদী সমাশ্টিসূচক বহুনির্বাচনি প্রশ্নোত্তর

২০৮. ব্যাংক নিয়ম অনুযায়ী একজন আমানতকারী জমাকৃত টাকা তুলতে পারেন— (অনুধাবন)

- র. এটিএম কার্ডের মাধ্যমে

- রর. চেকের মাধ্যমে

- ররর. ইন্টারনেটের মাধ্যমে

নিচের কোনটি সঠিক?

- র ও রর      ✕ র ও ররর      গ রর ও ররর      ঘ র, রর ও ররর

২০৯. বর্তমানে ব্যাংকের কার্যক্রম সম্পাদনে প্রায় সব ব্যাংকেই ব্যবহার করা হয়— (উচ্চতর দক্ষতা)

- র. কম্পিউটার



১০. র. মোবাইল

১১. র. ইন্টারনেট

নিচের কোনটি সঠিক?

ক র ও রর ● র ও ররর গ রর ও ররর ঘ র, রর ও ররর

২১০. ব্যাংক হিসাব খোলার জন্য প্রয়োজন— (উচ্চতর দক্ষতা)  
র. একটি আবেদনপত্র

১১. র. ২ কপি সত্যায়িত ছবি

১২. র. একজন শনাক্তকারীর স্বাক্ষর

নিচের কোনটি সঠিক?

ক র ও রর খ র ও ররর গ রর ও ররর ● র, রর ও ররর

২১১. অঞ্জন কার্ড এর সুবিধা হলো— (উচ্চতর দক্ষতা)  
র. চেকের প্রয়োজন হয় না

১২. র. যেকোনো সময় টাকা ওঠানো যায়

১৩. র. ব্যাংকে যেতে হয় না

নিচের কোনটি সঠিক?

ক র ও রর খ র ও ররর গ রর ও ররর ● র, রর ও ররর

২১২. অনলাইনে ব্যাংকে টাকা জমা দেওয়া যায়— (অনুধাবন)  
র. দেশের ভেতর থেকে

১৩. র. বাড়ি থেকে

১৪. র. দেশের বাহির থেকে

নিচের কোনটি সঠিক?

ক র ও রর ● র ও ররর গ রর ও ররর ঘ র, রর ও ররর

### অভিন্ন তথ্যভিত্তিক বহুনির্বাচনি প্রশ্নোত্তর

নিচের অনুচ্ছেদটি পড়ে ২১৩ ও ২১৪ নং প্রশ্নের উত্তর দাও :

জনাব মাসুম সোনালী ব্যাংকের একজন সিনিয়র অফিসার। তার বন্ধু রেজা সাহেব ঐ ব্যাংকে একটি আমানত হিসাব খুলতে চাইলে তিনি তাকে একটি চলতি হিসাব খোলার ব্যাপারে সার্বিক সহযোগিতা করেন এবং চেকের পরিবর্তে একটি প্রযুক্তি নির্ভর উপাদান প্রদান করেন টাকা তোলার জন্য।

২১৩. জনাব মাসুমকে টাকা তোলার জন্য কী প্রদান করা হয়েছে? (প্রয়োগ)  
ক মোবাইল ● এটিএম কার্ড গ ছদ্ম চিত্র ঘ ব্যাংক ড্রাফট

২১৪. জনাব রেজা সাহেবের হিসাব খোলার ব্যাপারে জনাব মাসুম কাজ করেছেন— (উচ্চতর দক্ষতা)  
র. নমিনি হিসেবে

১৫. র. শনাক্তকারী হিসেবে

১৬. র. তথ্য প্রদানকারী হিসেবে

নিচের কোনটি সঠিক?

ক র খ রর গ ররর ● রর ও ররর

### ৭.৫ : কেন্দ্রীয় ব্যাংক

■ মুদ্রাবাজারের অভিভাবক হিসেবে কাজ করে— কেন্দ্রীয় ব্যাংক।

- কেন্দ্রীয় ব্যাংকের প্রধান কাজ— মুদ্রা প্রচলন ও ঋণ নিয়ন্ত্রণ।
- কেন্দ্রীয় ব্যাংক সরকারের ব্যাংক হিসেবে— সরকারকে ঋণ ও দীর্ঘমেয়াদী ঋণ দেয়।
- দেশে নতুন ব্যাংক ও শাখা খোলার অনুমতি দেয়— কেন্দ্রীয় ব্যাংক।
- বাংলাদেশ ব্যাংকের প্রধান— গভর্নর।
- ঋণদানের শেষ আশ্রয়স্থল হিসেবে কাজ করে— কেন্দ্রীয় ব্যাংক।
- 'নিকাশ ঘর' বলা হয়— কেন্দ্রীয় ব্যাংককে।

### সাধারণ বহুনির্বাচনি প্রশ্নোত্তর

২১৫. সব ব্যাংকের অভিভাবক কোন ব্যাংক? (জ্ঞান)

ক কৃষি ব্যাংক খ উত্তরা ব্যাংক

গ সমবায় ব্যাংক ● কেন্দ্রীয় ব্যাংক

২১৬. কেন্দ্রীয় ব্যাংক কার নিয়ন্ত্রণে থাকে? (অনুধাবন)

● সরকারের খ জনগণের

গ স্বনিয়ন্ত্রিত ঘ বিদেশি দাতাগোষ্ঠীর

২১৭. সরকারের আর্থিক উপদেষ্টা এবং ব্যাংকার হিসেবে কাজ করে কোন ব্যাংক? (উচ্চতর দক্ষতা)

ক সোনালী ব্যাংক ● বাংলাদেশ ব্যাংক

গ রূপালী ব্যাংক ঘ কর্মসংস্থান ব্যাংক

২১৮. কেন্দ্রীয় ব্যাংকের প্রধান বৈশিষ্ট্য হিসেবে কোনটিকে আখ্যায়িত করা যায়? (উচ্চতর দক্ষতা)

ক মুদ্রার মান সংরক্ষণকারী প্রতিষ্ঠান

● সরকার কর্তৃক সর্বোচ্চ ক্ষমতাপ্রাপ্ত আর্থিক প্রতিষ্ঠান

গ ঋণ নিয়ন্ত্রক প্রতিষ্ঠান

ঘ অর্থনৈতিক স্থিতিশীলতা রক্ষাকারী প্রতিষ্ঠান

২১৯. কেন্দ্রীয় ব্যাংককে জাতীয় প্রতিষ্ঠান বলা হয় কেন? (অনুধাবন)

ক জনসাধারণের ব্যাংক বলে

● সরকারের প্রধান আর্থিক প্রতিষ্ঠান বলে

গ অন্যান্য ব্যাংকের ব্যাংকার বলে

ঘ দেশের অর্থনীতি স্থিতিশীল রাখে বলে

২২০. প্রতিটি স্বাধীন দেশে কয়টি করে কেন্দ্রীয় ব্যাংক থাকে? (জ্ঞান)

● এক খ দুই গ তিন ঘ চার

২২১. বাংলাদেশের কেন্দ্রীয় ব্যাংক নিচের কোনটি? (জ্ঞান)

ক সোনালী ব্যাংক ● বাংলাদেশ ব্যাংক

- গ ন্যাশনাল ব্যাংক                      ঘ জনতা ব্যাংক
২২২. বাংলাদেশ সরকারের ব্যাংক কোনটি? (জ্ঞান)  
ক শিল্প ব্যাংক                      খ সোনালী ব্যাংক
- গ ইসলামী ব্যাংক                      ● বাংলাদেশ ব্যাংক
২২৩. ফেডারেল রিজার্ভ সিস্টেম কোন দেশের কেন্দ্রীয় ব্যাংক? (জ্ঞান)  
● যুক্তরাষ্ট্র                      খ ইংল্যান্ড                      গ সুইডেন                      ঘ অস্ট্রেলিয়া
২২৪. ব্যাংক অব ইংল্যান্ড কোন ধরনের ব্যাংক? (অনুধাবন)  
ক বাণিজ্যিক                      ● কেন্দ্রীয়                      গ বিশেষায়িত                      ঘ স্বায়ত্তশাসিত
২২৫. মুদ্রা বাজারের অভিভাবক হিসেবে কাজ করে কোন ব্যাংক? (জ্ঞান)  
● কেন্দ্রীয়                      খ বাণিজ্যিক                      গ বিশেষায়িত                      ঘ কর্মসংস্থান
২২৬. কেন্দ্রীয় ব্যাংক কীভাবে নোট প্রচলন করে? (অনুধাবন)  
● দেশের প্রয়োজনের সাথে সামঞ্জস্য রেখে
- খ বাণিজ্যিক ব্যাংকের গ্রাহক সংখ্যা বিবেচনা করে
- গ কেন্দ্রীয় ব্যাংকের কর্মকর্তা ও কর্মচারীদের চাহিদা মাথায় রেখে
- ঘ শিল্পপতিদের বিনিয়োগের পরিমাণ বিবেচনা করে
২২৭. কেন্দ্রীয় ব্যাংক ঋণ দেয় কাকে? (জ্ঞান)  
ক জনগণকে                      খ দরিদ্রদের                      ● সরকারকে                      ঘ মহিলাদের
২২৮. সাধারণত কেন্দ্রীয় ব্যাংকের মক্কেল কারা? (উচ্চতর দক্ষতা)  
● সরকার ও বাণিজ্যিক ব্যাংক                      খ জনসাধারণ
- গ দেশি-বিদেশি ব্যবসায়ী                      ঘ বিদেশি শিল্পপতিগণ
২২৯. সরকারকে আর্থিক পরামর্শ দেয় কোন ব্যাংক? (জ্ঞান)  
ক সোনালী ব্যাংক ● কেন্দ্রীয় ব্যাংক
- গ বাণিজ্যিক ব্যাংক                      ঘ রূপালী ব্যাংক
২৩০. বাংলাদেশের কেন্দ্রীয় ব্যাংক হলো বাংলাদেশ ব্যাংক। এ ব্যাংক কীভাবে সরকারের ব্যাংক হিসেবে কাজ করে থাকে? (প্রয়োগ)  
ক ঋণ নিয়ন্ত্রণের মাধ্যমে                      খ বিনিময়ের হার নির্ধারণ করে
- সরকারের অর্থনৈতিক কার্যাবলি সম্পাদন করে
- ঘ অন্যান্য ব্যাংকের অভিভাবক হিসেবে
২৩১. সরকারের অর্থনৈতিক কর্মকাণ্ড, নীতি নির্ধারণে কোন ব্যাংক প্রয়োজনীয় তথ্য ও পরামর্শ প্রদান করে? (জ্ঞান)  
● বাংলাদেশ ব্যাংক                      খ কর্মসংস্থান ব্যাংক
- গ শিল্প ব্যাংক                      ঘ কৃষি ব্যাংক
২৩২. ব্যাংকিং আইন অনুযায়ী সোনালী ব্যাংককে তার চলতি ও স্থায়ী আমানতের শতকরা ৫ ভাগ বাংলাদেশ ব্যাংকে জমা রাখতে হয়। এদিক থেকে বাংলাদেশ ব্যাংককে কী বলা হয়? (উচ্চতর দক্ষতা)  
ক নিকাশঘর                      খ সরকারের ব্যাংক
- অন্যান্য ব্যাংকের ব্যাংক                      ঘ ঋণ নিয়ন্ত্রক
২৩৩. বাণিজ্যিক ব্যাংকসমূহকে তাদের চলতি ও স্থায়ী আমানতের শতকরা কতভাগ বাংলাদেশ ব্যাংকে জমা রাখতে হয়? (জ্ঞান)

- পাঁচ                      খ আট                      গ দশ                      ঘ পনেরো
২৩৪. কেন্দ্রীয় ব্যাংক প্রয়োজনে বাণিজ্যিক ব্যাংকের ঋণদান ক্ষমতা কী করতে পারে? (অনুধাবন)  
● বাড়াতে-কমাতে পারে                      খ বাড়াতে পারে
- গ কমাতে পারে                      ঘ বাড়াতে পারে না
২৩৫. কেন্দ্রীয় ব্যাংককে ঋণের সর্বশেষ আশ্রয়স্থল বলা হয় কেন? (অনুধাবন)  
ক জনসাধারণের বিপদকালীন ঋণ দিয়ে সহায়তা করে তাই
- বাণিজ্যিক ব্যাংকের সংকটকালীন অর্থ সংগ্রহে ব্যর্থ হলে কেন্দ্রীয় ব্যাংক ঋণ দিয়ে সাহায্য করে বলে
- গ সব ব্যাংকের ঋণ নিয়ন্ত্রণ করে বলে
- ঘ দেশের প্রয়োজনের প্রেক্ষিতে নোট প্রচলন করে তাই
২৩৬. ঋণের সর্বশেষ আশ্রয়স্থল কোন ব্যাংক? (জ্ঞান)  
ক উন্নয়ন                      ● কেন্দ্রীয়                      গ বিশ্ব                      ঘ আইএমএফ
২৩৭. বাণিজ্যিক ব্যাংক থেকে কেন্দ্রীয় ব্যাংকের ভিন্নতর কাজ কোনটি? (উচ্চতর দক্ষতা)  
ক ঋণদান                      ● বৈদেশিক বিনিময় নিয়ন্ত্রণ
- গ প্রতিনিধি হিসেবে দায়িত্ব পালন                      ঘ জমা সংরক্ষণ
২৩৮. কেন্দ্রীয় ব্যাংক নোট প্রচলনের ক্ষমতা রাখলেও বাণিজ্যিক ব্যাংক কীভাবে বিনিময় মাধ্যম হিসেবে কাজ করে? (প্রয়োগ)  
ক বৈদেশিক ও রপ্তানি নীতির কর ধার্য করে
- খ বৈদেশিক মুদ্রা ক্রয়-বিক্রয়ের মাধ্যমে
- গ বৈদেশিক মুদ্রার সাথে দেশীয় মুদ্রার বিনিময় হার নিয়ন্ত্রণ করে
- চেক, ব্যাংক ড্রাফট, ভ্রমণকারী চেক ঋণপত্র হিসেবে ইস্যু করে
২৩৯. কেন্দ্রীয় ব্যাংককে নিকাশঘর বলা হয় কেন? (অনুধাবন)  
● বাণিজ্যিক ব্যাংকের দেনা-পাওনার নিষ্পত্তি করে বলে
- খ বিনিময় হার নির্ধারণ করে বলে
- গ সরকারকে ঋণ দেয় বলে
- ঘ অর্থ প্রচলন করে বলে
২৪০. নিকাশঘর পরিচালনা করে কোন ব্যাংক? (জ্ঞান)  
ক জনতা ব্যাংক                      খ কৃষি ব্যাংক
- গ সমবায় ব্যাংক                      ● বাংলাদেশ ব্যাংক
- 
- বহুপদী সমাঙ্গিসূচক বহুনির্বাচনি প্রশ্নোত্তর**
২৪১. কেন্দ্রীয় ব্যাংকের কাজ- (অনুধাবন)  
র. ঋণ নিয়ন্ত্রণ
- রর. বিনিময় হার ঠিক রাখা
- ররর. অর্থ জমা রাখা
- নিচের কোনটি সঠিক?
- র ও রর                      খ র ও ররর                      গ রর ও ররর                      ঘ র, রর ও ররর
২৪২. প্রতিটি দেশের সরকার কেন্দ্রীয় ব্যাংক গঠন করে- (অনুধাবন)

র. মুনাফা অর্জন করার জন্য

রর. বৈদেশিক বাণিজ্য নিয়ন্ত্রণ করার জন্য

ররর. মুদ্রার মান সংরক্ষণ করার জন্য

নিচের কোনটি সঠিক?

ক র ও রর      খ র ও ররর      ● রর ও ররর      ঘ র, রর ও ররর

২৪৩. জনাব মতিন সাহেব বাংলাদেশ ব্যাংকের একজন উচ্চপদস্থ কর্মকর্তা। তার প্রতিষ্ঠানটি— (উচ্চতর দক্ষতা)

র. সরকারি মালিকানায় পরিচালিত

রর. অন্যান্য ব্যাংকের অভিভাবক

ররর. জাতীয় ও স্বায়ত্তশাসিত প্রতিষ্ঠান

নিচের কোনটি সঠিক?

ক র ও রর      খ র ও ররর      গ রর ও ররর      ● র, রর ও ররর

২৪৪. কেন্দ্রীয় ব্যাংককে সরকারের সর্বোচ্চ আর্থিক প্রতিষ্ঠান বলা হয়—(অনুধাবন)

র. নোট ও মুদ্রা প্রচলন করে বলে

রর. অন্যান্য ব্যাংকের অভিভাবক হিসেবে কাজ করে বলে

ররর. সরকারকে সংকটকালীন ঋণ প্রদান করে বলে

নিচের কোনটি সঠিক?

ক র ও রর      ● র ও ররর      গ রর ও ররর      ঘ র, রর ও ররর

২৪৫. কেন্দ্রীয় ব্যাংকের নীতির ওপর নির্ভরশীল থাকে— (অনুধাবন)

র. মুদ্রার মান সংরক্ষণ ও ঋণ নিয়ন্ত্রণ ব্যবস্থা

রর. অর্থের যোগান ও মূল্য নিয়ন্ত্রণ ব্যবস্থা

ররর. বৈদেশিক বাণিজ্য সংক্রান্ত বিষয়াবলি

নিচের কোনটি সঠিক?

● র ও রর      খ র ও ররর      গ রর ও ররর      ঘ র, রর ও ররর

২৪৬. বাংলাদেশ সরকারের আর্থিক সংকটকালে বাংলাদেশ ব্যাংক সরকারের বিশাল অংকের টাকা ঋণ দেয়। এটি প্রমাণ করে— (উচ্চতর দক্ষতা)

র. বাংলাদেশ ব্যাংক সরকারের ব্যাংক

রর. বাংলাদেশ ব্যাংক একটি জাতীয় আর্থিক প্রতিষ্ঠান

ররর. বাংলাদেশ ব্যাংক ঋণের সর্বশেষ আশ্রয়স্থল

নিচের কোনটি সঠিক?

ক র ও রর      খ র ও ররর      গ রর ও ররর      ● র, রর ও ররর

২৪৭. কেন্দ্রীয় ব্যাংক তার অধীনস্থ ব্যাংকসমূহকে— (অনুধাবন)

র. প্রয়োজনীয় দিকনির্দেশনা দেয়

রর. ঋণ প্রদান করে

ররর. বৈদেশিক বাণিজ্যে সহায়তা করে

নিচের কোনটি সঠিক?

● র ও রর      খ র ও ররর      গ রর ও ররর      ঘ র, রর ও ররর

২৪৮. কোনো দেশের অর্থনৈতিক উন্নয়নের জন্য ক্ষতিকর— (উচ্চতর দক্ষতা)

র. প্রয়োজনীয় দিকনির্দেশনা দেয়া

রর. ঋণের আধিক্য

ররর. কোনো ঋণ না থাকা

নিচের কোনটি সঠিক?

ক র ও রর      খ র ও ররর      ● রর ও ররর      ঘ র, রর ও ররর

২৪৯. কেন্দ্রীয় ব্যাংক ঋণ নিয়ন্ত্রণ করে থাকে— (অনুধাবন)

র. মুদ্রাস্ফীতি রোধ করার জন্য

রর. মুদ্রা সংকোচন রোধ করার জন্য

ররর. বৈদেশিক বাণিজ্য বৃদ্ধির জন্য

নিচের কোনটি সঠিক?

● র ও রর      খ র ও ররর      গ রর ও ররর      ঘ র, রর ও ররর

২৫০. কেন্দ্রীয় ব্যাংক বিভিন্ন গবেষণা পরিচালনা করে— (অনুধাবন)

র. দেশবাসীকে অর্থনৈতিক কার্যাবলি সম্পর্কে ধারণা দেয়ার জন্য

রর. সরকারের আর্থিক নীতি প্রণয়নে সাহায্য করার জন্য

ররর. বাণিজ্যিক ব্যাংকের সেবার মান উন্নয়নের জন্য

নিচের কোনটি সঠিক?

ক র ও রর      খ র ও ররর      গ রর ও ররর      ● র, রর ও ররর

২৫১. অর্থনীতির বিভিন্ন খাতের উন্নয়নের জন্য কেন্দ্রীয় ব্যাংক নীতি গ্রহণ করে। এর ফলে— (জ্ঞান)

র. কৃষিখাত সমৃদ্ধ হয়

রর. শিল্পখাতের উন্নয়ন

ররর. ত্বরান্বিত হয়

নিচের কোনটি সঠিক?

● র ও রর      খ র ও ররর      গ রর ও ররর      ঘ র, রর ও ররর

২৫২. ঋণ নিয়ন্ত্রণের মাধ্যমে কেন্দ্রীয় ব্যাংক— (অনুধাবন)

র. দেশের অর্থনৈতিক স্থিতিশীলতা আনয়ন কর

রর. অর্থের মূল্যের ওপর প্রভাব বিস্তার করে

ররর. বিনিময় হার নির্ধারণ করে

নিচের কোনটি সঠিক?

● র ও রর      খ র ও ররর      গ রর ও ররর      ঘ র, রর ও ররর

২৫৩. কেন্দ্রীয় ব্যাংক দেশীয় মুদ্রার সাথে বিদেশি মুদ্রার বিনিময় হার নির্ধারণ করে- (অনুধাবন)

র. বৈদেশিক বাণিজ্যে ভারসাম্য আনয়নের জন্য

রর. অর্থের বিনিময় হার স্থিতিশীল রাখার জন্য

ররর. বাণিজ্যিক ব্যাংকের সেবার মান বৃদ্ধির জন্য

নিচের কোনটি সঠিক?

- র ও রর      ✕ র ও ররর      গ রর ও ররর      ঘ র, রর ও ররর

### অভিন্ন তথ্যভিত্তিক বহুনির্বাচনি প্রশ্নোত্তর

নিচের অনুচ্ছেদটি পড়ে ২৫৪ ও ২৫৫ নং প্রশ্নের উত্তর দাও :

কালোবাজারি এবং চাঁদাবাজির কারণে বাংলাদেশের মুদ্রা বাজারে চরম অস্থিতিশীলতা দেখা দিলে বাংলাদেশ ব্যাংক বাণিজ্যিক ব্যাংকসমূহের ঋণ দান ক্ষমতার ওপর নিয়ন্ত্রণ আরোপ করে। ঋণ প্রদানের ক্ষেত্রে বাংলাদেশ ব্যাংক কর্তৃক আরোপিত শর্তাবলির ভিত্তিতে বাণিজ্যিক ব্যাংকসমূহকে ঋণ প্রদান করতে হয়।

২৫৪. অনুচ্ছেদে বর্ণিত কার্যাবলির আলোকে বাংলাদেশ ব্যাংককে কী বলা যায়?(প্রয়োগ)

ক সর্বশেষ ঋণদাতা      ✕ নিকাশঘর

গ সরকারের ব্যাংক      ● ঋণ নিয়ন্ত্রক

২৫৫. বাংলাদেশ ব্যাংকের উক্ত কাজের ফলে- (উচ্চতর দক্ষতা)

র. মুদ্রাস্ফীতি লোপ পাবে

রর. মুদ্রা সংকোচন দেখা দেবে না

ররর. লেনদেনে ভারসাম্য স্থাপিত হবে

নিচের কোনটি সঠিক?

- র ও রর      ✕ র ও ররর      গ রর ও ররর      ঘ র, রর ও ররর

### ➔ ৭.৬ : বাংলাদেশের ব্যাংক ব্যবস্থা

- বাংলাদেশের কেন্দ্রীয় ব্যাংকের নাম- বাংলাদেশ ব্যাংক।
- আমাদের দেশের মুদ্রা বাজারের অভিভাবক হলো- কেন্দ্রীয় ব্যাংক।
- মালিকানার দৃষ্টিকে ব্যাংকসমূহকে- ৩ ভাগে ভাগ করা যায়।
- বাণিজ্যিক ব্যাংককে ভাগ করা যায়- ২ ভাগে।
- বাংলাদেশে বিদেশি ব্যাংকের সংখ্যা- ১০টি।
- এদেশে বেসরকারি ব্যাংকের সংখ্যা- ৩১টি।
- বাংলাদেশে সরকারি ব্যাংকের সংখ্যা- ৪টি।
- বাংলাদেশে প্রথম বেসরকারি ব্যাংক- আরব-বাংলাদেশ ব্যাংক।

### সাধারণ বহুনির্বাচনি প্রশ্নোত্তর

২৫৬. সরকারের ব্যাংক হিসেবে দায়িত্ব পালন করছে নিচের কোন ব্যাংকটি? (জ্ঞান)

- বাংলাদেশ ব্যাংক      ✕ সোনালী ব্যাংক  
গ সমবায় ব্যাংক      ঘ কর্মসংস্থান ব্যাংক

২৫৭. বাংলাদেশের ব্যাংক ব্যবস্থাকে প্রধানত কয়ভাগে ভাগ করা হয়েছে?(জ্ঞান)

- ক দুই      ● তিন      গ চার      ঘ পাঁচ

২৫৮. বাংলাদেশে বিদেশি বাণিজ্যিক ব্যাংকের সংখ্যা কত? (জ্ঞান)

- দশ      ✕ বারো      গ পনেরো      ঘ বিশ

২৫৯. বাংলাদেশ ডেভেলপমেন্ট ব্যাংকে গত বছর সিনিয়র অফিসার হিসেবে যোগদান করেছে রাসেল নওয়াজ। তিনি কোন ধরনের ব্যাংকে কর্মরত? (প্রয়োগ)

- ক বাণিজ্যিক      ● বিশেষায়িত      গ বিদেশি      ঘ বেসরকারি

২৬০. বাংলাদেশে সরকারি বাণিজ্যিক ব্যাংকের সংখ্যা কত? (জ্ঞান)

- চার      ✕ পাঁচ      গ দশ      ঘ পনেরো

২৬১. বাংলাদেশে দেশি বেসরকারি বাণিজ্যিক ব্যাংক কতটি? (জ্ঞান)

- ৩১      ✕ ৪০      গ ৪৫      ঘ ৫০

২৬২. দেশীয় ব্যাংকের বৈশিষ্ট্য কোনটি? (উচ্চতর দক্ষতা)

- উচ্চ হার সুদে ঋণ প্রদান      ✕ নিম্ন হার সুদে ঋণ প্রদান

গ আন্তর্জাতিক বাণিজ্য পরিচালনা      ঘ সরকারকে ঋণ প্রদান

২৬৩. স্থানীয় ভিত্তিতে প্রতিষ্ঠিত অর্থলগ্নিকারী বিভিন্ন ধরনের প্রতিষ্ঠানই হলো দেশীয় ব্যাংক। এক্ষেত্রে দেশীয় ব্যাংক কী হিসেবে কাজ করে? (প্রয়োগ)

- মহাজন      ✕ প্রধান ব্যাংক

গ সরকারের ব্যাংক      ঘ ঋণের শেষ আশ্রয়স্থল

২৬৪. বাংলাদেশে বিশেষায়িত ব্যাংক মোট কতটি? (জ্ঞান)

- ক ৫      ✕ ৭      গ ৯      ● ১১

### বহুপদী সমাপ্তিসূচক বহুনির্বাচনি প্রশ্নোত্তর

২৬৫. বাংলাদেশে বাণিজ্যিক ব্যাংকসমূহ পরিচালিত হচ্ছে- (অনুধাবন)

র. সরকারি লেনদেনে স্থিতিশীলতা সৃষ্টির লক্ষ্যে

রর. জনসাধারণকে আর্থিক নিরাপত্তাদানের লক্ষ্যে

ররর. মুনাফা লাভের উদ্দেশ্যে

নিচের কোনটি সঠিক?

- ক র ও রর      ✕ র ও ররর      ● রর ও ররর      ঘ র, রর ও ররর

২৬৬. জনাব মাহতাব এমবিএ সম্পন্ন করার পর সরকারি বাণিজ্যিক ব্যাংকে চাকরি করার ইচ্ছা পোষণ করে। তার ইচ্ছা পূরণে তাকে চাকরি নিতে হবে- (প্রয়োগ)

র. সোনালী ব্যাংকে      রর. পূবালী ব্যাংকে

ররর. অগ্রণী ব্যাংকে

নিচের কোনটি সঠিক?

- ক র ও রর      ● র ও ররর      গ রর ও ররর      ঘ র, রর ও ররর

## অভিন্ন তথ্যভিত্তিক বহুনির্বাচনি প্রশ্নোত্তর

নিচের অনুচ্ছেদটি পড়ে ২৬৭ ও ২৬৮ নং প্রশ্নের উত্তর দাও :

জনাব সিরাজুল ইসলাম বাংলাদেশের একটি বিশেষায়িত ব্যাংক থেকে অগতীর নলকুপ স্থাপনের জন্য ঋণ নেন। চাষাবাদের সুবিধার জন্য তিনি এ উদ্যোগ গ্রহণ করেন। ২ বছরের মধ্যে ঋণ পরিশোধের প্রতিশ্রুতি দিয়ে তিনি ঋণ গ্রহণ করেন।

২৬৭. জনাব সিরাজ কোন ব্যাংক থেকে ঋণ গ্রহণ করেছেন? (প্রয়োগ)

- ক সোনালী ● কৃষি  
গ গ্রামীণ ঘ পূবালী

২৬৮. এ ধরনের ব্যাংক ভূমিকা পালন করছে— (উচ্চতর দক্ষতা)

- র. কৃষি স্বনির্ভরতা অর্জনের ক্ষেত্রে  
রর. মানুষকে আত্মনির্ভরশীল করার ক্ষেত্রে  
ররর. অর্থনৈতিক গতিশীলতা সৃষ্টিতে

নিচের কোনটি সঠিক?

- ক র ও রর খ র ও ররর গ রর ও ররর ● র, রর ও ররর

## ➔ ৭.৭ : কৃষি উন্নয়ন, শিল্পায়ন ও আত্মকর্মসংস্থানে বাংলাদেশের ব্যাংক ব্যবস্থার ভূমিকা

- বাংলাদেশ ব্যাংক প্রতিষ্ঠা লাভ করে— ১৯৭২ সালে।
- দেশের ব্যাংক ও মুদ্রা ব্যবস্থার নিয়ন্ত্রক হলো— বাংলাদেশ ব্যাংক।
- বাংলাদেশ কৃষিব্যাংক ঋণ দেয়— ৩ প্রকারের।
- গ্রামীণ ব্যাংক প্রতিষ্ঠিত হয়— ১৯৮৩ সালে।
- জামানতবিহীন ঋণদান করে— গ্রামীণ ব্যাংক।
- সরকারের 'একটি বাড়ি একটি খামার' প্রকল্পের অংশিদার— সমবায় ব্যাংক।

## সাধারণ বহুনির্বাচনি প্রশ্নোত্তর

২৬৯. বাংলাদেশ ব্যাংক শিল্প মূলধন সরবরাহকারী প্রতিষ্ঠানকে ঋণ দেয় কেন? (অনুধাবন)

ক শিল্পপতিদের মুনাফা অর্জনে সাহায্য করার জন্য

● দেশের শিল্পায়নের গতি ত্বরান্বিত করতে

গ শিল্পখাতকে আধুনিকীকরণের জন্য

ঘ দেশের জনসাধারণকে শিল্পনির্ভর করে গড়ে তুলতে

২৭০. কেন্দ্রীয় ব্যাংক কিসের বিনিময়ে বাণিজ্যিক ব্যাংকসমূহকে ঋণ দান করে? (জ্ঞান)

● ঋণপত্রের খ ব্যাংক দলিলের

গ সরকারি নির্দেশনার ঘ ধাতব মুদ্রার

২৭১. কেন্দ্রীয় ব্যাংক সহজস্বর্তে বেকার যুবকদের ঋণ দেয় কেন? (অনুধাবন)

● আত্মকর্মসংস্থান সৃষ্টির জন্য

খ দ্রুত শিল্পায়নের জন্য

গ সামাজিক অবক্ষয় রোধের জন্য

ঘ যুবকদের অর্থনৈতিক নিরাপত্তা নিশ্চিত করার জন্য

২৭২. বাংলাদেশকে কৃষি প্রধান দেশ বলা হয় কেন? (অনুধাবন)

ক কৃষি উন্নয়নের চারিকাঠি বলে

● কৃষির ওপর অধিকাংশ মানুষ নির্ভরশীল বলে

গ কৃষি জমির পরিমাণ বেশি বলে

ঘ কৃষিক্ষেত্রে যথেষ্ট উন্নতি লাভ করেছে বলে

২৭৩. আমাদের দেশের অধিকাংশ কৃষক কেমন? (উচ্চতর দক্ষতা)

● দরিদ্র খ আত্মনির্ভরশীল

গ পরিশ্রমী ঘ বেকার

২৭৪. একজন কৃষক মাত্র কত টাকা জমা রেখে কৃষি ব্যাংকে ব্যাংক হিসাব খোলার সুযোগ পাচ্ছে? (জ্ঞান)

ক ৫ ● ১০ গ ২০ ঘ ৫০

২৭৫. কৃষি ব্যাংক কত সালে প্রতিষ্ঠিত হয়েছে? (জ্ঞান)

ক ১৯৭২ ● ১৯৭৩ গ ১৯৭৪ ঘ ১৯৭৫

২৭৬. কৃষি উন্নয়নে কৃষি ব্যাংক ভূমিকা পালন করে। কৃষকদের সুবিধার্থে বিভিন্ন ধরনের শস্য উৎপাদনের জন্য এ ব্যাংক কোন ঋণ প্রদান করে? (উচ্চতর দক্ষতা)

ক কৃষি খ শস্য গ দীর্ঘ ● মৌসুমি

২৭৭. নিচের কোনটি বিশেষ ধরনের ব্যাংক? (জ্ঞান)

ক রূপালী খ জনতা

গ অগ্রণী ● কৃষি

২৭৮. বাংলাদেশ কৃষি ব্যাংক কোন মেয়াদি ঋণ প্রদান করে? (জ্ঞান)

ক স্বল্প খ দীর্ঘ

● স্বল্প, মধ্যম ঘ মধ্যম

২৭৯. বাংলাদেশ ব্যাংক কৃষি ঋণ প্রদানকারী প্রতিষ্ঠানগুলোকে কীভাবে সহায়তা করছে? (অনুধাবন)

● প্রয়োজনমত কৃষি ঋণ সরবরাহ করে

খ সার, বীজ ও অন্যান্য উপকরণ সরবরাহ করে

গ কৃষকদের প্রশিক্ষণের ব্যবস্থা করে

ঘ ঋণদানের ক্ষেত্রে চিহ্নিত করে

২৮০. ইয়াসিন সাহেব বাংলাদেশ কৃষি ব্যাংক থেকে সার, বীজ, কীটনাশক প্রভৃতি ক্রয় ও অন্যান্য কাজের জন্য ঋণ গ্রহণ করেন। ব্যাংক রহিমকে কোন মেয়াদের ভিত্তিতে ঋণ প্রদান করবে? (প্রয়োগ)

ক মধ্যম ● স্বল্প গ অতি স্বল্প ঘ দীর্ঘ

২৮১. সার, বীজ কেনার জন্য কৃষি ব্যাংক স্বল্পমেয়াদি ঋণদান করে। স্বল্পমেয়াদি ঋণ পরিশোধের মেয়াদ কত মাস? (প্রয়োগ)

ক ২০ খ ২২ ● ১৮ ঘ ১৫

২৮২. কৃষি ব্যাংকের মধ্যমেয়াদি ঋণ পরিশোধের সময়সীমা কত? (অনুধাবন)  
ক ১২-১৮ মাস খ ১৫-৩০ মাস  
● ১৮ মাস থেকে-৫ বছর ঘ ৫-১০ বছর
২৮৩. জমির কৃষক কৃষি ব্যাংক থেকে স্বল্পমেয়াদি ঋণ গ্রহণ করে। এ ঋণ পরিশোধের জন্য তিনি কত মাস সময় পাবেন? (প্রয়োগ)  
● ১৮ খ ২৪ গ ৩০ ঘ ৩৫
২৮৪. কৃষি ব্যাংকের দীর্ঘমেয়াদি ঋণ কত বছরের জন্য দেয়া হয়? (জ্ঞান)  
● ৫ খ ৬ গ ৭ ঘ ৮
২৮৫. কৃষি ব্যাংক দীর্ঘমেয়াদি ঋণ দান করে কত বছরের জন্য? (জ্ঞান)  
● ৫-২০ খ ৩-১০ গ ২-৩ ঘ ১-২
২৮৬. বাংলাদেশ ডেভেলপমেন্ট ব্যাংকটি গঠিত হয় কবে? (জ্ঞান)  
● ৩১ ডিসেম্বর ২০০৯ খ ২৫ জুন ২০০৮  
গ ৩০ ডিসেম্বর ২০০৭ ঘ ২১ ডিসেম্বর ২০০৬
২৮৭. বাংলাদেশ শিল্প ব্যাংকের বর্তমান নাম কী? (অনুধাবন)  
ক কর্মসংস্থান ব্যাংক ● বাংলাদেশ ডেভেলপমেন্ট ব্যাংক  
গ বাংলাদেশ রপ্তানি ব্যাংক ঘ বাংলাদেশ শিল্প উন্নয়ন ব্যাংক
২৮৮. বাংলাদেশ ডেভেলপমেন্ট ব্যাংকের ঋণ পরিশোধের সর্বোচ্চ সময়সীমা কত? (জ্ঞান)  
● ২০ বছর খ ১৫ বছর গ ১০ বছর ঘ ৫ বছর
২৮৯. বাংলাদেশের অধিকাংশ মানুষ দরিদ্র। এই দরিদ্র মানুষের জীবনযাত্রার মান উন্নয়নের জন্য নিচের কোন ব্যাংক অধিক ভূমিকা পালন করতে পারে? (উচ্চতর দক্ষতা)  
ক এশিয়া খ কৃষি  
গ শিল্প ● গ্রামীণ  
ঘ গ্রামীণ
২৯০. নিচের কোন ব্যাংকটি ব্যতিক্রম? (জ্ঞান)  
ক সোনালী ● গ্রামীণ  
গ জনতা ঘ প্রাইম
২৯১. গ্রামের দরিদ্র জনগণকে বিনা জামানতে ঋণ প্রদান করে কোন ব্যাংক? (অনুধাবন)  
ক সোনালী খ রূপালী  
● গ্রামীণ ঘ কেন্দ্রীয়
২৯২. গ্রামের ভূমিহীন শাহানা বেগম একটি ব্যাংক থেকে ঋণ নিয়ে একটি সবজি বাগান তৈরি করেন। কোনো জামানত ছাড়াই তিনি ঋণ পান। শাহানা বেগমকে ঋণদানকারী প্রতিষ্ঠানটির নাম কী? (প্রয়োগ)  
ক সোনালী ব্যাংক ● গ্রামীণ ব্যাংক  
গ কৃষি ব্যাংক ঘ পূবালী ব্যাংক
২৯৩. রহিমা বানু একজন দরিদ্র মহিলা। তিনি একটি মুরগির খামার দিতে চান। এমতাবস্থায় তিনি কোথা থেকে ঋণ পেতে পারেন? (প্রয়োগ)  
ক কৃষি ব্যাংক ● গ্রামীণ ব্যাংক  
গ বাণিজ্যিক ব্যাংক ঘ উন্নয়ন ব্যাংক
২৯৪. সমবায়ের নীতিমালার ভিত্তিতে পরিচালিত ব্যাংককে কী বলা হয়? (জ্ঞান)  
ক বিশেষায়িত ব্যাংক খ কেন্দ্রীয় ব্যাংক

গ বাণিজ্যিক ব্যাংক ● সমবায় ব্যাংক

২৯৫. সমবায় ব্যাংকের উদ্দেশ্য কী? (অনুধাবন)  
● পারস্পরিক সহায়তার ভিত্তিতে ঋণ দান করা  
খ দেশের সমবায়িক অর্থনীতি গড়ে তোলা  
গ দেশকে শিল্পোন্নত করা  
ঘ বেকার সমস্যার সমাধান করা
২৯৬. নিচের কোন ব্যাংক স্বল্প সুদে ঋণ প্রদান করে? (জ্ঞান)  
● সমবায় খ সোনালী গ ইসলামী ঘ শিল্প
২৯৭. সমবায় ব্যাংকের মালিকানায় কতভাগ সরকারের? (জ্ঞান)  
ক ১৫% খ ১৭% ● ১৪% ঘ ২০%
২৯৮. 'একটি বাড়ি একটি খামার' প্রকল্পের অংশীদার কোন ব্যাংক? (জ্ঞান)  
ক উন্নয়ন ● সমবায় গ জনতা ঘ বিশ্ব

### বহুপদী সমাপ্তিসূচক বহুনির্বাচনি প্রশ্নোত্তর

২৯৯. দরিদ্রদের মাঝে কর্ম উদ্দীপনা সৃষ্টি করে— (উচ্চতর দক্ষতা)  
র. শিল্প ব্যাংক  
রর. জনতা ব্যাংক  
ররর. গ্রামীণ ব্যাংক  
নিচের কোনটি সঠিক?  
ক র খ রর ● ররর ঘ র ও ররর
৩০০. কৃষি ব্যাংক মধ্যমেয়াদি ঋণ দিতে পারে— (অনুধাবন)  
র. কৃষিপণ্য বাজারজাতের জন্য  
রর. সার কেনার জন্য  
ররর. গরু কেনার জন্য  
নিচের কোনটি সঠিক?  
ক র খ র ● ররর ঘ র ও রর
৩০১. আব্দুর রহিম সার-বীজ কেনার জন্য কৃষি ব্যাংক থেকে ঋণ উত্তোলন করলেন। তার এ ঋণ— (প্রয়োগ)  
র. দীর্ঘমেয়াদি  
রর. স্বল্পমেয়াদি  
ররর. মধ্যমেয়াদি  
নিচের কোনটি সঠিক?  
ক র ● রর গ ররর ঘ র, রর ও ররর
৩০২. গ্রামীণ ব্যাংকের উদ্দেশ্য— (অনুধাবন)  
র. দরিদ্র জনগোষ্ঠীর উন্নয়ন  
রর. গরিব মহিলাদের কাজের ব্যবস্থা করা  
ররর. বাজার ব্যবস্থা গতিশীল রাখা

নিচের কোনটি সঠিক?

● র ও রর      খ র ও ররর      গ রর ও ররর      ঘ র, রর ও ররর

৩০৩. বাংলাদেশ ব্যাংক ঋণের প্রবাহ বৃদ্ধি করে— (অনুধাবন)  
র. নতুন ব্যাংক স্থাপন করে

রর. ব্যাংকসমূহকে ঋণ দান করে

ররর. যুবকদের জন্য আত্মকর্মসংস্থান সৃষ্টি করে

নিচের কোনটি সঠিক?

● র ও রর      খ র ও ররর      গ রর ও ররর      ঘ র, রর ও ররর

৩০৪. বাণিজ্যিক ব্যাংক দেশের অর্থনৈতিক উন্নয়ন প্রক্রিয়ার একটি বড় অংশে পরিণত হয়েছে— (অনুধাবন)  
র. ব্যবসা-বাণিজ্য সম্প্রসারণে ভূমিকা রেখে

রর. শিল্পায়নে অর্থসংস্থান করে

ররর. আত্মকর্মসংস্থান সৃষ্টির মাধ্যমে

নিচের কোনটি সঠিক?

ক র ও রর      খ র ও ররর      গ রর ও ররর      ● র, রর ও ররর

৩০৫. বাণিজ্যিক ব্যাংকসমূহ কৃষকদের ঋণ প্রদান করে— (অনুধাবন)  
র. কৃষি যন্ত্রপাতি ক্রয়ের জন্য

রর. পানি সেচের জন্য নলকূপ ক্রয়ের জন্য

ররর. সার, বীজ কেনার জন্য

নিচের কোনটি সঠিক?

ক র ও রর      খ র ও ররর      ● রর ও ররর      ঘ র, রর ও ররর

৩০৬. বাণিজ্যিক ব্যাংকসমূহ দেশের কর্মসংস্থান সৃষ্টিতে সহায়তা করছে— (অনুধাবন)  
র. রিকশা ও ভ্যান ক্রয়ে ঋণ প্রদান করে

রর. শিল্প-কারখানা নির্মাণে ঋণ দান করে

ররর. ব্যাংকের নতুন নতুন শাখা তৈরি করে

নিচের কোনটি সঠিক?

ক র ও রর      খ র ও ররর      গ রর ও ররর      ● র, রর ও ররর

৩০৭. কৃষি ব্যাংক প্রতিষ্ঠিত হয়েছে— (অনুধাবন)  
র. কৃষিখাতের গতিশীলতা সৃষ্টির জন্য

রর. কৃষি স্বনির্ভরতা অর্জনের লক্ষ্যে

ররর. দেশের শিল্পায়ন ত্বরান্বিত করার জন্য

নিচের কোনটি সঠিক?

● র ও রর      খ র ও ররর      গ রর ও ররর      ঘ র, রর ও ররর

৩০৮. বাংলাদেশ কৃষি ব্যাংক একটি— (উচ্চতর দক্ষতা)  
র. জাতীয় প্রতিষ্ঠান

রর. রাষ্ট্রায়ত্ত্ব প্রতিষ্ঠান

ররর. আধা-স্বায়ত্তশাসিত প্রতিষ্ঠান

নিচের কোনটি সঠিক?

ক র ও রর      খ র ও ররর      ● রর ও ররর      ঘ র, রর ও ররর

৩০৯. কৃষি ব্যাংক কৃষককে দীর্ঘমেয়াদি ঋণ দান করে— (অনুধাবন)  
র. চা বাগানের উন্নয়নের জন্য

রর. ভূমি সমতল করার জন্য

ররর. হিমাগার নির্মাণের জন্য

নিচের কোনটি সঠিক?

ক র ও রর      ● র ও ররর      গ রর ও ররর      ঘ র, রর ও ররর

৩১০. বাংলাদেশ ডেভেলপমেন্ট ব্যাংক ক্ষুদ্র ও মাঝারি শিল্প মেয়াদি ঋণ প্রদান করছে— (অনুধাবন)

র. কর্মসংস্থান বৃদ্ধির লক্ষ্যে

রর. স্বনির্ভরতা বৃদ্ধির লক্ষ্যে

ররর. সামাজিক উন্নয়নের জন্য

নিচের কোনটি সঠিক?

● র ও রর      খ র ও ররর      গ রর ও ররর      ঘ র, রর ও ররর

৩১১. গ্রামীণ ব্যাংক একটি বিশেষ আর্থিক প্রতিষ্ঠান, যা গঠিত হয়েছে— (উচ্চতর দক্ষতা)  
র. দরিদ্র মানুষের উন্নয়নের লক্ষ্যে

রর. মহাজনদের দৌরাভ্যা কমাতে

ররর. দেশের অর্থনৈতিক স্থিতিশীলতা রক্ষার্থে

নিচের কোনটি সঠিক?

● র ও রর      খ র ও ররর      গ রর ও ররর      ঘ র, রর ও ররর

৩১২. গ্রামীণ ব্যাংক ঋণ প্রদান করে— (উচ্চতর দক্ষতা)  
র. সুদবিহীন

রর. জামানতবিহীন

ররর. ভূমিহীন নারী-পুরুষের

নিচের কোনটি সঠিক?

ক র ও রর      খ র ও ররর      ● রর ও ররর      ঘ র, রর ও ররর

৩১৩. গ্রামীণ ব্যাংক ঋণ দান করে— (অনুধাবন)  
র. নারীকে কর্মে উদ্বুদ্ধকরণের জন্য

রর. ভিক্ষুকদের আবলম্বী করার জন্য

ররর. বেকারদের আত্মনির্ভরশীল করার জন্য

নিচের কোনটি সঠিক?

ক র ও রর      খ র ও ররর      গ রর ও ররর      ● র, রর ও ররর

৩১৪. সমবায় ব্যাংক কৃষি ঋণ প্রদান করে—  
র. দারিদ্র্যবিমোচনের জন্য

(অনুধাবন)

রর. খাদ্য উৎপাদন বৃদ্ধির লক্ষ্যে

ররর. আত্মকর্মসংস্থান সৃষ্টির লক্ষ্যে

নিচের কোনটি সঠিক?

● র ও রর      খ র ও ররর      গ রর ও ররর      ঘ র, রর ও ররর

৩১৫. সমবায় ব্যাংক গুরুত্বপূর্ণ ভূমিকা রাখছে—  
র. বেকারত্ব দূরীকরণে

(অনুধাবন)

রর. মহিলাদের কর্মসংস্থান সৃষ্টিতে

ররর. দেশের শিল্পায়ন প্রক্রিয়ায়

নিচের কোনটি সঠিক?

● র ও রর      খ র ও ররর      গ রর ও ররর      ঘ র, রর ও ররর

### অভিন্ন তথ্যভিত্তিক বহুনির্বাচনি প্রশ্নোত্তর

নিচের অনুচ্ছেদটি পড়ে ৩১৬ ও ৩১৭ নং প্রশ্নের উত্তর দাও :

রতন মিয়া কৃষি ব্যাংক থেকে অগভীর নলকূল স্থাপনের জন্য ৪ বছরের জন্য ঋণ নেয়। এজন্য ব্যাংক তাকে ১২০০০ টাকা ঋণ দেয়।

৩১৬. রতন মিয়ার ঋণ পরিশোধের সময়কাল কত? (উচ্চতর দক্ষতা)

ক ১ বছর থেকে তিন বছর      খ ১০ মাস থেকে ৩ বছর

গ ৯ মাস থেকে ৫ বছর      ● ১৮ মাস থেকে ৫ বছর

৩১৭. রতন মিয়ার ১২,০০০ টাকা ঋণ কোন জাতীয় ঋণ বলে মনে কর? (প্রয়োগ)

● মধ্যম মেয়াদি      খ স্বল্পমেয়াদি

গ স্থায়ী      ঘ উচ্চ মেয়াদি

নিচের ছকটি পড়ে ৩১৮ ও ৩১৯নং প্রশ্নের উত্তর দাও :

ঋণের মেয়াদকাল	ঋণের নাম
১৮ মাস	স্বল্পমেয়াদি
১৮-৫ বছর	মধ্যমেয়াদি
৫ বছরের অধিক	দীর্ঘমেয়াদি

৩১৮. উল্লিখিত মেয়াদে কোন ব্যাংক ঋণ প্রদান করে? (প্রয়োগ)

● কৃষি      খ সমবায়      গ গ্রামীণ      ঘ শিল্প

৩১৯. এ ব্যাংকে দীর্ঘমেয়াদি ঋণ দিতে পারে— (উচ্চতর দক্ষতা)

র. চা-বাগানের উন্নয়নে

রর. শস্যগার নির্মাণে

ররর. গভীর নলকূল স্থাপনে

নিচের কোনটি সঠিক?

ক র ও রর      খ র ও ররর      গ রর ও ররর      ● র, রর ও ররর

নিচের অনুচ্ছেদটি পড়ে ৩২০ ও ৩২১ নং প্রশ্নের উত্তর দাও :

করিম শেখ ও তার স্ত্রী সমবায় ব্যাংক থেকে ৫০ হাজার টাকা ঋণ নিয়ে গরুর খামার করেছে। তারা ৫ বছরে এ ঋণ শোধ করবে।

৩২০. করিম শেখকে ঋণ প্রদানকারী ব্যাংকটির মালিক— (প্রয়োগ)

র. সরকার

রর. জনগণ

ররর. সমবায় প্রতিষ্ঠান

নিচের কোনটি সঠিক?

ক র ও রর      ● র ও ররর      গ রর ও ররর      ঘ র, রর ও ররর

৩২১. অনুচ্ছেদটির ক্ষেত্রটি ছাড়াও উক্ত ব্যাংক ঋণ দান করে— (উচ্চতর দক্ষতা)  
র. কৃষিভিত্তিক শিল্পসমূহে

রর. নির্মাণ শিল্পে

ররর. ফোন ক্রেয়ে

নিচের কোনটি সঠিক?

● র ও রর      খ র ও ররর      গ রর ও ররর      ঘ র, রর ও ররর

নিচের অনুচ্ছেদটি পড়ে ৩২২ ও ৩২৩ নং প্রশ্নের উত্তর দাও :

রহিমা বেগম গ্রামীণ ব্যাংক থেকে সহজশর্তে ঋণ নিয়ে নিজের পরিবারের ব্যয়ভার বহন করার সক্ষমতা অর্জন করেছে। শুধু রহিমা বেগমই নয়, তার মতো হাজার হাজার অবহেলিত নারী গ্রামীণ ব্যাংকের উপকারভোগী।

৩২২. অনুচ্ছেদে গ্রামীণ ব্যাংকের কোন বৈশিষ্ট্যটি প্রকাশ পেয়েছে? (প্রয়োগ)

● নারীদের ক্ষমতায়নে ভূমিকা পালন      খ মহাজনদের দৌরাত্যা রোধ করা

গ জামানতবিহীন ঋণ দান      ঘ নারীদের সুশিক্ষিত করে তোলা

৩২৩. গ্রামীণ ব্যাংকের উক্ত ভূমিকার কারণে— (উচ্চতর দক্ষতা)

র. নারীরা স্বাবলম্বী হচ্ছে

রর. নারী নির্যাতন বন্ধ হয়েছে

ররর. নারীরা পরিবারে মর্যাদা পাচ্ছে

নিচের কোনটি সঠিক?

ক র ও রর      ● র ও ররর      গ রর ও ররর      ঘ র, রর ও ররর

নিচের অনুচ্ছেদটি পড়ে ৩২৪ ও ৩২৫ নং প্রশ্নের উত্তর দাও :

জনি মিয়া একজন প্রান্তিক কৃষক। তার ২ বিঘা জমি আছে। তিনি সে জমিতে ধান চাষের সিদ্ধান্ত নেন। টাকার অভাবে তিনি উফশী জাতের বীজ, রাসায়নিক সার, কীটনাশক ইত্যাদি ব্যবহার করতে পারেন না। পরবর্তীতে তিনি একটি ব্যাংক থেকে ঋণ নিয়ে চাষাবাদ করেন।

৩২৪. জনি মিয়া যে ব্যাংক থেকে ঋণ নেন তার নাম কী? (প্রয়োগ)



ক সরকারি	খ বাণিজ্যিক		
● কৃষি	ঘ সমবায়		
৩২৫. জনি মিয়া এ ব্যাংক থেকে যে ঋণ নিতে পারেন—	(উচ্চতর দক্ষতা)		
র. দীর্ঘমেয়াদি ঋণ			
রর. মধ্যমেয়াদি ঋণ			
ররর. স্বল্পমেয়াদি ঋণ			
নিচের কোনটি সঠিক?			
ক র ও রর	খ র ও ররর	গ রর ও ররর	● র, রর ও ররর

### ■ অধ্যায়ের পাঠ সমন্বিত বহুনির্বাচনি প্রশ্নোত্তর

<b>বহুপদী সমাপ্তিসূচক বহুনির্বাচনি প্রশ্নোত্তর</b>			
৩২৬. বর্তমানে মানুষ ব্যাংক সৃষ্টি অর্ধেক গ্রহণ করেছে—	(অনুধাবন)		
র. ব্যবসায়িক লেনদেন পরিচালনা করতে			
রর. দেনা-পাওনা মেটানোর জন্য			
ররর. দৈনন্দিন অভাব পূরণের জন্য			
নিচের কোনটি সঠিক?			
● র ও রর	খ র ও ররর	গ রর ও ররর	ঘ র, রর ও ররর
৩২৭. বাণিজ্যিক ব্যাংক অর্থ সৃষ্টি করতে পারে—	(অনুধাবন)		
র. আমানত গ্রহণ করে			
রর. ঋণ প্রদান করে			
ররর. নতুন নোট তৈরি করে			
নিচের কোনটি সঠিক?			
● র ও রর	খ র ও ররর	গ রর ও ররর	ঘ র, রর ও ররর
৩২৮. অর্থ গুরুত্বপূর্ণ ভূমিকা পালন করে—	(অনুধাবন)		
র. উৎপাদন ব্যবস্থায় গতিশীলতা সৃষ্টিতে			
রর. সমাজজীবনের প্রয়োজন পূরণে			
ররর. মানুষের মধ্যে ঐক্য প্রতিষ্ঠায়			
নিচের কোনটি সঠিক?			
ক র ও রর	খ র ও ররর	● রর ও ররর	ঘ র, রর ও ররর
৩২৯. প্রকৃত মুদ্রার সাহায্যে—	(অনুধাবন)		
র. জিনিসপত্রের মূল্য নির্ধারণ করা হয়			
রর. দৈনন্দিন জীবনের লেনদেন সম্পন্ন করা হয়			
ররর. অর্থ গচ্ছিত রাখা হয়			
নিচের কোনটি সঠিক?			
ক র ও রর	খ র ও ররর	● রর ও ররর	ঘ র, রর ও ররর

৩৩০. কেন্দ্রীয় ব্যাংকের মূল উদ্দেশ্য হলো—	(প্রয়োগ)		
র. মুনাফা অর্জন			
রর. ঋণ প্রদান			
ররর. জনকল্যাণ			
নিচের কোনটি সঠিক?			
ক র	খ রর	● ররর	ঘ র ও রর

৩৩১. বাণিজ্যিক ব্যাংকসমূহের ঋণদান ক্ষমতা নিয়ন্ত্রণের উদ্দেশ্যে কেন্দ্রীয় ব্যাংক বিভিন্ন ব্যবস্থা গ্রহণ কর থাকে। এ ধরনের ব্যবস্থা হলো—	(উচ্চতর দক্ষতা)		
র. খেলা বাজার নীতি গ্রহণ			
রর. শেয়ারবাজারের ব্যবসা জোরদারকরণ			
ররর. ব্যাংক হারের পরিবর্তন			
নিচের কোনটি সঠিক?			
ক র ও রর	● র ও ররর	গ রর ও ররর	ঘ র, রর ও ররর

৩৩২. বাংলাদেশ ব্যাংক দেশের অর্থনৈতিক সমৃদ্ধি অর্জনে ভূমিকা পালন করেছে—	(অনুধাবন)		
র. মূল্য বাজার স্থিতিশীল রেখে			
রর. অর্থ ও ঋণ ব্যবস্থাকে সচল রেখে			
ররর. জনসাধারণকে ঋণ প্রদান করে			
নিচের কোনটি সঠিক?			
● র ও রর	খ র ও ররর	গ রর ও ররর	ঘ র, রর ও ররর

### অভিন্ন তথ্যভিত্তিক বহুনির্বাচনি প্রশ্নোত্তর

নিচের অনুচ্ছেদটি পড়ে ৩৩৩ ও ৩৩৪ নং প্রশ্নের উত্তর দাও :			
রাজশাহীর চানু মিয়া এবার লিচু উৎপাদন করে ব্যাপক লাভবান হয়েছে। দুটি বাগানে ৫০ মণ লিচু উৎপাদিত হয়েছে। যা ট্রাক ভরে ঢাকায় এনে উচ্চমূল্যে বিক্রি করা হয়েছে। ঢাকার মানুষ অনেকটা আত্মহ ভরেই বেশি দাম দিয়ে এসব লিচু ক্রয় করেছে। লিচুগুলো বিক্রি করতে পেরে চানু মিয়াও দারুণ খুশি।			
৩৩৩. অনুচ্ছেদে অর্থের কোন ধরনের কাজের ইঙ্গিত দেওয়া হয়েছে? (প্রয়োগ)			
ক মূল্যের পরিমাপক	খ সঞ্চয়ের বাহন		
● বিনিময়ের মাধ্যম	ঘ তারল্যের মান নির্দেশক		
৩৩৪. অর্থের এ ধরনের কাজের ফলে—	(উচ্চতর দক্ষতা)		
র. লেনদেন সহজ ও গতিশীল হয়েছে			
রর. পণ্য ও সেবা ক্রয়-বিক্রয় সম্ভব হয়েছে			
ররর. স্থগিত লেনদেনের মান নির্ধারণ করা সহজ হয়েছে			
নিচের কোনটি সঠিক?			
● র ও রর	খ র ও ররর	গ রর ও ররর	ঘ র, রর ও ররর



## অষ্টম অধ্যায়


# বাংলাদেশের অর্থনীতি

## সৃজনশীল প্রশ্ন

### ১। অর্থনীতির দুটি খাত



অ (কৃষক মাঠে পাট কাটছে)



ই (পাটের তৈরি ব্যাগ)

- ক. শিল্প কী?  
খ. আমাদের দেশে পুঁজি গঠনের হার কম কেন?  
গ. 'অ' খাতের উন্নয়নের উপর কীভাবে অর্থনৈতিক প্রবৃদ্ধি নির্ভরশীল ব্যাখ্যা কর।  
ঘ. 'অ' ও 'ই' খাত পরস্পর পরিপূরক-মূল্যায়ন কর।

### ২।



- ক. সেবা কাকে বলে?  
খ. ক্ষুদ্র শিল্পের ভিত্তি কৃষি- ব্যাখ্যা কর।  
গ. উচ্চ কর্তৃপক্ষের 'অ' চিহ্নিত স্থানকে গুরুত্বপূর্ণ বিবেচনা করার কারণ ব্যাখ্যা কর।  
ঘ. বাংলাদেশের এ উচ্চ তে 'অ' স্থানে প্রতিষ্ঠিত শিল্পের অবদান মূল্যায়ন কর।

৩। কৃষক রহিম পাট চাষাবাদের জন্য ট্রাক্টর, সার কীটনাশক ব্যবহার বৃদ্ধি করার কারণে পাটের উৎপাদন বহুগুণ বেড়েছে। অপরদিকে, করিম

তার উৎপাদিত সার বাজারজাতকরণে প্লাস্টিক ব্যাগের পরিবর্তে পাটের ব্যাগ ব্যবহার করছে।

- ক. শিল্প কাকে বলে? ১  
খ. সেবাখাত বলতে কী বোঝায়? ব্যাখ্যা কর। ২  
গ. রহিমের কাজের খাতটিকে অর্থনীতির ভাষায় কী বলা যায়? ব্যাখ্যা কর। ৩

ঘ. দৃশ্যকল্পে বর্ণিত রহিম ও করিমের খাত দুইটি পারস্পরিক নির্ভরশীল- উত্তরের সপক্ষে যুক্তি দাও। ৪

৪। সিলেটের আনিস সাহেব বাঁশ ও বেত দিয়ে বুড়ি, মোড়া, মাদুরসহ হস্তশিল্পজাত দ্রব্য তৈরি করেন। এ কাজে তাকে তার দুই ভাই ও তিন বোন সহযোগিতা করে। তার তৈরি দ্রব্যের চাহিদা দেশে-বিদেশে দিন দিন বৃদ্ধি পাচ্ছে।

- ক. এসপিএম কার্যক্রম কী? ১  
খ. বাংলাদেশের বেশিরভাগ শিল্প কৃষির ওপর নির্ভরশীল কেন? ২  
গ. উদ্দীপকের উল্লিখিত আনিসের কাজটি কোন ধরনের শিল্প? ব্যাখ্যা কর। ৩

ঘ. 'আত্মকর্মসংস্থানের পাশাপাশি জাতীয় অর্থনীতিতে আনিস সাহেবের গুরুত্বপূর্ণ অবদান রাখছেন'- তোমার মতামতের পক্ষে যুক্তি দাও। ৪

৫। নারায়ণপুর ইউনিয়নের তাজু মিয়া একজন ধনী কৃষক। গত কয়েক বছর ধরে তার জমিতে আধুনিক চাষাবাদ পদ্ধতি অনুসরণ করায় অধিক ফসল উৎপাদন হয়। এ ফসল বিক্রি করে তাজু একটি ছোট পোশাক কারখানা তৈরি করে, যা তার স্ত্রী পরিচালনা করছে। এ কারখানাটিতে তাজুর গ্রামের অধিকাংশ নারীর কর্মসংস্থানের সুযোগ হয়েছে। এসব পরিবারের আয় বৃদ্ধি পেয়ে জীবনযাত্রার মান বাড়ছে।

- ক. উচ্চ-এর পূর্ণরূপ কী? ১  
খ. বাংলাদেশে খাদ্য ঘাটতি ও পুষ্টিহীনতার কারণ কী? লেখ। ২  
গ. উদ্দীপকে বাংলাদেশের কোন চিত্রটি ফুটে উঠেছে? ব্যাখ্যা কর। ৩

ঘ. উদ্দীপকটি বাংলাদেশের উক্ত দিকের সার্বিক চিত্র উপস্থাপনে সক্ষম হয়েছে কি? মতামতের পক্ষে যুক্তি দাও। ৪

৬। ঢাকা মহাসড়কের ওপর দিয়ে যাওয়ার সময় খিলক্ষেত ফ্লাইওভারে উঠে সদ্য বিদেশ থেকে আগত নোমান চৌধুরী অবাধ হন। দশ বছর আগের ঢাকা আর বর্তমান ঢাকার মধ্যে তিনি বিস্তর পার্থক্য অনুভব করেন। যোগাযোগ ব্যবস্থাকে উন্নত করতে সরকারের নানামুখী প্রচেষ্টাকে তিনি স্বাগত জানান। তিনি মনে করেন সরকারের এমন ইতিবাচক কর্মসূচিই বাংলাদেশের অর্থনীতিকে সমৃদ্ধ করতে পারে।

ক. 'রূপকল্প-২০২১' কত থেকে কত সালের জন্য প্রণয়ন করা হয়েছে? ১

খ. 'কৃষিই বাংলাদেশের অর্থনীতির মূলভিত্তি'— ব্যাখ্যা কর। ২

গ. উদ্দীপকটি বাংলাদেশের অর্থনীতির কোন বৈশিষ্ট্যটি তুলে ধরে? ব্যাখ্যা কর। ৩

ঘ. শুধু উদ্দীপকের কর্মসূচিই বাংলাদেশের অর্থনৈতিক উন্নয়নের সরকারের গৃহীত একমাত্র কর্মসূচি নয়— মন্তব্যটি বিশ্লেষণ কর। ৪

৭। গাজীপুর জেলার ভবানীপুরে জনাব খালেদ মোশাররফ বেশ কিছু গার্মেন্টস ফ্যাক্টরি গড়ে তুলেছেন। তার এসব ফ্যাক্টরিতে হাজারও মানুষের কর্মসংস্থান সৃষ্টি হয়েছে। দেশের অবকাঠামোগত উন্নয়নের জন্যই তিনি এখাতে আরও বিনিয়োগের সম্ভাবনা খুঁজে পেয়েছেন।

ক. সেবা কী? ১

খ. উচ্চ প্রতিষ্ঠা করা হয়েছে কেন? ২

গ. উদ্দীপকে বাংলাদেশের অর্থনীতির কোন খাতের ইঙ্গিত দেওয়া হয়েছে? ব্যাখ্যা কর। ৩

ঘ. উদ্দীপকে খালেদ মোশাররফের এ খাতে অর্থ বিনিয়োগের কারণটির যৌক্তিকতা তুলে ধর। ৪

বড়াইগ্রামের কৃষক আনিস মিয়া কৃষি উৎপাদনের মাধ্যমে পরিবারের দৈনন্দিন চাহিদা মেটাতে সক্ষম না হওয়ায় স্থানীয় একটি ষাণ্ড থেকে কিছু টাকা ঋণ নিয়ে শাড়ি, লুঙ্গি তৈরির ব্যবসা শুরু করেন। তিনি ও তার স্ত্রী মিলে এ কাজ শুরু করলেও বর্তমানে গ্রামে আরও আটদশ জন তাদের কাজে সহযোগিতা করেছে। তাদের কাজের পরিধিও বৃদ্ধি পেয়েছে। তাদের তৈরি জিনিসপত্র বাজারে ব্যাপক প্রশংসা পেয়েছে।

ক. বৃহদায়তন শিল্প কী? ১

খ. বাংলাদেশে বেকারত্বের হার এত বেশি কেন? ২

গ. উদ্দীপকের আনিস মিয়ার দ্বিতীয় কাজটি বাংলাদেশের শিল্পের কোন দিকটি উপস্থাপন করে? ব্যাখ্যা কর। ৩

ঘ. বাংলাদেশের মতো উন্নয়নশীল দেশের অগ্রগতিতে আনিসের গড়ে তোলা শিল্পের গুরুত্ব কতটুকু বলে তুমি মনে কর? মতামত দাও। ৪

৮। চরমণি এলাকার অধিকাংশ লোক কৃষক। কৃষিকাজই তাদের জীবিকা অর্জনের প্রধান উপায়। কিন্তু এখানকার বেশিরভাগ পরিবার দারিদ্র্যসীমার নিচে বসবাস করেছে। কারণ জানতে চাইলে তারা বলেন, সারাবছর কঠোর পরিশ্রম করে চাষাবাদ করলেও বছর শেষে তারা আশানুরূপ ফসল উৎপাদনে ব্যর্থ হচ্ছেন। হালের বলদ, মই; তাদের চাষের উপকরণ হিসেবে ব্যবহৃত হয়। তাছাড়া ফসলি জমিতে কীটনাশক ব্যবহারের কোনো সুযোগ না থাকায় তারা পর্যাপ্ত ফসল উৎপাদনে ব্যর্থ হচ্ছেন।

ক. কৃষি কী? ১

খ. সনাতন পদ্ধতিতে চাষাবাদ বলতে কী বোঝায়? ২

গ. চরমণি এলাকার কৃষকেরা কোন পদ্ধতিতে চাষাবাদ করলে পর্যাপ্ত ফসল উৎপাদন করতে সক্ষম হবে? ব্যাখ্যা কর। ৩

ঘ. বাংলাদেশের অর্থনীতির চাকা সচল করতে সকল কৃষকের এই পদ্ধতিতে চাষাবাদ করা আবশ্যিক—তুমি কি বক্তব্যটি সমর্থন কর? যুক্তি দাও। ৪

৯। বিশ্ব ঐতিহ্য হিসেবে স্বীকৃতিপ্রাপ্ত সুন্দরবনের পাশ ঘেঁষে বয়ে যাওয়া পশুর নদীর তীরে বসবাস করেছে বেশ-কয়েকটি পরিবার। এসব পরিবারের জীবিকার মাধ্যম হচ্ছে বন থেকে কাঠ কেটে বাজারে বিক্রি করা এবং বনের নানা উপকরণ ব্যবহার করে রাবার, গাম-মোম-মধু-তৈরি করা। এসব কাজ করে তারা যেমন নিজেদের জীবিকার সংস্থান করছে, তেমনি দেশের অর্থনৈতিক উন্নয়নেও ভূমিকা রাখছে।

ক. বাংলাদেশে আধুনিক শিল্পনীতি ঘোষণা করা হয় কত সালে? ১

খ. বাংলাদেশের অর্থনীতি কীভাবে গড়ে উঠেছে? ২

গ. উদ্দীপকে ইঙ্গিতকৃত উপখাতটি দেশের অর্থনীতিতে কী ধরনের ভূমিকা রাখছে? ব্যাখ্যা কর। ৩

ঘ. উদ্দীপকটি বাংলাদেশের অর্থনীতির কৃষিখাতকে পরিপূর্ণভাবে উপস্থাপন করে না— মন্তব্যটি বিশ্লেষণ কর। ৪

১০। এলাকার উচ্চ শিক্ষিত মানুষ হিসেবে জনাব সামছুল হুদা বরাবরই ছিলেন সবার কাছে সম্মান ও শ্রদ্ধার পাত্র। তিনি সারাজীবন মানুষের মধ্যে জ্ঞান বিলিয়েছেন। শিক্ষিত হিসেবে তার কর্তব্য পালনে তিনি কখনো পিছপা হননি। নিজের ছেলেকে তিনি বাংলাদেশের সর্বোচ্চ বিদ্যাপীঠে ভর্তি করিয়েছেন। সবার ধারণা ছিল শিক্ষক বাবার সন্তান হিসেবে রহিমও একজন শিক্ষক হবে। কিন্তু পড়াশোনা শেষ করে রহিম নিজ এলাকায় ক্ষুদ্র শিল্প গড়ে তুলে নিজেকে প্রতিষ্ঠিত করেছে।

ক. কোন পরিকল্পনা বাস্তবায়নের মাধ্যমে একটি সমৃদ্ধ সোনার বাংলা গড়ার উদ্যোগ নেওয়া হয়েছে? ১

খ. কৃষি উন্নয়নের জন্য শিল্পায়ন জরুরি কেন? ২

গ. জনাব সামছুল হুদার পেশাটি অর্থনীতির কোন খাতের অন্তর্ভুক্ত? ব্যাখ্যা কর। ৩

ঘ. উদ্দীপকের রহিম বাংলাদেশের বেকারত্ব দূরীকরণে ও জীবনযাত্রার মান উন্নয়নে ভূমিকা রাখবে— তুমি কি বক্তব্যটি সমর্থন কর? যুক্তিসহ উপস্থাপন কর। ৪

১১। জমির একজন কৃষক। মাদ্রাতা আমলের চাষ পদ্ধতি ছেড়ে বর্তমানে তিনি উচ্চ ফলনশীল ধান চাষ করেন, গভীর নলকূপের মাধ্যমে জমিতে সেচ দেন। উৎপাদিত কৃষিপণ্য, পাটের বস্তায় করে বাজারে সরবরাহ করেন। এভাবে তিনি এলাকাসীমার চাহিদা পূরণ করে জাতীয় অর্থনীতিতে ভূমিকা রাখছেন।

ক. আমাদের দেশের ক্ষুদ্রশিল্পের ভিত্তি কী? ১

খ. শিল্পনীতি ২০১০ ঘোষণা করা হয়েছে কেন? ২

গ. উদ্দীপকে অর্থনীতির কী ধরনের সম্পর্ক ফুটে উঠেছে? ব্যাখ্যা কর। ৩

ঘ. তুমি কি মনে কর, দেশের অর্থনৈতিক উন্নয়নে উদ্দীপকে  
ইঙ্গিতকৃত দুটি বিষয়ের উন্নয়নের ওপরই গুরুত্ব দেওয়া উচিত?  
মতামতের পক্ষে যুক্তি দাও। ৪

[সরকারি ইকবালনগর মাধ্যমিক বিদ্যালয়, খুলনা]

● ২ খ ৩ গ ৫ ঘ ৭

৯. নিচের কোনটি ক্ষুদ্রশিল্প? [সরকারি ইকবালনগর মাধ্যমিক বিদ্যালয়, খুলনা]  
ক রেশম খ কাঠ গ কাগজ ● সাবান

১০. বাংলাদেশের শিল্পখাত কয়টি শিল্পখাত নিয়ে গঠিত?  
[খুলনা কলেজিয়েট গার্লস স্কুল এন্ড কলেজ]

● চার খ পাঁচ গ ছয় ঘ সাত

১১. হনুফা তার ছেলেমেয়ে নিয়ে ঘরে বসে বাঁশ ও বেতের ঝুড়ি তৈরি করে  
বাজারে বিক্রি করে। হনুফার এ কাজটি কোন শিল্পের অন্তর্গত?  
[স. বো. '১৫]

ক বৃহৎ শিল্প ● কুটির শিল্প

গ ক্ষুদ্রায়তন শিল্প ঘ মাঝারি শিল্প

১২. জনসংখ্যার দিক দিয়ে বাংলাদেশের অবস্থান পৃথিবীতে কত?  
[ভিকারননিসা নূন স্কুল এন্ড কলেজ, ঢাকা; যশোর জিলা স্কুল]

● নবম খ দশম গ একাদশ ঘ চতুর্থ

১৩. এদেশের মোট শ্রমশক্তির কত লক্ষ লোক বেকার?  
[খুলনা কলেজিয়েট গার্লস স্কুল এন্ড কলেজ]

● ২৫ খ ৩৫ গ ৪০ ঘ ৪৫

১৪. ২০১২-১৩ অর্থবছরে মোট দেশজ উৎপাদনে সার্বিক কৃষিখাতের অবদান  
কত শতাংশ ছিল? [পুলিশ লাইস মাধ্যমিক বিদ্যালয়, যশোর]

● ১৩ খ ১৯ গ ২০ ঘ ২১

### বহুপদী সমাপ্তিসূচক বহুনির্বাচনি প্রশ্নোত্তর

### সাধারণ বহুনির্বাচনি প্রশ্নোত্তর

১. কর্মসংস্থানের দিক দিয়ে কোন খাতটি বাংলাদেশের সবচাইতে বড় খাত?  
[স. বো. '১৬]

ক শিল্পখাত ● কৃষিখাত গ বাণিজ্যখাত ঘ সেবাখাত

২. বাংলাদেশে জনসংখ্যা বৃদ্ধির হার কত? [স. বো. '১৬]

● ১.৩৭% খ ১.৩৪% গ ১.৮৩% ঘ ১.৮৯%

৩. কোনটি মাঝারি শিল্প? [স. বো. '১৬]

ক বস্ত্র খ চিনি ● চামড়া ঘ সার

৪. রেশম শিল্প কোন ধরনের শিল্প? [স. বো. '১৫]

ক বৃহদায়তন খ মাঝারি শিল্প গ ক্ষুদ্রায়তন ● কুটির শিল্প

৫. বাংলাদেশের মোট শ্রম শক্তির কতভাগ শিল্পখাতে নিয়োজিত? [স. বো. '১৫]

ক ১৭.৬৪ শতাংশ ● ২৪.৩ শতাংশ

গ ৩৪.৩ শতাংশ ঘ ৪৪.৩ শতাংশ

৬. মৎস্য সম্পদকে প্রধানত কয়ভাবে ভাগ করা যায়?  
[সরকারি ইকবালনগর মাধ্যমিক বিদ্যালয়, খুলনা]

● ২ খ ৩ গ ৪ ঘ ৫

৭. বাংলাদেশে বর্তমানে কতটি উচ্চ আছে? [ঢাকা রেসিডেন্সিয়াল মডেল কলেজ]

ক ৭ ● ৮ গ ৯ ঘ ১০

৮. বাংলাদেশে কয়টি সমুদ্রবন্দর রয়েছে?

১৫. চূনাপাথর ব্যবহৃত হয়- [স. বো. '১৬]

র. স্যানিটারি দ্রব্য তৈরিতে

রর. ব্লিচিং পাউডার উৎপাদনে

ররর. কাগজ উৎপাদনে

নিচের কোনটি সঠিক?

ক র ও রর ● রর ও ররর গ র ও ররর ঘ র, রর ও রর

১৬. কৃষিখাতের অন্তর্ভুক্ত কোনটি? [স. বো. '১৬]

র. মৎস্য চাষ

রর. মৌমাছি চাষ

ররর. বনায়ন

নিচের কোনটি সঠিক?

ক র ও রর খ রর ও ররর গ র ও ররর ● র, রর ও ররর

১৭. বাংলাদেশের অর্থনীতির বৈশিষ্ট্য- [স. বো. '১৫]

র. কৃষিখাতের প্রাধান্য

রর. ব্যাপক বেকারত্ব

ররর. বৈদেশিক বাণিজ্যের ঘাটতি

নিচের কোনটি সঠিক?

ক র ও রর      খ র ও ররর      গ রর ও ররর      ● র, রর ও ররর

১৮. বাংলাদেশের অর্থনীতির বৈশিষ্ট্য— [ভিকারননিসা নুন স্কুল এন্ড কলেজ, ঢাকা]  
র. বৈদেশিক সাহায্যনির্ভর

রর. কৃষিপ্রধান

ররর. শিল্পপ্রধান

নিচের কোনটি সঠিক?

● র ও রর      খ র ও ররর      গ রর ও ররর      ঘ র, রর ও ররর

১৯. কৃষি ও বনজ খাতের উপখাত হলো — [সরকারি ইকবালনগর মাধ্যমিক বিদ্যালয়, খুলনা]  
র. শাকসবজি

রর. প্রাণি সম্পদ

ররর. মৎস্য সম্পদ

নিচের কোনটি সঠিক?

ক র ও রর      খ র ও ররর      গ রর ও ররর      ● র, রর ও ররর

২০. শিল্পনীতি ২০১০ ঘোষণা করার উদ্দেশ্য— [ঘশোর জিলা স্কুল]  
র. নারীকে শিল্পায়ন প্রক্রিয়ায় অন্তর্ভুক্ত করা

রর. দারিদ্র্য দূরীকরণ

ররর. কৃষির আধুনিকীকরণ

নিচের কোনটি সঠিক?

● র ও রর      খ র ও ররর      গ রর ও ররর      ঘ র, রর ও ররর

### অভিন্ন তথ্যভিত্তিক বহুনির্বাচনি প্রশ্নোত্তর

নিচের অনুচ্ছেদটি পড়ে ২১ ও ২২ নং প্রশ্নের উত্তর দাও :

দরিদ্র কৃষক নুরুল করিম স্বল্প জমিতে চাষাবাদ করে পরিবারের প্রয়োজন মেটাতে সক্ষম হচ্ছেন না। তাই তিনি মৎস্য চাষের সিদ্ধান্ত নেন। তিনি ব্যাংক থেকে ঋণ নিয়ে মৎস্য চাষ শুরু করেন। [ঘশোর জিলা স্কুল]

২১. জনাব করিমের দ্বিতীয় কাজটি কোন খাতের অন্তর্ভুক্ত?

● কৃষি      খ সেবা      গ শিল্প      ঘ নির্মাণ

২২. জিডিপিতে এ খাতটি অবদান বৃদ্ধি পাচ্ছে—

র. আধুনিক প্রযুক্তি ব্যবহারের ফলে

রর. শিল্পায়নের বিকাশের ফলে

ররর. নগরায়ণের ফলে

নিচের কোনটি সঠিক?

● র ও রর      খ র ও ররর      গ রর ও ররর      ঘ র, রর ও ররর

### বিষয়ক্রম অনুযায়ী বহুনির্বাচনি প্রশ্নোত্তর

৮.১ : বাংলাদেশের অর্থনীতির বৈশিষ্ট্য

- ২০১২-১৩ অর্থবছরে মোট দেশজ উৎপাদনে কৃষিখাতের অবদান—১৩ শতাংশ।
- দেশের মোট শ্রমশক্তিকে— ৪৭.৫ শতাংশ কৃষিতে নিয়োজিত।
- মাথাপিছু জাতীয় আয়— ১১৯০ ডলারে।
- জনসংখ্যার ঘনত্ব প্রতিবর্গকিলোমিটারে— ১০১৫ জন।
- স্বাধীনতার সুবর্ণ জয়ন্তীকে সামনে রেখে প্রণীত হয়— রূপকল্প ২০২১।
- এদেশের প্রধান খনিজ সম্পদ হলো— প্রাকৃতিক গ্যাস।
- প্রাকৃতিক গ্যাস দেশের মোট জ্বালানির— ৭৫ ভাগ পূরণ করে।

### সাধারণ বহুনির্বাচনি প্রশ্নোত্তর

২৩. কাদের বৈষম্যমূলক শাসননীতির ফলে ব্রিটিশরা চলে যাওয়ার পরও এদের অর্থনীতির কাজিকত উন্নয়ন ঘটেনি? (অনুধাবন)  
ক ভারতীয়দের      খ ফরাসিদের  
গ চীনাগদের      ● পশ্চিম-পাকিস্তানিগদের
২৪. স্বাধীনতার লাভের পর কত দশক উন্নয়নের ফলে কিছুটা অর্থনৈতিক অগ্রগতি হয়েছে? (অনুধাবন)  
ক দুই      খ তিন      ● চার      ঘ পাঁচ
২৫. দেশের শ্রমশক্তির কত শতাংশ কৃষিতে নিয়োজিত? (জ্ঞান)  
● ৪৭.৫      খ ৪৭.৮      গ ৪৮.৫      ঘ ৪৯.৫
২৬. বাংলাদেশে শিল্পায়নের গতি কেমন? (জ্ঞান)  
● ধীর      খ দ্রুত      গ মোটামুটি      ঘ খুবই দ্রুত
২৭. বাংলাদেশে শিল্পায়নের গতি বাড়তে কোনটি ঘোষণা করা প্রয়োজন? (জ্ঞান)  
ক আধুনিক শিল্পনীতি      খ মুক্ত কর অবকাশ  
গ বেসরকারি বিনিয়োগ      ঘ সরকারি বিনিয়োগ
২৮. শিল্পায়নের গতিকে বাড়তে কত সালে শিল্পনীতি ঘোষণা করা হয়েছে? (জ্ঞান)  
ক ২০০১      ● ২০১০      গ ২০১১      ঘ ২০১২
২৯. ২০১৩-১৪ অর্থবছরে ম্যানুফ্যাকচারিং শিল্পখাতের অবদান কত? (জ্ঞান)  
● ২০      খ ৩০      গ ৩২      ঘ ৩৪
৩০. মোট শ্রমশক্তির কত শতাংশ শিল্পখাতে নিয়োজিত? (জ্ঞান)  
● ১৭.৬৪      খ ২০.৩      গ ২৪.৩      ঘ ৩৪.৩
৩১. আমাদের দেশের মানুষের সঞ্চয় কম কেন? (অনুধাবন)  
● মাথাপিছু আয় কম, তাই      খ জনসংখ্যা অধিক, তাই  
গ অধিকাংশ মানুষ অলস, তাই      ঘ দ্রব্যমূল্য অধিক, তাই
৩২. বর্তমানে বাংলাদেশের মানুষের মাথাপিছু জাতীয় আয় কত মার্কিন ডলার? (জ্ঞান)  
● ১৩১৪      খ ১২০০      গ ১২৫০      ঘ ১৩০০
৩৩. আমাদের মাথাপিছু জিডিপি কত মার্কিন ডলার? (জ্ঞান)  
● ১২৩৫      খ ১১৫০      গ ১১৯০      ঘ ১২১৫

৩৪. সময়ের সাপেক্ষে আমাদের মাথাপিছু আয় কেমন হচ্ছে? (অনুধাবন)  
ক কমছে ● বাড়ছে  
গ অপরিবর্তিত থাকছে ঘ দ্রুত বাড়ছে
৩৫. আমাদের দেশের অধিকাংশ মানুষ দারিদ্র্যসীমার নিচে বসবাস করে কেন? (অনুধাবন)  
● আয় স্বল্প হওয়ার কারণে ✕ দারিদ্র্য প্রধান সমস্যা হওয়ার কারণে  
গ জনসংখ্যা অধিক হওয়ার কারণে ঘ নিরক্ষরতার কারণে
৩৬. আমাদের দেশের কত ভাগ লোক দারিদ্র্যসীমার নিচে বাস করে? (জ্ঞান)  
● ৩১.৫০ ✕ ৩০.৫০ গ ৩২.৫০ ঘ ৩১.৯০
৩৭. বাংলাদেশের কত ভাগ লোক সুপেয় পানি পায়? (জ্ঞান)  
ক ৪৩ ✕ ৫২ ● ৮৭.৫৫ ঘ ৯০.৮
৩৮. বাংলাদেশের মানুষের প্রত্যাশিত গড় আয়ুষ্কাল কত বছর? (জ্ঞান)  
ক ৬৭.২ ● ৬৯ গ ৬৭.৫ ঘ ৭০.২
৩৯. বাংলাদেশে সাক্ষরতার হার কত শতাংশ? (জ্ঞান)  
● ৫৭.৯ ✕ ৬০.৯ গ ৬১.৯ ঘ ৬৭.৯
৪০. বাংলাদেশ একটি কৃষিপ্রধান দেশ। এদেশের জনগণের আয় ও সঞ্চয় তুলনামূলকভাবে অত্যন্ত কম। এর কারণ কী? (অনুধাবন)  
● দরিদ্র দেশ ✕ কৃষিভিত্তিক শিল্প  
গ জনবহুল দেশ ঘ কৃষির ওপর নির্ভরশীলতা
৪১. ২০১৩-১৪ অর্থবছরে দেশে মোট বিনিয়োগ ছিল জিডিপির কত শতাংশ? (জ্ঞান)  
ক ২৮.২১ ✕ ২৯.২১ ● ২৮.৯৭ ঘ ২৯.৯৯
৪২. রতন একজন ধনী কৃষক। গত কয়েক বছর ধরে তার জমিতে আধুনিক চাষাবাদ পদ্ধতি ব্যবহার করায় অধিক ফসল উৎপাদিত হয়, এটি কী প্রমাণ করে? (উচ্চতর দক্ষতা)  
● বাংলাদেশে প্রযুক্তির ব্যবহার বৃদ্ধি পাচ্ছে  
✕ বাংলাদেশে কৃষিক্ষেত্রে অভাবনীয় সাফল্য অর্জন করে  
গ বাংলাদেশের কৃষকদের ভাগ্য পরিবর্তন হচ্ছে  
ঘ বাংলাদেশে দ্রুত শিল্পায়ন ঘটছে
৪৩. যদিও কৃষিজমির পরিমাণ কমছে তবুও বর্তমানে কৃষির উৎপাদিত পরিমাণ বেশি। এটি কী প্রমাণ করছে? (অনুধাবন)  
ক বেশি মানুষ কৃষিতে নিয়োজিত হচ্ছে  
✕ অধিক সার ব্যবহার করা হচ্ছে  
● আধুনিক বৈজ্ঞানিক পদ্ধতির প্রয়োগ বৃদ্ধি পাচ্ছে
৪৪. ২০১১ সালের হিসাব অনুযায়ী বাংলাদেশের মোট জনসংখ্যা কত জন? (জ্ঞান)  
● ১৪ কোটি ৯৭ লাখ ৭২ হাজার ✕ ১৫ কোটি ১৩ লক্ষ  
গ ১৪ কোটি ৫০ লক্ষ ঘ ১৬ কোটি
৪৫. ২০১১-১২ সালের হিসাব অনুযায়ী বাংলাদেশে জনসংখ্যার ঘনত্ব প্রতি বর্গকিলোমিটারে কত জন? (জ্ঞান)  
ক ৯৫৪ ● ১০১৫ গ ৯৭৪ ঘ ৮৬৪
৪৬. ২০১১-১২ সালের হিসাব অনুযায়ী বাংলাদেশে জনসংখ্যা বৃদ্ধির হার কত? (জ্ঞান)  
● ১.৩৭% ✕ ১.৪৮% গ ২.১১% ঘ ৩.৯৯%

৪৭. ২০০১ সালে বাংলাদেশে জনসংখ্যা বৃদ্ধির হার কত ছিল? (জ্ঞান)  
ক ১.৩৭% ● ১.৪৮% গ ১.৩৪% ঘ ২.৩৪%
৪৮. শিবলি ঢাকায় একটি রেস্টুরেন্ট খুলতে চায়। কিন্তু তার কাছে পুঁজি নেই। সে ঋণের জন্য ব্যাংকের দ্বারস্থ হলেও পায় না কেন? (উচ্চতর দক্ষতা)  
ক কৃষিনির্ভর শিল্প তাই ✕ উদ্যোক্তাদের অনভিজ্ঞতার কারণে  
● জনগণের আয় ও সঞ্চয় কম বলে ঘ জনগণের ব্যয় বেশি বলে
৪৯. বর্তমান বাংলাদেশে প্রয়োজনীয় মূলধনের অভাবে কৃষি ও শিল্পখাতে কর্মসংস্থানের সুযোগ কম। এর ফলাফল কী হতে পারে? (উচ্চতর দক্ষতা)  
ক বাণিজ্য ঘাটতি দেখা দিতে পারে  
● ব্যাপক বেকারত্ব সৃষ্টি হতে  
গ দেশে অস্থিতিশীলতা দেখা দিতে পারে  
ঘ বৈদেশিক সাহায্যের পরিমাণ কমে যেতে পারে
৫০. বাংলাদেশের রপ্তানি প্রক্রিয়াকরণ এলাকাকে সংক্ষেপে ইংরেজিতে কী বলা হয়? (জ্ঞান)  
● উচত ✕ উচগ গ উচজ ঘ উউজ
৫১. উচত-এর পূর্ণরূপ কী? (জ্ঞান)  
● উট্টাডুৎ চৎড়পবংরহম তড়হব  
✕ উট্টাডুৎ চৎড়ভরৎ তড়হব  
গ উট্টাডুৎ চৎড়ফঁপরহমু ডহব  
ঘ উট্টাডুৎ চৎড়ফঁপরবু ডহব
৫২. ২০১৩-১৪ অর্থবছরে খনিজ সম্পদের সমন্বিত খাতের অবদান কত শতাংশ হয়েছে? (জ্ঞান)  
ক ১.২০ ✕ ১.৫০ ● ১.৬৩ ঘ ১.৮০
৫৩. প্রাকৃতিক গ্যাস দেশের মোট জ্বালানি ব্যবহারের শতকরা কতভাগ পূরণ করে? (জ্ঞান)  
ক ৯০ ✕ ৮৫ গ ৮০ ● ৭৫
৫৪. বাংলাদেশে বর্তমানে কতটি গ্যাসক্ষেত্র থেকে গ্যাস উত্তোলিত হচ্ছে? (জ্ঞান)  
ক ১৭ ● ১৯ গ ২৩ ঘ ২৫
৫৫. বাংলাদেশের কতটি গ্যাসকূপ থেকে গ্যাস উত্তোলিত হচ্ছে? (জ্ঞান)  
● ৮৩ ✕ ৮৯ গ ৭৬ ঘ ৭২
৫৬. উৎপাদিত গ্যাস কোন ক্ষেত্রে সর্বাধিক ব্যবহৃত হয়? (জ্ঞান)  
ক তাপ উৎপাদনে ● বিদ্যুৎ  
গ পরিবহন ঘ কাগজ শিল্পে
৫৭. ঝচগ-এর পূর্ণরূপ কী? (জ্ঞান)  
ক ঝরষবহঃ চড়রহঃ গড়ড়ফ  
● ঝরহমষব চড়রহঃ গড়ড়ফরহম  
গ ঝরসঢ়ষব চড়বিৎ গড়্ভরহম ঘ ঝরষবহঃ চড়রহঃ গড়ড়ফ
৫৮. বাংলাদেশে মোট কতটি কয়লা ক্ষেত্র আছে? (জ্ঞান)  
ক ৪ ● ৫ গ ৬ ঘ ৭
৫৯. বাংলাদেশে মজুদকৃত কয়লার পরিমাণ কত? (জ্ঞান)  
● ২৭০০ মিলিয়ন টন ✕ ২৮০০ মিলিয়ন টন  
গ ৩০০০ মিলিয়ন টন ঘ ৩৭০০ মিলিয়ন টন

৬০. উল্লিখিত কয়লার কতভাগ বড় পুকুরিয়া তাপ বিদ্যুৎ কেন্দ্রে ব্যবহৃত হয়? (জ্ঞান)  
ক ৭৫ খ ৮৫ ● ৬৫ ঘ ৫৫
৬১. বাংলাদেশের প্রতি বছর কী ধরনের দ্রব্য আমদানি বাবদ প্রচুর অর্থ ব্যয় করে থাকে? (অনুধাবন)  
● ভোগ্যপণ্য ও মূলধনী খ কৃষিকাজ  
গ নিত্যপ্রয়োজনীয় ঘ রাসায়নিক
৬২. অর্থনৈতিক অবকাঠামো কোনটি? (জ্ঞান)  
ক স্কুল খ হাসপাতাল  
গ ক্লাব ● রেল ও নৌপথে
৬৩. সরকার কত কিলোমিটার দীর্ঘ এলিভেটেড এক্সপ্রেস নির্মাণের উদ্যোগ নিয়েছে? (জ্ঞান)  
● ২৬ খ ৩০ গ ৩৫ ঘ ৪৬
৬৪. ১৯৯৩ থেকে ২০১২ সাল পর্যন্ত কতটি প্রতিষ্ঠানকে বেসরকারিকরণ করা হয়েছে? (জ্ঞান)  
ক ৭০ খ ৭১ গ ৭৫ ● ৭৭
৬৫. কতটি প্রতিষ্ঠান সরাসরি বিক্রির মাধ্যমে বেসরকারিকরণ করা হয়েছে? (জ্ঞান)  
ক ৫৫ ● ৫৬ গ ৭৫ ঘ ৭৬
৬৬. কতটি প্রতিষ্ঠান শেয়ার বিক্রির মাধ্যমে বেসরকারিকরণ করা হয়েছে? (জ্ঞান)  
ক ২০ ● ২১ গ ৫৫ ঘ ৭৭
৬৭. সরকারের কত সালের রূপকল্পের আলোকে 'বাংলাদেশ প্রেক্ষিত পরিকল্পনা' রূপরেখার দলিল প্রণয়ন করেছে? (জ্ঞান)  
ক ২০১৫ খ ২০১৮ ● ২০২১ ঘ ২০২৩

### বহুপদী সমাপ্তিসূচক বহুনির্বাচনি প্রশ্নোত্তর

৬৮. বাংলাদেশে উন্নত দেশের তুলনায় মাথাপিছু আয় কম হওয়ার কারণ— (অনুধাবন)  
র. কর্মসংস্থানের সুযোগ না থাকা  
রর. শ্রমিকদের কাজে অনীহা বা অলসতা  
ররর. অধিক জনসংখ্যা  
নিচের কোনটি সঠিক?  
ক র ও রর ● র ও ররর গ রর ও ররর ঘ র, রর ও ররর
৬৯. এদেশে বেকার সমস্যা অদূর ভবিষ্যতে দূরীভূত হবে বলে আশা করা যায়, কারণ— (উচ্চতর দক্ষতা)  
র. মানুষের কর্মসংস্থান সৃষ্টিতে বিনিয়োগ বৃদ্ধি পাচ্ছে  
রর. জনসংখ্যা বৃদ্ধি নিয়ন্ত্রণ করা সম্ভব হয়েছে  
ররর. সরকার সহযোগিতাগুলো নীতি গ্রহণ করেছে  
নিচের কোনটি সঠিক?  
ক র ও রর ● র ও ররর গ রর ও ররর ঘ র, রর ও ররর
৭০. মানবসম্পদ উন্নয়নে সরকার বিভিন্ন কার্যক্রম গ্রহণ করেছে। এসব কার্যক্রমের মাধ্যমে সরকার— (উচ্চতর দক্ষতা)  
র. নারীকে আত্মনির্ভরশীল করেছে

রর. শিশু শ্রম বন্ধ করছে

ররর. মানুষের দক্ষতার উন্নয়ন ঘটাবে

নিচের কোনটি সঠিক?

ক র ও রর ● র ও ররর গ রর ও ররর ঘ র, রর ও ররর

৭১. মানব সম্পদ উন্নয়নে গুরুত্বপূর্ণ ভূমিকা পালন করে— (অনুধাবন)  
র. শিক্ষা

রর. প্রশিক্ষণ

ররর. নৈতিকতা

নিচের কোনটি সঠিক?

● র ও রর খ র ও ররর গ রর ও ররর ঘ র, রর ও ররর

৭২. জাতীয় শিক্ষানীতি ২০১০ প্রণয়নের ফলে— (উচ্চতর দক্ষতা)  
র. শিক্ষার গুণগতমান বৃদ্ধি পেয়েছে

রর. মানবসম্পদ সৃষ্টির সম্ভাবনা সৃষ্টি হয়েছে

ররর. শিক্ষা শেষে চাকরির নিশ্চয়তা সৃষ্টি হয়েছে

নিচের কোনটি সঠিক?

● র ও রর খ র ও ররর গ রর ও ররর ঘ র, রর ও ররর

৭৩. দেশের অর্থনৈতিক উন্নয়নের জন্য প্রয়োজন— (উচ্চতর দক্ষতা)  
র. সম্পদের সুশ্রম বণ্টন নিশ্চিত করা

রর. সরকারি ও বেসরকারি কাজের সমন্বয় সাধন

ররর. শিক্ষার মান উন্নত করা

নিচের কোনটি সঠিক?

ক র ও রর খ র ও ররর গ রর ও ররর ● র, রর ও ররর

৭৪. রূপকল্প ২০২১-এর উদ্দেশ্য হলো— (অনুধাবন)  
র. দারিদ্র্য বিমোচন

রর. আঞ্চলিক বৈষম্য দূরীকরণ

ররর. রাষ্ট্রীয় সংহতি বিধান

নিচের কোনটি সঠিক?

● র ও রর খ র ও ররর গ রর ও ররর ঘ র, রর ও ররর

৭৫. বর্তমানে বিনিয়োগ বৃদ্ধির জন্য সরকার ঘোষণা করেছে? (উচ্চতর দক্ষতা)  
র. লোভনীয় পুরস্কার

রর. সহযোগিতামূলক নীতি

ররর. উদ্দীপনামূলক আশ্বাস

নিচের কোনটি সঠিক?



	ক র ও রর	খ র ও ররর	● রর ও ররর	ঘ র, রর ও ররর
৭৬.	এদেশের সম্বল কম বলে— (অনুধাবন)			
	র. বিনিয়োগ বৃদ্ধি পাচ্ছে না			
	রর. পুঁজি গঠন সম্ভব হচ্ছে না			
	ররর. কৃষি উন্নয়ন সম্ভব হচ্ছে না			
	নিচের কোনটি সঠিক?			
	● র ও রর	খ র ও ররর	গ রর ও ররর	ঘ র, রর ও ররর
৭৭.	একটি দেশের পরনির্ভরতা কমাতে সহায়ক হলো— (উচ্চতর দক্ষতা)			
	র. কৃষির আধুনিকীকরণ			
	রর. শিল্পের বিকাশ			
	ররর. জনসংখ্যা বৃদ্ধি			
	নিচের কোনটি সঠিক?			
	● র ও রর	খ র ও ররর	গ রর ও ররর	ঘ র, রর ও ররর
৭৮.	বাংলাদেশে দ্রুত অর্থনৈতিক উন্নয়নের পূর্বশর্ত হলো— (উচ্চতর দক্ষতা)			
	র. আমদানি			
	রর. শিল্পের উন্নয়ন			
	ররর. প্রাকৃতিক সম্পদের সঠিক ব্যবহার			
	নিচের কোনটি সঠিক?			
	ক র	খ রর	গ ররর	● রর ও ররর
৭৯.	আধুনিক পদ্ধতির কৃষির বিকাশ সম্ভব— (অনুধাবন)			
	র. কৃষি সম্পর্কিত তথ্যের প্রচার করে			
	রর. খাল বা নদী খনন করে			
	ররর. শিল্পের উন্নয়ন করে			
	নিচের কোনটি সঠিক?			
	ক র ও রর	● র ও ররর	গ রর ও ররর	ঘ র, রর ও ররর
৮০.	কৃষির অগ্রগতির সাথে প্রত্যক্ষভাবে জড়িত— (অনুধাবন)			
	র. জীবনযাত্রার মান উন্নয়ন			
	রর. দারিদ্র্যবিমোচন			
	ররর. দক্ষ সংগঠন সৃষ্টি			
	নিচের কোনটি সঠিক?			
	● র ও রর	খ র ও ররর	গ রর ও ররর	ঘ র, রর ও ররর
৮১.	ঔপনিবেশিক আমলে বাংলাদেশে উল্লেখযোগ্য অর্থনৈতিক উন্নয়ন না হওয়ার কারণ— (উচ্চতর দক্ষতা)			
	র. বাজার ব্যবস্থায় অনিয়ম			
	রর. শাসকদের বৈষম্যমূলক শাসননীতি			

	ররর. পর্যাপ্ত কাঁচামালের অভাব			
	নিচের কোনটি সঠিক?			
	● র ও রর	খ র ও ররর	গ রর ও ররর	ঘ র, রর ও ররর
৮২.	বর্তমান বাংলাদেশে শিল্পের প্রসার লক্ষ করা যাচ্ছে। এক্ষেত্রে ভূমিকা রাখছে— (প্রয়োগ)			
	র. আধুনিক প্রযুক্তি			
	রর. বেসরকারি বিনিয়োগ			
	ররর. সরকারি পৃষ্ঠপোষকতা			
	নিচের কোনটি সঠিক?			
	ক র ও রর	খ র ও ররর	গ রর ও ররর	● র, রর ও ররর
৮৩.	বাংলাদেশের অর্থনীতির বৈশিষ্ট্য— (অনুধাবন)			
	র. বৈদেশিক সাহায্যনির্ভর			
	রর. কৃষিপ্রধান			
	ররর. শিল্প প্রধান			
	নিচের কোনটি সঠিক?			
	● র ও রর	খ র ও ররর	গ রর ও ররর	ঘ র, রর ও ররর
৮৪.	ঔপনিবেশিক শাসন শোষণের ফলে বাংলাদেশের অর্থনৈতিক কাঠামো দুর্বল হয়ে গেছে। এখানে যাদের শাসনের কথা বলা হয়েছে— (উচ্চতর দক্ষতা)			
	র. ব্রিটিশ শাসকগোষ্ঠী			
	রর. মোগল শাসকগোষ্ঠী			
	ররর. পাকিস্তানি শাসকগোষ্ঠী			
	নিচের কোনটি সঠিক?			
	ক র ও রর	● র ও ররর	গ রর ও ররর	ঘ র, রর ও ররর
৮৫.	সার্বিক শিল্প খাতের দ্রুত বিকাশের ফলে— (অনুধাবন)			
	র. জাতীয় আয় ও মাথাপিছু আয় বৃদ্ধি পাবে			
	রর. জীবনযাত্রার মান উন্নত হবে			
	ররর. বাণিজ্য ঘাটতি দূর হবে			
	নিচের কোনটি সঠিক?			
	ক র ও রর	খ র ও ররর	গ রর ও ররর	● র, রর ও ররর
৮৬.	বাংলাদেশে কৃষি উৎপাদন অনেক কম হওয়ার কারণ— (অনুধাবন)			
	র. অনুন্নত চাষ পদ্ধতি			
	রর. উন্নত কৃষি উপকরণের অভাব			
	ররর. প্রাকৃতিক দুর্যোগ			
	নিচের কোনটি সঠিক?			
	ক র ও রর	খ র ও ররর	গ রর ও ররর	● র, রর ও ররর

৮৭. বাংলাদেশে আধুনিক শিল্পনীতি গ্রহণ করা প্রয়োজন— (অনুধাবন)  
 র. শিল্পায়নের গতি বাড়ানোর জন্য

রর. নারীর কর্মসংস্থান বৃদ্ধির জন্য

ররর. শ্রমজীবী মানুষের ভাগ্য উন্নয়নের জন্য

নিচের কোনটি সঠিক?

● র ও রর      ✕ র ও ররর      গ রর ও ররর      ঘ র, রর ও ররর

৮৮. ২০১০ সালে বাংলাদেশ সরকার জাতীয় শিল্পনীতি ঘোষণা করেছে ফলে— (উচ্চতর দক্ষতা)  
 র. বেসরকারি বিনিয়োগ বৃদ্ধি পায়

রর. নারীর কর্মসংস্থান বৃদ্ধি পায়

ররর. আমদানি ব্যয় কমে যাচ্ছে

নিচের কোনটি সঠিক?

● র ও রর      ✕ র ও ররর      গ রর ও ররর      ঘ র, রর ও ররর

### অভিন্ন তথ্যভিত্তিক বহুনির্বাচনি প্রশ্নোত্তর

নিচের অনুচ্ছেদটি পড়ে ৮৯ ও ৯০ নং প্রশ্নের উত্তর দাও :

প্রায় ২০০ বছরের ব্রিটিশ শাসনের অবহেলায় এদেশে তেমন কোনো উল্লেখযোগ্য শিল্প গড়ে ওঠেনি। ব্রিটিশরা এ অঞ্চলকে কাঁচামাল উৎপাদনকারী এবং শিল্পপণ্যের বাজাররূপে ব্যবহার করত। প্রায় চব্বিশ বছরের পাকিস্তানি আমলেও শাসকদের বৈষম্যমূলক শাসননীতির ফলে এখানে শিল্পের কাজিফত উন্নয়ন ঘটেনি।

৮৯. অনুচ্ছেদে কী প্রকাশ পেয়েছে? (প্রয়োগ)  
 ক বাংলাদেশের পরাধীনতার কথা

✕ বাংলাদেশের শিল্প বিকাশের বর্ণনা

● বাংলাদেশে শিল্প বিকাশ না হওয়ার কারণ

ঘ বাংলাদেশে শিল্প বিকাশের প্রয়োজনীয়তা

৯০. অনুচ্ছেদের তথ্য অনুযায়ী ব্রিটিশরা এদেশকে ব্যবহার করত— (উচ্চতর দক্ষতা)  
 র. উন্নয়নের হাতিয়ার হিসেবে

রর. উপনিবেশ হিসেবে

ররর. কাঁচামাল উৎপাদন ক্ষেত্র ও শিল্পপণ্যের বাজার হিসেবে

নিচের কোনটি সঠিক?

ক র      ● ররর      গ র ও রর      ঘ র, রর ও ররর

→ ৮.২ : বাংলাদেশের অর্থনীতির প্রধান খাতসমূহ

- বাংলাদেশের অর্থনীতির প্রধান খাত— ৩টি।
- কৃষি খাতের উপখাত— ৩টি।
- শিল্পখাতের উপখাত— ৩টি।
- ডিসেম্বর ২০১২ পর্যন্ত এদেশে উচ্চ-এর সংখ্যা— ৮টি।
- বাংলাদেশে সমুদ্র বন্দর— ২টি।
- সার্বিক সেবা খাতের সর্বোচ্চ অবদান—পরিবহন, সংরক্ষণ ও সেবা খাত হতে আসে।

### সাধারণ বহুনির্বাচনি প্রশ্নোত্তর

৯১. বাংলাদেশের অর্থনীতির প্রধান খাত কয়টি? (জ্ঞান)  
 ক দু      ● তিন      গ চার      ঘ পাঁচ

৯২. বাংলাদেশের কৃষকেরা নানা ধরনের শস্য উৎপাদন করে থাকে। এসব কিসের অন্তর্ভুক্ত? (প্রয়োগ)

● কৃষি      ✕ শিল্প

গ সেবা      ঘ প্রাকৃতিক সম্পদ

৯৩. মৎস্য সম্পদ কোন খাতের অন্তর্গত? (জ্ঞান)

● কৃষি      ✕ শিল্প      গ প্রাণিসম্পদ      ঘ ব্যবসা

৯৪. পশুসম্পদ অর্থনীতির কোন খাতের অন্তর্ভুক্ত? (অনুধাবন)

● কৃষি      ✕ শিল্প      গ সেবা      ঘ সামাজিক সেবা

৯৫. মাংস, দুধ, ডিম, চামড়া কোন খাতের অন্তর্ভুক্ত? (অনুধাবন)

ক খাদ্য শিল্প      ● প্রাণিসম্পদ

গ পুষ্টি      ঘ সেবা

৯৬. আমাদের মোট ভূখন্ডের কতভাগ বনাঞ্চল? (জ্ঞান)

ক ১৫      ● ১৭      গ ২৮      ঘ ৩০

৯৭. বাংলাদেশের প্রাকৃতিক ভারসাম্য রক্ষায় কোন সম্পদের পরিমাণ যথাযথ হওয়া উচিত? (উচ্চতর দক্ষতা)

ক প্রাণিজ      ● বনজ      গ কৃষিজ      ঘ শিল্প

৯৮. একটা দেশের মোট ভূখন্ডের কতভাগ বনাঞ্চল থাকা দরকার? (জ্ঞান)

ক ১৭      ✕ ২০      ● ২৫      ঘ ৩০

৯৯. ২০১৩-১৪ অর্থবছরে মৎস্য সম্পদের অবদান কত ছিল? (জ্ঞান)

● ৩.৬৮ ভাগ      ✕ ৩.৭২ ভাগ      গ ৩.৮০ ভাগ      ঘ ৩.৯০ ভাগ

১০০. ২০১৩ সালের মধ্যে খাদ্যে স্বয়ংসম্পূর্ণতা অর্জনের জন্য সরকার কোন খাতে সবচেয়ে বেশি গুরুত্ব দিয়েছে? (উচ্চতর দক্ষতা)

ক শিল্প      ✕ সেবা      ● কৃষি      ঘ মৎস্য

১০১. ২০১২-১৩ সালে মৎস্য সম্পদে জিডিপি কত ছিল? (জ্ঞান)

ক ৪৪.৯      ● ৬.১৮      গ ৪৫.৯      ঘ ৪.৪১

১০২. ২০১৩-১৪ অর্থবছরে জিডিপিতে মৎস্য সম্পদের প্রবৃদ্ধির হার কত শতাংশ? (জ্ঞান)

ক ৫.৩২      ✕ ৫.৯৬      ● ৬.৩৬      ঘ ৭.১২

১০৩. বাংলাদেশের মোট জাতীয় আয়ে কোনটির অবদান সর্বাধিক? (উচ্চতর দক্ষতা)

● কৃষি      ✕ শিল্প



গ ৪.৫০ লক্ষ	ঘ ৫.৫০ লক্ষ		
১৩৩. উচ্চ অঞ্চল থেকে এ পর্যন্ত কত মিলিয়ন মার্কিন ডলার মূল্যের উৎপাদিত পণ্য বিদেশে রপ্তানি করা হয়েছে? (জ্ঞান)			
● ৪,২১০	খ ৫,২১০	গ ৬,২১০	ঘ ৭,২১০
১৩৪. বাংলাদেশের বেকার সমস্যা দূরীকরণে নিচের কোনটি সবচেয়ে বেশি উপযোগী? (উচ্চতর দক্ষতা)			
● শিল্পক্ষেত্র	খ কৃষিক্ষেত্র		
গ ব্যবসায়ক্ষেত্র	ঘ চাকরিক্ষেত্র		
১৩৫. বাংলাদেশের শিল্পোন্নয়নের জন্য কী করা প্রয়োজন? (উচ্চতর দক্ষতা)			
ক কুটিরশিল্পের উন্নয়ন	খ মূলধনভিত্তিক শিল্প স্থাপন		
গ উচ্চ ফলনশীল বীজের ব্যবহার	● সুষ্ঠু শিল্পনীতি প্রণয়ন ও বাস্তবায়ন		
১৩৬. বাংলাদেশের আধুনিক শিল্পনীতির উদ্দেশ্য কী? (অনুধাবন)			
● কর্মসংস্থান বৃদ্ধি করা	খ বিনিয়োগ বৃদ্ধি করা		
গ রপ্তানি বৃদ্ধি করা	ঘ এউচ-র হার বৃদ্ধি করা		
১৩৭. বেকার সমস্যা সমাধানে কোন উদ্যোগটি গ্রহণ করা গুরুত্বপূর্ণ বলে তুমি মনে কর? (উচ্চতর দক্ষতা)			
● স্বকর্মসংস্থান সৃষ্টি	খ দ্রুত শিল্পায়ন		
গ উন্নত কৃষি উদ্ভাবন	ঘ বিদেশে শ্রমশক্তি রপ্তানি		
১৩৮. বাংলাদেশের শ্রেণীপটে কোন ধরনের শিল্প স্থাপনে গুরুত্ব দিতে হবে? (অনুধাবন)			
ক কুটির	● ক্ষুদ্র		
গ রপ্তানিমুখী	ঘ বৃহৎ		
১৩৯. বস্ত্রশিল্পে প্রথমে তুলা ব্যবহার করে সুতা তৈরি করা হয়। আর সেই সুতা দিয়ে কাপড় এবং সবশেষে পোশাক তৈরি করা হয়। এখানে সুতা কেমন পণ্য? (উচ্চতর দক্ষতা)			
● মাধ্যমিক	খ প্রাথমিক	গ চূড়ান্ত	ঘ স্বাভাবিক
১৪০. কত সালকে সামনে রেখে 'উন্নয়ন রূপকল্প' প্রণয়ন করা হয়েছে? (জ্ঞান)			
ক ২০১৫	খ ২০১৭	গ ২০২০	● ২০২১
১৪১. 'উন্নয়ন রূপকল্পে'— শিল্পখাতের অবদান কত শতাংশ হবে বলে প্রত্যাশা করা হয়েছে? (জ্ঞান)			
ক ৩৫%	● ৪০%	গ ৪৫%	ঘ ৫০%
১৪২. 'উন্নয়ন রূপকল্প' অনুযায়ী কর্মসংস্থানে শিল্পের অবদান কত শতাংশ হবে বলে নির্ধারণ করা হয়েছে? (জ্ঞান)			
● ২৫%	খ ২৭%	গ ৩০%	ঘ ৪০%
১৪৩. কোন শিল্পে প্রাকৃতিক গ্যাস কাঁচামাল হিসেবে ব্যবহৃত হয়? (জ্ঞান)			
● রাসায়নিক সার	খ সিমেন্ট		
গ প্লাস্টিক	ঘ ফার্নেস তেল		
১৪৪. ব্লিচিং পাউডার তৈরিতে কোনটি ব্যবহৃত হয়? (জ্ঞান)			
ক চিনামাটি	● চুনাপাথর		
গ গন্ধক	ঘ সিলিকা বালু		
১৪৫. তেল পরিশোধনে নিচের কোনটি ব্যবহৃত হয়? (জ্ঞান)			
ক চুনাপাথর	খ সিলিকা বালু		
● গন্ধক	ঘ চিনামাটি		

১৪৬. বাংলাদেশে দ্রুত শিল্পায়নের ক্ষেত্রে বড় বাধা হলো— (উচ্চতর দক্ষতা)			
● মূলধনের স্বল্পতা	খ দক্ষতার অভাব		
গ বেকার সমস্যা	ঘ কম উৎপাদন		
১৪৭. যে খাতের মাধ্যমে অবস্ফুট দ্রব্য উৎপাদিত হয় তাকে কী বলে? (জ্ঞান)			
ক শিল্পখাত	● সেবাখাত	গ স্বপ্নখাত	ঘ বিদ্যুৎখাত
১৪৮. বাংলাদেশের অর্থনৈতিক উন্নয়নে বিভিন্ন ধরনের ব্যাংক গুরুত্বপূর্ণ ভূমিকা পালন করছে। বাংলাদেশের অর্থনীতির কোন খাত হিসেবে এদের অবদান অন্তর্ভুক্ত হবে? (প্রয়োগ)			
● সেবা	খ শিল্প	গ কৃষি	ঘ নির্মাণ
১৪৯. বাংলাদেশের অর্থনীতির কোন খাতটি একক বৃহত্তম খাত হিসেবে পরিগণিত? (অনুধাবন)			
● সেবাখাত	খ কৃষি	গ শিল্প	ঘ নির্মাণ
১৫০. ২০১২-১৩ অর্থবছরে জিডিপিতে সার্বিক সেবাখাতের অবদান কত? (জ্ঞান)			
● ৫৪%	খ ৫৬%	গ ৭৫%	ঘ ৮০%
১৫১. সেবাখাতের অন্তর্ভুক্ত কোনটি জিডিপিতে সবচেয়ে বেশি অবদান রাখছে? (উচ্চতর দক্ষতা)			
ক সামাজিক সেবা	● পাইকারি ও খুচরা বিপণন		
গ আর্থিক প্রতিষ্ঠান	ঘ শিক্ষা প্রতিষ্ঠান		
১৫২. বর্তমানে বাংলাদেশে জাতীয় মহাসড়ক রয়েছে কত কিলোমিটার? (জ্ঞান)			
ক ৩৫৫০	● ৩৫৭০	গ ৩৪৯৩	ঘ ৩৪৯৮
১৫৩. বাংলাদেশের মোট রেলপথের দৈর্ঘ্য কত? (জ্ঞান)			
● ২৮৭০ কিলোমিটার	খ ২৪৩৫ কিলোমিটার		
গ ২২৩৫ কিলোমিটার	ঘ ২৮৫৩ কিলোমিটার		
১৫৪. বাংলাদেশে ব্রডগেজ রেলপথের দৈর্ঘ্য কত? (জ্ঞান)			
● ৬৫৯ কিলোমিটার	খ ৫৮০ কিলোমিটার		
গ ৪৮০ কিলোমিটার	ঘ ৩০০ কিলোমিটার		
১৫৫. বাংলাদেশে ডুয়েল গেজ রেলপথের দৈর্ঘ্য কত? (জ্ঞান)			
ক ২০০ কিলোমিটার	খ ৩০০ কিলোমিটার		
● ৩৭৫ কিলোমিটার	ঘ ৪০০ কিলোমিটার		
১৫৬. বাংলাদেশে মিটারগেজ রেলপথের দৈর্ঘ্য কত? (জ্ঞান)			
ক ১,০০০ কিলোমিটার	খ ১,২০০ কিলোমিটার		
গ ১,৫৮০ কিলোমিটার	● ১,৮৪৩ কিলোমিটার		
১৫৭. বাংলাদেশের প্রধান সামুদ্রিক বন্দর কোনটি? (জ্ঞান)			
● চট্টগ্রাম	খ চাঁদপুর	গ ঢাকা	ঘ মংলা
১৫৮. চট্টগ্রাম বন্দরের মাধ্যমে আমাদের দেশের আমদানি রপ্তানি বাণিজ্যের কতভাগ পরিচালিত হয়? (জ্ঞান)			
ক ৯৩	খ ৯৪	● ৯৭	ঘ ৯৮
১৫৯. অভ্যন্তরীণ নৌপরিবহন করপোরেশন কতটি জলযান দ্বারা ফেরী সার্ভিস অব্যাহত রেখেছে? (জ্ঞান)			
ক ১৫০	● ১৮৮	গ ১৯০	ঘ ২০০
১৬০. বর্তমানে বাংলাদেশে কতটি আন্তর্জাতিক বিমানবন্দর চালু আছে? (জ্ঞান)			
● ৩	খ ৪	গ ৫	ঘ ৬
১৬১. বর্তমানে বাংলাদেশে কতটি অভ্যন্তরীণ বিমান বন্দর আছে? (জ্ঞান)			

● ৭	খ ৩	গ ৮	ঘ ৪	
১৬২. বাংলাদেশে কয়টি ব্যবহার উপযোগী স্টল পোস্ট রয়েছে? (জ্ঞান)	● ২	খ ৪	গ ৫	ঘ ৬
১৬৩. বাণিজ্য-এর পূর্ণরূপ কী? (জ্ঞান) ক. বণ্টনপত্র এধশব উভভ-খধহফরহম	● বায়ুতঃ এধশব উভভ-খধহফরহম	গ. বারসাত্মব এধশব উভভ-খধহফরহম	ঘ. বায়ুতঃ এধশববৎ উভভ-খধহফরহম	
১৬৪. বিটিসিএল কোম্পানি লিমিটেড কোন ক্ষেত্রে কাজ করছে? (অনুধাবন)	● যোগাযোগের মান উন্নয়নে	খ. জনগণের স্বাস্থ্যসেবা নিশ্চিত করতে	গ. যাতায়াত ও পরিবহন ব্যবস্থার উন্নয়নে	ঘ. শিক্ষাব্যবস্থার উন্নয়নের জন্য
১৬৫. বিটিআরসি কত সালে প্রতিষ্ঠিত হয়? (জ্ঞান)	ক. ২০০০	● ২০০২	গ. ২০০৩	ঘ. ২০০৪
১৬৬. মার্চ ২০১১ পর্যন্ত বিটিআরসির গ্রাহক সংখ্যা কত কোটি অতিক্রম করেছে? (জ্ঞান)	● ৫.৪৭	খ. ৫.৬০	গ. ৬.৪৭	ঘ. ৬.৮০
১৬৭. বাংলাদেশে কতটি ডাকঘর আছে? (জ্ঞান)	● ৯,৮৮৬	খ. ৯,৮৮৮	গ. ৯,৯৮৬	ঘ. ৯,৯৯৬
১৬৮. ২০১২-১৩ অর্থবছরে ডাকসেবা খাতে প্রবৃদ্ধির হার কত শতাংশ ধরা হয়েছে? (অনুধাবন)	ক. ৬.৬৭	খ. ৭.৫০	গ. ৮.৫০	● ৯.৬৭
১৬৯. একটি শিল্প বাংলাদেশের নারীর কর্মসংস্থানে গুরুত্বপূর্ণ ভূমিকা পালন করছে। এটি কোন শিল্প? (উচ্চতর দক্ষতা)	ক. বৃহৎ	● পোশাক	গ. সার	ঘ. পাট
১৭০. বাংলাদেশে বেকারত্ব বৃদ্ধির কারণ কী? (অনুধাবন)	ক. কৃষি উন্নতি	খ. বিদেশি শোষণ	গ. বিদেশি বিনিয়োগের অভাব	● দক্ষ উদ্যোক্তার অভাব
১৭১. কিসের বিনিময়ে শিল্পপ্রতিষ্ঠান জনগণের নিকট সেবাপ্রেরণ করে? (অনুধাবন)	ক. কর্মের	● অর্থের	গ. শিক্ষার	ঘ. সামর্থ্যের
১৭২. নির্মাণখাতে প্রবৃদ্ধি হার বৃদ্ধির কারণ কী? (অনুধাবন)	ক. জনগণের কর্মসংস্থান বৃদ্ধি	● অবকাঠামোগত খাতে বিনিয়োগ বৃদ্ধি	গ. কৃষিতে প্রযুক্তির ব্যবহার	ঘ. শিল্পায়নে প্রযুক্তির ব্যবহার
১৭৩. আবুল খায়ের কোম্পানির একটি অঙ্গ প্রতিষ্ঠান হিসেবে শাহ সিমেন্ট কারখানাটি কাজ করছে। এটি কোন ধরনের শিল্প? (প্রয়োগ)	● বৃহৎ	খ. মাঝারি	গ. ক্ষুদ্র	ঘ. কুটির
১৭৪. নিচের কোনটি মাঝারি শিল্পের অন্তর্ভুক্ত? (জ্ঞান)	ক. চিনি	● তৈরি পোশাক		

গ. কাগজ	ঘ. সার			
১৭৫. এদেশে খাদ্য ঘাটতি ও পুষ্টিহীনতার প্রধান কারণ কী? (অনুধাবন)	● অধিক জনসংখ্যা	খ. নিরক্ষরতা		
গ. দারিদ্র্য	ঘ. কৃষির গতানুগতিকতা			
১৭৬. সরকার কত সালের রূপকল্পের আলোকে 'বাংলাদেশ শ্রেষ্ঠিত পরিকল্পনা' রূপরেখার দলিল প্রণয়ন করেছে? (জ্ঞান)	ক. ২০১৫	খ. ২০১৮	● ২০২১	ঘ. ২০২৩

### বহুপদী সমাঙ্গিসূচক বহুনির্বাচনি প্রশ্নোত্তর

১৭৭. বাংলাদেশের অর্থনীতির ভিত্তি গড়ে উঠেছে— (অনুধাবন)	র. কৃষিক্ষেত্রের অবদান দ্বারা	রর. মানুষের শ্রম ও সেবা দ্বারা	ররর. শিল্পের অবদান দ্বারা	নিচের কোনটি সঠিক?
● র ও রর	খ র ও ররর	গ রর ও ররর	ঘ র, রর ও ররর	
১৭৮. মিজান মিয়া একজন কৃষক। তিনি দৈনন্দিন জীবনে যে ধরনের কাজের সাথে সম্পৃক্ত রয়েছেন— (প্রয়োগ)	র. পণ্য বাজারজাতকরণ	রর. শস্য কর্তন	ররর. শস্য বাজার নিয়ন্ত্রণ	নিচের কোনটি সঠিক?
● র ও রর	খ র ও ররর	গ রর ও ররর	ঘ র, রর ও ররর	
১৭৯. বাংলাদেশে প্রাণি সম্পদ উৎপন্ন বা চাষ করা হচ্ছে— (উচ্চতর দক্ষতা)	র. পারিবারিকভাবে	রর. বাণিজ্যিকভাবে	ররর. সরকারি উদ্যোগে	নিচের কোনটি সঠিক?
● র ও রর	খ র ও ররর	গ রর ও ররর	ঘ র, রর ও ররর	
১৮০. বাংলাদেশের কৃষিখাতের প্রধান রপ্তানি দ্রব্য হলো— (উচ্চতর দক্ষতা)	র. চাল ও চিনি	রর. হিমায়িত খাদ্যদ্রব্য	ররর. পাটজাত দ্রব্য	নিচের কোনটি সঠিক?
ক. র ও রর	খ. র ও ররর	● রর ও ররর	ঘ. র, রর ও ররর	

১৮১. কৃষিখাতের উন্নয়নের জন্য গ্রহণ করা জরুরি— (অনুধাবন)  
র. কৃষি প্রযুক্তির উদ্ভাবন

রর. সহজ শর্তে ঋণ দান

ররর. কৃষকদের প্রশিক্ষণ প্রদান

নিচের কোনটি সঠিক?

● র ও রর      খ র ও ররর      গ রর ও ররর      ঘ র, রর ও ররর

১৮২. কৃষি গুরুত্বপূর্ণ ভূমিকা পালন করছে— (অনুধাবন)  
র. শিল্পের কাঁচামাল সরবরাহ করে

রর. প্রাণিজ আমিষের চাহিদা পূরণ করে

ররর. মানুষের জীবন-জীবিকার নিশ্চয়তা প্রদান করে

নিচের কোনটি সঠিক?

ক র ও রর      খ র ও ররর      গ রর ও ররর      ● র, রর ও ররর

১৮৩. বাংলাদেশের শিল্পখাত গড়ে উঠেছে— (অনুধাবন)  
র. বনজ সম্পদ নিয়ে

রর. খনিজ ও খনন কাজ নিয়ে

ররর. নির্মাণ খাত নিয়ে

নিচের কোনটি সঠিক?

ক র ও রর      ● র ও ররর      গ রর ও ররর      ঘ র, রর ও ররর

১৮৪. বাংলাদেশের অর্থনীতিতে কৃষি গুরুত্বপূর্ণ বলে বিবেচিত হয়— (অনুধাবন)  
র. জাতীয় আয়ে সর্বাধিক অবদান রাখার জন্য

রর. শিল্পের কাঁচামাল হিসেবে ব্যবহৃত হওয়ার জন্য

ররর. মানুষের জীবনযাত্রার মানে প্রভাব ফেলার জন্য

নিচের কোনটি সঠিক?

ক র ও রর      খ র ও ররর      গ রর ও ররর      ● র, রর ও ররর

১৮৫. রপ্তানি প্রক্রিয়াকরণ কর্তৃপক্ষের উচ্চ এলাকা চিহ্নিত করার উদ্দেশ্য— (উচ্চতর দক্ষতা)  
র. দেশের আর্থ সামাজিক উন্নয়ন

রর. শিল্পখাতের দ্রুত বিকাশ

ররর. কৃষির ওপর নির্ভরতা কমানো

নিচের কোনটি সঠিক?

● র ও রর      খ র ও ররর      গ রর ও ররর      ঘ র, রর ও ররর

১৮৬. বাংলাদেশের সার্বিক সেবাখাত ভূমিকা পালন করছে— (উচ্চতর দক্ষতা)  
র. মানবসম্পদ উন্নয়নে

রর. উপকরণের গতিশীলতা আনয়নে

ররর. আত্মকর্মসংস্থান সৃষ্টিতে

নিচের কোনটি সঠিক?

ক র ও রর      খ র ও ররর      গ রর ও ররর      ● র, রর ও ররর

১৮৭. এ দেশের কৃষিভিত্তিক উল্লেখযোগ্য শিল্প হলো— (অনুধাবন)  
র. পাটশিল্প

রর. চামড়াশিল্প

ররর. কাগজশিল্প

নিচের কোনটি সঠিক?

ক র ও রর      খ র ও ররর      গ রর ও ররর      ঘ র, রর ও ররর

### অভিন্ন তথ্যভিত্তিক বহুনির্বাচনি প্রশ্নোত্তর

নিচের অনুচ্ছেদটি পড়ে ১৮৮ ও ১৮৯ নং প্রশ্নের উত্তর দাও :

‘ক’ দেশের সরকার তাদের অর্থনৈতিক উন্নয়ন তথা ঠরংরডহ ২০০০ গ্রহণ করেছে। দেশটির সরকার এ পরিকল্পনা বাস্তবায়নের মাধ্যমে সাফল্য অর্জন করেছে।

১৮৮. অনুচ্ছেদের পরিকল্পনাটি কিসের ইঙ্গিত দিচ্ছে? (প্রয়োগ)

● রূপকল্প-২০২১-এর      খ শিল্পনীতি-২০১০-এর

গ শিক্ষানীতি-২০১০-এর      ঘ নারীনীতি-২০০৬-এর

১৮৯. এ পরিকল্পনা বাংলাদেশকে সাহায্য করছে— (উচ্চতর দক্ষতা)

র. উন্নয়নের পথে এগিয়ে যেতে

রর. সর্বক্ষেত্রে প্রযুক্তির ব্যবহারের মাধ্যমে অধিক সাফল্য অর্জন করতে

ররর. নারীর অধিকার প্রতিষ্ঠা করতে

নিচের কোনটি সঠিক?

● র ও রর      খ র ও ররর      গ রর ও ররর      ঘ র, রর ও ররর

নিচের অনুচ্ছেদটি পড়ে ১৯০ ও ১৯১ নং প্রশ্নের উত্তর দাও :

এম.এ পাস করে চাকরি না পেয়ে জুবায়ের তার বন্ধুকে সাথে নিয়ে নিজ এলাকায় একটি দিয়াশলাই কারখানা গড়ে তোলে। তাদের কারখানায় এলাকার বেশ কয়েকজন বেকার যুবকের কর্মসংস্থান হয়েছে।

১৯০. জুবায়েরের কাজটি অর্থনীতির কোন শিল্পের অন্তর্ভুক্ত? (প্রয়োগ)

● ক্ষুদ্র      খ কুটির      গ বৃহৎ      ঘ মাঝারি

১৯১. জুবায়েরের কাজটি অর্থনীতিতে গুরুত্বপূর্ণ ভূমিকা পালন করে, কারণ এটি— (উচ্চতর দক্ষতা)

র. বেকার সমস্যা সমাধান ভূমিকা রাখছে

রর. ভোগ্যপণ্য উৎপাদন করছে

ররর. সামাজিক মর্যাদা প্রতিষ্ঠা করছে

নিচের কোনটি সঠিক?

● র ও রর      খ র ও ররর      গ রর ও ররর      ঘ র, রর ও ররর

নিচের অনুচ্ছেদটি পড়ে ১৯২ ও ১৯৩ নং প্রশ্নের উত্তর দাও :

জনাব আনিসুর রহমান বিটিসিএল কোম্পানির একজন উর্ধ্বতন কর্মকর্তা। তিনি দেশের সার্বিক যোগাযোগ ব্যবস্থাকে উন্নত করতে সাধ্যানুযায়ী বিভিন্ন ধরনের কার্যক্রম গ্রহণ ও বাস্তবায়ন করে যাচ্ছেন।

১৯২. জনাব আনিসের কর্মক্ষেত্রটি অর্থনীতির কোন খাতের অন্তর্ভুক্ত? (প্রয়োগ)  
 ● সেবা      ✕ শিল্প      গ কৃষি      ঘ নির্মাণ

১৯৩. জনাব আনিসের কাজটি ছাড়াও এ খাতের কাজের ক্ষেত্র হলো— (উচ্চতর দক্ষতা)  
 র. পরিবহন

রর. ব্যাংকিং

ররর. শিল্প

নিচের কোনটি সঠিক?

● র ও রর      ✕ র ও ররর      গ রর ও ররর      ঘ র, রর ও ররর

### ➔ চ.৩ : বিভিন্ন খাতের আপেক্ষিক গুরুত্ব

- আমাদের দেশে মোট দেশজ উৎপাদন (এউচ)-১৫টি খাত নিয়ে গঠিত।
- বর্তমানে মুক্তবাজারে অর্থনীতি, বিশ্বায়নের চ্যালেঞ্জ মোকাবেলা করতে— শিল্পায়িত অর্থনীতি গড়ে তোলা প্রয়োজন।
- রূপকল্প ২০২১ বাস্তবায়নের মাধ্যমে— সমৃদ্ধশালী সোনার বাংলা গড়ে তোলা সম্ভব।
- শিল্পায়নের মাধ্যমেই— কৃষির আধুনিকায়ন সম্ভব।
- কৃষি ও শিল্পখাতের উন্নয়নের পাশাপাশি রয়েছে— সার্বিক সেবা খাত।
- দেশের সার্বিক উন্নয়নের জন্য— শিল্পায়িত অর্থনীতি গড়ে তোলা প্রয়োজন।
- গত তিন দশক হতে কৃষি খাতের অবদান— ক্রমান্বয়ে হ্রাস পেয়েছে।

### সাধারণ বহুনির্বাচনি প্রশ্নোত্তর

১৯৪. আমাদের দেশের মোট দেশজ উৎপাদন কতটি খাত নিয়ে গঠিত? (জ্ঞান)  
 ক ১০      ✕ ১২      ● ১৫      ঘ ২০

১৯৫. কোনটি বাংলাদেশের অর্থনৈতিক প্রবৃদ্ধির চালিকাশক্তি? (জ্ঞান)  
 ক শিল্প      ● কৃষি      গ নির্মাণশিল্প      ঘ সেবাখাত

১৯৬. বাংলাদেশের অর্থনৈতিক কার্যক্রম কোনটিকে কেন্দ্র করে গড়ে উঠেছে? (জ্ঞান)  
 ● কৃষি      ✕ শিল্প      গ ব্যাংক      ঘ নির্মাণখাত

১৯৭. বাংলাদেশের অর্থনৈতিক মূল উন্নয়নের মূল চাবিকাঠি হিসেবে কৃষি উন্নয়নকে অগ্রাধিকার দেওয়ার কারণ কী? (উচ্চতর দক্ষতা)  
 ● দেশের অর্থনৈতিক কার্যক্রম কৃষিকে কেন্দ্র করে গড়ে ওঠায়

✕ এদেশের অধিকাংশ মানুষ কৃষক তাই

গ কৃষিজ পণ্যের বিদেশি ক্রেতা রয়েছে তাই

ঘ কৃষিজ পণ্য উৎপাদনে এদেশটি বেশি অনুকূল তাই

১৯৮. বাংলাদেশের কৃষি কিসের ওপর নির্ভরশীল? (উচ্চতর দক্ষতা)  
 ● প্রকৃতির      ✕ শিল্পের

গ দক্ষ শ্রমিকের      ঘ প্রযুক্তির

১৯৯. বাংলাদেশের অর্থনীতি স্থিতিশীল অবস্থা প্রকাশ করে না। এর কারণ কী? (উচ্চতর দক্ষতা)  
 ● কৃষি প্রকৃতির ওপর নির্ভরশীল      ✕ অদক্ষ শ্রমিক

গ মূলধনের অর্থাগুতা      ঘ সনাতন চাষপদ্ধতির ব্যবহার

২০০. বাংলাদেশের অর্থনীতি স্থিতিশীল অবস্থা প্রকাশ করে না। এর প্রমাণ— (উচ্চতর দক্ষতা)  
 ● শিল্পায়ন ধীরগতির      ✕ দক্ষ শ্রমিকের অভাব

গ নগরায়ন ধীরগতির      ঘ চাষাবাদ পদ্ধতি পুরোনো

২০১. বাংলাদেশের কৃষিক্ষেত্রে উৎপাদন অনিশ্চিত থাকার কারণ কী? (উচ্চতর দক্ষতা)  
 ● প্রাকৃতিক দুর্যোগ      ✕ সময়মতো চাষের উদ্যোগ না নেয়া

গ কৃষকদের অলসতা      ঘ মূলধনের সীমাবদ্ধতা

২০২. শিল্পখাতে উৎপাদন বৃদ্ধির কারণ কী? (অনুধাবন)  
 ক শিল্পনীতি ঘোষণা      ● রূপকল্প বাস্তবায়ন

গ অবকাঠামোখাতে বিনিয়োগ বৃদ্ধি      ঘ নগরায়নের ধারা অব্যাহত থাকা

২০৩. রূপকল্প-পরিকল্পনা বাস্তবায়নের সময়কাল কত ধরা হয়েছে? (জ্ঞান)  
 ● ২০২১      ✕ ২০৩০      গ ২০৪১      ঘ ২০৫১

২০৪. একটি সমৃদ্ধশালী বাংলাদেশ গড়ে তোলা সম্ভব কীভাবে? (জ্ঞান)  
 ক শিল্পনীতি ২০১০ বাস্তবায়নের মাধ্যমে

● রূপকল্প-২০২১ বাস্তবায়নের মাধ্যমে

গ শিল্পনীতি-২০১০ বাস্তবায়নের মাধ্যমে

ঘ জনসংখ্যা-নীতি-২০১১

২০৫. 'রূপকল্প-২০২১' এর মাধ্যমে কোন ধরনের বাংলাদেশ গড়ে তোলার চেষ্টা করা হচ্ছে? (উচ্চতর দক্ষতা)

ক শিল্পসমৃদ্ধ      ● একটি সমৃদ্ধ সোনার বাংলা

গ প্রযুক্তিসমৃদ্ধ      ঘ কৃষিসমৃদ্ধ

২০৬. গত তিন দশকে জিডিপিতে কোন খাতের অবদান ক্রমান্বয়ে হ্রাস পেয়েছে? (জ্ঞান)

● কৃষি      ✕ শিল্প      গ সেবা      ঘ নির্মাণ

২০৭. বাংলাদেশের জিডিপিতে গত তিন দশকে কোন খাতের অবদান বৃদ্ধি পেয়েছে? (জ্ঞান)

● শিল্প      ✕ কৃষি      গ সেবা      ঘ উৎপাদন

২০৮. গত তিন দশকে জিডিপিতে কোন খাতের অবদান একই রয়ে গেছে? (জ্ঞান)  
 ক কৃষি      ✕ শিল্প      ● সেবা      ঘ নির্মাণ

### বহুপদী সমাপ্তিসূচক বহুনির্বাচনি প্রশ্নোত্তর

২০৯. বাংলাদেশে শিল্পোন্নয়ন হলে কৃষিক্ষেত্রে— (অনুধাবন)  
 র. কৃষির জমি কমবে

রর. কৃষি উপকরণ কমবে

ররর. প্রচেষ্টা বেকারত্ব কমবে

নিচের কোনটি সঠিক?

ক র                      খ রর                      ● ররর                      ঘ র, রর ও ররর

২১০. কৃষির উন্নয়ন সাধনের জন্য দেশে কলকারখানা স্থাপন করা প্রয়োজন— (অনুধাবন)  
র. কৃষির ফলন বৃদ্ধির জন্য

রর. দ্রুততার সাথে কৃষিকাজ করার জন্য

ররর. কৃষিজাত দ্রব্য প্রক্রিয়াজাত করার জন্য

নিচের কোনটি সঠিক?

ক র                      খ রর                      ● ররর                      ঘ র, রর ও ররর

২১১. শিল্পোন্নয়নকে ত্বরান্বিত করে— (অনুধাবন)  
র. দক্ষ শ্রমিক

রর. প্রাকৃতিক পরিবেশ

ররর. পরিবহন ও যোগাযোগ ব্যবস্থা

নিচের কোনটি সঠিক?

ক র                      খ রর                      ● ররর                      ঘ র, রর ও ররর

২১২. বাংলাদেশের শিল্প উৎপাদন কম ও নিম্নমান হওয়ার জন্য দায়ী— (উচ্চতর দক্ষতা)  
র. পুঁজির অভাব

রর. নিম্নমানের কলাকৌশল

ররর. নিম্নমানের কাঁচামাল

নিচের কোনটি সঠিক?

ক র ও রর                      খ র ও ররর                      ● রর ও ররর                      ঘ র, রর ও ররর

২১৩. কৃষির উন্নয়ন অত্যন্ত জরুরি কারণ এর সাথে জড়িয়ে রয়েছে— (উচ্চতর দক্ষতা)  
র. দারিদ্র্য বিমোচনের অগ্রগতি

রর. সামাজিক উন্নয়ন প্রক্রিয়া

ররর. শিল্প উন্নয়নের সম্ভাবনা

নিচের কোনটি সঠিক?

● র ও রর                      খ র ও ররর                      গ রর ও ররর                      ঘ র, রর ও ররর

২১৪. বাংলাদেশে শিল্পায়িত অর্থনীতি গড়ে তোলা প্রয়োজন— (উচ্চতর দক্ষতা)  
র. মুক্ত বাজার অর্থনীতির সাথে তাল মিলাতে

রর. বিশ্বায়নের চ্যালেঞ্জ মোকাবিলায়

ররর. দারিদ্র্য দূরীকরণের জন্য

নিচের কোনটি সঠিক?

ক র ও রর                      ● র ও ররর                      গ রর ও ররর                      ঘ র, রর ও ররর

২১৫. বাংলাদেশে শিল্পায়ন প্রক্রিয়ার বিকাশ জরুরি। কারণ এর মাধ্যমে— (অনুধাবন)  
র. কৃষির আধুনিকীকরণ সম্ভব

রর. প্রাকৃতিক সম্পদের সঠিক ব্যবহার সম্ভব

ররর. বৈদেশিক সাহায্যের পরিমাণ বাড়ানো সম্ভব

নিচের কোনটি সঠিক?

● র ও রর                      খ র ও ররর                      গ রর ও ররর                      ঘ র, রর ও ররর

২১৬. একটি সমৃদ্ধশালী সোনার বাংলা গড়ে তোলা সম্ভব— (অনুধাবন)  
র. তথ্যপ্রযুক্তির ব্যবহার বৃদ্ধি করে

রর. মানবসম্পদের উন্নয়ন করে

ররর. বৈদেশিক বাণিজ্য বৃদ্ধি করে

নিচের কোনটি সঠিক?

● র ও রর                      খ র ও ররর                      গ রর ও ররর                      ঘ র, রর ও ররর

২১৭. কৃষিখাতের উন্নতির ওপরই অর্থনৈতিক উন্নয়ন বহুলাংশে নির্ভরশীল। কারণ— (উচ্চতর দক্ষতা)  
র. কৃষি খাদ্যের যোগান দেয়

রর. কৃষি জীবনযাত্রার মান উন্নয়ন করে

ররর. অর্থনৈতিক ভারসাম্য সৃষ্টি করে

নিচের কোনটি সঠিক?

● র ও রর                      খ র ও ররর                      গ রর ও ররর                      ঘ র, রর ও ররর

২১৮. বাংলাদেশকে একটি সমৃদ্ধ সোনার বাংলা হিসেবে গড়ে তোলা সম্ভব, যদি— (উচ্চতর দক্ষতা)  
র. মানবসম্পদের সর্বোচ্চ ব্যবহার করা যায়

রর. প্রযুক্তি ব্যবহার বৃদ্ধি পায়

ররর. দেশের মানুষের চাহিদা কমানো যায়

নিচের কোনটি সঠিক?

● র ও রর                      খ র ও ররর                      গ রর ও ররর                      ঘ র, রর ও ররর

### অভিন্ন তথ্যভিত্তিক বহুনির্বাচনি প্রশ্নোত্তর

নিচের অনুচ্ছেদটি পড়ে ২১৯ ও ২২০ নং প্রশ্নের উত্তর দাও :

রতন মিয়া একজন কৃষক। কিন্তু পুরাতন চাষপদ্ধতি ব্যবহার করার ফলে সে ভালো উৎপাদন পাচ্ছে না। এজন্য যে স্থানীয় একটি ঘএঙ থেকে খণ নিয়ে ট্র্যাক্টর ও ধান মাড়াই যন্ত্র কিনে নতুনভাবে কৃষিকাজ শুরু করে।

২১৯. অনুচ্ছেদের আলোকে কৃষির আধুনিকীকরণে কোনটি ভূমিকা রেখেছে? (প্রয়োগ)  
● শিল্পায়ন                      খ তথ্যপ্রযুক্তি                      গ শারীরিক শ্রম                      ঘ স্থানীয় ঘএঙ

২২০. বর্তমান অর্থনীতিতে এ বিষয়টির গুরুত্ব বৃদ্ধি পেয়েছে— (উচ্চতর দক্ষতা)  
র. প্রাকৃতিক সম্পদের সঠিক ব্যবহার সম্ভব তাই

রর. বৈদেশিক বাণিজ্য গতিশীলতা সৃষ্টির জন্য

ররর. সামাজিক সম্পর্ক উন্নয়নে ভূমিকা রাখার জন্য

নিচের কোনটি সঠিক?

● র ও রর                      খ র ও ররর                      গ রর ও ররর                      ঘ র, রর ও ররর



৮.৪ : কৃষি ও শিল্পখাতের পারস্পরিক নির্ভরশীলতা

- শিল্পের কাঁচামাল— কৃষির ওপর নির্ভরশীল।
- পাটশিল্প গড়ে উঠেছে— ঢাকা ও নারায়ণগঞ্জ।
- কৃষির আধুনিকায়ন নির্ভর করে— শিল্পের ওপর।
- প্রসারের কারণে— কৃষিপণ্যের বর্ধিত চাহিদায় উৎপাদন বাড়বে।
- চিনি শিল্প গড়ে উঠেছে— উত্তরবঙ্গে।
- খাদ্যে স্বয়ংসম্পূর্ণতা অর্জন করলে— আমদানি ব্যয় কমবে।
- ক্ষুদ্রশিল্পের ভিত্তি হলো— কৃষি।
- শিল্পজাত দ্রব্যের বাজার সৃষ্টিতে— কৃষি ভূমিকা রাখে।

সাধারণ বহুনির্বাচনি প্রশ্নোত্তর

২২১. আমাদের দেশের অধিকাংশ শিল্প কী ভিত্তিক? (অনুধাবন)  
 ● কৃষি      ✎ প্রযুক্তি      গ বিজ্ঞান      ঘ প্রশিক্ষণ
২২২. একটি তৈরিকৃত প্যাটের ব্যাগের পিছনে অবদান যার সবচাইতে বেশি— (উচ্চতর দক্ষতা)  
 ক কৃষি খাত      ✎ শিল্পখাত  
 ● কৃষি ও শিল্পখাত      ঘ সেবা খাত
২২৩. বাংলাদেশের কৃষির ওপর শিল্পের নির্ভরশীলতা বলতে কী বোঝায়? (অনুধাবন)  
 ক প্রচ্ছন্ন বেকারত্ব হ্রাস      ✎ কৃষি যন্ত্রপাতি ব্যবহার করা  
 ● কাঁচামাল সরবরাহ করা      ঘ সার, কীটনাশক ব্যবহার করা
২২৪. বাংলাদেশের কোন দুটি খাত একে অন্যের পরিপূরক? (জ্ঞান)  
 ক কৃষি ও শিক্ষা      ● কৃষি ও শিল্প  
 গ কৃষি ও জনশক্তি      ঘ শিক্ষা ও শিল্প
২২৫. কাঁচামালের জন্য কৃষির ওপর নির্ভরশীল কোন শিল্প? (জ্ঞান)  
 ক লোহা      ✎ নির্মাণ      ● চামড়া      ঘ সিমেন্ট
২২৬. কৃষিকে শিল্পের ভিত্তি বলা হয় কেন? (অনুধাবন)  
 ● শিল্পের কাঁচামাল যোগান দেওয়ায়      ✎ শিল্পকে আধুনিক হতে সাহায্য করায়  
 গ কৃষকদের কর্মসংস্থান সৃষ্টি করায়      ঘ শিল্পনির্ভর সমাজ গড়ে তোলায়
২২৭. বাংলাদেশের কোথায় পাট শিল্পের বিকাশ ঘটে? (জ্ঞান)  
 ● ঢাকা ও নারায়ণগঞ্জ      ✎ চট্টগ্রাম ও সিলেট  
 গ দিনাজপুর ও রংপুরে      ঘ ময়মনসিংহ ও কিশোরগঞ্জে
২২৮. বাংলাদেশের কোন অঞ্চলে চা শিল্প গড়ে উঠেছে? (জ্ঞান)  
 ক খুলনা      ● সিলেট      গ টাঙ্গাইল      ঘ রংপুর
২২৯. বাংলাদেশের কোন অঞ্চলে চিনি শিল্পের প্রসার ঘটেছে? (জ্ঞান)  
 ● উত্তরবঙ্গে      ✎ পূর্বাঞ্চলে  
 গ দিনাজপুর ও রংপুরে      ঘ পশ্চিমাঞ্চলে

২৩০. আধুনিক বিশ্বে উন্নত দেশগুলো সমৃদ্ধি অর্জন কোনটির মাধ্যমে? (উচ্চতর দক্ষতা)  
 ক কৃষির উন্নতি      ✎ জনসংখ্যা বৃদ্ধি  
 গ খনিজ সম্পদ উত্তোলন      ● শিল্পের উন্নতি
২৩১. শিল্পজাত কোনটি ক্ষুদ্র শিল্পের কাঁচামাল হিসেবে ব্যবহৃত হয়? (অনুধাবন)  
 ক শিল্পপ্রতিষ্ঠানে      ● কৃষিখাত  
 গ প্রযুক্তির ব্যবহার      ঘ সেবাখাত
২৩২. নিচের কোনটি ক্ষুদ্র শিল্পের কাঁচামাল হিসেবে ব্যবহৃত হয়? (অনুধাবন)  
 ● বাঁশ-বেত      ✎ সার-কীটনাশক  
 গ তুলা-চামড়া      ঘ আখ
২৩৩. কোন দ্রব্যের বাজার সৃষ্টিতে কৃষি ভূমিকা পালন করে? (অনুধাবন)  
 ● শিল্পজাত      ✎ কৃষিজাত  
 গ আমদানিকৃত      ঘ রপ্তানিকৃত
২৩৪. খাদ্যে স্বয়ংসম্পূর্ণতা অর্জন করতে হলে কোনটি প্রয়োজন? (উচ্চতর দক্ষতা)  
 ক আমদানি বৃদ্ধি করা      ● কৃষি আধুনিকীকরণ  
 গ শিল্পের বিকাশ      ঘ জমির খর্ব্বিকতা প্রতিরোধ
২৩৫. বর্তমানে বাংলাদেশ শিল্পখাত খুব বেশি উন্নত নয়। আমরা অধিকাংশই কৃষক। তবে অর্থনৈতিক উন্নয়নের জন্য শিল্প অবশ্যই প্রয়োজনীয়। এখন শিল্পখাতকে উন্নত করতে আমাদের কী করণীয়? (উচ্চতর দক্ষতা)  
 ● কৃষিতে উৎপাদন বৃদ্ধি করতে হবে  
 ✎ বৈদেশিক সাহায্য আনতে হবে  
 গ অধিকমাত্রায় আমদানি করতে হবে  
 ঘ বৃদ্ধির কাজে বেশি লোক নিয়োগ দান
২৩৬. খাদ্যে স্বয়ংসম্পূর্ণতা অর্জন করতে পারলে কোনটি প্রত্যাশা করা যায়? (উচ্চতর দক্ষতা)  
 ● আমদানি ব্যয় বাঁচবে      ✎ খাদ্য নষ্ট হবে  
 গ কৃষি লাভবান হবে      ঘ রপ্তানি খরচ কমবে
২৩৭. বিদেশ থেকে আমদানি হ্রাস করা সম্ভব কীভাবে? (উচ্চতর দক্ষতা)  
 ক কিছু দ্রব্যসামগ্রীর আমদানি বন্ধ করে  
 ✎ আমদানি কর আরোপ করে  
 গ রপ্তানি কর বাড়িয়ে  
 ● শিল্পোন্নয়নের মাধ্যমে উৎপাদন বাড়িয়ে
২৩৮. আমাদের দেশে ক্ষুদ্রশিল্পের ভিত্তি কৃষি। এটি কী প্রমাণ করে? (উচ্চতর দক্ষতা)  
 ক বাংলাদেশ কৃষি প্রধান দেশ  
 ● বাংলাদেশে কৃষি ও শিল্প পরস্পর নির্ভরশীল  
 গ বাংলাদেশে শিল্পে অনগ্রসর  
 ঘ বাংলাদেশে শিল্পের চাহিদা বৃদ্ধি পাচ্ছে

বহুপদী সমাপ্তিসূচক বহুনির্বাচনি প্রশ্নোত্তর

২৩৯. বাংলাদেশের দ্রুত অর্থনৈতিক উন্নয়নের পূর্বশর্ত হলো— (উচ্চতর দক্ষতা)

- র. কৃষি উন্নয়ন  
রর. শিল্পের উন্নয়ন  
ররর. প্রযুক্তি আবিষ্কার
- নিচের কোনটি সঠিক?
- র ও রর    খ র ও ররর    গ রর ও ররর    ঘ রর ও ররর
২৪০. শিল্পখাত কৃষি সরঞ্জাম ও সারের যোগান দেয়— (অনুধাবন)  
র. কৃষি আধুনিকীকরণের জন্য  
রর. উৎপাদন বৃদ্ধির জন্য  
ররর. আমদানি হ্রাস করার জন্য
- নিচের কোনটি সঠিক?
- র ও রর    খ র ও ররর    গ রর ও ররর    ঘ র, রর ও ররর
২৪১. বাংলাদেশের কৃষি উৎপাদন বৃদ্ধি পেলে— (উচ্চতর দক্ষতা)  
র. দ্রুত শিল্পায়ন সম্ভব হবে  
রর. জাতীয় ও মাথাপিছু উৎপাদন বৃদ্ধি পাবে  
ররর. জনগণের জন্য অধিক খাদ্যের যোগান দেয়া সম্ভব হবে
- নিচের কোনটি সঠিক?
- ক র ও রর    খ র ও ররর    গ রর ও ররর    ● র, রর ও ররর
২৪২. আমাদের অর্থনৈতিক সমৃদ্ধি তথা সর্বাঙ্গীণ উন্নতি নির্ভর করে— (অনুধাবন)  
র. কৃষির উন্নতির ওপর  
রর. শিল্পজাতদ্রব্যের বাজার সৃষ্টির ওপর  
ররর. সরকারি রাজস্ব বৃদ্ধির ওপর
- নিচের কোনটি সঠিক?
- ক র ও রর    খ র ও ররর    গ রর ও ররর    ● র, রর ও ররর
২৪৩. জমির মিয়া অধিক ধান উৎপাদনে ব্যবহার করবেন— (প্রয়োগ)  
র. উচ্চ ফলনশীল বীজ  
রর. গভীর নলকূপের মাধ্যমে সেচের ব্যবস্থা  
ররর. জৈবসার
- নিচের কোনটি সঠিক?
- ক র ও রর    খ র ও ররর    গ রর ও ররর    ● র, রর ও ররর
২৪৪. এ দেশের কৃষিভিত্তিক উল্লেখযোগ্য শিল্প হলো— (অনুধাবন)  
র. পাটশিল্প  
রর. চামড়াশিল্প  
ররর. কাগজশিল্প
- নিচের কোনটি সঠিক?
- ক র ও রর    খ র ও ররর    গ রর ও ররর    ● র, রর ও ররর

২৪৫. কৃষি ও শিল্পের উন্নয়ন একই সাথে হওয়া উচিত— (উচ্চতর দক্ষতা)  
র. অর্থনৈতিক উন্নয়ন ত্বরান্বিত করতে  
রর. আত্মনির্ভরশীলতা অর্জনের জন্য  
ররর. বাণিজ্য ঘাটতি কমিয়ে আনতে
- নিচের কোনটি সঠিক?
- র ও রর    খ র ও ররর    গ রর ও ররর    ঘ র, রর ও ররর
২৪৬. কুটিরশিল্পের কাঁচামাল হিসেবে ব্যবহৃত হয়— (উচ্চতর দক্ষতা)  
র. বিদ্যুৎ  
রর. বাঁশ-বেত  
ররর. মাটি
- নিচের কোনটি সঠিক?
- ক র ও রর    খ র ও ররর    ● রর ও ররর    ঘ র, রর ও ররর
২৪৭. আমদানি হ্রাস করা সম্ভব— (প্রয়োগ)  
র. শিল্পোন্নয়নের মাধ্যমে উৎপাদন বাড়িয়ে  
রর. আমদানি কর আরোপ করে  
ররর. সম্পদের সঠিক ব্যবহার করে
- নিচের কোনটি সঠিক?
- ক র ও রর    ● র ও ররর    গ রর ও ররর    ঘ র, রর ও ররর
২৪৮. উচ্চ ফলনশীল বীজ চাষের জন্য প্রয়োজন হয়— (অনুধাবন)  
র. সারের  
রর. পানির  
ররর. আধুনিক চাষের
- নিচের কোনটি সঠিক?
- ক র ও রর    খ র ও ররর    গ রর ও ররর    ● র, রর ও ররর
২৪৯. আমাদের দেশের অধিকাংশ কবিরাজি ওষুধ আসে— (অনুধাবন)  
র. বিভিন্ন ধরনের লতাপাতা থেকে  
রর. ওষুধের দোকান থেকে  
ররর. গাছ-গাছড়া থেকে
- নিচের কোনটি সঠিক?
- ক র ও রর    ● র ও ররর    গ রর ও ররর    ঘ র, রর ও ররর

### অভিন্ন তথ্যভিত্তিক বহুনির্বাচনি প্রশ্নোত্তর

নিচের অনুচ্ছেদটি পড়ে ২৫০ ও ২৫১ নং প্রশ্নের উত্তর দাও :

বাবলু ও ইউসুফ প্রতিবেশী। বাবলু কৃষিজীবী। কিন্তু ইউসুফের জমি কম থাকায় সে একটি কুটিরশিল্প গড়ে তুলেছে। সে কৃষিজীবী না হলেও তার শিল্প কৃষিভিত্তিক এবং অনেক কাঁচামাল সে বাবলুর নিকট থেকে ক্রয় করে।

২৫০. বাবলুর পেশার উন্নয়ন সাধিত হলে কী হবে? (প্রয়োগ)  
ক খাদ্যশস্য আমদানি করতে হবে ✕ শিল্পস্থাপন অসম্ভব হয়ে বাড়বে

● জনগণের আয় বাড়বে ✕ শিল্পোন্নয়ন ব্যাহত হবে

২৫১. ইউসুফের শিল্পের উন্নয়ন ও বিকাশ ঘটলে— (উচ্চতর দক্ষতা)  
র. কৃষিজ কাঁচামালের চাহিদা বাড়বে

রর. কৃষি উৎপাদন বাড়বে

ররর. জীবনযাত্রার মান উন্নত হবে

নিচের কোনটি সঠিক?

ক র ✕ র ও রর গ র ও ররর ● র, রর ও ররর

নিচের অনুচ্ছেদটি পড়ে ২৫২ ও ২৫৩ নং প্রশ্নের উত্তর দাও :

জনাব হাসান রাজশাহীর একটি চিনিশিল্পে কাজ করেন। কারখানাটি প্রয়োজনীয় কাঁচামালের অভাবে বছরে অনেক সময় বন্ধ থাকে। ফলে হাসানকে ভোগতে হয় সাময়িক বেকারত্বে।

২৫২. আলোচিত শিল্পটির কাঁচামাল— (প্রয়োগ)  
র. কৃষিজ

রর. প্রাণিজ

ররর. প্রাকৃতিক

নিচের কোনটি সঠিক?

● র ও রর ✕ র ও ররর গ রর ও ররর ঘ র, রর ও ররর

২৫৩. চিনিকল কোন শিল্পের অন্তর্ভুক্ত? (প্রয়োগ)  
ক ক্ষুদ্র ✕ কুটির গ মাঝারি ● বৃহৎ

## ■ অধ্যায়ের পাঠ সমন্বিত বহুনির্বাচনি প্রশ্নোত্তর

### বহুপদী সমাপ্তিসূচক বহুনির্বাচনি প্রশ্নোত্তর

২৫৪. বহু অর্থনৈতিক অবকাঠামো গুরুত্বপূর্ণ ভূমিকা পালন করে— (অনুধাবন)  
র. দ্রব্যমূল্যের স্থিতিশীলতা রক্ষায়

রর. দেশের উৎপাদন বৃদ্ধিতে

ররর. সামাজিক গতিশীলতা সৃষ্টিতে

নিচের কোনটি সঠিক?

● র ও রর ✕ র ও ররর গ রর ও ররর ঘ র, রর ও ররর

২৫৫. বাংলাদেশে ব্যাপক বেকারত্বের কারণ— (অনুধাবন)  
র. পুঁজির স্বল্পতা

রর. কারিগরি শিক্ষার অভাব

ররর. জনগণের বিলাসী মনোভাব

নিচের কোনটি সঠিক?

● র ও রর ✕ র ও ররর গ রর ও ররর ঘ র, রর ও ররর

২৫৬. বাংলাদেশে শিল্পের কাঙ্ক্ষিত উন্নয়ন না ঘটায় কারণ— (অনুধাবন)  
র. কৃষিপ্রধান দেশ

রর. ব্রিটিশ শাসকদের অবহেলা

ররর. পাকিস্তানি শাসকদের বৈষম্যমূলক শাসননীতি

নিচের কোনটি সঠিক?

ক র ✕ র ও রর গ র ও ররর ● রর ও ররর

২৫৭. আক্বাস মিয়া প্রত্যক্ষভাবে কৃষিকাজের সাথে জড়িত। তার কাজের উন্নয়নের সাথে জড়িয়ে রয়েছে— (উচ্চতর দক্ষতা)

র. এদেশের দারিদ্র্য বিমোচন কার্যক্রম

রর. কর্মসংস্থান সৃষ্টির সম্ভাবনা

ররর. শিল্পের অগ্রগতি

নিচের কোনটি সঠিক?

ক র ও রর ✕ র ও ররর গ রর ও ররর ● র, রর ও ররর

২৫৮. বাংলাদেশে শিল্পখাতের দ্রুত বিকাশ সম্ভব হলে— (উচ্চতর দক্ষতা)  
র. জীবনযাত্রার মান বৃদ্ধি পাবে

রর. বাণিজ্য ঘাটতি কমে যাবে

ররর. দারিদ্র্যমুক্ত বাংলাদেশ গড়ে তোলা সম্ভব হবে

নিচের কোনটি সঠিক?

● র ও রর ✕ র ও ররর গ রর ও ররর ঘ র, রর ও ররর

২৫৯. কৃষির উন্নয়ন অত্যন্ত জরুরি। কারণ এর সাথে জড়িয়ে রয়েছে— (উচ্চতর দক্ষতা)  
র. দারিদ্র্য বিমোচনের অগ্রগতি

রর. সামাজিক উন্নয়ন প্রক্রিয়া

ররর. শিল্প উন্নয়নের সম্ভাবনা

নিচের কোনটি সঠিক?

● র ও রর ✕ র ও ররর গ রর ও ররর ঘ র, রর ও ররর

২৬০. কাঁচামালের বর্ধিত চাহিদার কারণে কৃষি উৎপাদন করলে কৃষকদের— (অনুধাবন)  
র. আয় বাড়বে

রর. সঞ্চয় ও মূলধন বাড়বে

ররর. উৎপাদিত পণ্যের ন্যায্য দাম পাবে

নিচের কোনটি সঠিক?

ক র ও রর ✕ র ও ররর গ রর ও ররর ● র, রর ও ররর

২৬১. কৃষি উপকরণ বৃদ্ধির জন্য আবশ্যিক—  
র. শিল্পের উন্নয়ন

(অনুধাবন)

ক র ও রর

খ র ও ররর

● রর ও ররর

ঘ র, রর ও ররর

রর. আবাদি জমি বৃদ্ধি

ররর. বিদেশ থেকে উপকরণ আমদানি

নিচের কোনটি সঠিক?

● র ও রর

খ র ও ররর

গ রর ও ররর

ঘ র, রর ও ররর

### অভিন্ন তথ্যভিত্তিক বহুনির্বাচনি প্রশ্নোত্তর

নিচের অনুচ্ছেদটি পড়ে ২৬২ ও ২৬৩ নং প্রশ্নের উত্তর দাও :

হারুন মিয়া একজন ধনী কৃষক। আধুনিক চাষপদ্ধতি ব্যবহার করে উৎপাদন বৃদ্ধি করে সে কিছু টাকা সঞ্চয় করতে পেরেছে। এ টাকা দিয়ে স্ত্রীকে একটি টেইলারিং দোকান দিয়ে দেয়। যেখানে আরও ১০জন নারীশ্রমিক কাজ করছে।

২৬২. অনুচ্ছেদে বাংলাদেশের কোন দিকটি তুলে ধরে?

(প্রয়োগ)

● অর্থনৈতিক উন্নয়নের চিত্র

খ কৃষি উন্নয়নের চিত্র

গ সামাজিক উন্নয়নের চিত্র

ঘ নারী অধিকার প্রতিষ্ঠার চিত্র

২৬৩. অনুচ্ছেদের আলোকে বাংলাদেশ সম্পর্কে মন্তব্য করা যায়—(উচ্চতর দক্ষতা)  
র. বাংলাদেশে কৃষি উন্নয়নের প্রধান হাতিয়ার হিসেবে কাজ করে

রর. এদেশের কৃষি আধুনিক প্রযুক্তির ব্যবহার বাড়ছে

ররর. বাংলাদেশের নারীরা স্বাবলম্বী হচ্ছে

নিচের কোনটি সঠিক?

ক র ও রর

● র ও ররর

গ রর ও ররর

ঘ র, রর ও ররর

নিচের অনুচ্ছেদটি পড়ে ২৬৪ ও ২৬৫ নং প্রশ্নের উত্তর দাও :

বাশির মিয়া লাঙল, গরু দ্বারা জমি চাষ করে। জমিতে উন্নত জাতের বীজ, রাসায়নিক সার এবং কীটনাশক ব্যবহার করতে তিনি অক্ষম। তাছাড়া বিভিন্ন দুর্যোগও রয়েছে।

২৬৪. বাশির মিয়া তার জমিতে লাঙল, জোয়াল ও গরু দিয়ে চাষাবাদ করেন, তার চাষাবাদ পদ্ধতি হলো—

(প্রয়োগ)

র. অনুন্নত

রর. আধুনিক

ররর. সনাতন

নিচের কোনটি সঠিক?

ক র ও রর

● র ও ররর

গ রর ও ররর

ঘ র, রর ও ররর

২৬৫. বাশির মিয়ার জমিতে ফলন কম হওয়ার কারণ—  
র. জমির প্রকৃত মালিক নয়

(উচ্চতর দক্ষতা)

রর. প্রাচীন চাষ পদ্ধতি

ররর. প্রাকৃতিক দুর্যোগ

নিচের কোনটি সঠিক?

নিচের অনুচ্ছেদটি পড়ে ২৬৬ ও ২৬৭ নং প্রশ্নের উত্তর দাও :

ভবানীপুর গ্রামটির বিপুল জনগোষ্ঠী খাদ্যনিরাপত্তা নিশ্চিতকরণ, দারিদ্র্য বিমোচন, কর্মসংস্থান বৃদ্ধি ইত্যাদি কৃষি অর্থনৈতিক অগ্রগতির সাথে প্রত্যক্ষভাবে জড়িত। গ্রামটিতে প্রতিবছরই বন্যা, ঘূর্ণিঝড়, জলোচ্ছ্বাস, খরা ইত্যাদি কারণে কৃষিক্ষেত্রে উৎপাদন অনিশ্চিত থাকে। বর্তমানে উন্নয়নের স্বার্থে শিল্পখাতের অর্থনীতি গড়ে তোলা প্রয়োজন।

২৬৬. অনুচ্ছেদের কৃষি ও শিল্পখাতের উন্নয়নের পাশাপাশি কোন খাতটি প্রয়োজ্য?

(প্রয়োগ)

ক নির্মাণ

খ বিদ্যুৎ

● সেবা

ঘ মৎস্য

২৬৭. অনুচ্ছেদে কৃষি প্রকৃতির ওপর নির্ভরশীলতা নির্দেশ করে—(উচ্চতর দক্ষতা)  
র. স্থিতিশীল অর্থনীতি

রর. মুক্তবাজার অর্থনীতি

ররর. উন্নয়নশীল অর্থনীতি

নিচের কোনটি সঠিক?

ক র ও রর

● র ও ররর

গ রর ও ররর

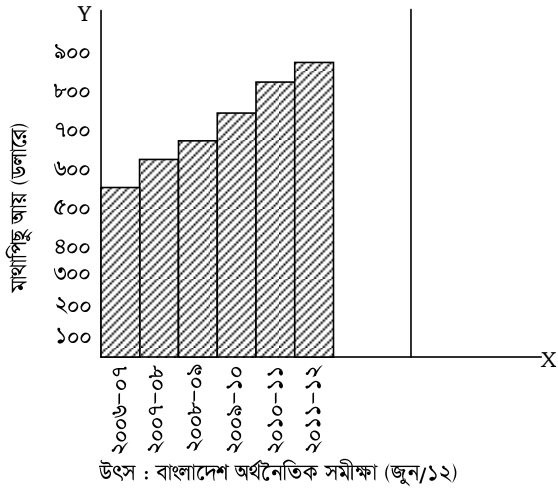
ঘ র, রর ও ররর

## নবম অধ্যায়

# বাংলাদেশের গুরুত্বপূর্ণ অর্থনৈতিক প্রসঙ্গ

## সৃজনশীল প্রশ্ন

১।



ক. মানবসম্পদ কাকে বলে?

খ. দারিদ্র্যের দুইস্তরের ধারণাটি ব্যাখ্যা কর।

গ. লেখচিত্রে কোন অর্থনীতির বৈশিষ্ট্য প্রকাশ পেয়েছে? ব্যাখ্যা কর।

ঘ. লেখচিত্রে প্রদর্শিত অর্থনৈতিক অবস্থার জন্য কোন নিয়ামক শক্তির অবদান সবচেয়ে বেশি বলে তুমি মনে কর? বিশ্লেষণ কর।

২। তামান্না জাতীয় বিশ্ববিদ্যালয় থেকে এমএ পাস করেছে। তার এখনও কোনো চাকরি হয়নি। ইদানীং সে তার মায়ের পরিচালিত হস্তশিল্পে তার মাকে কাজে সাহায্য করে। মায়ের কাছ থেকে তার সময় ভালো কাটে কিন্তু তাদের হস্তশিল্পের উৎপাদন বা আয় পূর্বের অবস্থায় রয়েছে।

ক. বেকারত্ব কাকে বলে?

খ. কাজের বিনিময়ে খাদ্য কর্মসূচির ব্যাখ্যা কর।

গ. অর্থনীতিতে তামান্নার কাজের ধরন ব্যাখ্যা কর।

ঘ. 'বাস্তবভিত্তিক শিক্ষা' তামান্নাকে উক্ত অবস্থা থেকে উত্তরণ ঘটাতে পারে- মূল্যায়ন কর।

৩। শাহী তার কৃষি জমিতে বছরে প্রায় ২৫ মন ধান উৎপাদন করতে পারে। তার বড় ছেলে জাফর অন্য কোনো কাজ না পেয়ে তার সাথেই ধান উৎপাদনের কাজে নিয়োজিত হয়। কিন্তু তাতে উৎপাদনের পরিমাণ একই থেকে যায়। তাই জাফর যুব উন্নয়ন প্রশিক্ষণ কেন্দ্র থেকে প্রশিক্ষণ নিয়ে একটি গরুর খামার স্থাপন করে। সে খামারে আরও পাঁচ জন লোক নিয়োগ দেয়।

- ক. অর্থনৈতিক উন্নয়ন কী? ১
- খ. মৌসুমি বেকারত্ব বলতে কী বোঝায়? ব্যাখ্যা কর। ২
- গ. জাফরের প্রথম দিকের বেকারত্বের প্রকৃতি ব্যাখ্যা কর। ৩
- ঘ. জাফরের পরবর্তী কার্যক্রমটি দেশের অর্থনীতিতে গুরুত্বপূর্ণ ভূমিকা রাখতে সক্ষম- বিশ্লেষণ কর। ৪

**৪**। সোমালিয়ার অধিবাসী তাকতাদির। তার দেশে সবসময় গৃহযুদ্ধ লেগেই থাকে। পর্যাপ্ত প্রাকৃতিক সম্পদ থাকলেও প্রযুক্তি ও কারিগরি জ্ঞানের অভাবে তা কাজে লাগানো যায় না। অধিকাংশ মানুষ কৃষিজীবী। তার বাবা সুন্দর ভবিষ্যতের জন্য তাকে আমেরিকায় পাঠিয়ে দেয়। অফুরন্ত প্রাকৃতিক সৌন্দর্যের দেশ আমেরিকার জনগণ কঠোর পরিশ্রমী। সেখানে তার দেশের মতো অস্থিরতা বিরাজ করে না বরং সবকিছু কেমন যেন উন্নয়নবান্ধব।

- ক. অনুন্নত দেশের জাতীয় আয়ের প্রধান খাত কী? ১
- খ. বাংলাদেশে উদ্যোক্তার অভাব পরিলক্ষিত হয় কেন? ২
- গ. উদ্ভীপকের তাকতাদিরের দেশটি কী ধরনের দেশ? ব্যাখ্যা কর। ৩
- ঘ. তাকতাদিরের দেশটিকে তার বর্তমানে বসবাসরত দেশটির পর্যায়ে নিয়ে যাওয়ার জন্য করণীয় নির্দেশ কর। ৪

**৫**। মালয়েশিয়া এশিয়ার অন্যতম অর্থনৈতিক শক্তি হিসেবে বিকশিত হচ্ছে। মাত্র ৫০ বছর আগেও দেশটি অনুন্নত দেশ হিসেবে পরিচিত ছিল। কিন্তু দীর্ঘমেয়াদি পরিকল্পনায় দেশটিতে বিনিয়োগবান্ধব পরিবেশ তৈরি হয়েছে। শিল্পনির্ভর অর্থনীতি গড়ে উঠেছে। মাথাপিছু আয় বৃদ্ধি পাওয়ায় মূলধন গঠন হচ্ছে এবং উদ্যোক্তাশ্রেণি প্রচুর বিনিয়োগ করছে। বর্তমানে তাদের আমদানির চেয়ে রপ্তানি অনেক বেশি।

- ক. অর্থনৈতিক উন্নয়নের প্রাথমিক শর্ত কী? ১
- খ. দারিদ্র্যের দুষ্চক্র বলতে কী বোঝায়? ২
- গ. উদ্ভীপকের দেশটির অর্থনীতির সাথে বাংলাদেশের অর্থনীতির বৈসাদৃশ্য ব্যাখ্যা কর। ৩
- ঘ. উদ্ভীপকের দেশ বাংলাদেশের জন্য আদর্শ মডেল- বিশ্লেষণ কর। ৪

**৬**। মোহনপুর গ্রামের অধিকাংশ মানুষ দরিদ্র। বছরের একটি বড় সময় তারা বেকার থাকে বলে অতি কষ্টে তাদের দিনাতিপাত করতে হয়। দারিদ্র্যকে সাথে নিয়েই এ গ্রামবাসী বংশপরম্পরায় জীবনযাপন করছে। প্রতিবছর বন্যার সময় এদের অবস্থা আরো করুণ হয়ে যায়। বিশেষ করে বয়স্ক দরিদ্র, দুই মহিলা, বিধবা, স্বামী পরিত্যক্তাদের কষ্টের সীমা থাকে না।

- ক. ব্র্যাকের পূর্ণরূপ কী? ১
- খ. ঔপনিবেশিক ধরনের বাণিজ্য বলতে কী বোঝায়? ২
- গ. উদ্ভীপকের গ্রামবাসীর দারিদ্র্য বিমোচনে কোন এনজিও গুরুত্বপূর্ণ ভূমিকা রাখতে পারে? পাঠ্যপুস্তকের আলোকে ব্যাখ্যা কর। ৩
- ঘ. উদ্ভীপকের অসহায় মানুষগুলোর জন্য বাংলাদেশ সরকার নানা কর্মসূচি হাতে নিয়েছে- বিশ্লেষণ কর। ৪

**৭**। মহব্বত মিয়র ৩ বিঘা জমি আছে। তিনি একাই এ জমিতে চাষাবাদ করে তিন ছেলে ও স্ত্রীকে নিয়ে দিনাতিপাত করেন। তিন ছেলেরাও এখন বড় হয়েছে। তারা লেখাপড়া শেষ না করায় কোনো কাজ পায় না। তারা এখন বাবার সাথে মাঠে কাজ করে।

- ক. বেকার কে? ১
- খ. মানবসম্পদ বলতে কী বোঝায়? ২
- গ. উদ্ভীপকের মহব্বত মিয়র তিন ছেলের মধ্যে কোন ধরনের বেকারত্ব রয়েছে? ব্যাখ্যা কর। ৩

ঘ. শিল্পায়নের মাধ্যমে উক্ত ব্যক্তিদের বেকারত্ব দূর করা সম্ভব- বিশ্লেষণ কর। ৪

৮। প্রায় প্রতিদিনই রইমুদ্দিন ও কলিমুদ্দিনকে একসাথে বসে গল্প করতে দেখা যায়। এখন তাদের অবসর। ক'দিন আগে তারা জমি থেকে চৈতালি ফসল ঘরে তুলেছে। ক'দিন পর আবার জমিতে ধান লাগানো লাগবে। মধ্যের দুই মাস তারা সুখ-দুঃখের গল্প করে কাটিয়ে দেয়।

ক. এসএসএস কী? ১

খ. বাংলাদেশে কারিগরি শিক্ষার প্রসার ঘটানো দরকার কেন? ২

গ. উদ্দীপকের ব্যক্তিদ্বয় কী ধরনের বেকার? ব্যাখ্যা কর। ৩

ঘ. তাদের বেকারত্ব কীভাবে দূর করা সম্ভব বলে তুমি মনে কর? মতামত দাও। ৪

৯। অষ্টম শ্রেণি পাস সোহান ম'ল রাজমিস্ত্রির কাজ করে সংসার চালান। বর্ষার মৌসুমে কাজ না থাকায় তাকে বিপদে পড়তে হয়। এ বছর তিনি অবসর সময়ে বাড়ির নিকটবর্তী লালপুর সরকারি ট্রেনিং ইনস্টিটিউটে ইলেকট্রনিক্সের কাজের ওপর একটি প্রশিক্ষণ কোর্স সম্পন্ন করেছেন। এখন তিনি রাজমিস্ত্রির কাজের পাশাপাশি বাড়িতে বাড়িতে ইলেকট্রিক কাজ করেন। তার মতো অনেকেই এই ইনস্টিটিউট থেকে প্রশিক্ষণ নিয়ে বিভিন্ন পেশায় নিয়োজিত হচ্ছেন।

ক. ব্র্যাক কত সালে প্রতিষ্ঠিত হয়। ১

খ. উদ্যোক্তাকে অর্থনৈতিক উন্নয়নের কেন্দ্রবিন্দু বলা হয় কেন? ২

গ. সোহান ম'ল পূর্বে কী ধরনের বেকার ছিল? ব্যাখ্যা কর। ৩

ঘ. মানবসম্পদ উন্নয়নে উদ্দীপকের প্রতিষ্ঠানটি গুরুত্বপূর্ণ ভূমিকা রাখছে- বিশ্লেষণ কর। ৪

১০। উদ্দীপক-১ : ৬৬ একটি নতুন স্বাধীনতা প্রাপ্ত দেশ। দেশটির অর্থনীতি কৃষির ওপর নির্ভরশীল। পর্যাপ্ত মূলধন, দক্ষ জনশক্তি, অপরিমিত বিনিয়োগ ও বিদ্যমান রাজনৈতিক দ্বন্দ্বের কারণে দেশটি অর্থনৈতিক উন্নয়ন ঘটাতে পারছে না।

উদ্দীপক-২ : ৬৬ একটি শিল্পসমৃদ্ধ দেশ। বিনিয়োগবান্ধব পরিবেশ থাকায় দেশটিতে বিনিয়োগ বেশি হয় এবং উৎপাদনও বেশি। উন্নত অবকাঠামোর কারণে অন্যান্য দেশের ধনীরা এখানে এসে বিনিয়োগ করতে এবং বসবাস করতে স্বাচ্ছন্দ্যবোধ করে।

ক. অর্থনৈতিক প্রবৃদ্ধি কী? ১

খ. বেসরকারি সংস্থাসমূহ কীভাবে দারিদ্র্য বিমোচনে কাজ করে? ২

গ. উদ্দীপক-১-এর ৬৬ দেশটির সাথে বাংলাদেশের সাদৃশ্য ব্যাখ্যা কর। ৩

ঘ. উদ্দীপকের দেশদ্বয়ের মধ্যে কোন দেশকে তুমি উন্নত দেশ মনে কর? সপক্ষে যুক্তি দাও। ৪

১১। জয়নাল মুদি দোকানদার বাবার একমাত্র ছেলে। তার অসুস্থ বাবা যা উপার্জন করে তা দিয়েই কোনোমতে তাদের দিন অতিবাহিত হচ্ছিল। জয়নাল এসএসসি পাস করে লেখাপড়ার পাশাপাশি বাবার দোকানে বসা শুরু করে। তার সহযোগিতায় তার বাবা কিছু টাকা জমিয়ে ব্যবসা সম্প্রসারণ করে। আর এদিকে জয়নালও বিবিএ-এমবিএ শেষ করে বড় একটা চাকরি পায়। এখন সে তার বাবা-মাকে নিয়ে সুখেই দিন কাটাচ্ছে।

ক. মূলধন গঠনের উপায় কী? ১

খ. বাংলাদেশে জনসংখ্যাকে একটি সমস্যা হিসেবে চিহ্নিত করা হয় কেন? ২

গ. জয়নালের পরিবার কীভাবে দারিদ্র্যের দুষ্টচক্র ভেঙেছে? ব্যাখ্যা কর। ৩

ঘ. জয়নালের মতো প্রতিভাবানদের শিক্ষার সুযোগ দানের মাধ্যমে জাতি দারিদ্র্যের দুষ্টচক্র থেকে বের হতে পারবে।- বিশ্লেষণ কর।





- ক দক্ষ প্রশাসন ● অধিক জনসংখ্যা
- গ কৃষিভিত্তিক অর্থনীতি ঘ অধিক মূলধন
৫. অনুন্নত দেশে বিনিয়োগ ও উৎপাদন কম হওয়ার কারণ কী? [অগ্রণী স্কুল এন্ড কলেজ, রাজশাহী]
- ক প্রাকৃতিক দুর্যোগ ও বেকারত্ব খ বেকারত্ব
- গ জনসংখ্যাধিক্য ● স্বল্প মাথাপিছু আয়
৬. বাংলাদেশে দ্রুত উন্নয়নের জন্য প্রয়োজনীয় পরিমাণ বিনিয়োগ করা সম্ভব হচ্ছে না কেন? [আলাহেরা একাডেমি, পাবনা]
- ক অধিক জনসংখ্যার জন্য খ প্রয়োজনীয় কারিগরি উন্নয়ন না থাকার জন্য
- গ বৈদেশিক নির্ভরশীলতার জন্য ● মূলধনের গঠনের হার কম হওয়ার জন্য
৭. ইজঅফ-এর পূর্ণরূপ কী? [খুলনা বালিকা উচ্চ বিদ্যালয়]
- ইধহমমধফবংঘ জঁধঘ অফাধহপবসবহঃ ঈডসসরঃ
- খ ইধহমমধফবংঘ জঁধঘ অফারপব ঈডসসরঃ
- গ ইধহমমধফবংঘ জঁধঘ অফাধহপবসবহঃ ঈডসসঁহরঃ
- ঘ ইধহমমধফবংঘ জঁধঘ অফাধহপবসবহঃ ঝবধরপব
৮. ব্র্যাকের লক্ষ্য কী? [করোনেশন সরকারি উচ্চ বিদ্যালয়, খুলনা]
- ক নারীর ক্ষমতায়ন করা
- খ বস্তি সমস্যা সমাধান করা
- গ প্রাকৃতিক দুর্যোগে নিঃস্বদের সাহায্য করা
- দারিদ্র্যদের ক্ষমতায়ন করা
৯. কোন সংস্থাটি প্রথম দিকে কৃষি ও বন মন্ত্রণালয়ের সাথে একটি সংযুক্ত সেল হিসেবে কাজ করেছে? [নাটোর জিলা স্কুল]
- ক ব্র্যাক খ গ্রামীণ ব্যাংক
- স্বনির্ভর বাংলাদেশ ঘ প্রশিকা
১০. রাষ্ট্রায়ত্ত্ব ব্যাংকের মাধ্যমে বিত্তহীনদের ঋণ বিতরণ করে কোন সংস্থা? [দিনাজপুর জিলা স্কুল]
- স্বনির্ভর বাংলাদেশ খ ব্যুরো বাংলাদেশ
- গ প্রশিকা ঘ শক্তি ফাউন্ডেশন
১১. বাংলাদেশে নারীর উন্নয়নের বড় সংগঠন কোনটি? [রংপুর ক্যান্টনমেন্ট স্কুল]
- ক শক্তি ফাউন্ডেশন ● ঠেঙ্গামারা মহিলা সবুজ সংঘ
- গ সোসাইটি ফর সোসাল সার্ভিসেস ঘ ব্যুরো বাংলাদেশ
১২. প্রাকৃতিক কারণে কোন বেকারত্ব দেখা যায়? [চয়াডাঙ্গা সরকারি স্কুল]
- ক স্থায়ী খ ছদ্মবেশী ● মৌসুমি ঘ নারী
১৩. কৃষিখাতে কোন ধরনের লোকদের প্রান্তিক উৎপাদনশীলতা শূন্য? [রংপুর জিলা স্কুল]
- ক স্থায়ী বেকার খ মৌসুমি বেকার
- ছদ্মবেশী বেকার ঘ আধা-বেকার
১৪. বাংলাদেশের সর্ববৃহৎ এনজিও কোনটি? [কুষ্টিয়া জিলা স্কুল]
- ক গ্রামীণ ব্যাংক ● ব্র্যাক

গ স্বনির্ভর বাংলাদেশ

ঘ আশা

১৫. উন্নত দেশের মূলধন গঠনের জন্য করণীয় কী? [রাজবাড়ি সরকারি উচ্চ বিদ্যালয়]
- ক আয় বৃদ্ধি করা                      খ বিনিয়োগ বৃদ্ধি করা
- গ ব্যয় বৃদ্ধি করা                      ● সঞ্চয় বৃদ্ধি করা

---

### বহুপদী সমাপ্তিসূচক বহুনির্বাচনি প্রশ্নোত্তর

---

১৬. দারিদ্রের দুষ্টচক্র থেকে বের হওয়ার জন্য কোনো দেশ মূলধন বাড়ালে, তখন দেশটির— [স. বো. '১৫]
- র. উৎপাদন বাড়বে
- রর. চাহিদা বাড়বে
- ররর. সঞ্চয় বাড়বে
- নিচের কোনটি সঠিক?
- ক র ও রর                      খ র ও ররর                      গ র ও ররর                      ● র, রর ও ররর

১৭. বাংলাদেশের অতিরিক্ত জনসংখ্যাকে জনসম্পদে রূপান্তর করতে হলে, প্রয়োজন— [স. বো. '১৫]
- র. দক্ষ করে গড়ে তোলা
- রর. কর্মমুখী শিক্ষায় শিক্ষিত করা
- ররর. জনস্বাস্থ্যের উন্নয়ন নিশ্চিত করা
- নিচের কোনটি সঠিক?
- ক র ও রর                      খ র ও ররর                      গ রর ও ররর                      ● র, রর ও ররর

১৮. অর্থনৈতিক সমৃদ্ধি অর্জনের জন্য প্রয়োজন— [রাজশাহী ক্যান্টনমেন্ট বোর্ড উচ্চ বিদ্যালয়]
- র. মূলধন গঠন করা
- রর. রাজনৈতিক স্থিতিশীলতা বজায় রাখা
- ররর. দক্ষ জনশক্তি তৈরি করা
- নিচের কোনটি সঠিক?
- ক র ও রর                      খ র ও ররর                      গ রর ও ররর                      ● র, রর ও ররর

১৯. সরকারি ও বেসরকারি পর্যায়ে কর্মসূচি গ্রহণের কারণ হলো—

[বিএএফ শাহীন স্কুল, চট্টগ্রাম]

- র. দারিদ্র্য জনগোষ্ঠীর কর্মসংস্থান করা
- রর. দারিদ্র্য জনগোষ্ঠীর আয় বৃদ্ধি করা
- ররর. নগরায়নের বিস্তার করা
- নিচের কোনটি সঠিক?
- র ও রর                      খ র ও ররর                      গ রর ও ররর                      ঘ র, রর ও ররর

---

### অভিন্নথ্যভিত্তিক বহুনির্বাচনি প্রশ্নোত্তর

---

নিচের অনুচ্ছেদটি পড়ে ২০ ও ২১ নং প্রশ্নের উত্তর দাও :

করিম ও রহিম জমিতে বীজ বপন ও ফসল কাটার সময় ব্যস্ত থাকে। কিন্তু বছরের অন্য সময় তাদের কোনো কাজ থাকে না। কিন্তু তারা এ অবস্থা থেকে পরিত্রাণ চায়। [স. বো. '১৫]

২০. কৃষিক্ষেত্রে করিম ও রহিমের মতো লোকদের কী বলে?  
 ক স্থায়ী বেকার ● মৌসুমি বেকার  
 গ প্রচ্ছন্ন বেকার ঘ ছদ্মবেশি বেকার
২১. উক্ত বেকারত্ব দূরীকরণের জন্য যা প্রয়োজন তা হলো—  
 র. শিল্পখাতে শ্রমিকের স্থানান্তর রর. বছরে একটি ফসল উৎপাদন  
 ররর. কৃষিতে বিনিয়োগ বাড়ানো
- নিচের কোনটি সঠিক?  
 ক র ও রর ● র ও ররর গ রর ও ররর ঘ র, রর ও ররর

## ■ বিষয়ক্রম অনুযায়ী বহুনির্বাচনি প্রশ্নোত্তর

### ☛ ৯.১ : অর্থনৈতিক প্রবৃদ্ধি ও উন্নয়ন

- একটি নির্দিষ্ট সময়ে কোনো দেশে উৎপাদিত দ্রব্য ও সেবার বাজারমূল্যের সমষ্টির বৃদ্ধির হারকে বলে— অর্থনৈতিক প্রবৃদ্ধি।
- মাথাপিছু আয় বৃদ্ধির হারকেও— অর্থনৈতিক প্রবৃদ্ধি বলা হয়।
- অর্থনৈতিক উন্নয়ন একটি— চলমান প্রক্রিয়া।
- শুধুমাত্র প্রবৃদ্ধি অর্জিত হলেই— অর্থনৈতিক উন্নয়ন হয় না।
- অর্থনৈতিক প্রবৃদ্ধির জন্য— মোট জাতীয় আয় বৃদ্ধিই যথেষ্ট।
- অর্থনৈতিক উন্নয়নের সাথে সম্পর্ক— মাথাপিছু আয়ের।

### সাধারণ বহুনির্বাচনি প্রশ্নোত্তর

২২. কোনো দেশের দ্রব্য ও সেবাবাজার মূল্যের সমষ্টির বৃদ্ধির হারকে কী বলে? (জ্ঞান)  
 ক ভোগ বৃদ্ধি ● প্রবৃদ্ধি গ আয়বৃদ্ধি ঘ মানবৃদ্ধি
২৩. কোনটি দ্বারা অর্থনৈতিক প্রবৃদ্ধি পরিমাপ করা হয়? (জ্ঞান)  
 ● মাথাপিছু আয় খ জাতীয় ব্যয়  
 গ জাতীয় বিনিয়োগ ঘ জনগণের জীবনযাত্রার মান
২৪. জিডিপি বৃদ্ধির হারকে কী বলে? (জ্ঞান)  
 ক অর্থনৈতিক উন্নয়ন ● অর্থনৈতিক প্রবৃদ্ধি  
 গ জাতীয় ভোগ বৃদ্ধি ঘ জাতীয় বিনিয়োগ বৃদ্ধি
২৫. অর্থনৈতিক প্রবৃদ্ধি দ্বারা দ্রব্য ও সেবার কোন দিককে নির্দেশ করা হয়? (অনুধাবন)  
 ক অবকাঠামোগত দিক খ মানগত দিক  
 ● পরিমাণগত দিক ঘ মূল্যগত দিক
২৬. কতগুলো শক্তির সংযোগে চলমান গতিধারাকে কী বলে? (জ্ঞান)  
 ক অর্থনৈতিক প্রবৃদ্ধি ● অর্থনৈতিক উন্নয়ন  
 গ সামগ্রিক যোগান ঘ সামগ্রিক চাহিদা

২৭. অর্থনৈতিক উন্নয়নের শক্তিসমূহের ফলাফল কী? (উচ্চতর দক্ষতা)
- জনগণের মাথাপিছু আয় ক্রমাগত বৃদ্ধি
  - খ দ্রব্যের চাহিদা ক্রমাগত বৃদ্ধি
  - গ বাজার মূল্যে ক্রমাগত বৃদ্ধি
  - ঘ দ্রব্যের গুণগত মান পরিবর্তন
২৮. কোনটি অর্থনৈতিক উন্নয়নের শক্তি? (অনুধাবন)
- জাতীয় আয়
  - খ বিমা
  - গ কারখানা
  - ঘ ব্যাংক
২৯. নিচের কোনটি অর্থনৈতিক শক্তি? (জ্ঞান)
- বিনিয়োগ
  - খ চাহিদা
  - গ বাজার
  - ঘ যোগান
৩০. নিচের কোনটি অর্থনৈতিক শক্তি? (জ্ঞান)
- ক চাহিদা
  - জীবনযাত্রার মান বৃদ্ধি
  - গ দ্রব্য
  - ঘ সেবা
৩১. অর্থনৈতিক উন্নয়ন সম্বন্ধে সঠিক ধারণা পেতে হলে কোন বিষয়টি বুঝতে হবে? (উচ্চতর দক্ষতা)
- ক অর্থনৈতিক সমৃদ্ধি
  - অর্থনৈতিক প্রবৃদ্ধি
  - গ অর্থনৈতিক কাঠামো
  - ঘ অর্থনীতির ভিত্তি
৩২. প্রবৃদ্ধি কী? (জ্ঞান)
- ক জাতীয় শ্রমশক্তির বৃদ্ধি
  - খ মোট দেশজ ভোগের অব্যাহত বৃদ্ধি
  - মোট জাতীয় আয়ের অব্যাহত বৃদ্ধি
  - ঘ জাতীয় মাথাপিছু আয়ের ক্রমাগত বৃদ্ধি
৩৩. মোজাম্বিকের অর্থনৈতিক প্রবৃদ্ধি অনেক কম। দেশটির অর্থনৈতিক প্রবৃদ্ধি বৃদ্ধির জন্য কোনটির ওপর জোর দিতে হবে? (প্রয়োগ)
- ক জাতীয় বিনিয়োগ বৃদ্ধির
  - জাতীয় আয় বৃদ্ধির
  - গ জাতীয় ব্যয় বৃদ্ধির
  - ঘ অর্থনৈতিক অবস্থার গুণগত পরিবর্তনের
৩৪. অর্থনৈতিক উন্নয়নের সাথে অর্থনৈতিক প্রবৃদ্ধি ছাড়া আর কোনটি জড়িত? (অনুধাবন)
- ক জাতীয় মাথাপিছু আয়
  - খ জাতীয় ব্যয়
  - অর্থনীতির গুণগত পরিবর্তন
  - ঘ আর্থসামাজিক পরিবর্তন
৩৫. নিচের কোনটি সঠিক? (অনুধাবন)
- ক অর্থনৈতিক উন্নয়ন = অর্থনৈতিক প্রবৃদ্ধি – অর্থনীতির গুণগত পরিবর্তন
  - খ অর্থনৈতিক প্রবৃদ্ধি = অর্থনৈতিক উন্নয়ন + অর্থনীতির গুণগত পরিবর্তন
  - অর্থনৈতিক উন্নয়ন = অর্থনৈতিক প্রবৃদ্ধি + অর্থনীতির গুণগত পরিবর্তন
  - ঘ অর্থনীতির গুণগত পরিবর্তন = অর্থনৈতিক উন্নয়ন + অর্থনৈতিক প্রবৃদ্ধি
৩৬. প্রবৃদ্ধি ও উন্নয়নের মধ্যে সম্পর্ক কী? (উচ্চতর দক্ষতা)
- ক উন্নয়ন + অন্যান্য বিষয়ের সফল
  - প্রবৃদ্ধি = উন্নয়ন

● প্রবৃদ্ধি < উন্নয়ন

ঘ প্রবৃদ্ধি > উন্নয়ন

---

বহুপদী সমাস্তিসূচক বহুনির্বাচনি প্রশ্নোত্তর

---

৩৭. একটি দেশের অর্থনৈতিক প্রবৃদ্ধি বলতে বোঝায়— (অনুধাবন)

র. দ্রব্য উৎপাদনের পরিমাণগত বৃদ্ধিকে

রর. দ্রব্য বিনিয়োগের পরিমাণগত বৃদ্ধিকে

ররর. সেবা উৎপাদনের পরিমাণগত বৃদ্ধিকে

নিচের কোনটি সঠিক?

ক র ও রর ● র ও ররর গ রর ও ররর ঘ র, রর ও ররর

৩৮. উন্নয়ন বলতে বোঝায়— (উচ্চতর দক্ষতা)

র. অর্থনৈতিক অবস্থার গুণগত পরিবর্তন

রর. প্রবৃদ্ধির বৃদ্ধি

ররর. সার্বিক মানোন্নয়ন

নিচের কোনটি সঠিক?

ক র ও রর খ র ও ররর গ রর ও ররর ● র, রর ও ররর

৩৯. কোনো দেশের অর্থনৈতিক উন্নয়ন ঘটছে বলা যাবে যদি— (উচ্চতর দক্ষতা)

র. শিক্ষার হার বেড়ে যায়

রর. প্রবৃদ্ধির হার বেড়ে যায়

ররর. দ্রব্যমূল্যস্তর উর্ধ্বমুখী হয়

নিচের কোনটি সঠিক?

● র ও রর খ র ও ররর গ রর ও ররর ঘ র, রর ও ররর

৪০. যে খাতে বাংলাদেশে প্রবৃদ্ধির হার বেশি— (অনুধাবন)

র. শিল্প

রর. আর্থিক প্রতিষ্ঠান ও সেবা

ররর. শিক্ষা

নিচের কোনটি সঠিক?

● র ও রর খ র ও ররর গ রর ও ররর ঘ র, রর ও ররর

৪১. দেশের অর্থনৈতিক উন্নয়ন সাধনের জন্য প্রয়োজন— (উচ্চতর দক্ষতা)

র. অর্থনৈতিক প্রবৃদ্ধি বৃদ্ধি করা

রর. অর্থনীতির গুণগত পরিবর্তন সাধন করা

ররর. জাতীয় ব্যয় বৃদ্ধি করা

নিচের কোনটি সঠিক?

● র ও রর খ র ও ররর গ রর ও ররর ঘ র, রর ও ররর

৪২. অর্থনৈতিক উন্নয়নের শক্তিসমূহ— (অনুধাবন)  
র. উৎপাদন, ভোগ

রর. চাহিদা, যোগান

ররর. জাতীয় আয়, নিয়োগ

নিচের কোনটি সঠিক?

ক র ও রর  র ও ররর  গ রর ও ররর  ঘ র, রর ও ররর

৪৩. একটি দেশের অর্থনৈতিক প্রবৃদ্ধি বলতে বোঝায়— (অনুধাবন)  
র. দ্রব্য উৎপাদনের পরিমাণগত বৃদ্ধিকে

রর. দ্রব্য বিনিয়োগের পরিমাণগত বৃদ্ধিকে

ররর. সেবা উৎপাদনের পরিমাণগত বৃদ্ধিকে

নিচের কোনটি সঠিক?

ক র ও রর  র ও ররর  গ রর ও ররর  ঘ র, রর ও ররর

৪৪. দেশের অর্থনৈতিক উন্নয়ন সাধনের জন্য প্রয়োজন— (উচ্চতর দক্ষতা)  
র. অর্থনৈতিক প্রবৃদ্ধি বৃদ্ধি করা

রর. অর্থনীতির গুণগত পরিবর্তন সাধন করা

ররর. জাতীয় ব্যয় বৃদ্ধি করা

নিচের কোনটি সঠিক?

র ও রর  খ র ও ররর  গ রর ও ররর  ঘ র, রর ও ররর

৪৫. অর্থনৈতিক উন্নয়নের শক্তিসমূহ— (অনুধাবন)  
র. উৎপাদন, ভোগ

রর. চাহিদা, যোগান

ররর. জাতীয় আয়, নিয়োগ

নিচের কোনটি সঠিক?

ক র ও রর  র ও ররর  গ রর ও ররর  ঘ র, রর ও ররর

---

### অভিন্ন তথ্যভিত্তিক বহুনির্বাচনি প্রশ্নোত্তর

---

নিচের অনুচ্ছেদটি পড়ে ৪৬ ও ৪৭ নং প্রশ্নোত্তর দাও :

‘ক’ দেশের ‘খ’ সরকার তার কর্মকাণ্ডের দ্বারা ধনাত্মক অর্থনৈতিক প্রবৃদ্ধি ও অর্থনীতির অনুকূল গুণগত পরিবর্তন করলেন।

৪৬. ‘ক’ সরকার ‘খ’ দেশের কী ঘটালেন? (প্রয়োগ)

অর্থনৈতিক উন্নয়ন  খ উন্নয়ন

গ সুখম উন্নয়ন  ঘ অগ্রগতি

৪৭. ‘খ’ দেশের জনগণের ক্ষেত্রে কী লক্ষ করা যায়? (উচ্চতর দক্ষতা)

র. জাতীয় আয় কমবে

রর. আয় কমবে

ররর. জীবনযাত্রার মান বাড়ছে

নিচের কোনটি সঠিক?

ক র ও রর  ররর  গ রর ও ররর  ঘ র, রর ও ররর

### ➔ ৯.২ : উন্নত, অনুন্নত ও উন্নয়নশীল দেশের বৈশিষ্ট্য

- উন্নয়ন স্তরের ভিত্তিতে দেশগুলোকে – ৩ ভাগে ভাগ করা যায়।
- অর্থনৈতিক উন্নয়নের প্রাথমিক শর্ত— মূলধন গঠন।
- উন্নত দেশের জাতীয় আয়ের প্রধান উৎস— শিল্প।
- বৈদেশিক বাণিজ্যের ঘাটতির সম্মুখীন হতে হয়— উন্নয়নশীল দেশের।
- অনুন্নত ও উন্নয়নশীল দেশের মধ্যে মিল হলো— কৃষি ও অনুন্নত যোগাযোগ।
- দক্ষ জনশক্তি ও কারিগরি জ্ঞান— উন্নত দেশের বৈশিষ্ট্য।

### সাধারণ বহুনির্বাচনি প্রশ্নোত্তর

৪৮. উন্নত দেশসমূহ কোন সম্পদের সঠিক ব্যবহার নিশ্চিত করে? (অনুধাবন)  
● ভূমি ও প্রাকৃতিক সম্পদ  অদক্ষ জনগোষ্ঠী  
গ বনজ সম্পদ  ঘ খনিজ সম্পদ
৪৯. কোনটি উন্নত দেশ? (জ্ঞান)  
ক বাংলাদেশ  খ মালদ্বীপ  গ ভারত  ঘ জাপান
৫০. পর্যাপ্ত প্রাকৃতিক সম্পদ থাকলেও কোনটির অভাবে একটি দেশের অর্থনৈতিক উন্নয়ন ব্যাহত হয়? (জ্ঞান)  
ক মূলধন  ঘ দক্ষ জনশক্তি  
গ দক্ষ প্রশাসন  ঘ কাঁচামাল
৫১. উন্নত দেশ কোনটি গঠনে বিশেষ নজর দেয়? (অনুধাবন)  
ক উন্নত অবকাঠামো  খ উন্নত প্রযুক্তি  
● দক্ষ জনগোষ্ঠী  ঘ উন্নত পরিবহন
৫২. উন্নত দেশের শ্রমিকদের উৎপাদন ক্ষমতা বেশি হয় কেন? (অনুধাবন)  
ক শারীরিক গঠনের কারণে  খ উন্নত খাবারের কারণে  
গ নাতিশীতোষ্ণ জলবায়ুর কারণে  ঘ উন্নত কারিগরি জ্ঞানের কারণে
৫৩. উন্নত দেশ কোনটির কল্যাণে প্রকৃতিকে নিয়ন্ত্রণ করতে পারছে? (জ্ঞান)  
ক রাজনৈতিক স্থিতিশীলতা  ঘ কারিগরি জ্ঞান  
গ পর্যাপ্ত মূলধন  ঘ উন্নত পরিবহন ব্যবস্থা
৫৪. যুক্তরাষ্ট্র আটলান্টিক মহাসাগরের জলরাশিকে কাজে লাগিয়ে বিদ্যুৎ উৎপাদন করতে সক্ষম হয়। এ সফলতার জন্য কোনটির অবদান বেশি? (প্রয়োগ)  
ক রাজনৈতিক স্থিতিশীলতা  খ দক্ষ প্রশাসন

- কারিগরি জ্ঞান                      ঘ উদ্যোক্তার উপস্থিতি
৫৫. কীভাবে দক্ষ জনশক্তি তৈরি হয়?                      (অনুধাবন)  
 ● উন্নত শিক্ষা ব্যবস্থার মাধ্যমে                      খ রাজনীতির মাধ্যমে  
 গ জনসংখ্যাম বিদেশে পাঠিয়ে                      ঘ বেকারত্ব হ্রাস করে
৫৬. জার্মানিতে প্রতিবছর হাজার হাজার উদ্যোক্তা বিনিয়োগ করে। এর কারণ কী?                      (প্রয়োগ)  
 ক স্বল্প জনসংখ্যা                      খ উর্বর ভূমি  
 গ উপযুক্ত জলবায়ু                      ● রাজনৈতিক স্থিতিশীলতা
৫৭. কোনটি উন্নত আর্থসামাজিক অবস্থার বৈশিষ্ট্য?                      (অনুধাবন)  
 ক প্রাথমিক পণ্য উৎপাদনকারী দেশ  
 খ কৃষিভিত্তিক অর্থনীতি  
 ● উন্নত পরিবহন ও যোগাযোগ ব্যবস্থা  
 ঘ ঔপনিবেশিক ধরনের বাণিজ্য
৫৮. উন্নয়নশীল দেশে উন্নয়ন বাধাগ্রস্ত করে কোনটি?                      (জ্ঞান)  
 ক রাজনৈতিক অস্থিতিশীলতা                      খ ঔপনিবেশিক ধরনের বাণিজ্য  
 গ দারিদ্র্যের দুষ্চক্র                      ● কৃষিপণ্যের মূল্যের অস্থিতিশীলতা
৫৯. কোন মহাদেশের অধিকাংশ দেশ অনুন্নত?                      (জ্ঞান)  
 ক ইউরোপ                      খ ওশেনিয়া                      ● এশিয়া                      ঘ এন্টার্কটিকা
৬০. আফ্রিকার দেশগুলোতে কোন ধরনের অর্থনীতি বিরাজমান?                      (জ্ঞান)  
 ক উন্নত                      ● অনুন্নত                      গ শিল্পোন্নত                      ঘ উন্নয়নশীল
৬১. অনুন্নত দেশের অধিকাংশ মানুষ কোথায় বসবাস করে?                      (জ্ঞান)  
 ● গ্রামে                      খ শহরে                      গ বস্তিতে                      ঘ জঙ্গলে
৬২. অনুন্নত দেশের অধিকাংশ মানুষ প্রত্যক্ষ ও পরোক্ষভাবে কিসের সাথে জড়িত?                      (জ্ঞান)  
 ক কুটিরশিল্পের                      খ বাণিজ্যের                      গ শিল্পের                      ● কৃষির
৬৩. নিচের কোনটি অনুন্নত দেশের বৈশিষ্ট্য?                      (অনুধাবন)  
 ● কৃষিভিত্তিক অর্থনীতি                      খ দক্ষ জনশক্তি  
 গ কৃষির ওপর অনির্ভরশীল                      ঘ মূলধনের গঠন
৬৪. তাসিফের দেশ কৃষিপ্রধান হলেও কৃষিব্যবস্থা এখনও সনাতন। তার দেশটিতে কোন ধরনের অর্থনীতি বিরাজমান?                      (প্রয়োগ)  
 ক উন্নত                      ● অনুন্নত                      গ উন্নয়নশীল                      ঘ স্বল্পোন্নত
৬৫. কোন ধরনের অর্থনীতিতে ছদ্মবেশী বেকারত্ব দেখা যায়?                      (জ্ঞান)  
 ক উন্নত                      খ উন্নয়নশীল                      ● অনুন্নত                      ঘ শিল্পোন্নত
৬৬. কম আয় → কম সঞ্চয় → কম বিনিয়োগ → কম উৎপাদন → কম আয় → চক্রের ফলাফল কী?                      (উচ্চতর দক্ষতা)  
 ক উন্নয়নের গতি বৃদ্ধি পায়  
 ● উন্নয়নের গতি মছর থাকে  
 গ মাথাপিছু আয় বৃদ্ধি পায়  
 ঘ দেশের অর্থনীতি কৃষি থেকে শিল্পমুখী হয়



৬৭. কোন দেশে দারিদ্র্যের দৃষ্টচক্র সক্রিয়? (জ্ঞান)  
 ● অনুন্নত      খ উন্নয়নশীল      গ উন্নত      ঘ শিল্পোন্নত
৬৮. অনুন্নত দেশে উন্নয়নের গতি মধুর হওয়ার কারণ কী? (অনুধাবন)  
 ক জনসংখ্যাধিক্য      ● দারিদ্র্যের দৃষ্টচক্র  
 গ অদক্ষ প্রশাসন      ঘ অনুন্নত পরিবহন ব্যবস্থা
৬৯. অনুন্নত দেশের মানুষের মৌলিক অধিকারের অবস্থা সন্তোষজনক নয় কেন? (অনুধাবন)  
 ক প্রাকৃতিক দুর্যোগের কারণে      ● জনসংখ্যাধিক্যের কারণে  
 গ কৃষি নির্ভরতার কারণে      ঘ অনুন্নত যোগাযোগ ব্যবস্থার কারণে
৭০. অনুন্নত দেশগুলোর অর্থনীতি কিসের ওপর নির্ভরশীল? (জ্ঞান)  
 ক শিল্প      ● কৃষি  
 গ বাণিজ্য      ঘ প্রাকৃতিক সম্পদ
৭১. চ দেশের যোগাযোগ ও পরিবহন ব্যবস্থা সনাতনী। নিচের কোন চ মন্তব্যটি দেশের ক্ষেত্রে প্রযোজ্য? (প্রয়োগ)  
 ক এটি উন্নয়নশীল দেশ      খ এটি উন্নত দেশ  
 গ এটি স্বল্পোন্নত দেশ      ● এটি অনুন্নত দেশ
৭২. অনুন্নত দেশের উদ্যোক্তাগণ বিনিয়োগে উৎসাহী না হওয়ার কারণ কী? (অনুধাবন)  
 ক পর্যাপ্ত প্রাকৃতিক সম্পদ থাকায়  
 খ প্রচুর মূলধন পাওয়া যায় বলে  
 ● পরিবহন ও যোগাযোগ ব্যবস্থা অনুন্নত থাকায়  
 ঘ কারিগরি জ্ঞানসম্পন্ন শ্রমিক থাকায়
৭৩. প্রাথমিক পণ্য ও কাঁচামাল রপ্তানি করে কোন দেশ? (জ্ঞান)  
 ক উন্নত      ● অনুন্নত  
 গ উন্নয়নশীল      ঘ শিল্পোন্নত
৭৪. অনুন্নত দেশ কী ধরনের পণ্য আমদানি করে? (জ্ঞান)  
 ক প্রাথমিক      খ কৃষিজাত  
 গ কাঁচামাল জাতীয়      ● শিল্পজাত
৭৫. অনুন্নত দেশে আমদানি-রপ্তানি ক্ষেত্রে কোন তথ্যটি সঠিক? (প্রয়োগ)  
 ● আমদানি > রপ্তানি      খ আমদানি < রপ্তানি  
 গ আমদানি = রপ্তানি      ঘ আমদানি ২ রপ্তানি
৭৬. অর্থনৈতিক উন্নয়নের স্বার্থে বাংলাদেশ সরকার পদক্ষেপে করতে চাইলেও মূলধনের অভাবে তা সম্ভব হচ্ছে না। এ পরিস্থিতির কারণ কী? (প্রয়োগ)  
 ক কম বিনিয়োগ      খ কম উৎপাদন  
 ● কম সঞ্চয়      ঘ কম আয়
৭৭. উন্নয়নশীল দেশে কোনটি উৎপাদন ব্যবস্থাকে বাধাগ্রস্ত করে? (উচ্চতর দক্ষতা)  
 ● কৃষিপণ্যের মূল্যের অস্থিতিশীলতা      খ মাথাপিছু আয়  
 গ অধিক জনসংখ্যা      ঘ উদ্যোক্তা শ্রেণি
৭৮. উন্নয়নশীল দেশে মূলধন গঠনের অন্তরায় কোনটি? (অনুধাবন)

- ক নিম্ন মাথাপিছু আয় ● কম সঞ্চয়
- গ কম বিনিয়োগ ঘ কম মূলধন
৭৯. উন্নয়নশীল দেশ কী ধরনের পণ্য উৎপাদন করে? (জ্ঞান)
- ক কাঁচামাল ● প্রাথমিক গ শিল্পজাত ঘ মূলধনী
৮০. উন্নয়নশীল দেশে উৎপাদনব্যবস্থায় কী ধরনের উৎপাদন কৌশল ব্যবহার করা হয়? (অনুধাবন)
- শ্রম নিবিড় খ প্রকৃতি নির্ভর গ ভূমি নির্ভর ঘ যন্ত্র নির্ভর
৮১. উন্নয়নশীল দেশে বেশির ভাগ পণ্যসামগ্রী কোন উৎস হতে পাওয়া যায়? (জ্ঞান)
- কৃষি খ বাণিজ্য গ শিল্প ঘ পর্যটন
৮২. কোন ধরনের পণ্যের মূল্যের উত্থান-পতন বেশি হয়? (জ্ঞান)
- ক বিলাসজাত ● কৃষি গ শিল্প ঘ প্রযুক্তি
৮৩. উন্নয়নশীল দেশে বিনিয়োগ ঝুঁকিপূর্ণ কেন? (অনুধাবন)
- ক রাজনৈতিক অস্থিতিশীলতার জন্য
- খ অনুন্নত অর্থনৈতিক কাঠামোর জন্য
- পণ্যের মূল্যের উত্থান-পতনের জন্য
- ঘ জনসংখ্যাধিক্যের জন্য
৮৪. 'ক' দেশটি অর্থনৈতিকভাবে ক্রমশ উন্নতি করলেও অবকাঠামো উন্নয়নের জন্য এখনও বৈদেশিক সাহায্যের ওপর নির্ভরশীল। উক্ত দেশটিতে কী ধরনের অর্থনীতি বিরাজমান? (প্রয়োগ)
- উন্নয়নশীল খ উন্নত গ স্বল্পোন্নত ঘ অনুন্নত
৮৫. উন্নয়নশীল দেশের অবকাঠামোগত উন্নয়ন কিসের ওপর নির্ভরশীল? (জ্ঞান)
- ক কৃষির খ শিল্প উৎপাদনের
- গ বৈদেশিক বাণিজ্যের ● বৈদেশিক সাহায্যের
৮৬. কোন ধরনের দেশে প্রতি বছর বৈদেশিক বাণিজ্যে ঘাটতির সম্মুখীন হতে হয়? (জ্ঞান)
- ক উন্নত খ পুঁজিবাদী ● উন্নয়নশীল ঘ স্বল্পোন্নত

### বহুপদী সমাপ্তিসূচক বহুনির্বাচনি প্রশ্নোত্তর

৮৭. দক্ষ জনশক্তি তৈরি করার উপায় হলো— (উচ্চতর দক্ষতা)
- র. অধিক অর্থ ব্যয় করা
- রর. প্রশিক্ষণের ব্যবস্থা করা
- ররর. গবেষণার ক্ষেত্রে বৃদ্ধি করা
- নিচের কোনটি সঠিক?
- ক র ও রর খ র ও ররর ● রর ও ররর ঘ র, রর ও ররর
৮৮. অর্থনৈতিক উন্নয়নের জন্য কারিগরি জ্ঞান জরুরি। কারণ এটি— (উচ্চতর দক্ষতা)
- র. শ্রমিকদের কারিগরি জ্ঞান বৃদ্ধি করে
- রর. প্রকৃতিকে বেশি আনতে সাহায্য করে
- ররর. প্রাকৃতিক সম্পদের যথাযথ ব্যবহার নিশ্চিত করে
- নিচের কোনটি সঠিক?
- ক র ও রর খ র ও ররর গ রর ও ররর ● র, রর ও ররর

৮৯. পরিবহনব্যবস্থা উন্নত করার সুবিধা হলো— (উচ্চতর দক্ষতা)  
র. উৎপাদন ব্যয় হ্রাস পায়

রর. রাজনৈতিক স্থিতিশীলতা সম্ভব হয়

ররর. উৎপাদন বৃদ্ধি পায়

নিচের কোনটি সঠিক?

ক র ও রর  র ও ররর গ রর ও ররর ঘ র, রর ও ররর

৯০. অনুন্নত দেশে অর্থনৈতিক উন্নয়নের গতি মছুর হওয়ার কারণ হলো— (অনুধাবন)  
র. দারিদ্র্যের দুষ্টিচক্রের কার্যকারিতা

রর. অনুন্নত অবকাঠামো

ররর. কৃষির ওপর অতি নির্ভরশীলতা

নিচের কোনটি সঠিক?

ক র ও রর খ র ও ররর গ রর ও ররর  র, রর ও ররর

৯১. অনুন্নত দেশে পরিবহন ও যোগাযোগব্যবস্থা অনুন্নত থাকার ফলে— (উচ্চতর দক্ষতা)  
র. মালামাল স্থানান্তরে বিঘ্ন ঘটে

রর. অনুন্নত শিল্প কাঠামো

ররর. উৎপাদন ব্যয় বৃদ্ধি পায়

নিচের কোনটি সঠিক?

ক র ও রর  র ও ররর গ রর ও ররর ঘ র, রর ও ররর

৯২. প্রাকৃতিক সম্পদ থাকা সত্ত্বেও অনেক দেশ অনুন্নত থেকে যায়। কারণ— (অনুধাবন)  
র. পর্যাপ্ত মূলধনের অভাব

রর. প্রাকৃতিক সম্পদের অপূর্ণ ব্যবহার

ররর. দক্ষ জনগোষ্ঠীর অভাব

নিচের কোনটি সঠিক?

ক র ও রর খ র ও ররর গ রর ও ররর  র, রর ও ররর

৯৩. অনুন্নত দেশের বাণিজ্যে ভারসাম্যে প্রতিকূল অবস্থার কারণ হলো— (অনুধাবন)  
র. কাঁচামাল ও প্রাথমিক পণ্য স্বল্পমূল্যে রপ্তানি করা

রর. শিল্পজাত পণ্য অধিকমূল্যে আমদানি করা

ররর. বিলাসবহুল পণ্য আমদানি করা

নিচের কোনটি সঠিক?

র ও রর খ র ও ররর গ রর ও ররর ঘ র, রর ও ররর

৯৪. অনুন্নত দেশের বৈশিষ্ট্য হলো— (প্রয়োগ)  
র. সনাতন কৃষিব্যবস্থার ওপর নির্ভরশীলতা

রর. প্রাকৃতিক সম্পদের যথাযথ ব্যবহারের অভাব

ররর. অনুন্নত শিল্প কাঠামো বিদ্যমান

নিচের কোনটি সঠিক?

ক র ও রর      খ র ও ররর      গ রর ও ররর      ● র, রর ও ররর

৯৫. উন্নয়নশীল দেশের সমস্যা হলো— (প্রয়োগ)

র. কৃষিপণ্যের মূল্যের অস্থিতিশীলতা

রর. বৈদেশিক বাণিজ্য ঘাটতি

ররর. অনুন্নত যোগাযোগ ও পরিবহন ব্যবস্থা

নিচের কোনটি সঠিক?

ক র ও রর      খ র ও ররর      গ রর ও ররর      ● র, রর ও ররর

৯৬. মৌজাধিক অনুন্নত এবং বাংলাদেশ উন্নয়নশীল দেশ। উভয় দেশের মধ্যে সাদৃশ্য হলো— (প্রয়োগ)

র. অনুন্নত যোগাযোগ ও পরিবহন ব্যবস্থা

রর. জাতীয় আয়ে কৃষির বৃহৎ অবদান

ররর. কৃষিনির্ভর অর্থনীতি শিল্পনির্ভর অর্থনীতি হতে ধাবমান

নিচের কোনটি সঠিক?

● র ও রর      খ র ও ররর      গ রর ও ররর      ঘ র, রর ও ররর

৯৭. উন্নয়নশীল দেশের বৈশিষ্ট্য হলো— (প্রয়োগ)

র. বৈদেশিক বাণিজ্যে ঘাটতি

রর. অবকাঠামোগত উন্নয়নের বৈদেশিক নির্ভরশীলতা

ররর. কৃষিপণ্যের মূল্যের অস্থিতিশীলতা

নিচের কোনটি সঠিক?

ক র ও রর      খ র ও ররর      গ রর ও ররর      ● র, রর ও ররর

৯৮. উন্নত অর্থনীতির বৈশিষ্ট্য— (অনুধাবন)

র. রাজনৈতিক স্থিতিশীলতা

রর. জনসংখ্যা উচ্চ বৃদ্ধির হার

ররর. মূলধন এর পর্যাণ্ডতা

নিচের কোনটি সঠিক?

ক র ও রর      ● র ও ররর      গ রর ও ররর      ঘ র, রর ও ররর

৯৯. উন্নত দেশের উদ্যোক্তাগণ বিনিয়োগ ও উৎপাদনে এগিয়ে আসার কারণ হলো— (উচ্চতর দক্ষতা)

র. অধিক সম্ভা শ্রমিক

রর. রাজনৈতিক স্থিতিশীলতার পরিবেশ

ররর. অর্থনৈতিক স্থিতিশীলতার পরিবেশ

নিচের কোনটি সঠিক?

ক র ও রর      খ র ও ররর      ● রর ও ররর      ঘ র, রর ও ররর

১০০. যে মহাদেশের অধিকাংশ দেশ অনুন্নত- (অনুধাবন)  
র. ইউরোপ

রর. আফ্রিকা

ররর. এশিয়া

নিচের কোনটি সঠিক?

ক র ও রর      ● রর ও ররর      গ র ও ররর      ঘ র, রর ও ররর

১০১. অনুন্নত ও উন্নয়নশীল দেশের মধ্যে মিল হলো- (উচ্চতর দক্ষতা)  
র. জাতীয় আয়ে কৃষির অবদান

রর. অনুন্নত যোগাযোগ ও পরিবহন ব্যবস্থা

ররর. শিল্পে বিনিয়োগ

নিচের কোনটি সঠিক?

● র ও রর      খ র ও ররর      গ রর ও ররর      ঘ র, রর ও ররর

---

### অভিন্ন তথ্যভিত্তিক বহুনির্বাচনি প্রশ্নোত্তর

---

নিচের অনুচ্ছেদটি পড়ে ১০২ ও ১০৩ নং প্রশ্নের উত্তর দাও :

জার্মানির বার্ষিক জিডিপির পরিমাণ ২৭,৪১,৯০০ মিলিয়ন মার্কিন ডলার। দেশটিতে শিল্পায়নের ফলে বেকারত্বের হার কম এবং মাথাপিছু আয়ও বেশি।

১০২. অনুচ্ছেদে দেশটির অর্থনীতি কী ধরনের? (প্রয়োগ)

ক অনুন্নত      খ উন্নয়নশীল

গ স্বল্পোন্নত      ● উন্নত

১০৩. উক্ত দেশটিতে বিদ্যমান আছে- (উচ্চতর দক্ষতা)

র. রাজনৈতিক স্থিতিশীলতা

রর. উন্নত পরিবহন ও যোগাযোগ ব্যবস্থা

ররর. কারিগরি জ্ঞান সমৃদ্ধ দক্ষ জনগোষ্ঠী

নিচের কোনটি সঠিক?

ক র ও রর      খ র ও ররর

গ রর ও ররর      ● র, রর ও ররর

নিচের অনুচ্ছেদটি পড়ে ১০৪ ও ১০৫ নং প্রশ্নের উত্তর দাও :

ইগলুসির দেশের মাথাপিছু আয় কম। ফলে তাদের দেশের মানুষের সঞ্চয় কম এবং মূলধন গঠন করতে না পারায় বিনিয়োগের হারও কম। ফলশ্রুতিতে উৎপাদনও কম।

১০৪. ইগলুসির দেশে বিরাজমান পরিস্থিতিকে অর্থনীতির ভাষায় কী বলা হয়? (প্রয়োগ)

ক দারিদ্র্যের রাশিচক্র      ● দারিদ্র্যের দুষ্চক্র

গ উৎপাদনের দুষ্চক্র      ঘ অর্থনীতির দুষ্চক্র

১০৫. উক্ত পরিস্থিতি পরিবর্তনের জন্য প্রয়োজন- (উচ্চতর দক্ষতা)

র. প্রাকৃতিক সম্পদের যথাযথ ব্যবহার করা

১০৮. পরিবহনসহ অবকাঠামোর উন্নয়ন করা

১০৯. দক্ষ জনগোষ্ঠী তৈরি করা

নিচের কোনটি সঠিক?

ক র ও রর      খ র ও ররর      গ রর ও ররর      ● র, রর ও ররর

নিচের অনুচ্ছেদটি পড়ে ১০৬ ও ১০৭ নং প্রশ্নের উত্তর দাও :

নাবিলের দেশে পণ্য বিশেষ করে কৃষি পণ্যের দাম নিয়ে ভবিষ্যদ্বাণী করা খুব কঠিন। কারণে অকারণে এসব পণ্যের মূল্য উঠানামা করে।

১০৬. বৈশিষ্ট্য বিচারে নাবিলের দেশটি কী ধরনের দেশ? (প্রয়োগ)  
ক উন্নত      খ অনুন্নত      ● উন্নয়নশীল      ঘ শিল্পোন্নত

১০৭. অনুচ্ছেদে উল্লিখিত পরিস্থিতির ফলাফল হলো— (উচ্চতর দক্ষতা)  
র. উৎপাদন ব্যবস্থা বাধাগ্রস্ত হয়

১০৮. উদ্যোক্তারা বিনিয়োগে উৎসাহ হারিয়ে ফেলে

১০৯. উন্নয়নের বিভিন্ন স্তর তৈরি হয়

নিচের কোনটি সঠিক?

● র ও রর      খ র ও ররর      গ রর ও ররর      ঘ র, রর ও ররর

### ➔ ৯.৩ : বাংলাদেশের অর্থনৈতিক উন্নয়নের অন্তরায়সমূহ ➔

- বাংলাদেশের কৃষিতে— আধুনিক প্রযুক্তির ব্যবহার সীমিত।
- বাংলাদেশের জনগণের মাথাপিছু আয় কম হওয়ায়— সঞ্চয় ও মূলধন গঠনের হার তুলনামূলক কম।
- অর্থনৈতিক উন্নয়নের কেন্দ্রবিন্দু— উদ্যোক্তা।
- বাংলাদেশের অর্থনৈতিক উন্নয়নের পথে বড় বাধা— অতিরিক্ত জনসংখ্যা।
- অর্থনৈতিক উন্নয়নের পথে প্রধান অন্তরায়— দারিদ্র্যের দুস্তচক্র।
- রাজনৈতিক অস্থিতিশীলতা অর্থনৈতিক উন্নয়নের পথে— প্রধান অন্তরায়।
- বাংলাদেশের অর্থনীতি— বৈদেশিক বাণিজ্য ও সম্পর্কের ওপর নির্ভরশীল।

### সাধারণ বহুনির্বাচনি প্রশ্নোত্তর

১০৮. বাংলাদেশ কী ধরনের দেশ? (জ্ঞান)  
ক অনুন্নত      ● উন্নয়নশীল      গ স্বল্পোন্নত      ঘ উন্নত

১০৯. বাংলাদেশের অর্থনীতি কোনটির ওপর নির্ভরশীল? (জ্ঞান)  
● কৃষি      খ বাণিজ্য      গ পর্যটন      ঘ শিল্প

১১০. বাংলাদেশের কৃষিব্যবস্থা কেমন? (জ্ঞান)  
ক উন্নত      ● অনুন্নত      গ পরিকল্পিত      ঘ অপরিকল্পিত

১১১. বাংলাদেশে কোন পণ্যের মূল্য অস্থিতিশীল? (জ্ঞান)  
ক শিল্পজাত পণ্য      ● কৃষিপণ্য

গ ভোগ্য পণ্য      ঘ আমদানিকৃত পণ্য

১১২. বাংলাদেশে কৃষিপণ্যের মূল্য কিরূপ? (অনুধাবন)  
 ● অস্থিতিশীল ✕ উর্ধ্বগামী    গ নিম্নগামী    ঘ স্থির
১১৩. বাংলাদেশে মূলধন গঠনের পথে অন্তরায় কোনটি? (উচ্চতর দক্ষতা)  
 ক কম বিনিয়োগ ✕ কম ভোগ    ● কম সঞ্চয়    ঘ কর্ম প্রবৃদ্ধি
১১৪. অর্থনৈতিক উন্নয়নের কেন্দ্রবিন্দুতে থাকে কোনটি? (জ্ঞান)  
 ক ভূমি ✕ শ্রম    ● উদ্যোক্তা    ঘ মূলধন
১১৫. বাংলাদেশে প্রাপ্ত মূলধন উৎপাদন খাতে কম ব্যবহার হচ্ছে কেন? (অনুধাবন)  
 ক শিল্পে অনগ্রসরতার কারণে  
 ● দক্ষ ও অভিজ্ঞ উদ্যোক্তার অভাবের কারণে  
 গ রাজনৈতিক অস্থিতিশীলতার কারণে  
 ঘ বাজার দুর্বলতার কারণে
১১৬. বাংলাদেশে উদ্যোক্তার ঝুঁকি নিতে চায় না কেন? (অনুধাবন)  
 ক প্রয়োজনীয় ব্যাংক ঋণ না থাকার কারণে  
 ✕ দক্ষ শ্রমিক না থাকার কারণে  
 গ প্রয়োজনীয় প্রযুক্তি সহজলভ্য না হওয়ার কারণে  
 ● রাজনৈতিক স্থিতিশীলতা না থাকার কারণে
১১৭. বাংলাদেশে উদ্যোক্তা শ্রেণি এগিয়ে না আসার কারণ কী? (অনুধাবন)  
 ● বিনিয়োগবান্ধব পরিবেশের অভাব ✕ প্রয়োজনীয় মূলধনের অভাব  
 গ দক্ষ জনগোষ্ঠীর অভাব    ঘ উন্নত প্রযুক্তির অভাব
১১৮. বাংলাদেশের উন্নয়নের অন্যতম বাধা কোনটি? (উচ্চতর দক্ষতা)  
 ক দুর্নীতি ✕ প্রযুক্তি নির্ভরতা  
 গ উন্নত প্রশিক্ষণ    ● দারিদ্র্যের দুষ্চক্র
১১৯. ‘একটি দেশ গরিব কারণ সে দেশ দরিদ্র’ উক্তিটি কার? (জ্ঞান)  
 ক অ্যাডাম স্মিথ ✕ আলফ্রেড মার্শাল  
 গ রিকার্ডো    ● নার্কস
১২০. বাংলাদেশে দীর্ঘমেয়াদি উন্নয়ন পরিকল্পনা ব্যাহত হয় কেন? (অনুধাবন)  
 ক দারিদ্র্যের দুষ্চক্রের জন্য ✕ অধিক জনসংখ্যার জন্য  
 গ মূলধন না থাকার জন্য    ● রাজনৈতিক অস্থিতিশীলতার জন্য
১২১. রাজনৈতিক অস্থিতিশীলতা অধিকতর দেশি-বিদেশি বিনিয়োগের জন্য কী? (জ্ঞান)  
 ● প্রতিকূল ✕ অনুকূল    গ আশাব্যঞ্জক    ঘ সুবিধাজনক
১২২. বাংলাদেশের মতো উন্নয়নশীল দেশে সর্বত্র কোনটি বিরাজমান? (অনুধাবন)  
 ক বাণিজ্য ✕ দুর্বল বাজার কাঠামো  
 গ নির্ভরশীলতা    ঘ দক্ষ জনশক্তি
১২৩. কী কারণে উৎপাদকের কাছে বাজার দাম অলাভজনক হয়? (অনুধাবন)  
 ● সচেতনতার অভাবে ✕ তথ্য প্রযুক্তির প্রসারে  
 গ বৈদেশিক সাহায্যের অভাবে    ঘ বিক্রয়ের সাহায্যের অভাবে

১২৪. বাংলাদেশে কৃষির বৈশিষ্ট্য হলো— (প্রয়োগ)  
র. আধুনিক প্রযুক্তির সীমিত ব্যবহার
- রর. কৃষিপণ্যের অস্থিতিশীল মূল্য
- ররর. উন্নয়নের গতি মন্থর
- নিচের কোনটি সঠিক?
- ক র ও রর      খ র ও ররর      গ রর ও ররর      ● র, রর ও ররর
১২৫. বাংলাদেশের বাজার দাম উৎপাদনের জন্য লাভজনক না হওয়ার কারণ হলো— (অনুধাবন)  
র. সচেতনতার অভাব
- রর. যোগাযোগ ও পরিবহন ব্যবস্থার দুর্বলতা
- ররর. অর্থায়নের অভাব
- নিচের কোনটি সঠিক?
- ক র ও রর      খ র ও ররর      গ রর ও ররর      ● র, রর ও ররর
১২৬. বাংলাদেশে উৎপাদন ব্যবস্থায় উন্নত প্রযুক্তি প্রয়োগ করা যায় না। কারণ— (প্রয়োগ)  
র. আমদানিকৃত প্রযুক্তি ব্যয়বহুল
- রর. প্রযুক্তির ব্যবহার ঝুঁকিপূর্ণ
- ররর. সরকারি বিধি-নিষেধ
- নিচের কোনটি সঠিক?
- র ও রর      খ র ও ররর      গ রর ও ররর      ঘ র, রর ও ররর
১২৭. বাংলাদেশে উন্নতি লাভ করতে না পারার কারণ হলো— (অনুধাবন)  
র. কৃষির ওপর অতি নির্ভরশীলতা
- রর. রাজনৈতিক অস্থিতিশীলতা
- ররর. দারিদ্র্যের দুষ্চক্রের কার্যকারিতা
- নিচের কোনটি সঠিক?
- ক র ও রর      খ র ও ররর      গ রর ও ররর      ● র, রর ও ররর
১২৮. বাংলাদেশে রাজনৈতিক অস্থিতিশীলতার ফলাফল হলো— (উচ্চতর দক্ষতা)  
র. দীর্ঘমেয়াদি উন্নয়ন পরিকল্পনা ব্যাহত
- রর. কৃষির উপর নির্ভরশীলতা বৃদ্ধি
- ররর. উদ্যোক্তাদের অনুৎসাহ
- নিচের কোনটি সঠিক?
- ক র ও রর      ● র ও ররর      গ রর ও ররর      ঘ র, রর ও ররর
১২৯. দারিদ্র্যের দুষ্চক্র— (অনুধাবন)  
র. উৎপাদন কম
- রর. আয় কম
- ররর. বিনিয়োগ কম



নিচের কোনটি সঠিক?

ক র ও রর      খ র ও ররর      গ রর ও ররর      ● র, রর ও ররর

১৩০. বাংলাদেশে যে ধরনের উদ্যোক্তার অভাব রয়েছে— (অনুধাবন)  
র. দক্ষ ও অভিজ্ঞ

রর. বুদ্ধিবহনে আগ্রহী ও সক্ষম

ররর. কারিগরি জ্ঞানে অনগ্রহী

নিচের কোনটি সঠিক?

● র ও রর      খ র ও ররর      গ রর ও ররর      ঘ র, রর ও ররর

### অভিন্ন তথ্যভিত্তিক বহুনির্বাচনি প্রশ্নোত্তর

নিচের অনুচ্ছেদটি পড়ে ১৩১ ও ১৩২ নং প্রশ্নের উত্তর দাও :

দীর্ঘদিন ধরে আমেরিকাতে ব্যবসায় করছেন নাটোরের ছেলে আরিফ। ব্যবসায়ী হিসেবে তিনি সেখানে প্রশংসা কুড়িয়েছেন। এক আত্মীয় তাকে দেশে ফিরে কোনো উদ্যোগ নিতে বলে। কিন্তু নানা সমস্যার কারণে সাহস পান না।

১৩১. অনুচ্ছেদের আরিফ সাহেবের ভয় পাওয়ার কারণ হলো— (প্রয়োগ)  
র. বাংলাদেশের কৃষিপণ্যের অস্থিতিশীল মূল্য

রর. অর্থনৈতিক ও রাজনৈতিক অস্থিতিশীলতা

ররর. দারিদ্র্যের দুষ্টচক্রের উপস্থিতি

নিচের কোনটি সঠিক?

ক র ও রর      খ র ও ররর      গ রর ও ররর      ● র, রর ও ররর

১৩২. আরিফ সাহেবের মতো ব্যক্তির অবদান রাখতে পারে— (উচ্চতর দক্ষতা)  
র. দেশের মূলধনকে উৎপাদনশীল খাতে ব্যবহার করতে

রর. রাজনৈতিক স্থিতিশীলতা আনয়ন করতে

ররর. দেশের বৃহৎ জনগোষ্ঠীকে কাজে লাগাতে

নিচের কোনটি সঠিক?

ক র ও রর      ● র ও ররর      গ রর ও ররর      ঘ র, রর ও ররর

### ➔ ৯.৪ : বেসরকারি সংস্থার উন্নয়ন কার্যক্রম

- ১৯৭২ সালে প্রতিষ্ঠিত বাংলাদেশের সর্ববৃহৎ বেসরকারি ক্ষুদ্রঋণদানকারী সংস্থা হলো— প্র্যাক।
- ঘএঙ-এর পূর্ণরূপ— ঘড়হ-এড়াবৎহসবহঙ ঙৎমধহরুধরুড়হ.
- স্বনির্ভর বাংলাদেশ প্রতিষ্ঠিত হয়— ১৯৭৫ সালে।
- ১৯৭৫ সালে ঢাকা ও কুমিল্লা জেলায় কাজ শুরু করে— প্রশিকা।
- আশা প্রতিষ্ঠিত হয়— ১৯৯২ সালে।

- বাংলাদেশে নারী উন্নয়নের বড় সংগঠন— ঠেঙ্গামারা মহিলা সবুজ সংঘ (টিএমএসএ)।
- বড় বড় শহরের বস্তির দুচ্ছ মহিলাদের ঝাণ দেয়— ১৯৯২ সালে প্রতিষ্ঠিত শক্তি ফাউন্ডেশন।

### সাধারণ বহুনির্বাচনি প্রশ্নোত্তর

১৩৩. কোন সংস্থার মাধ্যমে সরকার দারিদ্র্য দূরীকরণে বিভিন্ন কর্মসূচি বাস্তবায়ন করেছে? (অনুধাবন)
- ক স্বনির্ভর বাংলাদেশ ● পল্লী কর্মসহায়ক ফাউন্ডেশন
- গ ব্যুরো বাংলাদেশ ঘ শক্তি ফাউন্ডেশন
১৩৪. ষএঙ-এর পূর্ণরূপ কোনটি? (জ্ঞান)
- ক ঘবি এড়াবহসবহঃ উৎমধহরুধগরডহ
- ঘডহ এড়াবহসবহঃ উৎমধহরুধগরডহ
- গ ঘবঃ এড়াবহসবহঃ উৎমধহরুধগরডহ
- ঘ ঘধগরডহঘবি এড়াবহসবহঃ উৎমধহরুধগরডহ
১৩৫. কখন বেসরকারি সংস্থাসমূহের কার্যক্রম আরও ব্যাপ্তি ও গতি লাভ করে? (অনুধাবন)
- ক যুদ্ধের সময় ● প্রাকৃতিক দুর্ঘোগের সময়
- গ উন্নয়নের সময় ঘ অর্থনৈতিক মন্দার সময়
১৩৬. বাংলাদেশে দারিদ্র্য দূরীকরণে এনজিওসমূহ কী করে? (প্রয়োগ)
- ক খাদ্য বিতরণ করে খ কাবিখা প্রকল্প পরিচালনা করে
- ক্ষুদ্র ঝাণ বিতরণ করে ঘ অর্থ সাহায্য করে
১৩৭. বাংলাদেশের সর্ববৃহৎ এনজিও কোনটি? (জ্ঞান)
- ক গ্রামীণ ব্যাংক ● ব্র্যাক
- গ স্বনির্ভর বাংলাদেশ ঘ আশা
১৩৮. ব্র্যাক কত সালে প্রতিষ্ঠিত হয়? (জ্ঞান)
- ক ১৯৭১ ● ১৯৭২ গ ১৯৮৩ ঘ ১৯৮০
১৩৯. ব্র্যাকের টার্গেট গ্রুপ কারা? (জ্ঞান)
- ক বস্তিবাসীরা খ পঙ্গুরা ● মহিলারা ঘ বেকার যুবকরা
১৪০. ব্র্যাক কতটি গ্রামে কাজ করে? (জ্ঞান)
- ক ৫০ হাজার খ ৫৫ হাজার ● ৭০ হাজার ঘ ৭৫ হাজার
১৪১. ব্র্যাক কতটি বস্তিতে কাজ করে? (জ্ঞান)
- ক ১০০০ ● ২০০০ গ ৩০০০ ঘ ৪০০০
১৪২. স্বনির্ভর বাংলাদেশ কত সালে আত্মপ্রকাশ করে? (জ্ঞান)
- ক ১৯৭২ ● ১৯৭৫ গ ১৯৮৩ ঘ ১৯৮৬
১৪৩. কত সাল হতে স্বনির্ভর বাংলাদেশ বেসরকারি সমাজ উন্নয়নমূলক সংস্থা হিসেবে কাজ শুরু করে? (জ্ঞান)
- ক ১৯৭৫ খ ১৯৮০ ● ১৯৮৫ ঘ ১৯৯০
১৪৪. স্বনির্ভর বাংলাদেশের ১৬৮৯ কোটি টাকা ঝাণ বিতরণের উদ্দেশ্য কী?
- ক প্রাকৃতিক দুর্ঘোগ মোকাবিলা করা ● আত্মকর্মসংস্থান সৃষ্টি করা

গ মহিলাদের ক্ষমতায়ন করা      ঘ শিক্ষার হার বৃদ্ধি করা

১৪৫. প্রশিকা কত সালে কাজ শুরু করে? (জ্ঞান)  
ক ১৯৭১      খ ১৯৭৩      ● ১৯৭৫      ঘ ১৯৮০

১৪৬. প্রাথমিকভাবে ঢাকা ও কুমিল্লা জেলায় কাজ শুরু করে কোন সংস্থা? (জ্ঞান)  
ক ব্র্যাক      খ গ্রামীণ ব্যাংক      ● প্রশিকা      ঘ আশা

১৪৭. টেকসই অর্থনৈতিক উন্নয়নের লক্ষ্যে কাজ করে কোন সংস্থা? (উচ্চতর দক্ষতা)  
ক আশা      খ টিএমএসএস      গ ব্র্যাক      ● প্রশিকা

১৪৮. জয়নাল মিয়া মৌমাছি পালনের জন্য প্রয়োজনীয় ঋণ খুঁজছে। তিনি কোন সংস্থা হতে ঋণ নিতে পারবেন? (প্রয়োগ)  
ক শক্তি ফাউন্ডেশন      খ টিএমএসএস  
গ এসএসএস      ● প্রশিকা

১৪৯. প্রশিকা কোন খাতে ক্ষুদ্রঋণ প্রদান করে আত্মকর্মসংস্থানের ব্যবস্থা করে? (জ্ঞান)  
ক নারী উন্নয়ন      ● ক্ষুদ্র ব্যবসা  
গ প্রাথমিক শিক্ষা      ঘ স্বাস্থ্য পরিচর্যা

১৫০. আশা কত সাল থেকে ক্ষুদ্র ঋণ কর্মসূচি পরিচালনা করে আসছে? (জ্ঞান)  
ক ১৯৭১      খ ১৯৭৫      গ ১৯৮৩      ● ১৯৯২

১৫১. আশিক সাহেবের কর্মরত এনজিওটি বর্তমানে আত্মনির্ভর দ্রুত বর্ধমান, সর্ববৃহৎ ক্ষুদ্র ঋণদানকারী সংস্থা হিসেবে বিশ্বে প্রতিষ্ঠা পেয়েছে। তিনি কোন সংস্থায় কর্মরত আছেন। (প্রয়োগ)  
● আশা      খ ব্র্যাক      গ গ্রামীণ ব্যাংক      ঘ এসএসএস

১৫২. সর্বনিম্ন ব্যয়ে ক্ষুদ্রঋণ কর্মসূচি বাস্তবায়ন ও সম্প্রসারণকারী সংস্থা কোনটি? (জ্ঞান)  
ক ব্র্যাক      খ প্রশিকা  
● আশা      ঘ ব্যুরো বাংলাদেশ

১৫৩. বড় বড় শহরের বস্তির দুই মহিলাদের নিয়ে কাজ করে কোন সংস্থা? (জ্ঞান)  
ক আশা      খ ব্র্যাক  
গ টিএমএসএস      ● শক্তি ফাউন্ডেশন

১৫৪. শক্তি ফাউন্ডেশন কত সালে প্রতিষ্ঠিত হয়? (জ্ঞান)  
ক ১৯৭২      খ ১৯৭৫      গ ১৯৮৬      ● ১৯৯২

১৫৫. কোন সংস্থা মহিলাদের স্বাস্থ্য, ব্যবসা ও সামাজিক উন্নয়নে কাজ করে? (জ্ঞান)  
ক আশা      খ ব্র্যাক  
● শক্তি ফাউন্ডেশন      ঘ এসএসএস

১৫৬. সমাজের বঞ্চিত ও অত্যাচারিত মহিলারা কোন সংগঠনের সদস্য? (জ্ঞান)  
ক প্রশিকা      খ আশা  
● ঠেসামারা মহিলা সমাজসংঘ      ঘ ব্র্যাক

১৫৭. টিএমএসএস কত সাল থেকে কাজ করে আসছে? (জ্ঞান)  
ক ১৯৭৫      ● ১৯৮০      গ ১৯৮৫      ঘ ১৯৯২

১৫৮. বিধবা জমেলা বেগমের পৈতৃক সূত্রে প্রাপ্ত জমির পরিমাণ হলো ০.৩ একর। কোন সংস্থা হতে তিনি ঋণ পেতে পারেন? (প্রয়োগ)  
● টিএমএসএস      খ ব্যুরো বাংলাদেশ  
গ আশা      ঘ প্রশিকা

১৫৯. কত একর পর্ষষ্ঠ জমির মালিকরা টিএমএসএসের সদস্য হতে পারে? (জ্ঞান)  
ক ০.২      খ ০.৩      গ ০.৪      ● ০.৫

১৬০. টেকসই সামাজিক উন্নয়ন সাধনের লক্ষ্যে কাজ করে কোন সংস্থা? (প্রয়োগ)

ক আশা খ প্রশিকা

● এসএসএস ঘ টিএমএসএস

১৬১. কত সালে সোসাইটি ফর সোসাল সার্ভিসেস আত্মপ্রকাশ করে? (জ্ঞান)  
ক ১৯৮২ ● ১৯৮৬ গ ১৯৯০ ঘ ১৯৯৪

১৬২. ব্যুরো বাংলাদেশ কতটি জেলায় কাজ করে? (জ্ঞান)  
ক ৩৬ ● ৪২ গ ৫২ ঘ ৬২

১৬৩. দরিদ্র জনগোষ্ঠীর দারিদ্র্য বিমোচনের লক্ষ্যে ব্যুরো বাংলাদেশ কতটি গ্রামে কাজ করছে? (জ্ঞান)  
ক ১১৪৯ খ ৪৪৯৫ ● ৯০২৬ ঘ ৭০,০০০

### বহুপদী সমাঙ্গিসূচক বহুনির্বাচনি প্রশ্নোত্তর

১৬৪. ব্যাকের উদ্দেশ্য হলো— (উচ্চতর দক্ষতা)  
র. দারিদ্র্য বিমোচন করা

রর. সামাজিক উন্নয়ন করা

ররর. দরিদ্রের ক্ষমতায়ন করা

নিচের কোনটি সঠিক?

ক র ও রর খ র ও ররর গ রর ও ররর ● র, রর ও ররর

১৬৫. স্বনির্ভর বাংলাদেশ কাজ করে— (প্রয়োগ)  
র. তৃণমূল জনগোষ্ঠীর আর্থসামাজিক উন্নয়নে

রর. দুস্থ মহিলাদের উন্নয়নে

ররর. আত্মকর্মসংস্থান সৃষ্টি করতে

নিচের কোনটি সঠিক?

ক র ও রর ● র ও ররর গ রর ও ররর ঘ র, রর ও ররর

১৬৬. শক্তি ফাউন্ডেশনের কর্ম পরিধি হলো— (অনুধাবন)  
র. বড় বড় শহরের বেকারদের ঋণ প্রদান করা

রর. বড় বড় শহরের দুস্থ মহিলাদের ঋণপ্রদান করা

ররর. বড় বড় শহরের স্বাস্থ্য ও সামাজিক উন্নয়ন করা

নিচের কোনটি সঠিক?

ক র ও রর খ র ও ররর ● রর ও ররর ঘ র, রর ও ররর

১৬৭. এসএসএস টেকসই সামাজিক উন্নয়নের লক্ষ্যে— (উচ্চতর দক্ষতা)  
র. অধিকার বঞ্চিতদের দারিদ্র্য বিমোচনে কাজ করে

রর. অবহেলিতদের অধিকার আদায়ে সচেতনতা সৃষ্টি করে

ররর. দরিদ্রদের শিক্ষা ও স্বাস্থ্য সম্পর্কে পরামর্শ দেয়

নিচের কোনটি সঠিক?

ক র ও রর খ র ও ররর গ রর ও ররর ● র, রর ও ররর

১৬৮. ব্যুরো বাংলাদেশ দারিদ্র্য বিমোচনের জন্য যেসব কাজ করে তা হলো— (অনুধাবন)  
র. টেকসই গ্রামীণ সঞ্চয় কর্মসূচি পরিচালনা

১৬৮. বেকার যুবকদের প্রশিক্ষণ প্রদান

১৬৯. ঋণ কর্মসূচি বাস্তবায়ন

নিচের কোনটি সঠিক?

ক র ও রর  র ও ররর গ রর ও ররর ঘ র, রর ও ররর

১৬৯. প্রশিকা প্রথম কাজ শুরু করে- (অনুধাবন)

১৭০. র. ঢাকা

১৭১. র. কুমিল্লা

১৭২. র. বরিশাল

নিচের কোনটি সঠিক?

র ও রর খ র ও ররর গ রর ও ররর ঘ র, রর ও ররর

১৭০. প্রশিকা ঋণ সহায়তা প্রদান করে- (অনুধাবন)

১৭১. র. মানুষের আয়ের ব্যবস্থা করার জন্য

১৭২. র. মানুষের কর্মসংস্থান ব্যবস্থা করার জন্য

১৭৩. র. মহিলাদের অধিকার আদায়ের জন্য

নিচের কোনটি সঠিক?

র ও রর খ র ও ররর গ রর ও ররর ঘ র, রর ও ররর

১৭১. ব্যুরো বাংলাদেশের কাজ হলো- (অনুধাবন)

১৭২. র. ঋণ কর্মসূচি

১৭৩. র. নারী উন্নয়ন

১৭৪. র. পরিবার পরিকল্পনা

নিচের কোনটি সঠিক?

ক র ও রর খ র ও ররর গ রর ও ররর  র, রর ও ররর

### অভিন্ন তথ্যভিত্তিক বহুনির্বাচনি প্রশ্নোত্তর

নিচের অনুচ্ছেদটি পড়ে ১৭২ ও ১৭৩ নং প্রশ্নের উত্তর দাও :

মর্জিনা বেগম সুনামিতে স্বামী-সন্তান হারিয়ে ঢাকা শহরে এসে বস্তিতে বাস করেন। ভিক্ষা করে যা পান তা দিয়ে কোনোমতে এক ভতিজিকে নিয়ে দিনাতিপাত করেন। তিনি একটি দোকান দেওয়ার পরিকল্পনা করছেন।

১৭২. মর্জিনা বেগমের মতো মহিলাদের নিয়ে কাজ করে কোন সংস্থা? (প্রয়োগ)

ক আশা

খ ব্র্যাক

শক্তি ফাউন্ডেশন

ঘ এসএসএস

১৭৩. উক্ত সংস্থার কাজ হলো- (উচ্চতর দক্ষতা)

১৭৪. র. ঋণ দান করা

১৭৫. র. সামাজিক উন্নয়ন করা

১৭৬. র. স্বাস্থ্য ও ব্যবসার উন্নয়ন করা

নিচের কোনটি সঠিক?

ক র ও রর খ র ও ররর গ রর ও ররর  র, রর ও ররর



ক ৩ খ ৪ ● ৫ ঘ ৬

১৮৫. কাবিখা (কাজের বিনিময়ে খাদ্য) কর্মসূচি কোন মন্ত্রণালয়ের দ্বারা পরিচালিত হয়। (জ্ঞান)

● খাদ্য ও দুর্যোগ ব্যবস্থাপনা খ সমাজকল্যাণ

গ স্বরাষ্ট্র ঘ শ্রমকল্যাণ

১৮৬. কোন মন্ত্রণালয়ের অধীনে ভিজিডি কর্মসূচি পরিচালিত হয়? (জ্ঞান)

ক খাদ্য ও দুর্যোগ ব্যবস্থাপনা ● মহিলা ও শিশু বিষয়ক

গ সমাজকল্যাণ ঘ স্থানীয় সরকার

১৮৭. ভিজিএফ কর্মসূচি কোন মন্ত্রণালয় পরিচালনা করে? (জ্ঞান)

ক মহিলা ও শিশু বিষয়ক খ সমবায়

গ সমাজকল্যাণ ● খাদ্য ও দুর্যোগ ব্যবস্থাপনা

### বহুপদী সমাপ্তিসূচক বহুনির্বাচনি প্রশ্নোত্তর

১৮৮. দারিদ্র্যের ফলাফল হলো— (উচ্চতর দক্ষতা)

র. পরনির্ভরশীল করে তোলে

রর. মানবীয় গুণাবলির বিকাশ করে

ররর. উন্নয়নের ভিত্তিকে দুর্বল করে

নিচের কোনটি সঠিক?

ক র ও রর ● র ও ররর গ রর ও ররর ঘ র, রর ও ররর

১৮৯. বাংলাদেশকে দারিদ্র্যের দেশ বলা যায়। কারণ— (অনুধাবন)

র. জনগোষ্ঠীর বৃহৎ অংশ দারিদ্র্যসীমার নিচে বাস করে

রর. গণদারিদ্র্য গোষ্ঠীর অস্তিত্ব আছে

ররর. কৃষির ওপর নির্ভরশীল

নিচের কোনটি সঠিক?

● র ও রর খ র ও ররর গ রর ও ররর ঘ র, রর ও ররর

১৯০. বাংলাদেশের বিভিন্ন মন্ত্রণালয় কর্মসূচি হাতে নিয়েছে— (প্রয়োগ)

র. দরিদ্রদের ধনী করার জন্য

রর. সামাজিক সুরক্ষা তৈরির জন্য

ররর. সামাজিক ক্ষমতায়নের জন্য

নিচের কোনটি সঠিক?

ক র ও রর খ র ও ররর ● রর ও ররর ঘ র, রর ও ররর

১৯১. মুক্তিযুদ্ধ বিষয়ক মন্ত্রণালয় কর্তৃক মাঠ পর্যায়ে ক্ষুদ্র ঋণ কার্যক্রম পরিচালনার উদ্দেশ্য হলো— (উচ্চতর দক্ষতা)

র. মুক্তিযোদ্ধাদের কর্মসংস্থান করা

রর. মুক্তিযোদ্ধাদের জীবনযাত্রার মান উন্নয়ন করা

ররর. মুক্তিযোদ্ধাদের পোষ্যদের প্রশিক্ষণ প্রদান করা

নিচের কোনটি সঠিক?

ক র ও রর খ র ও ররর গ রর ও ররর ● র, রর ও ররর

১৯২. সমবায় অধিদপ্তর সমবায় গঠন করে— (অনুধাবন)

র. পেশাজীবীদের স্বাবলম্বী করার জন্য

রর. দারিদ্র্য বিমোচনের জন্য

ররর. ভিজিডি প্রোগ্রাম পরিচালনার জন্য

নিচের কোনটি সঠিক?

ক র ও রর      খ র ও ররর      গ রর ও ররর      ● র, রর ও ররর

১৯৩. পিডিবিএফ-এর উদ্দেশ্য হলো— (উচ্চতর দক্ষতা)

র. সুবিধাবঞ্চিত জনগোষ্ঠীকে সংগঠিত করা

রর. নেতৃত্ব বিকাশ সাধন করা

ররর. নারীর ক্ষমতায়ন করা

নিচের কোনটি সঠিক?

ক র ও রর      খ র ও ররর      গ রর ও ররর      ● র, রর ও ররর

১৯৪. দারিদ্র্য বিমোচনে মৎস্য খাতে গৃহিত কর্মসূচি হলো— (প্রয়োগ)

র. রেণু ও পোনা উৎপাদন করা

রর. মৎস্য অভয়াশ্রম নির্মাণ করা

ররর. মৎস্য গবেষণা কার্যক্রম চালু করা

নিচের কোনটি সঠিক?

ক র ও রর      খ র ও ররর      গ রর ও ররর      ● র, রর ও ররর

---

### অভিন্ন তথ্যভিত্তিক বহুনির্বাচনি প্রশ্নোত্তর

---

নিচের অনুচ্ছেদটি পড়ে ১৯৫, ১৯৬ ও ১৯৭ নং প্রশ্নের উত্তর দাও :

হিরার দাদা একজন মুক্তিযোদ্ধা ছিলেন। তিনি বর্তমানে মানবেতর জীবনযাপন করছেন। তার সংসারে তার বৃদ্ধ বাবা-মা, স্ত্রী এবং তিন সন্তান রয়েছে। হিরার দাদা সরকার হতে মাসিক ৫০০০ টাকা এবং দাদি মাসিক ৩,০০০ টাকা হারে ভাতা পান।

১৯৫. হিরার দাদা কীসের জন্যে ভাতা পান? (অনুধাবন)

ক বয়স্ক ভাতা      ● মুক্তিযোদ্ধা সম্মানী ভাতা

গ প্রতিবন্ধী ভাতা      ঘ বিধবা ভাতা

১৯৬. হিরার দাদিকে সরকার কেন ভাতা প্রদান করে? (প্রয়োগ)

ক মুক্তিযোদ্ধা হিসেবে      ● বয়স্ক ব্যক্তি হিসেবে

গ শিশু বলে      ঘ প্রতিবন্ধী হিসেবে

১৯৭. সরকার দরিদ্রতা নিরসনে কোন ধরনের কার্যক্রম গ্রহণ করেছে? (উচ্চতর দক্ষতা)

র. নগদ অর্থ সহায়তা প্রদান কার্যক্রম

রর. খাদ্য নিরাপত্তা কার্যক্রম

ররর. ভিজিডি

নিচের কোনটি সঠিক?

ক র      খ রর      গ র ও রর      ● র, রর ও ররর

নিচের অনুচ্ছেদটি পড়ে ১৯৮ ও ১৯৯ নং প্রশ্নের উত্তর দাও :



উন্নয়নশীল দেশগুলো তাদের অর্থনৈতিক প্রবৃদ্ধি নিশ্চিতকরণের মাধ্যমে দারিদ্র্য নিরসনের লক্ষ্যে জাতিসংঘ ঘোষিত মিলেনিয়াম উন্নয়নের সাথে একমত পোষণ করেছে। এজন্য বাংলাদেশ সরকার দারিদ্র্য বিমোচন কৌশল কর্মসূচি (চজঝচ) বাস্তবায়নের খসড়া তৈরি করেছে। বাংলাদেশের সরকার এটা বাস্তবায়নের জন্য জাতীয় পরিকল্পনার চারটি বিষয়ের ওপর জোর দিয়েছে।

১৯৮. এদেশে দারিদ্র্য নিরসনের কাজ করছে— (প্রয়োগ)

র. বাংলাদেশ সরকার রর. এনজিও

ররর. জাতিসংঘ

নিচের কোনটি সঠিক?

● র ও রর খ র ও ররর গ রর ও ররর ঘ র, রর ও ররর

১৯৯. বাংলাদেশে দারিদ্র্য বিমোচন কৌশল কর্মসূচি (চজঝচ) বাস্তবায়নে জাতিসংঘ সাহায্য করার কারণ কী? (উচ্চতর দক্ষতা)

ক উন্নত দেশ আরও উন্নত হবে

● অনুন্নত দেশ উন্নত হবে

গ উন্নত ও অনুন্নত দেশের মধ্যে বাণিজ্যে প্রসার ঘটবে

ঘ উন্নত দেশ সাহায্য করবে

➔ ৯.৬ : বেকারত্ব ■ প্রচলিত মজুরিতে কাজ করতে ইচ্ছুক কি

- বেকারত্বের প্রকৃতি – তিন ধরনের।
- পেশা পরিবর্তনের ফলে সৃষ্টি হয়— সাময়িক বেকারত্ব।
- বেকার সমস্যা সমাধান করতে প্রয়োজন— কৃষি ও অকৃষিখাতের উন্নয়ন।
- গ্রামীণ অর্ধশিক্ষিত বেকারদের— ভোকেশনাল ট্রেনিং দিতে হবে।

### সাধারণ বহুনির্বাচনি প্রশ্নোত্তর

২০০. বাংলাদেশে কয় ধরনের বেকার দেখা যায়? (জ্ঞান)
- ৩ খ ৪ গ ৫ ঘ ৬
২০১. আমন ধান বপনের পর আমনের হাতে কোনো কাজ নেই। তাকে কী বলা যায়? (প্রয়োগ)
- মৌসুমি বেকার খ প্রচ্ছন্ন বেকার
- গ স্থায়ী বেকার ঘ সাময়িক বেকার
২০২. একজন বেকারের মধ্যে কয়টি বৈশিষ্ট্য থাকে? (জ্ঞান)
- ক ২ খ ৩ ● ৪ ঘ ৫
২০৩. কোন খাতে ছদ্মবেশী বেকারত্ব দেখা যায়? (জ্ঞান)
- ক শিল্প খ পর্যটন গ বাণিজ্য ● কৃষি
২০৪. রহমান মোল্লা একাই তার জমি চাষাবাদ করতে পারলেও তার দুই ভাইও তার সাথে মাঠে কাজ করে। তার দুই ভাইকে কী বলা যায়? (প্রয়োগ)
- ক মৌসুমি বেকার খ স্থায়ী বেকার
- গ সাময়িক বেকার ● প্রচ্ছন্ন বেকার
২০৫. কোন বেকারদের আপাতদৃষ্টিতে বেকার মনে হয় না? (জ্ঞান)
- ক মৌসুমি বেকার ● প্রচ্ছন্ন বেকার
- গ স্থায়ী বেকার ঘ নারী বেকার
২০৬. পেশা পরিবর্তনের কারণে যে বেকারত্ব তৈরি হয় তাকে কী বলা হয়? (জ্ঞান)
- ক ছদ্মবেশী খ মৌসুমি ● সাময়িক ঘ প্রচ্ছন্ন

২০৭. অনুন্নত দেশে কৃষি ব্যবস্থায় কোন বেকারত্ব বিদ্যমান? (জ্ঞান)  
ক স্থায়ী ● ছদ্মবেশী গ নারী ঘ বয়স্ক
২০৮. কৃষিখাতে ছদ্মবেশী বেকারত্ব দূর করার উপায় কী? (উচ্চতর দক্ষতা)  
ক কৃষি উৎপাদন বৃদ্ধি করা  
খ বেশি মূলধন বিনিয়োগ করা  
● শিল্পখাতে কৃষিখাতের চেয়ে অধিক মজুরি প্রদান করা  
ঘ কঠোর আইন প্রণয়ন ও বাস্তবায়ন করা
২০৯. কৃষিখাত থেকে কাদেরকে শিল্পখাতে স্থানান্তর করা দরকার? (অনুধাবন)  
ক অদক্ষদের ● বয়স্কদের  
গ ভূমিহীনদের ● উদ্বৃত্ত বেকারদের
২১০. উন্নয়নশীল দেশে বেকারত্ব নিরসনে প্রথম কোনটি জরুরি (উচ্চতর দক্ষতা)  
ক কৃষিতে অধিক বিনিয়োগ ● কৃষির যান্ত্রিকীকরণ  
● শিল্পোন্নয়ন ঘ নগরায়ন
২১১. শ্রমিকদের প্রান্তিক উৎপাদনশীলতা কীভাবে বৃদ্ধি করা যায়? (উচ্চতর দক্ষতা)  
● যান্ত্রিক কৌশলগত উন্নয়নের মাধ্যমে  
খ উন্নত পরিবেশ প্রদানের মাধ্যমে  
গ বেতন বৃদ্ধির মাধ্যমে  
ঘ উন্নত আবাসিক সুবিধার মাধ্যমে
২১২. একটি দেশের কী বৃদ্ধি পেলে শ্রমিক নিয়োগ বৃদ্ধি পায়? (অনুধাবন)  
ক জনসংখ্যা ● আয়  
গ মুনাফা ● প্রান্তিক উৎপাদনশীলতা
২১৩. গ্রামীণ বেকারত্ব দূর করার সহজ উপায় কী? (উচ্চতর দক্ষতা)  
ক বহু শিল্প কারখানা প্রতিষ্ঠা করা ● বেকারদের শহরে স্থানান্তর করা  
গ ক্ষুদ্র ঋণ সরবরাহ করা ● কৃষিভিত্তিক ক্ষুদ্রশিল্প প্রতিষ্ঠা করা
২১৪. বাংলাদেশের কৃষিক্ষেত্রের মৌসুমি বেকারত্ব দূর করার উপায় কী? (উচ্চতর দক্ষতা)  
ক মূলধন বিনিয়োগ করা  
খ কৃষিতে আধুনিক যন্ত্রপাতির ব্যবহার বৃদ্ধি করা  
গ সামাজিক কর্মসূচি পরিচালনা করা  
● কৃষি জমিতে বহু ফসল উৎপাদনের ব্যবস্থা করা
২১৫. উন্নয়নশীল দেশের বেকার সমস্যা সমাধানের জন্য কোন শিক্ষার সম্প্রসারণ করতে হবে? (প্রয়োগ)  
ক বাণিজ্য ● বিজ্ঞান ● কারিগরি ঘ তত্ত্বনির্ভর
২১৬. জ্যোত্স্নার সাহেব গ্রামে হারানো ক্ষুদ্র ও কুটির শিল্প পুনরুদ্ধারের চেষ্টা করছেন। তাঁর চেষ্টা সফল হলে গ্রামটিতে কী পরিবর্তন আসবে? (প্রয়োগ)  
ক সবাই ধনী হবে ● জনসংখ্যা হ্রাস পাবে  
গ রাজনৈতিক স্থিতিশীলতা আসবে ● বেকারত্ব হ্রাস পাবে

---

**বহুপদী সমাপ্তিসূচক বহুনির্বাচনি প্রশ্নোত্তর**

---

২১৭. একজন বেকারের বৈশিষ্ট্য হলো—

(প্রয়োগ)

র. মজুরিভিত্তিক কোনো কাজ না পাওয়া

রর. আয়-উপার্জন থেকে বঞ্চিত থাকা

ররর. আর্থিক ও মানসিক যন্ত্রণায় ভোগা

নিচের কোনটি সঠিক?

ক র ও রর      খ র ও ররর      গ রর ও ররর      ● র, রর ও ররর

২১৮. একজন প্রচ্ছন্ন বা ছদ্মবেশী বেকারের বৈশিষ্ট্য হলো— (উচ্চতর দক্ষতা)

র. তার প্রান্তিক উৎপাদনশীলতা শূন্য

রর. আপাত দৃষ্টিতে বেকার নয়

ররর. বছরের দুই-তৃতীয়াংশ সময় বেকার থাকে

নিচের কোনটি সঠিক?

● র ও রর      খ র ও ররর      গ রর ও ররর      ঘ র, রর ও ররর

২১৯. ছদ্মবেশী বেকারত্ব দূর করা সম্ভব— (প্রয়োগ)

র. শিল্পখাতের বিকাশের মাধ্যমে

রর. কৃষিকাজের ক্ষেত্রকে সংকোচনের মাধ্যমে

ররর. শিল্প শ্রমিকদের বেশি মজুরি প্রদানের মাধ্যমে

নিচের কোনটি সঠিক?

ক র ও রর      ● র ও ররর      গ রর ও ররর      ঘ র, রর ও ররর

২২০. গ্রামীণ বেকারত্ব দূর করার উপায় হলো— (উচ্চতর দক্ষতা)

র. কৃষি ভিত্তিক ক্ষুদ্র শিল্প প্রতিষ্ঠা

রর. কৃষি জমিতে বহু ফসল উৎপাদন

ররর. ফসল বহির্ভূত চাষাবাদ

নিচের কোনটি সঠিক?

ক র ও রর      খ র ও ররর      গ রর ও ররর      ● র, রর ও ররর

২২১. শ্রমিকদের প্রান্তিক উৎপাদনশীলতা বৃদ্ধি করা যায়— (প্রয়োগ)

র. শিল্পের উন্নয়নের মাধ্যমে

রর. শিল্পের যান্ত্রিক কৌশলগত উন্নয়নের মাধ্যমে

ররর. শ্রমিক নিয়োগ বৃদ্ধির মাধ্যমে

নিচের কোনটি সঠিক?

● র ও রর      খ র ও ররর      গ রর ও ররর      ঘ র, রর ও ররর

২২২. কৃষিভিত্তিক শিল্পপ্রতিষ্ঠার মাধ্যমে— (উচ্চতর দক্ষতা)

র. কর্মসংস্থান বৃদ্ধি পাবে

রর. মূলধনের বিনিয়োগ বাড়বে

ররর. কৃষি উৎপাদন বৃদ্ধি পাবে

নিচের কোনটি সঠিক?

ক র ও রর      খ র ও ররর      গ রর ও ররর      ● র, রর ও ররর

### অভিন্ন তথ্যভিত্তিক বহুনির্বাচনি প্রশ্নোত্তর

নিচের অনুচ্ছেদটি পড়ে ২২৩ ও ২২৪ নং প্রশ্নের উত্তর দাও :

করিম মিয়ার ২ একর জমি আছে। তিনি একাই জমিটুকু চাষাবাদ করেন। তার দুই ছেলে লেখাপড়া শেষ না করায় বড় হয়ে তার সাথেই মাঠে কাজ করেন।

২২৩. অনুচ্ছেদের করিম মিয়ার দুই ছেলে কী ধরনের বেকার? (প্রয়োগ)  
ক স্থায়ী      খ মৌসুমি      ● ছদ্মবেশী      ঘ নয়া

২২৪. তাদের মতো বেকারদের কর্মসংস্থানের জন্য প্রয়োজন- (উচ্চতর দক্ষতা)  
র. শিল্পখাতের বৈপ্লবিক পরিবর্তন করা

রর. পর্যাপ্ত প্রশিক্ষণ ও ঋণ সুবিধা দেওয়া

ররর. কৃষি শ্রমিকের চেয়ে শিল্প শ্রমিককে বেতন বেশি দেওয়া

নিচের কোনটি সঠিক?

ক র ও রর      খ র ও ররর      গ রর ও ররর      ● র, রর ও ররর

নিচের অনুচ্ছেদটি পড়ে ২২৫ ও ২২৬ নং প্রশ্নের উত্তর দাও :

এখন বর্ষাকাল, গ্রামের কারো হাতে কাজ নেই। সবাই জমিতে ধান লাগিয়ে অবসর পেয়েছে। এ সময় টানা দুই মাস সবাই চেয়ারম্যানের কাচারি বাড়িতে গিয়ে তাস আর লুডু খেলে সময় কাটায়।

২২৫. অনুচ্ছেদের লোকগুলো কী ধরনের বেকার? (প্রয়োগ)  
● মৌসুমি      খ ছদ্মবেশী      গ স্থায়ী      ঘ বয়স্ক

২২৬. অনুচ্ছেদের লোকদের বেকারত্ব দূর করার উপায় হলো- (উচ্চতর দক্ষতা)  
র. ফসল বহির্ভূত চাষাবাদ করা

রর. কৃষি জমিতে বহু ফসল উৎপাদন করা

ররর. ক্ষুদ্র ও কুটির শিল্পের বিকাশ করা

নিচের কোনটি সঠিক?

ক র ও রর      খ র ও ররর      গ রর ও ররর      ● র, রর ও ররর

### ➔ ৯.৭ : মানবসম্পদ ➔

- জনসংখ্যার যে অংশ যখন শিক্ষা ও দক্ষতার ভিত্তিতে শ্রমশক্তিতে রূপান্তরিত হয় তখন তাদেরকে— মানবসম্পদ বলে।
- প্রাকৃতিক সম্পদকে কাজে লাগিয়ে অর্থনৈতিক উন্নয়নের গতি ত্বরান্বিত করতে প্রয়োজন— দক্ষ মানবশক্তি।
- মানবসম্পদ উন্নয়নের জন্য প্রয়োজন— কর্মমুখী শিক্ষা।
- জনশক্তিকে জনসম্পদে রূপান্তর করতে দরকার— সুখম খাদ্য ও পুষ্টি।
- মানুষের কর্মক্ষমতা বৃদ্ধি করে— স্বাস্থ্যসম্মত নিরাপদ বাসস্থান।
- জনগণের কর্মদক্ষতা ও গুণগত মান বৃদ্ধির জন্য দরকার— মানবসম্পদ উন্নয়ন পরিকল্পনা।
- অর্থনৈতিক উন্নয়নের গুরুত্বপূর্ণ উপাদান হলো— দক্ষ মানবসম্পদ।

সাধারণ বহুনির্বাচনি প্রশ্নোত্তর

২২৭. কোনটির ভিত্তিতে মানবসম্পদ বিচার করা হয়? (জ্ঞান)  
 ● শিক্ষা ও দক্ষতার                      ✕ আদর্শ ও মূল্যবোধের  
 গ অর্থাবিত্তের                              ✕ নৈতিকতা ও সামাজিক অবস্থানের
২২৮. ভূমি কী ধরনের সম্পদ? (জ্ঞান)  
 ● বস্তুগত                      ✕ অবস্তুগত                      গ মানব                      ✕ চিরন্তন
২২৯. জনসংখ্যাকে কীভাবে কর্মক্ষম ও দক্ষ জনশক্তিতে রূপান্তরিত করা যায়? (উচ্চতর দক্ষতা)  
 ক ঋণ প্রদানের মাধ্যমে                      ✕ আত্মকর্মসংস্থানের মাধ্যমে  
 ● শিক্ষার সম্প্রসারণের মাধ্যমে                      ✕ উন্নত চিকিৎসা সেবার মাধ্যমে
২৩০. ব্যক্তিগত ও জাতীয় উন্নয়নের জন্য অপরিহার্য কোনটি? (জ্ঞান)  
 ক চিকিৎসা                      ✕ খাদ্য                      গ প্রবৃদ্ধি                      ● শিক্ষা
২৩১. দেশের অর্থনৈতিক উন্নয়নের জন্য কোন শিক্ষার প্রসার করা জরুরি? (জ্ঞান)  
 ক বিজ্ঞান                      ✕ বাণিজ্য                      গ পাশ্চাত্য                      ● কর্মমুখী
২৩২. কোনটির মাধ্যমে একজন ব্যক্তির উৎপাদন ক্ষমতা কয়েকগুণ বৃদ্ধি করা যায়। (অনুধাবন)  
 ক খাদ্য                      ✕ চিকিৎসা                      গ পরিকল্পনা                      ● শিক্ষা
২৩৩. মানবসম্পদ উন্নয়নের জন্য কোনটি জরুরি? (জ্ঞান)  
 ক চিকিৎসা                      ✕ বাসস্থান                      ● প্রশিক্ষণ                      ✕ নৈতিক শিক্ষা
২৩৪. 'ক' একটি অনুন্নত দেশ। দেশটির অর্থনৈতিক উন্নয়নের জন্য কোনটি উন্নয়নের পরিকল্পনা করতে হবে? (প্রয়োগ)  
 ক কৃষির                      ✕ প্রাকৃতিক সম্পদের  
 গ বৈদেশিক বাণিজ্যের                      ● মানবসম্পদের
২৩৫. অর্থনৈতিক উন্নয়নের গুরুত্বপূর্ণ উপাদান কোনটি? (জ্ঞান)  
 ক অর্থ                      ✕ মূল্যবোধ                      ● মানবসম্পদ                      ✕ কৃষি

বহুপদী সমাঙ্গিসূচক বহুনির্বাচনি প্রশ্নোত্তর

২৩৬. অর্থনৈতিক উন্নয়নের জন্য শিক্ষাক্ষেত্রে প্রবর্তন করতে হবে— (উচ্চতর দক্ষতা)  
 র. কারিগরি শিক্ষা                      রর. কর্মমুখী শিক্ষা  
 ররর. অর্থনৈতিক শিক্ষা  
 নিচের কোনটি সঠিক?  
 ● র ও রর                      ✕ র ও ররর                      গ রর ও ররর                      ✕ র, রর ও ররর
২৩৭. নারীদের অর্থনৈতিক উন্নয়নের সাথে সম্পৃক্ত করার জন্য প্রয়োজন—(প্রয়োগ)  
 র. কর্মমুখী শিক্ষাদান করা                      রর. ক্ষমতায়ন করা  
 ররর. প্রশিক্ষণ প্রদান করা  
 নিচের কোনটি সঠিক?  
 ক র ও রর                      ● র ও ররর                      গ রর ও ররর                      ✕ র, রর ও ররর
২৩৮. অর্থনৈতিক উন্নয়নের জন্য প্রয়োজন— (প্রয়োগ)  
 র. মানবসম্পদ উন্নয়ন                      রর. কর্মমুখী শিক্ষা ও প্রশিক্ষণ উন্নয়ন  
 ররর. সুষ্ঠু পরিকল্পনা প্রণয়ন ও বাস্তবায়ন  
 নিচের কোনটি সঠিক?  
 ক র ও রর                      ✕ র ও ররর                      গ রর ও ররর                      ● র, রর ও ররর

২৩৯. দুর্বল ও কর্মবিমুখ জনগোষ্ঠীকে মানবসম্পদে রূপান্তর করার জন্য প্রয়োজন— (প্রয়োগ)  
র. চিকিৎসার সুযোগ-সুবিধা দেওয়া

রর. জাতীয় কর্মসূচির মাধ্যমে বিশেষ সুবিধা দেওয়া

ররর. কর্মমুখী প্রশিক্ষণ প্রদান করা

নিচের কোনটি সঠিক?

ক র ও রর  র ও ররর গ রর ও ররর ঘ র, রর ও ররর

### অভিন্ন তথ্যভিত্তিক বহুনির্বাচনি প্রশ্নোত্তর

নিচের অনুচ্ছেদটি পড়ে ২৪০ ও ২৪১ নং প্রশ্নের উত্তর দাও :

মফিজ, আবুল ও মোখলেছ তিন ভাই সারাদিন চায়ের দোকানে বসে থাকে। বাবার রেখে যাওয়া জমি বিক্রি করে তারা সংসার চালায়। এলাকার খুব কম লোকই দেখেছে তাদের কোনো কাজ করতে।

২৪০. অনুচ্ছেদের লোকদের বেকার বলা যাবে না কেন? (প্রয়োগ)

ক কাজ করতে সক্ষম নয় বলে  কাজ করতে ইচ্ছুক নয় বলে

গ কাজ পায় না বলে ঘ আর্থিক সংকট নেই বলে

২৪১. উক্ত ব্যক্তিদ্বয়কে মানবসম্পদে রূপান্তরের উপায় হলো— (উচ্চতর দক্ষতা)

র. কর্মমুখী প্রশিক্ষণ প্রদান করা

রর. সুষ্ঠু পরিকল্পনার বাস্তবায়ন করা

ররর. উচ্চ বেতনের চাকরির প্রলোভন দেখানো

নিচের কোনটি সঠিক?

র ও রর  খ র ও ররর গ রর ও ররর ঘ র, রর ও ররর

### ■ অধ্যায়ের পাঠ সমন্বিত বহুনির্বাচনি প্রশ্নোত্তর

#### বহুপদী সমাঙ্গিসূচক বহুনির্বাচনি প্রশ্নোত্তর

২৪২. অনুন্নত দেশের অর্থনৈতিক উন্নয়নের গতি কেপান করার উপায় হলো— (উচ্চতর দক্ষতা)

র. ভূমি ও প্রাকৃতিক সম্পদের যথাযথ ব্যবহার করা

রর. কৃষি উৎপাদন বন্ধ করা

ররর. পরিবহন ব্যবস্থাকে উন্নত করা

নিচের কোনটি সঠিক?

ক র ও রর  র ও ররর গ রর ও ররর ঘ র, রর ও ররর

২৪৩. উন্নত দেশে ভূমি ও প্রাকৃতিক সম্পদের— (অনুধাবন)

র. সুষ্ঠু বণ্টন হয় রর. সুষ্ঠু ব্যবহার হয়

ররর. সুষ্ঠু সংরক্ষণ হয়

নিচের কোনটি সঠিক?

ক র ও রর  খ র ও ররর  রর ও ররর ঘ র, রর ও ররর

২৪৪. অনুন্নত দেশের অর্থনীতি কৃষিভিত্তিক হওয়ায় এখানে প্রকটভাবে পরিলক্ষিত হয়— (অনুধাবন)

র. ছদ্মবেশী বেকারত্ব রর. মৌসুমি বেকারত্ব

ররর. শিক্ষিত বেকারত্ব

নিচের কোনটি সঠিক?

- র ও রর      খ র ও ররর      গ রর ও ররর      ঘ র, রর ও ররর

২৪৫. বাংলাদেশ প্রতিকূল বাণিজ্য শর্তের সম্মুখীন হওয়ার কারণ হলো— (অনুধাবন)  
র. বৈদেশিক বাণিজ্যের নানা শর্ত      রর. উন্নত দেশের অসম প্রতিযোগিতা

ররর. উন্নত ঋণদানের কঠিন শর্ত

নিচের কোনটি সঠিক?

- র ও রর      খ র ও ররর      গ রর ও ররর      ঘ র, রর ও ররর

---

### অভিন্ন তথ্যভিত্তিক বহুনির্বাচনি প্রশ্নোত্তর

---

নিচের অনুচ্ছেদটি পড়ে ২৪৬ ও ২৪৭ নং প্রশ্নোত্তর দাও :

দেশটিতে নানারকম সমস্যা রয়েছে। যেমন : অনুন্নত কৃষি ব্যবস্থা, দারিদ্র্যের দুষ্চক্র, অধিক জনসংখ্যা প্রভৃতি। বর্তমানে সেখানে বেকার জনসংখ্যা প্রায় ২.৫ মিলিয়ন, শিক্ষার হার ৫৭.৯। এছাড়াও দেশটিতে রয়েছে রাজনৈতিক অস্থিতিশীলতা এবং বৈদেশিক সাহায্য নির্ভরতা।

২৪৬. দেশটি কোন ধরনের দেশ? (প্রয়োগ)

- ক উন্নত      ● উন্নয়নশীল      গ অনুন্নত      ঘ বেশি অনুন্নত

২৪৭. দেশটি দেশি-বিদেশি বিনিয়োগের জন্য প্রতিকূল হওয়ার কারণ— (উচ্চতর দক্ষতা)

র. রাজনৈতিক অস্থিতিশীলতা      রর. উদ্যোক্তারা ঝুঁকি মাত্রায় ভোগে

ররর. বিনিয়োগ বান্ধব পরিবেশ

নিচের কোনটি সঠিক?

- র ও রর      খ র ও ররর      গ রর ও ররর      ঘ র, রর ও ররর

## দশম অধ্যায়

# বাংলাদেশ সরকারের অর্থব্যবস্থা

### সৃজনশীল প্রশ্ন

১। ইসরাত একটি ডিপার্টমেন্টাল স্টোরে কেনাকাটা করতে যায়। সে কেনাকাটা শেষে দাম পরিশোধ করে তাকে প্রকৃত দামের সাথে কিছু অতিরিক্ত মূল্য পরিশোধ করতে হয়। এ প্রসঙ্গে দোকানিকে জিজ্ঞাসা করলে তিনি বলেন, “এটি বিক্রয়ের ক্ষেত্রে সরকার কর্তৃক নির্ধারিত হারে ক্রেতার নিকট থেকে আদায় করা হয়।”

ক. ভূমি রাজস্ব কাকে বলে?

খ. সম্পূরক শুল্ক কী? ব্যাখ্যা কর।

গ. ইসরাতের কাছ থেকে আদায়কৃত অতিরিক্ত অর্থ সরকারি রাজস্বের কোন উৎসের অন্তর্গত? ব্যাখ্যা কর।

ঘ. আবগারি শুল্কের সাথে ইসরাত প্রদত্ত অতিরিক্ত অর্থের সম্পর্ক বিশ্লেষণ কর।

২। জাহিদ একটি সরকারি স্কুলে পড়ে। তাদের স্কুলের সবাই খুশি। কারণ এ বছর একটি নতুন ভবন তৈরি হচ্ছে। সে জানতে পারে সরকার এবার তাদের স্কুলে বড় বাজেট বরাদ্দ দিয়েছে। বাজেট কী তা সে বোঝে না। এ প্রসঙ্গে তার শিক্ষককে জিজ্ঞাসা করলে তিনি বলেন, তাদের বেতনের মতো এটিও সরকারের এক ধরনের ব্যয় যা বাজেটের মাধ্যমেই সরকার প্রদান করে।

ক. বাজেটের সংজ্ঞা দাও।

খ. সরকারি অর্থব্যবস্থা বলতে কী বোঝায়?

গ. জাহিদের স্কুলের ভবন নির্মাণের কাজটি সরকারের কোন বাজেটের অন্তর্গত? ব্যাখ্যা কর।

ঘ. জাহিদের শিক্ষকের বেতন কীভাবে উদ্বৃত্ত বাজেটের অন্তর্গত হতে পারে? বিশ্লেষণ কর।

৩। নিচে একটি কাল্পনিক বাজেট দেওয়া হলো (অর্থ বছর ২০০৭-০৮) :

আয় (হাজার কোটি টাকা)	ব্যয় (হাজার কোটি টাকা)
রাজস্ব প্রাপ্তি— ৫০	প্রতিরক্ষা — ৫০
কর রাজস্ব— ৪০	বেঃ প্রশাসন— ৪০
কর ব্যতীত প্রাপ্তি— ২০	শিক্ষা— ২০
বৈদেশিক অনুদান— ৩০	অপ্রত্যাশিত ব্যয়— ৩০

ক. বাজেট কী? ১

খ. চলতি বাজেট ও মূলধন বাজেটের মধ্যে পার্থক্য কী? ২

গ. ছকে বর্ণিত বাজেটটি কী ধরনের বাজেট? বিশ্লেষণ কর। ৩



ঘ. ছকে উল্লিখিত বাজেটটির কোন খাতে অধিক পরিমাণ ব্যয় বরাদ্দ করা উচিত বলে তুমি মনে কর? ৪

৪। মি. এমরান একজন সফল উদ্যোক্তা। সিলেটে তার একটি চা কারখানা রয়েছে। তিনি তার উৎপাদিত পণ্যের ওপর প্রতি বছর বিপুল পরিমাণ কর প্রদান করেন। তার প্রতিবেশী আরও কয়েকজন শিল্পপতি আমদানি ও রপ্তানি বাণিজ্যে নিয়োজিত এবং বিপুল সম্পদের মালিক। কিন্তু তারা কর ফাঁকি দেন।

ক. কর বহির্ভূত রাজস্ব কাকে বলে? ১

খ. উন্নয়নশীল দেশগুলো ঘাটতি বাজেট প্রণয়নে গুরুত্ব দেয় কেন? ব্যাখ্যা কর। ২

গ. মি. এমরান কোন ধরনের কর প্রদান করেন? ব্যাখ্যা কর। ৩

ঘ. মি. এমরান সাহেবের ন্যায় প্রতিবেশী ও অন্যান্যরাও সঠিকভাবে কর প্রদান করলে দেশ আত্মনির্ভরশীল হবে- বিশ্লেষণ কর। ৪

৫। ২০১৪-১৫ অর্থবছরে বাংলাদেশ সরকারের প্রস্তাবিত জাতীয় বাজেটে সরকারি আয় ও ব্যয়ের পরিমাণ নিচে দেওয়া হলো :

মোট আয়	১,৮২,৯৫৪ কোটি টাকা
মোট ব্যয়	২,৫০,৫০৬ কোটি টাকা
আয়ের খাতসমূহ : এনবিআর কর রাজস্ব	১,৪৯,৭২০ কোটি টাকা
এনবিআর বহির্ভূত কর রাজস্ব	৫,৫৭২ কোটি টাকা
করবহির্ভূত রাজস্ব	২৭,৬৬২ কোটি টাকা

ক. বাজেট কী? ১

খ. বাংলাদেশ সরকারের ব্যয়ের প্রধান খাতটি ব্যাখ্যা কর। ২

গ. উদ্দীপকের তথ্যের আলোকে বাংলাদেশের জাতীয় বাজেটটির প্রকৃতি ব্যাখ্যা কর। ৩

ঘ. সারণিতে প্রদর্শিত আয় ও ব্যয়ের ব্যবধান পূরণে করণীয় কী হতে পারে? বিশ্লেষণ কর। ৪

৬। সোহান বসুন্ধরা শপিংমল থেকে একটি প্যান্ট ক্রয় করে। প্যান্টের মূল্য ৪৭০০ টাকা লেখা থাকলেও দোকানি তার নিকট হতে ৪৮৫০ টাকা রাখে। অতিরিক্ত ১৫০ টাকা নেওয়ার কারণ জিজ্ঞাসা করলে দোকানি জানায় এটি সরকারের প্রাপ্য টাকা। বিষয়টি বাড়িতে এসে বাবাকে জানালে তার বাবা বলেন যে, তিনিও তার বেতনের একটি অংশ সরকারকে প্রদান করেন।

ক. ঠা৳৳ কী? ১

খ. বাংলাদেশ সরকার শিক্ষা ও প্রযুক্তি খাতে প্রচুর অর্থ ব্যয় করে কেন? ২

গ. উদ্দীপকের সোহানের প্রদত্ত বাড়তি অর্থ কী ধরনের কর ব্যাখ্যা কর। ৩

ঘ. উদ্দীপকে বাংলাদেশ সরকারের আয়ের বৃহৎ দুটি খাতের উল্লেখ আছে- বিশ্লেষণ কর। ৪

৭। মহিউদ্দিন খান সাহেব একটি অটোমোবাইলের মালিক। তিনি জার্মানি, আমেরিকা ও ইংল্যান্ড থেকে গাড়ি আমদানি করেন। গাড়িগুলোর দাম কম হলেও বাংলাদেশ সরকারকে একটি বিরাট অঙ্কের টাকা দিতে হয় বলে তার আমদানিকৃত গাড়ির দাম বেড়ে যায়। আর তার ভাইয়ের একটি সিগারেট কোম্পানি আছে। তিনিও বছরে একটি বড় অঙ্কের কর প্রদান করেন।

ক. বাংলাদেশ কোন ধরনের দেশ? ১

খ. রেলওয়ে খাতে মুনাফার পরিমাণ বৃদ্ধি পেয়েছে কেন? ২

গ. মহিউদ্দিন খান সাহেবের প্রদত্ত করটি কী ধরনের কর? ব্যাখ্যা কর। ৩

ঘ. সামাজিক কারণে তার ভাইয়ের উৎপাদিত পণ্যের ওপর করারোপ করা হয়- বিশ্লেষণ কর। ৪

**৮। উদ্দীপক-১ :** হারোয়া সরকারি প্রাথমিক বিদ্যালয়ের মূল ভবনটি অনেক পুরাতন। বর্ষার সময় বৃষ্টির পানি পড়ে। তাই প্রধান শিক্ষকের আবেদনের প্রেক্ষিতে ২৮ লাখ টাকা বরাদ্দ হয় কম্পিউটার ক্রয় এবং নতুন ভবন তৈরির জন্য।

**উদ্দীপক-২ :** জমির মিয়া একজন হতদরিদ্র কৃষক। তিনি তার ২বিঘা জমিতে ঠিকমতো চাষাবাদ করতে পারেন না। এজন্য ইউনিয়ন পরিষদের চেয়ারম্যান সরকারিভাবে সার-ওষুধের ব্যবস্থা করে দেন।

ক. আমাদের দেশে বাজেটকে সাধারণত কয় ভাগে বিভক্ত করে উপস্থাপন করা হয়? ১

খ. মূলধন বাজেটের মূল লক্ষ্য কী? ব্যাখ্যা কর। ২

গ. উদ্দীপক ১-এ চিত্রিত সরকারি ব্যয়ের কারণ ব্যাখ্যা কর। ৩

ঘ. উদ্দীপকের ব্যয়ের খাতসমূহে পর্যাপ্ত বরাদ্দের মাধ্যমে বাংলাদেশের অর্থনৈতিক উন্নয়ন সম্ভব কি? তোমার মতামত দাও। ৪

**৯।** জমিরন বিবির স্বামী মারা গেছেন ৮৮-র বন্যার সময়। তারপর থেকে তিনি এক ছেলেকে নিয়ে অতি কষ্টে দিনাতিপাত করেন। মানুষের বাসায় কাজ করে এবং সরকার থেকে মাসিক বিধবা ভাতা দিয়ে কোনোমতে দুবেলা খাওয়ার ব্যবস্থা করেন। তার ছেলে সোহেল কাজ করার উপযোগী হলেও কাজ পায় না। অবশেষে স্থানীয় চেয়ারম্যান তাকে একটি সরকারি প্রকল্পে কাজের বন্দোবস্ত করে দেন। এখন সোহেল তার মাকে নিয়ে ভালোই আছে।

ক. VAT-এর পূর্ণরূপ কী? ১

খ. আবগারি শুল্ক আরোপ করা হয় কেন? ২

গ. উদ্দীপকে বাংলাদেশ সরকারের কোন কোন ব্যয়ের খাতের চিত্র ফুটে উঠেছে? ব্যাখ্যা কর। ৩

ঘ. উক্ত খাতদ্বয়ে ব্যয়ের মাধ্যমে বাংলাদেশ একটি কল্যাণমূলক রাষ্ট্র হিসেবে প্রতিষ্ঠা পেতে পারে- বিশ্লেষণ কর। ৪

**১০।** নিচে ছকটি দেখে প্রশ্নগুলোর উত্তর দাও :

বাংলাদেশ সরকারের ২০১১-১২ অর্থবছরের বাজেটের খণ্ডাংশ

ক		খ	
খাতের নাম	ব্যয়ের পরিমাণ (কোটি)	খাতের নাম	ব্যয়ের পরিমাণ (কোটি)
শিক্ষা	১৮৭৬৯	পরিবহন ও যোগাযোগ	১০৪৮৬
জনপ্রশাসন	৫৩২৩৭	কৃষি	১৪৩৫৩
জনশৃঙ্খলা ও নিরাপত্তা	৮৬০২	বিদ্যুৎ ও জ্বালানি	৭৯৫৭
জনস্বাস্থ্য	৮১৬৯	স্থানীয় সরকার ও পল্লী উন্নয়ন	১২০০৯

- ক. কত সাল থেকে VAT চালু হয়েছে? ১
- খ. রাষ্ট্রীয় কর্মকাণ্ডের পরিধি বৃদ্ধি পাচ্ছে কেন? ২
- গ. আয়-ব্যয়ের প্রকৃতির বিচারে উদ্দীপকে 'ক' পাশের খাতগুলো কোন বাজেটের অন্তর্ভুক্ত? ব্যাখ্যা কর। ৩
- ঘ. দেশের অর্থনৈতিক উন্নয়নের জন্য 'ক' অপেক্ষা 'খ' পাশের বাজেট জরুরি- বিশ্লেষণ কর। ৪
- ১১। নিচের ছকটি দেখে প্রশ্নগুলোর উত্তর দাও :

এক নজরে বাজেট ২০১৩-১৪

বিবরণ	ব্যয়ের পরিমাণ (কোটি টাকা)
মোট আয়	১,৭৪,১২৯
মোট ব্যয়	২,২২,৪৯১
বার্ষিক উন্নয়ন কর্মসূচি	৬৫,৮৭০
জিডিপির শতকরা হার	-৪.১

- ক. ২০১১-১২ অর্থবছরে প্রতিরক্ষা খাতে ব্যয় কত? ১
- খ. বাংলাদেশে অনুন্নয়নমূলক খাতে সরকারি ব্যয় হ্রাস করা উচিত কেন? ২
- গ. উদ্দীপকের বাজেটের সাথে ২০১৬-১৭ অর্থবছরের বাজেটের পরিবর্তনের ধারা ব্যাখ্যা কর। ৩
- ঘ. বাংলাদেশের প্রেক্ষাপটে উক্ত ছকের বাজেটটি কি মঙ্গলজনক? মতামত দাও। ৪

---

### সাধারণ বহুনির্বাচনি প্রশ্নোত্তর

---

১. কত সাল থেকে বাংলাদেশে মূল্য সংযোজন কর চালু করা হয়েছে? [স. বো. '১৬]  
ক ১৯৯০-৯১ ● ১৯৯১-৯২ গ ১৯৯২-৯৩ ঘ ১৯৯৩-৯৪
২. আয় ও ভোগের মধ্যে পার্থক্যকে কী বলে? [স. বো. '১৫]  
ক বিনিয়োগ খ মূলধন ● সঞ্চয় ঘ সুদ
৩. রানু স্থানীয়ভাবে বিস্কুট তৈরি করে পার্শ্ববর্তী এলাকাগুলোতে সরবরাহ করে। তার উৎপাদিত বিস্কুটের ওপর সরকারকে কর দিতে হয়। সেটা কী ধরনের কর? [স. বো. '১৫]  
● আবগারি শুল্ক খ আমদানি শুল্ক  
গ সম্পূরক শুল্ক ঘ ভ্যাট

৪. সরকার জনগণের নিকট হতে বাধ্যতামূলকভাবে যে অর্থ আদায় করে তাকে কী বলা হয়? [কামরুন্নেসা সরকারি বালিকা উচ্চ বিদ্যালয়, ঢাকা]
- ক শুষ্ক      খ ফি      ● কর      ঘ ভর্তুকি
৫. দেশের অভ্যন্তরে উৎপাদিত ও ব্যবহৃত দ্রব্যের ওপর কোন কর ধার্য করা হয়? [বি এ এফ শাহীন কলেজ, চট্টগ্রাম]
- ক মূল্য সংযোজন কর      ● আবগারি শুষ্ক
- গ সম্পূরক শুষ্ক      ঘ টোল
৬. সরকার জনগণকে প্রশাসনিক সেবা দিয়ে কী আদায় করে? [বি এ এফ শাহীন কলেজ, চট্টগ্রাম]
- ক কর      খ শুষ্ক      গ খাজনা      ● ফি
৭. মূল্য সংযোজন করের সংক্ষিপ্ত রূপ কী? [কামরুন্নেসা সরকারি বালিকা উচ্চ বিদ্যালয়, ঢাকা; পুলিশ লাইন হাই স্কুল, বগুড়া]
- ক এঃওচ      খ ঘখউ      গ এউচ      ● ঠঅএঃ
৮. উদ্বৃত্ত বাজেটের সূত্র কোনটি? [গাইবান্ধা সরকারি বালিকা উচ্চ বিদ্যালয়]
- মোট আয় > মোট ব্যয়      খ মোট আয় < মোট ব্যয়
- গ মোট আয় = মোট ব্যয়      ঘ মোট আয় ≠ মোট ব্যয়

### বহুপদী সমাঙ্গিসূচক বহুনির্বাচনি প্রশ্নোত্তর

৯. আবগারি শুষ্ক ধার্য করা হয়— [স. বো. '১৬]
- র. সিগারেট
- রর. কেরোসিন
- ররর. তামাক
- নিচের কোনটি সঠিক?
- ক র ও রর      খ রর ও ররর      গ রর ও ররর      ● র, রর ও ররর
১০. দারিদ্র্য বিমোচনে অস্বচ্ছল প্রতিবন্ধীদের জন্য বরাদ্দ বৃদ্ধি করা হলে—
- র. সামাজিক নিরাপত্তা বাড়বে
- রর. পারিবারিক কষ্ট লাঘব হবে
- ররর. দেশের উন্নয়নের মূলধারায় সম্পৃক্ত হবে
- নিচের কোনটি সঠিক? [স. বো. '১৫]
- ক র ও রর      খ র ও ররর      গ রর ও ররর      ● র, রর ও ররর
১১. মূলধন বাজেটের মূল লক্ষ্য হলো— [বিএএফ শাহীন কলেজ, ঢাকা]
- র. অর্থনৈতিক উন্নয়ন সাধন করা      রর. সামাজিক উন্নয়ন সাধন করা
- ররর. রাজনৈতিক উন্নয়ন সাধন করা
- নিচের কোনটি সঠিক?
- র ও রর      খ র ও ররর      গ রর ও ররর      ঘ র, রর ও ররর

### অভিন্ন তথ্যভিত্তিক বহুনির্বাচনি প্রশ্নোত্তর

নিচের অনুচ্ছেদটি পড় এবং ১২ ও ১৩ নং প্রশ্নের উত্তর দাও :

রায়হান যে দেশে বাস করে সে দেশে সম্প্রতি বাজেট পাস হয়েছে। সেখানে আয়ের চেয়ে ব্যয় বেশি দেখানো হয়েছে। দেশ ও বিদেশের বিভিন্ন উৎস থেকে এই ব্যয় মিটানো হয়।

[স. বো. '১৬]

১২. রায়হানের দেশের বাজেটটি কী ধরনের বাজেট?

ক সুখম বাজেট ● ঘাটতি বাজেট

গ উদ্বৃত্ত বাজেট ঘ মূলধনী বাজেট

১৩. রায়হানের দেশের বাজেটের অতিরিক্ত অর্থ কোন কোন উৎস থেকে আসে?

র. অভ্যন্তরীণ ব্যাংক ব্যবস্থা হতে ঋণ

রর. বৈদেশিক সাহায্য

ররর. কৃষি ও শিল্প উন্নয়ন

নিচের কোনটি সঠিক?

ক র খ রর গ র ও ররর ● র ও রর

## ■ বিষয়ক্রম অনুযায়ী বহুনির্বাচনি প্রশ্নোত্তর

➔ ১০.১ ও ১০.২ : সরকারি অর্থব্যবস্থা ও বাংলাদেশ

সরকারের আয়ের উৎসসমূহ ➔

- অর্থনীতির যে শাখায় সরকারের আয়, ব্যয় ও ঋণ সংক্রান্ত বিষয়াবলি আলোচনা হয় তাকে বলে— সরকারি অর্থব্যবস্থা।
- বাংলাদেশ সরকারের আয়ের উৎস— ২টি।
- কোনো প্রকার সুযোগ-সুবিধা না দিয়ে সরকার বাধ্যতামূলকভাবে জনগণের নিকট হতে য অর্থ আদায় করে তাকে বলে— কর।
- উৎপাদনের বিভিন্ন স্তরে যে মূল্য সংযোজিত হয় তার ওপর নির্দিষ্ট হারে যে করারোপ করা হয় তাকে বলে— মূল্য সংযোজন কর।
- আমদানিকৃত দ্রব্য ও সেবার ওপর যে কর ধার্য করা হয় তাকে বলে— আমদানি শুল্ক।

## সাধারণ বহুনির্বাচনি প্রশ্নোত্তর

১৪. সরকারি অর্থব্যবস্থায় কী নিয়ে আলোচনা হয়? (জ্ঞান)

● আয়-ব্যয় খ লাভ-ক্ষতি

গ জাতীয় সমস্যা ও সমাধান ঘ জাতীয় উন্নয়ন ও প্রবৃদ্ধি

১৫. বাংলাদেশ সরকারের আয়ের উৎস কয়টি? (জ্ঞান)

● ২ খ ৩ গ ৪ ঘ ৫

১৬. জনগণ কোনটি প্রদান করে কোনো বাড়তি সুবিধা প্রত্যাশা করতে পারে না? (জ্ঞান)

ক প্রশাসনিক ফি খ টোল

গ লেভি ● কর

১৭. গত বছর জনাব মাহিন ব্যবসা করে ৫০০ কোটি টাকা উপার্জন করেছেন। এর একটি অংশ কর হিসেবে তিনি সরকারকে প্রদান করেন। এটি বাংলাদেশ সরকারের কী ধরনের উৎস? (প্রয়োগ)

ক আবগারি শুল্ক খ সম্পূরক শুল্ক

গ লভ্যাংশ ও মুনাফা ● আয়কর

১৮. বর্তমানে কোনো পুরুষ কত টাকার অধিক আয় করলে আয়কর দিতে হয়? (জ্ঞান)  
ক ১,৫০,০০০ খ ২,২০,০০০ ● ২,৫০,০০০ ঘ ৩,০০,০০০
১৯. একজন নারী কর্তৃক কত টাকার অধিক আয় করলে আয়কর প্রদান করতে হয়? (জ্ঞান)  
ক ১,৭৫,০০০ খ ২,০০,০০০ ● ৩,০০,০০০ ঘ ২,৫০,০০০
২০. জিসান প্রতিবন্ধী হলেও প্রচুর টাকা উপার্জন করে। সে বার্ষিক কত টাকার অধিক উপার্জন করলে তাকে আয়কর দিতে হবে? (প্রয়োগ)  
ক ১,৭৫,০০০ খ ২,০০,০০০  
গ ২,২৫,০০০ ● ৩,৭৫,০০০
২১. জমির সাহেবকে প্রতি বছর তার লিনা গার্মেন্টস-এর জন্য ৫ লক্ষ টাকা কর দিতে হয়। এটি কী ধরনের কর? (প্রয়োগ)  
● আয়কর খ মূল্য সংযোজন কর  
গ ভূমি রাজস্ব ঘ কর রাজস্ব
২২. ২০১৪-১৫ অর্থবছরে আয়কর ও মুনাফার ওপর ধার্যকৃত কর হতে কত টাকা আয় হয়? (জ্ঞান)  
ক ২৮,০৬১ খ ৩৪,৩০৪ গ ৪৩১৫০ ● ৫৬,০৮৬
২৩. VAT-এর পূর্ণরূপ কী? (জ্ঞান)  
ক Valuable Additional Taka  
● Value Added Tax  
গ Value Added Toll  
ঘ Value Additional Toll
২৪. উৎপাদনের বিভিন্ন স্তরে সংযোজিত মূল্যের ওপর আরোপিত করকে কী বলা হয়? (জ্ঞান)  
ক আয়কর ● VAT গ আবগারি শুল্ক ঘ সম্পূরক শুল্ক
২৫. অদূর ভবিষ্যতে বাংলাদেশ সরকারের আয়ের কোন খাতের সম্প্রসারণের পরিকল্পনা আছে? (উচ্চতর দক্ষতা)  
ক আবগারি শুল্ক খ আমদানি শুল্ক  
গ মাদক শুল্ক ● মূল্য সংযোজন কর
২৬. ২০১৪-১৫ অর্থবছরে ঠাঙ্গ-এর মাধ্যমে সরকার কত কোটি টাকা আয় করেছে? (জ্ঞান)  
ক ২৮,০৬৯ খ ৩০,৮৮০ গ ৩৪,৩০৪ ● ৫৫,০১৩
২৭. আমদানিকৃত দ্রব্যের ওপর ধার্যকৃত করকে কী বলা হয়? (জ্ঞান)  
ক আবগারি শুল্ক ● আমদানি শুল্ক  
গ মূল্য সংযোজন কর ঘ সম্পূরক শুল্ক
২৮. জনাব রহমান চীন থেকে মোবাইল সামগ্রী আমদানি করার সময় কর দিয়েছেন। তার প্রদানকৃত করটি কী ধরনের কর? (প্রয়োগ)  
● আমদানি শুল্ক খ আবগারি শুল্ক  
গ ঠাঙ্গ ঘ সম্পূরক শুল্ক
২৯. ২০১৪-১৫ অর্থবছরে আমদানি শুল্ক খাত হতে বাংলাদেশ সরকার কত কোটি টাকা আয় করেছে? (জ্ঞান)  
ক ১০,৪৩৩ খ ১২,৬৩৪ ● ১৩৪,৫৯০ ঘ ৩৪,৩০৪
৩০. ক্ষতিকর দ্রব্যের ভোগ হ্রাস করার জন্য কোন কর ধার্য করা হয়? (জ্ঞান)  
ক আমদানি শুল্ক ● আবগারি শুল্ক  
গ সম্পূরক শুল্ক ঘ মূল্য সংযোজন কর
৩১. বাদশাহ সাহেব তার বাড়িতে উৎপাদিত চা নিজ জেলার মধ্যে বাজারজাত করেন। তার ওপর কোন কর আরোপিত হবে? (প্রয়োগ)  
ক ভূমি রাজস্ব ● আবগারি শুল্ক গ সম্পূরক শুল্ক ঘ লেভি





খ দ্রব্য বাজারজাত করার জন্য

গ বাজেয়াপ্ত সম্পদ উদ্ধারের আবেদনের জন্য

● মামলা-মোকদ্দমার আবেদনের জন্য

৪৬. নিচের কোনটি সরকারের করবহির্ভূত আয়ের উৎস? (জ্ঞান)  
ক আবগারি শুল্ক খ ভূমি রাজস্ব গ স্ট্যাম্প ● জরিমানা

৪৭. সরকার বাণিজ্যসংস্থা ও কোম্পানি হতে কী আদায় করে? (জ্ঞান)  
ক নবায়ন ফি খ অডিট ফি  
● রেজিস্ট্রেশন ফি ঘ বিমা ফি

৪৮. রহিম মন্সলসহ প্রায় ৫০০ জন মিলে 'লাল সবুজ সমবায় সমিতি' পরিচালনা করে। তখন সরকারকে কী প্রদান করতে হয়? (জ্ঞান)  
ক রেজিস্ট্রেশন ফি ● অডিট ফি  
গ নবায়ন ফি ঘ মূল্যায়ন ফি

৪৯. সরকার সম্পত্তি ভাড়া ও ইজারা দিয়ে ২০১৪-১৫ অর্থবছরে কত কোটি টাকা উপার্জন করে? (জ্ঞান)  
ক ১৩৯ ● ১৫৯ গ ১৬৯ ঘ ১৮৯

৫০. যমুনা সেতু দিয়ে যাওয়ার জন্য প্রতিটি বাস ৮০০ টাকা দেয়। এটি কী? (প্রয়োগ)  
ক ফিস খ কর ● টোল ঘ খাজনা

৫১. ২০০৮ সালে চালের দাম বৃদ্ধি পেলে দরিদ্রদের জন্য সরকার বিনা লাভে চাল বিক্রির ব্যবস্থা করে। সরকারের এ ধরনের কর্মকাণ্ডকে কী বলা হয়? (প্রয়োগ)  
ক অর্থনৈতিক সেবা খ ত্রাণ বিতরণ  
গ ভর্তুকি ● অবাণিজ্যিক বিক্রয়

৫২. রেলওয়ে থেকে ২০১৪-১৫ অর্থবছরে সরকারের আয় কত কোটি টাকা? (জ্ঞান)  
ক ৫০০ গ ৫১৮ ● ১১০০ ঘ ৬৭৮

৫৩. ডাক বিভাগ হতে ২০১৩-১৪ অর্থবছরে বাংলাদেশের সরকারের আয়ের পরিমাণ কত? (জ্ঞান)  
● ২৯৪ কোটি টাকা খ ৫১৮ কোটি টাকা  
গ ৬৬৮ কোটি টাকা ঘ ৯০০ কোটি টাকা

### বহুপদী সমাপ্তিসূচক বহুনির্বাচনি প্রশ্নোত্তর

৫৪. সরকারি অর্থ ব্যবস্থার উদ্দেশ্য হলো- (উচ্চতর দক্ষতা)  
র. জনসাধারণের সর্বোচ্চ কল্যাণ নিশ্চিত করা

রর. সরকারের আয় সর্বোচ্চ করা

ররর. দেশের অর্থনৈতিক সমৃদ্ধি আনয়ন করা

নিচের কোনটি সঠিক?

ক র ও রর ● র ও ররর গ রর ও ররর ঘ র, রর ও ররর

৫৫. কর রাজস্বের বৈশিষ্ট্য হলো- (অনুধাবন)  
র. জনগণ বাধ্যতামূলকভাবে প্রদান করে

রর. কোনো বিনিময় প্রদান করা হয় না

ররর. ক্ষতিকর দ্রব্যের ব্যবহার হ্রাস করা যায়

নিচের কোনটি সঠিক?

- র ও রর     খ র ও ররর     গ রর ও ররর     ঘ র, রর ও ররর

৫৬. মাদক শুল্ক আরোপের উদ্দেশ্য হলো- (উচ্চতর দক্ষতা)

র. মাদক নিষিদ্ধ করা

রর. সরকারের আয় বৃদ্ধি করা

ররর. সামাজিক কল্যাণ বৃদ্ধি করা

নিচের কোনটি সঠিক?

- ক র ও রর     র ও ররর     গ রর ও ররর     ঘ র, রর ও ররর

৫৭. বাংলাদেশ রেলওয়ে থেকে সম্প্রতি সরকারের আয় বৃদ্ধির কারণ হলো- (অনুধাবন)

র. রেল সেবার সম্প্রসারণ

রর. রেল ব্যবস্থার আধুনিকায়ন

ররর. রেলওয়ের বহুমুখী সেবা প্রদান

নিচের কোনটি সঠিক?

- র ও রর     খ র ও ররর     গ রর ও ররর     ঘ র, রর ও ররর

৫৮. বাংলাদেশ সরকার অর্থ ব্যয় করে- (অনুধাবন)

র. জনকল্যাণের জন্য

রর. দেশ রক্ষা ও পরিচালনার জন্য

ররর. আয়কর প্রদানের জন্য

নিচের কোনটি সঠিক?

- র ও রর     খ র ও ররর     গ রর ও ররর     ঘ র, রর ও ররর

৫৯. বাংলাদেশ সরকারের করবহির্ভূত রাজস্ব খাত হলো- (অনুধাবন)

র. অর্থনৈতিক সেবা

রর. ভাড়া ও ইজারা

ররর. অবাণিজ্যিক বিক্রয়

নিচের কোনটি সঠিক?

- ক র ও রর     খ র ও ররর     গ রর ও ররর     র, রর ও ররর

৬০. সরকার ভূমি রাজস্ব আরোপ করে- (অনুধাবন)

র. ভূমির মালিকানার জন্য

রর. ভূমির ভোগদখলের জন্য

ররর. জমিতে অধিক উৎপাদনের জন্য

নিচের কোনটি সঠিক?

## অভিন্ন তথ্যভিত্তিক বহুনির্বাচনি প্রশ্নোত্তর

নিচের অনুচ্ছেদটি পড়ে ৬১ ও ৬২ নং প্রশ্নের উত্তর দাও :

নোমান ও এ্যানি দম্পতি একই অফিসে একই বেতনে চাকরি করেন। তাদের প্রত্যেকের বার্ষিক বেতন প্রায় ২,৫০,০০০ টাকা। কিন্তু নোমান আয়কর দিলেও এ্যানিকে দিতে হয় না।

৬১. এ্যানির বার্ষিক আয় কত বৃদ্ধি পেলে তাকেও আয়কর দিতে হবে? (উচ্চতর দক্ষতা)
- ক ৫,০০০ টাকা                      খ ১০,০০০ টাকা
- গ ২৫,০০০ টাকা                      ● ৫০,০০০ টাকা

৬২. নোমান জাতীয় ক্ষেত্রে অবদান রাখছে— (উচ্চতর দক্ষতা)
- র. সরকারের আয় বৃদ্ধির মাধ্যমে

রর. সরকারের ব্যয়ের একটা অংশ প্রদানের মাধ্যমে

ররর. দেশের সমস্যা সমাধানের জন্য সরকারকে সাহায্য প্রদানের মাধ্যমে

নিচের কোনটি সঠিক?

- ক র ও রর                      খ র ও ররর                      গ রর ও ররর                      ● র, রর ও ররর

### ➤ ১০.৩ : বাংলাদেশ সরকারের ব্যয়ের খাতসমূহ

- বাংলাদেশ সরকার বেশি অর্থ ব্যয় করে— শিক্ষা ও প্রযুক্তি খাতে।
- জাতীয় নিরাপত্তার স্বার্থে খাতের ব্যয় অপ্রকাশিত থাকে— প্রতিরক্ষা খাতে।
- সরকারি কর্মকর্তা ও কর্মচারীদের বেতন ও ভাতা দিতে যে ব্যয় তাকে বলে— জনপ্রশাসন ব্যয়।
- জাতীয় নিরাপত্তা স্বার্থে কোন খাতের ব্যয় অপ্রকাশিত থাকে— প্রতিরক্ষা খাতে।
- সরকারি কর্মকর্তা ও কর্মচারীদের বেতন ও ভাগ দিতে যে ব্যয় হয় তাকে বলে— জনপ্রশাসন ব্যয়।
- কৃষি খাতের সম্প্রসারণ ও উন্নয়নকল্পে সরকার বরাদ্দের পাশাপাশি দিয়ে থাকে— ভূত্বকি।
- শিল্পদূষণ হতে পরিবেশকে রক্ষা করতে ব্যয় করা হয়— পরিবেশ ও বন মন্ত্রণালয় হতে।
- বার্ষিক উন্নয়ন কর্মসূচির আওতায় প্রতি বছর ব্যয় করে— ১৮টি খাতে।
- ২০১১-১২ অর্থবছরে শিক্ষাখাতে সরকারের ব্যয়— ১২,২৪০ কোটি টাকা।

## সাধারণ বহুনির্বাচনি প্রশ্নোত্তর

৬৩. শিক্ষা ও প্রযুক্তি খাতে সরকারের বৃহৎ বরাদ্দের লক্ষ্য কী? (উচ্চতর দক্ষতা)
- ক দেশকে উন্নয়নশীল রাষ্ট্রে পরিণত করা

খ দারিদ্র্য বিমোচন করা

গ সামাজিক নিরাপত্তা নিশ্চিত করা

● মানবসম্পদ তৈরি করা

৬৪. দেশের আর্থসামাজিক উন্নয়নের চালিকাশক্তি বৃদ্ধির লক্ষ্যে সরকার প্রতিবছর কোন খাতে প্রচুর পরিমাণে অর্থ ব্যয় করে? (উচ্চতর দক্ষতা)

ক প্রতিরক্ষা খ জনস্বাস্থ্য

গ দারিদ্র্য বিমোচন ও কর্মসংস্থান ● তথ্য ও প্রযুক্তি

৬৫. ২০১১-১২ অর্থবছরে বাংলাদেশ সরকার শিক্ষা ও প্রযুক্তি খাতে কত কোটি টাকা ব্যয় করে? (জ্ঞান)

ক ১২,২৪০ খ ১৪,৩৫০ ● ১৮,৭৬৯ ঘ ২৩,২৩৭

৬৬. প্রতিরক্ষা খাতে অর্থ ব্যয় করা হয় কেন? (অনুধাবন)

ক অভ্যন্তরীণ শান্তিশৃঙ্খলা রক্ষার জন্য

● দেশকে বিদেশি আগ্রাসন হতে রক্ষার জন্য

গ মানবসম্পদ উন্নয়নের জন্য

ঘ জরুরি সমস্যা সমাধানের জন্য

৬৭. ২০১০ সালে বাংলাদেশ সরকার রাশিয়া থেকে কয়েকটি সামুদ্রিক রণতরী ক্রয় করে। এটি সরকারের ব্যয়ের কোন খাতের অন্তর্ভুক্ত? (প্রয়োগ)

ক নিরাপত্তা ● প্রতিরক্ষা

গ জ্বালানি

ঘ স্থানীয় সরকার

৬৮. মো. আবুল হোসেন বাংলাদেশ সেনাবাহিনীতে সিনিয়র ওয়ারেন্ট অফিসার হিসেবে নিয়োজিত। তার বেতন-ভাতা সরকারের কোন খাতের ব্যয়ের অন্তর্ভুক্ত? (প্রয়োগ)

● প্রতিরক্ষা খ জনশৃঙ্খলা ও নিরাপত্তা

গ জনপ্রশাসন

ঘ পল্লী উন্নয়ন

৬৯. প্রতিরক্ষা খাতের ব্যয় অপ্রকাশিত থাকে কেন? (অনুধাবন)

ক আলাদা বাজেট হয় বলে

খ এটি সরকারের দায়িত্ব নয় বলে

● জাতীয় নিরাপত্তা সংশ্লিষ্ট বিষয় বলে

ঘ এটি সামরিক বাহিনী তৈরি করে বলে

৭০. ২০১১-১২ অর্থবছরে প্রতিরক্ষা খাতে সরকারের ব্যয়ের পরিমাণ কত? (জ্ঞান)

ক ১০,২৩৭ কোটি টাকা খ ১১,৭৫৯ কোটি টাকা

গ ১২৩৫৩ কোটি টাকা ● ১২২৪০ কোটি টাকা

৭১. জনাব রকিবুল্লাহ যুগ্মসচিব হিসেবে কর্মরত আছেন। তার বেতন-ভাতা সরকারের কোন খাতে ব্যয়ের অন্তর্ভুক্ত? (প্রয়োগ)

ক প্রতিরক্ষা খ জনস্বাস্থ্য গ স্থানীয় সরকার ● জনপ্রশাসন

৭২. সরকারি কর্মচারীদের বেতন-ভাতা দেওয়া হয় কোন খাত হতে? (জ্ঞান)

ক প্রতিরক্ষা খ জনশৃঙ্খলা গ নিরাপত্তা ● জনপ্রশাসন

৭৩. ২০১১-১২ অর্থবছরে বাংলাদেশ সরকার জনপ্রশাসন খাতে কত কোটি টাকা ব্যয় করে? (প্রয়োগ)

● ৫৩,২৩৭ খ ১৮,৭৬৯ গ ১৪,৩৫৩ ঘ ১২,২৪০

৭৪. বাংলাদেশ সরকার মার্কিন বাহিনীর সহায়তায় বাংলাদেশ পুলিশ বাহিনীর ৫০০ জন সদস্যকে প্রশিক্ষণের ব্যবস্থা করে। এটি সরকারের ব্যয়ের কোন খাতের অন্তর্ভুক্ত? (প্রয়োগ)

● জনশৃঙ্খলা ও নিরাপত্তা খ জনপ্রশাসন

গ প্রতিরক্ষা ঘ সামাজিক কল্যাণ

৭৫. ২০০৪ সালে জনশৃঙ্খলার নিরাপত্তার জন্য র‍্যাব গঠন করা হয়। সরকারের ব্যয়ের কোন খাত হতে র‍্যাব সদস্যদের বেতন দেওয়া হয়? (প্রয়োগ)  
ক প্রতিরক্ষা খ জনপ্রশাসন
- জনশৃঙ্খলা ও নিরাপত্তা ঘ স্থানীয় সরকার
৭৬. ২০১৩ সালে বাংলাদেশ সরকার পুলিশের বেতন-ভাতা বৃদ্ধি করে। এতে সরকারের কোন খাতের ব্যয় বৃদ্ধি পাবে? (উচ্চতর দক্ষতা)  
ক প্রতিরক্ষা খ জনপ্রশাসন
- জনশৃঙ্খলা ও নিরাপত্তা ঘ স্থানীয় সরকার ও পল্লী উন্নয়ন
৭৭. জনশৃঙ্খলা ও নিরাপত্তা খাতে ২০১১-১২ অর্থবছরে বাংলাদেশ সরকার কত কোটি টাকা ব্যয় করে? (জ্ঞান)  
● ৮৬০২ খ ৮৫০২ গ ৯৮০২ ঘ ৮৮০৬
৭৮. কোন অর্থবছর হতে সরকার প্রথম কৃষি গবেষণার জন্য বরাদ্দ দেওয়া শুরু করে? (জ্ঞান)  
ক ২০০৫-০৬ খ ২০০৬-০৭ ● ২০০৭-০৮ ঘ ২০০৮-০৯
৭৯. ২০১১-১২ অর্থবছরে কৃষি, কৃষিভিত্তিক শিল্প ও কৃষি গবেষণায় সরকারের ব্যয় হয়েছে কত কোটি টাকা? (জ্ঞান)  
● ১৪,৩৫৩ খ ১২৩৫০ গ ১০৫৬০ ঘ ৮৬০০
৮০. গত বছর সরকার ৫টি মেডিকেল কলেজ প্রতিষ্ঠার কাজ করেছে। এটি সরকারের কোন খাতের ব্যয়ের অন্তর্ভুক্ত? (প্রয়োগ)  
ক জনপ্রশাসন ● জনস্বাস্থ্য
- গ সামাজিক কল্যাণ ঘ সামাজিক অবকাঠামো
৮১. সরকার প্রতিটি ইউনিয়নে কতজন এমবিবিএস ডাক্তার নিয়োগ দিয়েছে? (জ্ঞান)  
● ১ খ ২ গ ৩ ঘ ৪
৮২. ২০১১-১২ অর্থবছরে জনস্বাস্থ্য খাতে বাংলাদেশ সরকারের ব্যয় কত কোটি টাকা? (জ্ঞান)  
ক ৭,১০২ ● ৮,১৬৯ গ ৮,৮৬৮ ঘ ৯,৮৬২
৮৩. বয়স্কভাতা কর্মসূচি সরকারের কোন ব্যয়ের অন্তর্ভুক্ত? (জ্ঞান)  
● সামাজিক নিরাপত্তা ও কল্যাণ খ দারিদ্র্যবিমোচন কর্মসূচি
- গ শিল্প ও অর্থনৈতিক সেবাসমূহ ঘ স্থানীয় সরকার ও পল্লী উন্নয়ন
৮৪. বিধবা জমিলা প্রতি মাসে সরকার থেকে ৩০০ টাকা ভাতা পান। এটি সরকারের ব্যয়ের কোন খাতের অন্তর্ভুক্ত? (প্রয়োগ)  
ক জনস্বাস্থ্য খ দারিদ্র্যবিমোচন ও কর্মসংস্থান
- সামাজিক নিরাপত্তা ও কল্যাণ ঘ অর্থনৈতিক সেবাসমূহ
৮৫. একটি বাড়ি একটি খামার সরকারের কোন ব্যয়ের অন্তর্ভুক্ত? (জ্ঞান)  
ক দারিদ্র্যবিমোচন কর্মসূচি
- সামাজিক নিরাপত্তা ও কল্যাণ
- গ জনস্বাস্থ্য
- ঘ কৃষি, কৃষিভিত্তিক শিল্প ও কৃষি গবেষণা
৮৬. ২০১১-১২ অর্থবছরে সামাজিক নিরাপত্তা ও কল্যাণ খাতে সরকারের ব্যয় হয়েছে কত কোটি টাকা? (জ্ঞান)  
ক ৮,১৫৯ খ ৮,৬০২ গ ১০,৪৮৬ ● ১০,৭১৬
৮৭. ২০১১-১২ অর্থবছরের বিদ্যুৎ ও জ্বালানি খাতে সরকারের ব্যয় হয়েছে কত কোটি টাকা? (জ্ঞান)  
ক ৫,৫৬৫ খ ৬,৮৬৭ ● ৭,৯৫৭ ঘ ৮,৬৫৯
৮৮. ২০১১-১২ অর্থবছরের পরিবহন ও যোগাযোগ খাতে সরকারের ব্যয়ের পরিমাণ কত? (জ্ঞান)  
ক ৭,৯৫৭ ● ১০,৪৮৬ গ ১০,৭১৬ ঘ ১২,২৪০
৮৯. কোন প্রকল্পের মাধ্যমে কর্মসংস্থানের উদ্যোগ নেওয়া হয়েছে? (জ্ঞান)

- ক সামাজিক বেটনী                      খ সামাজিক বাস্তহারা
- ন্যাশনাল সার্ভিস                      ঘ জিআর
৯০. ন্যাশনাল সার্ভিস প্রকল্পের মেয়াদ কত বছর?                      (জ্ঞান)
- ক এক                      ● দুই                      গ তিন                      ঘ চার
৯১. ন্যাশনাল সার্ভিসের আওতায় কীভাবে কর্মসংস্থানের উদ্যোগ নেওয়া হয়েছে?                      (উচ্চতর দক্ষতা)
- ক সরকারি চাকরিতে নিয়োগের মাধ্যমে
- কারিগরি প্রশিক্ষণের মাধ্যমে
- গ আর্থিক সাহায্যের মাধ্যমে
- ঘ অবকাঠামো তৈরিতে কাজে লাগানোর মাধ্যমে
৯২. বিজিএফ ও ভিজিডি বাবদ সরকার প্রতিবছর কত লক্ষ মেট্রিক টন খাদ্যশস্য বিতরণ করেছে? (জ্ঞান)
- ক ৫                      ● ১০                      গ ১৫                      ঘ ২০
৯৩. সরকার অভ্যন্তরীণ ও বৈদেশিক উৎস হতে ঋণ গ্রহণ করে কেন?                      (অনুধাবন)
- উন্নয়নমূলক কর্মকাণ্ড পরিচালনার জন্য
- খ সরকারি কর্মচারীদের বেতন দেওয়ার জন্য
- গ প্রতিরক্ষা ব্যয় নির্বাহের জন্য
- ঘ কর্মসংস্থান সৃষ্টির জন্য
৯৪. ২০১১-১২ অর্থবছরে সরকারের ঋণ ও সুদ পরিশোধ বাবদ কত কোটি টাকা ব্যয় হয়?                      (জ্ঞান)
- ক ১০,৭১৬                      খ ১৫,৬৭৬                      গ ১৮,৬৯৭                      ● ১৯,৭৯৬
৯৫. সরকার শিল্প, বাণিজ্য, শ্রম ও কর্মসংস্থান এবং প্রবাসী কল্যাণ মন্ত্রণালয়ের মাধ্যমে কোন খাতে অর্থ ব্যয় করে?                      (জ্ঞান)
- ক প্রতিরক্ষা                      খ জনপ্রশাসন
- শিল্প ও অর্থনৈতিক সেবাসমূহ                      ঘ দারিদ্র্য বিমোচন ও কর্মসংস্থান
৯৬. বাংলাদেশ ব্যাংক ও আর্থিক প্রতিষ্ঠানের জন্য পুনঃঅর্থায়ন পরিকল্পনা গ্রহণ করেছে কেন?                      (অনুধাবন)
- ক অনুন্নত এলাকায় শাখা খোলার জন্য
- খ পল্লী উন্নয়নে এগিয়ে আসার জন্য
- গ কৃষকদের ঋণ দানে আগ্রহী করার জন্য
- ক্ষুদ্র উদ্যোক্তাদের উৎসাহিত করার জন্য
৯৭. বাংলাদেশ ব্যাংক কাদের জন্য পুনঃঅর্থায়ন পরিকল্পনা গ্রহণ করেছে?                      (জ্ঞান)
- ক বৃহৎ শিল্প খাতে বৃহৎ উদ্যোক্তাদের জন্য
- খ শুধু ব্যবসায়ীদের জন্য
- গ শুধু এনজিওসমূহের জন্য
- ব্যাংক ও আর্থিক প্রতিষ্ঠানসমূহের জন্য
৯৮. স্থানীয় সরকার ও পল্লী উন্নয়ন খাতে ২০১১-১২ অর্থবছরে সরকারের কত কোটি টাকা ব্যয় হয়েছে?                      (জ্ঞান)
- ১২,০০৯                      খ ১২,২৪০                      গ ১৪,৩৫৩                      ঘ ১৯,৭৯৬
৯৯. বাংলাদেশ সরকারের অনুন্নয়ন ব্যয় বরাদ্দের খাত কয়টি?                      (জ্ঞান)
- ক ৫০                      ● ৫৫                      গ ৬০                      ঘ ৬৫

১০০. বার্ষিক উন্নয়ন কর্মসূচির আওতায় বাংলাদেশ সরকার কতটি খাতে ব্যয় করে? (জ্ঞান)
- ১৮      খ ২৩      গ ৪৫      ঘ ৫৫
১০১. সুইডেন একটি জনকল্যাণমূলক রাষ্ট্র। দেশটির সরকার কোন খাতে সর্বাধিক ব্যয় করে? (উচ্চতর দক্ষতা)
- ক দারিদ্র্যবিমোচন খাতে      খ শিক্ষা ও প্রযুক্তি খাতে
- গ অনুন্নয়নমূলক খাতে      ● উন্নয়নমূলক খাতে
১০২. কল্যাণকামী রাষ্ট্রের ধারণা অনুযায়ী বাংলাদেশ সরকারের কোন খাতে ব্যয়ের পরিধি প্রসারিত করা উচিত? (উচ্চতর দক্ষতা)
- ক অনুন্নয়নমূলক খাতে      ● উন্নয়নমূলক খাতে
- গ সামাজিক নিরাপত্তা খাতে      ঘ দারিদ্র্যবিমোচন খাতে

### বহুপদী সমাপ্তিসূচক বহুনির্বাচনি প্রশ্নোত্তর

১০৩. বাংলাদেশ সরকার প্রতিবছর প্রচুর অর্থ ব্যয় করে— (প্রয়োগ)
- র. দেশের আর্থসামাজিক উন্নয়নে
- রর. মানবসম্পদ উন্নয়নে
- ররর. দেশ রক্ষা ও পরিচালনায়
- নিচের কোনটি সঠিক?
- ক র ও রর      খ র ও ররর      গ রর ও ররর      ● র, রর ও ররর

১০৪. রাষ্ট্রীয় কর্মকাণ্ডের পরিধি ক্রমশ বৃদ্ধি পাচ্ছে। কারণ— (অনুধাবন)
- র. গণতন্ত্র বিকশিত হচ্ছে
- রর. সরকারের উন্নয়নমূলক কর্মকাণ্ড বৃদ্ধি পাচ্ছে
- ররর. নতুন নতুন ব্যয়ের খাত সৃষ্টি হচ্ছে
- নিচের কোনটি সঠিক?
- র ও রর      খ র ও ররর      গ রর ও ররর      ঘ র, রর ও ররর

১০৫. শিক্ষা ক্ষেত্রে সরকারের প্রচুর অর্থ ব্যয়ের কারণ— (অনুধাবন)
- র. মানবসম্পদ তৈরি করা
- রর. দারিদ্র্যবিমোচন করা
- ররর. আর্থসামাজিক উন্নয়নের চালিকাশক্তি বৃদ্ধি করা
- নিচের কোনটি সঠিক?
- ক র ও রর      ● র ও ররর      গ রর ও ররর      ঘ র, রর ও ররর

১০৬. প্রতিরক্ষা খাতের ব্যয় অপ্রকাশিত থাকার কারণ হলো— (অনুধাবন)
- র. বৃহৎ বাজেট
- রর. জাতীয় নিরাপত্তা
- ররর. অভ্যন্তরীণ শান্তি-শৃঙ্খলা রক্ষা
- নিচের কোনটি সঠিক?
- ক র      ● রর      গ ররর      ঘ র, রর ও ররর

১০৭. সরকার কৃষি খাতে প্রচুর ভর্তুকি দেওয়ার কারণ হলো— (অনুধাবন)  
র. কৃষিভিত্তিক শিল্প সম্প্রসারণ করা

রর. কৃষি গবেষণা বৃদ্ধি করা

ররর. বিনামূল্যে কৃষকদের সার-ওষুধ প্রদান করা

নিচের কোনটি সঠিক?

● র ও রর      খ র ও ররর      গ রর ও ররর      ঘ র, রর ও ররর

১০৮. জনস্বাস্থ্য খাতে সরকারের ব্যয় বৃদ্ধির কারণ হলো— (অনুধাবন)  
র. প্রতিটি ইউনিয়নে স্বাস্থ্য কমপ্লেক্স স্থাপন করা

রর. সকল ইউনিয়নে বিনামূল্যে চিকিৎসাসেবা ও ওষুধ সরবরাহ করা

ররর. প্রত্যন্ত অঞ্চলে দক্ষ ডাক্তার ও স্বাস্থ্যকর্মী নিয়োগ করা

নিচের কোনটি সঠিক?

ক র ও রর      ● র ও ররর      গ রর ও ররর      ঘ র, রর ও ররর

১০৯. সরকারের ব্যয়ের সামাজিক নিরাপত্তা ও কল্যাণ খাতের আওতায় পড়ে— (প্রয়োগ)  
র. অসচ্ছল মুক্তিযোদ্ধাদের রাষ্ট্রীয় সম্মানীভাভা প্রদান

রর. সাময়িক বেকারত্ব নিরসন করা

ররর. একটি বাড়ি একটি খামার প্রকল্প পরিচালনা করা

নিচের কোনটি সঠিক?

ক র ও রর      খ র ও ররর      গ রর ও ররর      ● র, রর ও ররর

১১০. বাংলাদেশ সরকার দারিদ্র্যবিমোচনের লক্ষ্যে— (উচ্চতর দক্ষতা)  
র. একশ দিনের কর্মসূজন কর্মসূচি পরিচালনা করছে

রর. ন্যাশনাল সার্ভিস প্রকল্প চালাচ্ছে

ররর. মন্ত্রণালয়ের মাধ্যমে ক্ষুদ্র ঋণ দিচ্ছে

নিচের কোনটি সঠিক?

ক র ও রর      খ র ও ররর      ● রর ও ররর      ঘ র, রর ও ররর

১১১. আধুনিক কল্যাণকামী রাষ্ট্রগঠনের জন্য সরকারের করণীয় হলো— (উচ্চতর দক্ষতা)  
র. অনুন্নয়নমূলক খাতে ব্যয় হ্রাস করা

রর. উন্নয়নমূলক খাতে ব্যয় বৃদ্ধি করা

ররর. প্রতিরক্ষা ও জনপ্রশাসন খাতে বরাদ্দ বৃদ্ধি করা

নিচের কোনটি সঠিক?

● র ও রর      খ র ও ররর      গ রর ও ররর      ঘ র, রর ও ররর

---

অভিন্ন তথ্যভিত্তিক বহুনির্বাচনি প্রশ্নোত্তর

---

নিচের অনুচ্ছেদটি পড়ে ১১২ ও ১১৩ নং প্রশ্নের উত্তর দাও :



মাহিদুল সাহেব সচিবালয়ের একজন উচ্চপদস্থ কর্মকর্তা। তাকে একটি মন্ত্রণালয়ের সকল কর্মচারীদের বেতন-ভাতার হিসাব রাখতে হয়।

১১২. অনুচ্ছেদটি সরকারের কোন খাতের ব্যয়ের ইঙ্গিত রয়েছে? (প্রয়োগ)  
ক প্রতিরক্ষা ● জনপ্রশাসন

গ জনশৃঙ্খলা ও নিরাপত্তা ঘ স্থানীয় সরকার ও পল্লি উন্নয়ন

১১৩. উক্ত খাতে ব্যয়ের উদ্দেশ্য হলো— (উচ্চতর দক্ষতা)  
র. সুষ্ঠুভাবে রাষ্ট্রপরিচালনা করা

রর. দেশকে বিদেশি আগ্রাসন হতে রক্ষা করা

ররর. সরকারি কর্মচারীদের বেতন দেওয়া

নিচের কোনটি সঠিক?

ক র ও রর ● র ও ররর গ রর ও ররর ঘ র, রর ও ররর

নিচের অনুচ্ছেদটি পড়ে ১১৪ ও ১১৫ নং প্রশ্নের উত্তর দাও :

সুজন ন্যাশনাল সার্ভিস প্রকল্পের একজন সুবিধাভোগী। এ প্রকল্পের মাধ্যমেই প্রশিক্ষণ নিয়েই তিনি আজ আত্মকর্মসংস্থানের মাধ্যমে স্ত্রী-সন্তান নিয়ে সুখে আছে।

১১৪. অনুচ্ছেদে সরকারের কোন ব্যয়ের খাতের ইঙ্গিত রয়েছে? (প্রয়োগ)  
● দারিদ্র্যবিমোচন ও কর্মসংস্থান খ সামাজিক নিরাপত্তা ও কল্যাণ

গ জনশৃঙ্খলা ও নিরাপত্তা ঘ স্থানীয় সরকার ও পল্লি উন্নয়ন

১১৫. সুজনকে প্রশিক্ষণ প্রদানকারী প্রকল্পের উদ্দেশ্য হলো— (উচ্চতর দক্ষতা)  
র. বেকারদের প্রশিক্ষণ প্রদান করা

রর. কর্মসংস্থান সৃষ্টি করা

ররর. দারিদ্র্যবিমোচন করা

নিচের কোনটি সঠিক?

ক র ও রর খ র ও ররর গ রর ও ররর ● র, রর ও ররর

➡ ১০.৪ : বাজেট ➡ ■ আয় ও ব্যয়ের সুবিন্যস্ত হিসা

- নির্দিষ্ট অর্থবছরে সরকার কতটুকু আয় আশা করে এবং বিভিন্ন খাতে যে ব্যয় পরিকল্পনা করে তাকে বলে— সরকারি বাজেট।
- বাজেটকে ভাগ করা যায়— ২ ভাগে।
- সুখম বাজেট— মোট আয়= মোট ব্যয়।
- বাংলাদেশের মতো উন্নয়নশীল দেশে দরকার— সুখম বাজেট।

### সাধারণ বহুনির্বাচনি প্রশ্নোত্তর

১১৬. আয় ও ব্যয়ের সুবিন্যস্ত হিসাবকে কী বলা হয়? (জ্ঞান)  
ক সরকারি অর্থব্যবস্থা ● বাজেট

গ ব্যয়সূচি ঘ সরকারি পরিকল্পনা

১১৭. বাংলাদেশের আর্থিক বছর কোনটি? (জ্ঞান)  
ক জানুয়ারি থেকে ডিসেম্বর খ মার্চ থেকে ফেব্রুয়ারি

- গ মে থেকে এপ্রিল ● জুন থেকে জুলাই
১১৮. সরকারি অর্থব্যবস্থার মূল চালিকাশক্তি কোনটি? (জ্ঞান)  
ক অডিট ● বাজেট
- গ নিরীক্ষা ঘ সরকারি পরিকল্পনা
১১৯. সরকারের রাজনৈতিক দর্শনের প্রতিফলন কোথায় ঘটে? (জ্ঞান)  
ক সংবিধানে ঘ সরকারি অর্থব্যবস্থায়
- বাজেটে ঘ স্থানীয় সরকার
১২০. বাংলাদেশ সরকারের অর্থমন্ত্রী ২০১৪-১৫ অর্থবছরের বাজেট প্রণয়ন করেছেন। বাজেটটি অনুমোদনের জন্য কোথায় উপস্থাপন করতে হবে? (প্রয়োগ)  
ক বিচার বিভাগে ঘ সুপ্রিমকোর্টে
- গ অর্থ মন্ত্রণালয়ে ● জাতীয় সংসদে
১২১. বাজেট সংসদে অনুমোদনের পর কার নিকট প্রেরণ করা হয়? (জ্ঞান)  
ক প্রধান বিচারপতির ঘ প্রধানমন্ত্রীর
- রাষ্ট্রপতির ঘ স্পিকারের
১২২. আয়-ব্যয়ের প্রকৃতি অনুযায়ী বাজেট কত প্রকার? (জ্ঞান)  
● দুই ঘ তিন গ চার ঘ পাঁচ
১২৩. যে বাজেটে সরকারের চলতি আয়-ব্যয়ের হিসাব দেখানো হয়, তাকে কী বাজেট বলে? (জ্ঞান)  
● চলতি ঘ মূলধন গ সুমম ঘ ঘাটতি
১২৪. বাংলাদেশ সরকার ২০১৪-১৫ অর্থবছরে মূল্য সংযোজন কর হতে ৫৫,০১৩ কোটি টাকা আয় করেছে। এটি কোন বাজেটে দেখানো হবে? (প্রয়োগ)  
● চলতি ঘ মূলধন গ উন্নয়ন ঘ অউন্নয়ন
১২৫. ২০১৪-১৫ অর্থবছরে সরকার স্বাস্থ্য খাতের উন্নয়নে বিরাট বরাদ্দ দিয়েছে। এটি কোন বাজেটের আওতাভুক্ত? (প্রয়োগ)  
ক মূলধনী ● চলতি গ বিশেষ ঘ উন্নয়ন
১২৬. মূলধন বাজেটের মূল লক্ষ্য কী? (উচ্চতর দক্ষতা)  
ক সৃষ্টিভাবে প্রশাসনিক কার্য সমাধা করা
- দেশের আর্থসামাজিক উন্নয়ন করা
- গ দারিদ্র্যবিমোচন করা
- ঘ অবকাঠামোর উন্নয়ন করা
১২৭. দেশের আর্থসামাজিক উন্নয়নের জন্য কোন বাজেট প্রণয়ন করা হয়? (জ্ঞান)  
ক চলতি ● মূলধন গ ঘাটতি ঘ সুমম
১২৮. গত জুনে সরকারের বিশেষ আদেশে বলা হয়, এ মাসে প্রতি কলে অতিরিক্ত ২ পয়সা কাটা হবে পদ্মা সেতুর অর্থায়নের জন্য এটি সরকারের কোন বাজেটে দেখানো হবে? (প্রয়োগ)  
ক বিশেষ ঘ চলতি ● মূলধন ঘ সুমম
১২৯. কোন বাজেটের সাথে দেশের অর্থনৈতিক প্রবৃদ্ধি অর্জনের সম্পর্ক রয়েছে? (উচ্চতর দক্ষতা)  
ক চলতি ● মূলধন গ সুমম ঘ ঘাটতি
১৩০. কোন বাজেটে মুদ্রাস্ফীতি দেখা দেওয়ার সম্ভাবনা কম থাকে? (জ্ঞান)  
ক চলতি ঘ মূলধন
- সুমম ঘ উদ্বৃত্ত
১৩১. গত কয়েক বছর ধরে ইংল্যান্ডে অর্থনৈতিক অস্থিতিশীলতা দেখা যাচ্ছে। এরূপ ক্ষেত্রে কোন বাজেট সহায়ক? (প্রয়োগ)

ক উদ্ভূত      খ ঘাটতি      ● সুখম      ঘ চলতি

১৩২. কোন বাজেট দ্বারা অর্থনৈতিক স্থিতিশীলতা বজায় রাখা যায়? (জ্ঞান)  
ক চলতি      খ মূলধন      ● সুখম      ঘ অসম

১৩৩. সুখম বাজেটের বৈশিষ্ট্য কোনটি? (জ্ঞান)  
ক আয় > ব্যয়      খ আয় – ব্যয়      ● আয় = ব্যয়      ঘ আয় # ব্যয়

১৩৪. 'ক' দেশের ২০১৪-১৫ অর্থবছরে মোট আয় ১,৯৫,০০০ কোটি মার্কিন ডলার এবং মোট ব্যয় ২,৪০,০০০ কোটি মার্কিন ডলার। দেশটির বাজেটের ধরন কী? (প্রয়োগ)  
ক সুখম বাজেট      ● অসম বাজেট  
গ চলতি বাজেট      ঘ মূলধন বাজেট

১৩৫. অসম বাজেটকে কয়ভাগে ভাগ করা যায়? (জ্ঞান)  
● দুই      খ তিন      গ চার      ঘ পাঁচ

১৩৬. কোন বাজেটের আয় ও ব্যয়ের বিয়োগফল শূন্য অপেক্ষা বেশি হয়? (উচ্চতর দক্ষতা)  
● উদ্ভূত      খ ঘাটতি      গ চলতি      ঘ মূলধন

১৩৭. 'খ' দেশটি প্রাকৃতিক সম্পদে ভরপুর হলেও বেকারত্বের হার অনেক বেশি। দেশটিতে কোন বাজেট জরুরি? (উচ্চতর দক্ষতা)  
ক উদ্ভূত      ● ঘাটতি      গ চলতি      ঘ মূলধন

১৩৮. দক্ষিণ সুদানের মাথাপিছু আয় অনেক কম। দেশটির এ সমস্যা কাটানোর জন্য কোন বাজেট আবশ্যিক? (প্রয়োগ)  
● ঘাটতি      খ উদ্ভূত      গ চলতি      ঘ বিশেষ

১৩৯. বাংলাদেশের জন্য কোন বাজেট উপযুক্ত? (উচ্চতর দক্ষতা)  
ক চলতি      খ বিশেষ      গ উদ্ভূত      ● ঘাটতি

১৪০. বাজেটের ঘাটতি পূরণের জন্য 'ক' দেশটি প্রতিবছর প্রচুর নতুন অর্থ প্রচলন করে। দেশটিতে কী সমস্যা দেখা দিতে পারে? (উচ্চতর দক্ষতা)  
ক বেকারত্ব বৃদ্ধি      খ প্রবৃদ্ধি হ্রাস  
গ প্রশাসনে বিশৃঙ্খলা      ● মুদ্রাস্ফীতি

১৪১. ঘাটতি বাজেটের সূত্র কোনটি? (উচ্চতর দক্ষতা)  
ক মোট আয় = মোট ব্যয়      খ মোট আয় ≠ মোট ব্যয়  
গ মোট আয় > মোট ব্যয়      ● মোট আয় < মোট ব্যয়

---

### বহুপদী সমাঙ্গিসূচক বহুনির্বাচনি প্রশ্নোত্তর

---

১৪২. সরকারের বাজেটের মধ্যে ফুটে ওঠে— (উচ্চতর দক্ষতা)  
র. রাজনৈতিক দর্শনের প্রতিফলন  
রর. অর্থনীতির সার্বিক চিত্র  
ররর. বৈদেশিক বাণিজ্যের নিয়মনীতি  
নিচের কোনটি সঠিক?  
● র ও রর      খ র ও ররর      গ রর ও ররর      ঘ র, রর ও ররর

১৪৩. চলতি বাজেটে ফুটে ওঠে— (অনুধাবন)  
র. সরকারের চলতি ব্যয়  
রর. সরকারের চলতি আয়  
ররর. সরকারের বাণিজ্যিক নীতি

নিচের কোনটি সঠিক?

- র ও রর     খ র ও ররর     গ রর ও রররর     ঘ র, রর ও ররর

১৪৪. চলতি বাজেটের অর্থ ব্যয় হয়— (অনুধাবন)

র. প্রশাসনিক কাজ সুষ্ঠুভাবে পরিচালনার জন্য

রর. দেশের অবকাঠামো উন্নয়নের জন্য

ররর. দেশ রক্ষার জন্য

নিচের কোনটি সঠিক?

- ক র ও রর     খ র ও ররর     গ রর ও রররর     ঘ র, রর ও ররর

১৪৫. চলতি বাজেটের ব্যয়ের খাত হলো— (অনুধাবন)

র. স্বাস্থ্য ও পরিবার কল্যাণ

রর. পুলিশ প্রশাসন

ররর. জনপ্রশাসন

নিচের কোনটি সঠিক?

- ক র ও রর     খ র ও ররর     গ রর ও রররর     ঘ র, রর ও ররর

১৪৬. সুষম বাজেট প্রণয়নের সুবিধা হলো— (প্রয়োগ)

র. অর্থনৈতিক স্থিতিশীলতা বজায় থাকে

রর. বেকারত্ব দূর করা সহজতর হয়

ররর. মুদ্রাস্ফীতির সম্ভাবনা কম থাকে

নিচের কোনটি সঠিক?

- ক র ও রর     খ র ও ররর     গ রর ও রররর     ঘ র, রর ও ররর

১৪৭. মূলধন বাজেটের ফলে— (উচ্চতর দক্ষতা)

র. দেশের অর্থনৈতিক উন্নয়ন সাধিত হয়

রর. দেশের অর্থনৈতিক প্রবৃদ্ধি অর্জিত হয়

ররর. প্রশাসন সুষ্ঠুভাবে পরিচালিত হয়

নিচের কোনটি সঠিক?

- র ও রর     খ র ও ররর     গ রর ও রররর     ঘ র, রর ও ররর

১৪৮. উন্নয়নশীল দেশে ঘাটতি বাজেট মঙ্গলজনক, কারণ— (অনুধাবন)

র. প্রাকৃতিক সম্পদের পরিপূর্ণ ব্যবহার করা যায়

রর. মাথাপিছু আয় বৃদ্ধি পায়

ররর. কর্মসংস্থান বৃদ্ধি পায়

নিচের কোনটি সঠিক?

- ক র ও রর     খ র ও ররর     গ রর ও রররর     ঘ র, রর ও ররর

১৪৯. অতিরিক্ত নতুন যুদ্রা বা অর্থ সৃষ্টির ফলে দেখা দিতে পারে— (উচ্চতর দক্ষতা)  
র. দ্রব্যমূল্য বৃদ্ধি

রর. জীবনযাত্রার নিম্নমান

ররর. আয় বৈষম্য

নিচের কোনটি সঠিক?

ক র ও রর  র ও ররর গ রর ও ররর ঘ র, রর ও ররর

১৫০. ঘাটতি বাজেটের অপকারিতা হলো— (উচ্চতর দক্ষতা)  
র. দ্রব্যমূল্য বৃদ্ধি পেতে পারে

রর. জীবনযাত্রার মান হ্রাস পেতে পারে

ররর. আয় বৈষম্য সৃষ্টি হতে পারে

নিচের কোনটি সঠিক?

ক র ও রর  র ও ররর গ রর ও ররর ঘ র, রর ও ররর

### অভিন্ন তথ্যভিত্তিক বহুনির্বাচনি প্রশ্নোত্তর

নিচের অনুচ্ছেদটি পড়ে ১৫১ ও ১৫২ নং প্রশ্নের উত্তর দাও :

ভারতের পশ্চিমবঙ্গ সরকার ২০১৪-১৫ অর্থবছরে মোট আয় ১,৫০,০০০ কোটি এবং মোট ব্যয় ১,৮০,০০০ কোটি রুপি নির্ধারণ করেছে।

১৫১. অনুচ্ছেদে কোন বাজেটের ইঙ্গিত আছে? (প্রয়োগ)  
ক সুষম খ উদ্বৃত্ত  ঘাটতি ঘ মূলধন

১৫২. উক্ত বাজেটের ফলে অঞ্চলটিতে— (উচ্চতর দক্ষতা)  
র. কর্মসংস্থান বৃদ্ধি পাবে

রর. জনগণের জীবনযাত্রার মান বাড়বে

ররর. মাথাপিছু আয় বৃদ্ধি পাবে

নিচের কোনটি সঠিক?

ক র ও রর খ র ও ররর গ রর ও ররর  র, রর ও ররর

➔ ১০.৫-১০.৬ : বাংলাদেশ সরকারের বাজেট ও ২০১৬-১৭  
অর্থবছরের বাজেট ➔

- বাংলাদেশে আর্থিক বছর শুরু হয়— জুলাই-জুন।
- জাতীয় সংসদে খসড়া বাজেট পেশ করেন— অর্থমন্ত্রী।
- বাংলাদেশের সরকারের বাজেট— ২ ধরনের।
- ২০১৬-১৭ অর্থবছরের বাজেট হলো— ঘাটতি বাজেট।
- বাজেটের যে অংশে উন্নয়নমূলক কার্যক্রমের আয়-ব্যয়ের হিসাব দেখানো হয়

তাকে বলে— উন্নয়ন বাজেট।

- পরিবহন ও যোগাযোগ ব্যবস্থার জন্য যে বাজেট করা হয় তা হলো— উন্নয়ন বাজেট।

### সাধারণ বহুনির্বাচনি প্রশ্নোত্তর

১৫৩. বাংলাদেশের আর্থিক বছর কোনটি? (জ্ঞান)  
ক জানুয়ারি-ডিসেম্বর      খ মার্চ-ফেব্রুয়ারি  
● জুন-জুলাই      ঘ ডিসেম্বর-নভেম্বর
১৫৪. কখন জাতীয় সংসদে খসড়া বাজেট উপস্থাপন করা হয়? (জ্ঞান)  
ক জানুয়ারি মাসের ১ তারিখে      ● জুন মাসের প্রথম সপ্তাহে  
গ জুন মাসের শেষ সপ্তাহে      ঘ জুলাই মাসের প্রথম সপ্তাহে
১৫৫. বাংলাদেশের বাজেট পেশ করেন কে? (জ্ঞান)  
ক প্রধানমন্ত্রী      খ রাষ্ট্রপতি      গ স্পিকার      ● অর্থমন্ত্রী
১৫৬. বাংলাদেশে জাতীয় বাজেট কোথায় চূড়ান্তভাবে গৃহীত হয়? (জ্ঞান)  
ক মন্ত্রিসভায়      খ বঙ্গভবনে      গ অর্থমন্ত্রণালয়ে      ● জাতীয় সংসদে
১৫৭. জাতীয় বাজেট কোন মাসে চূড়ান্তভাবে গৃহীত হয়? (জ্ঞান)  
● জুন      খ জুলাই      গ ডিসেম্বর      ঘ জানুয়ারি
১৫৮. বাংলাদেশ সরকারের বাজেটকে কয়ভাগে ভাগ করা হয়? (জ্ঞান)  
● ২      খ ৩      গ ৪      ঘ ৫
১৫৯. বাংলাদেশ সরকারের দৈনন্দিন বা চিরাচরিত আয়-ব্যয়ের হিসাব দেখানো হয় কোন বাজেটে? (জ্ঞান)  
ক উন্নয়ন      ● অ-উন্নয়ন      গ চলতি      ঘ মূলধনী
১৬০. জমির সাহেব বাংলাদেশ সরকারের একজন উচ্চপদস্থ কর্মচারী। তার বেতন সরকারের কোন বাজেটের অন্তর্ভুক্ত? (জ্ঞান)  
● অউন্নয়ন      খ উন্নয়ন      গ মূলধন      ঘ চলতি
১৬১. অ-উন্নয়ন বাজেটে কোনটি উল্লেখ থাকে না? (জ্ঞান)  
ক ভর্তুকি      খ দৈনন্দিন আয়-ব্যয়  
গ চিরায়ত আয়-ব্যয়      ● অর্থনৈতিক পরিকল্পনা
১৬২. সরকার প্রতিবছর কৃষিখাতে পর্যাণ্ড ভর্তুকি দেয়। এটি কোন বাজেটের অন্তর্ভুক্ত? (প্রয়োগ)  
ক চলতি      খ মূলধন      ● অউন্নয়ন      ঘ উন্নয়ন
১৬৩. বাংলাদেশ জাতীয় ক্রিকেট দলের পেছনে সরকার প্রচুর অর্থ ব্যয় করে। এটি সরকারের কোন বাজেটের ব্যয়ের খাত? (প্রয়োগ)  
ক মূলধন      খ বিশেষ      ● অউন্নয়ন      ঘ উন্নয়ন
১৬৪. কোনটি উন্নয়ন বাজেটের ব্যয়ের খাত? (জ্ঞান)  
● কৃষি      খ সুদ      গ পেনশন      ঘ ভর্তুকি
১৬৫. উন্নয়ন বাজেটের আয়ের খাত কোনটি? (জ্ঞান)  
ক ঠাউএঃ      খ ডাক বিভাগ  
● বন্ডের মাধ্যমে ঋণ      ঘ প্রশাসনিক ফি
১৬৬. নিচের কোনটি উন্নয়ন বাজেটের খাত? (জ্ঞান)  
ক বেতন-ভাতা      খ সাহায্য মঞ্জুরি

গ ভূত্বিকি

● জ্বালানি ও বিদ্যুৎ

১৬৭. বাংলাদেশ সরকার রাশিয়ার সহায়তায় একটি পারমাণবিক বিদ্যুৎকেন্দ্র স্থাপনের পরিকল্পনা করছে। এর ব্যয় কোন বাজেটের অন্তর্ভুক্ত? (প্রয়োগ)  
● উন্নয়ন খ অ-উন্নয়ন গ চলতি ঘ ঘাটতি
১৬৮. ২০১৬-১৭ অর্থবছরের বাজেটে মোট রাজস্ব আয় কত কোটি টাকা ছিল? (জ্ঞান)  
ক ১,৬১,২১৩ খ ১,৪৯,৫৭০ গ ১,২৩,৫৬৭ ● ২,৪৮,২৬৮
১৬৯. ২০১৬-১৭ অর্থবছরে অনুন্নয়ন রাজস্ব ব্যয় কত কোটি টাকা ধরা হয়েছিল? (জ্ঞান)  
ক ৪১,০০০ ● ১,৮৮,৯৬৬ গ ১,১৪,৮৮৫ ঘ ১,৬১,২১৩
১৭০. ২০১৬-১৭ অর্থবছরের বাজেটে মোট ব্যয় কত ছিল? (জ্ঞান)  
ক ১,১৪,৮৮৫ কোটি টাকা খ ১,২৪,৬৮০ কোটি টাকা  
গ ২,১৫,৫৭০ কোটি টাকা ● ৩,৪০,৬০৫ কোটি টাকা
১৭১. ২০১৬-১৭ অর্থবছরে নিট বৈদেশিক ঋণ কত কোটি টাকা ধরা হয়েছিল? (জ্ঞান)  
ক ১৪,০৩৬ ● ৩০,৭৮৯ গ ৭,৩৯৯ ঘ ৬,৬৩৬
১৭২. ২০১৬-১৭ অর্থবছরে বার্ষিক উন্নয়ন কর্মসূচির পরিকল্পনা ছিল কত কোটি টাকা? (জ্ঞান)  
ক ৩০,০০০ খ ৩৫,০০০ গ ৩৯,০০০ ● ১,১০,৭০০
১৭৩. আয়-ব্যয়ের ভারসাম্যের দৃষ্টিকোণ হতে ২০১৬-১৭ অর্থবছরের বাজেট কী ধরনের বাজেট? (জ্ঞান)  
● ঘাটতি খ উদ্বৃত্ত গ সুষম ঘ বিশেষ

### বহুপদী সমাপ্তিসূচক বহুনির্বাচনি প্রশ্নোত্তর

১৭৪. অউন্নয়ন বাজেটের মূল্য লক্ষ হলো— (উচ্চতর দক্ষতা)  
র. দেশ রক্ষা করা  
রর. আর্থসামাজিক উন্নয়ন করা  
ররর. প্রশাসন সুষ্ঠুভাবে পরিচালনা করা  
নিচের কোনটি সঠিক?  
ক র ও রর ● র ও ররর গ রর ও ররর ঘ র, রর ও ররর
১৭৫. উন্নয়ন বাজেটের উদ্দেশ্য হলো— (উচ্চতর দক্ষতা)  
র. অর্থনৈতিক উন্নয়ন করা  
রর. প্রশাসন পরিচালনা করা  
ররর. প্রবৃদ্ধি অর্জন করা  
নিচের কোনটি সঠিক?  
ক র ও রর ● র ও ররর গ রর ও ররর ঘ র, রর ও ররর
১৭৬. উন্নয়ন বাজেটে লিপিবদ্ধ থাকে— (প্রয়োগ)  
র. বার্ষিক উন্নয়ন কর্মসূচি রর. উন্নয়নের অর্থসংস্থানের উৎস  
ররর. চিরায়ত আয়-ব্যয়ের বিবরণ  
নিচের কোনটি সঠিক?  
● র ও রর খ র ও ররর গ রর ও ররর ঘ র, রর ও ররর

## অভিন্ন তথ্যভিত্তিক বহুনির্বাচনি প্রশ্নোত্তর

নিচের অনচ্ছেদটি পড়ে ১৭৭ ও ১৭৮ নং প্রশ্নের উত্তর দাও :

২০১৪ সালের জুন মাসে ২০১৪-১৫ অর্থবছরের জন্য বাজেট পেশ করা হয়। এ বাজেটে দেখা যায়, পদ্মাসেতু নির্মাণ ও সুন্দরবনের নিকট একটি বিদ্যুৎকেন্দ্র নির্মাণের জন্য বাড়তি বরাদ্দ রাখা হয়।

১৭৭. অনচ্ছেদের বাড়তি বরাদ্দটি সরকারের কোন বাজেটের অন্তর্ভুক্ত? (প্রয়োগ)  
ক. উন্নয়ন ● উন্নয়ন গ. স্পেশাল ঘ. অপ্রত্যাশিত

১৭৮. উক্ত বাজেটের লক্ষ হলো— (উচ্চতর দক্ষতা)  
র. দেশ রক্ষা রর. অর্থনৈতিক উন্নয়ন করা

ররর. প্রবৃদ্ধি অর্জন করা

নিচের কোনটি সঠিক?

ক. র ও রর ● র ও ররর গ. র ও ররর ঘ. র, রর ও ররর

## ■ অধ্যায়ের পাঠ সমন্বিত বহুনির্বাচনি প্রশ্নোত্তর

### বহুপদী সমাপ্তিসূচক বহুনির্বাচনি প্রশ্নোত্তর

১৭৯. আবগারি শুল্ক ধার্য করা হয়— (অনুধাবন)  
র. রাজস্ব সংগ্রহের জন্য

রর. সামাজিক কল্যাণ সাধনের জন্য

ররর. ক্ষতিকর দ্রব্যের ব্যবহার হ্রাস করার জন্য

নিচের কোনটি সঠিক?

ক. র ও রর ● র ও ররর গ. রর ও ররর ঘ. র, রর ও ররর

১৮০. জনশৃঙ্খলা ও নিরাপত্তা খাতে ব্যয় বৃদ্ধির কারণ— (অনুধাবন)  
র. অভ্যন্তরীণ শান্তিশৃঙ্খলা রক্ষা করা রর. অবৈধ পণ্য আমদানি প্রতিহত করা

ররর. জনগণের জানমালের নিরাপত্তা নিশ্চিত করা

নিচের কোনটি সঠিক?

ক. র ও রর ● র ও ররর গ. রর ও ররর ঘ. র, রর ও ররর

১৮১. কারিমা খাতুন এসএসসি পরীক্ষায় গোল্ডেন 'এ' প্লাস পাওয়ায় সরকার থেকে তাকে বৃত্তি দেওয়া হয়েছে। সরকারের এ কাজের উদ্দেশ্য হলো— (প্রয়োগ)  
র. মানবসম্পদ তৈরি করা

রর. আর্থসামাজিক উন্নয়নের চালিকাশক্তি বৃদ্ধি করা

ররর. কর্মসংস্থান সৃষ্টি করা

নিচের কোনটি সঠিক?

● র ও রর খ. র ও ররর গ. রর ও ররর ঘ. র, রর ও ররর

১৮২. বাজেটে অন্তর্ভুক্ত হয়— (প্রয়োগ)  
র. আর্থিক বছরের আয়-ব্যয়ের হিসাব



ৱৱ. আয়-ব্যয়ের সুনির্দিষ্ট পরিকল্পনা

ৱৱৱ. বাণিজ্য ঘাটতি দূরীকরণের উপায়

নিচের কোনটি সঠিক?

ক ৱ ও ৱৱ      খ ৱ ও ৱৱৱ      গ ৱৱ ও ৱৱৱ      ● ৱ, ৱৱ ও ৱৱৱ

১৮৩. সরকারের ব্যয় যথেষ্ট না হওয়ায় প্রতি বছর সরকারকে ব্যয় নির্বাহের জন্য নির্ভর করতে হয়- (উচ্চতর দক্ষতা)

ৱ. বিদেশি ঋণের ওপর

ৱৱ. দাতাগোষ্ঠীর দান-অনুদানের ওপর

ৱৱৱ. প্রাকৃতিক সম্পদের ওপর

নিচের কোনটি সঠিক?

● ৱ ও ৱৱ      খ ৱ ও ৱৱৱ      গ ৱৱ ও ৱৱৱ      ঘ ৱ, ৱৱ ও ৱৱৱ

---

### অভিন্ন তথ্যভিত্তিক বহুনির্বাচনি প্রশ্নোত্তর

---

নিচের অনুচ্ছেদটি পড়ে ১৮৪ ও ১৮৫ নং প্রশ্নের উত্তর দাও :

সুমি বসুন্ধরা শপিংমল থেকে কিছু তৈরি পোশাক ক্রয় করে। তার সকল পণ্যের দাম হয় ৫৫০৫ টাকা। কিন্তু তার নিকট হতে ৫৭২০ টাকা রাখে।

১৮৪. সুমির প্রদত্ত অতিরিক্ত অর্থ কী হিসেবে চিহ্নিত? (প্রয়োগ)

● মূল্য সংযোজন কর      খ আবগারি শুল্ক

গ সম্পূরক শুল্ক      ঘ লেভি

১৮৫. তার প্রদত্ত এ অর্থ- (উচ্চতর দক্ষতা)

ৱ. সরকারের কোষাগারে যোগ হবে

ৱৱ. রাষ্ট্র পরিচালনায় ব্যয় করা হবে

ৱৱৱ. দোকানদার ভোগ করবে

নিচের কোনটি সঠিক?

● ৱ ও ৱৱ      খ ৱ ও ৱৱৱ      গ ৱৱ ও ৱৱৱ      ঘ ৱ, ৱৱ ও ৱৱৱ

